

লেখকচার সিরিজের  
**SURE SUCCESS**

Short  
সিলেবাসে

**HSC** সৃজনশীল

অর্থনীতি

টু টেস্ট  
সেপারেশন

অর্থনীতি

দ্বিতীয় পত্র

বোর্ড পরীক্ষার প্রশ্নপত্র

## ঢাকা বোর্ড ২০২৩

বিষয় কোড 1110

সময় : ২ ঘণ্টা ৩০ মিনিট

## অর্থনীতি দ্বিতীয় পত্র সৃজনশীল প্রশ্ন

পূর্ণমান : ৭০

দ্রষ্টব্য : ডান পাশের সংখ্যা প্রশ্নের পূর্ণমান জ্ঞাপক। প্রদত্ত উদ্দীপকগুলো মনোযোগসহকারে পড় এবং সংশ্লিষ্ট প্রশ্নের উত্তর দাও। যেকোনো সাতটি প্রশ্নের উত্তর দিতে হবে।

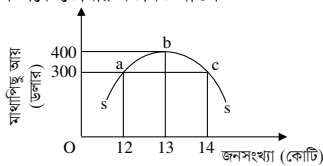
১। জিডিপিতে কৃষিখাতের অবদানের কাঠামোগত পরিবর্তন নিম্নরূপ :

অবদান	১৯৮০-৮১	১৯৯৫-৯৬	২০০৫-০৬	২০২০-২১
(শতকরা হার)	৩৩.০৭	২৫.৬৮	১৯.০১	১২.০৭

বাংলাদেশ অর্থনৈতিক সমীক্ষা-২০২২ অনুযায়ী, বাংলাদেশ ধান ও চাল উৎপাদনে বিশেষ চতুর্থ অবস্থান থেকে তৃতীয় অবস্থানে উন্নীত হয়েছে।

- ক. কৃষিপণ্য বিপণন বলতে কী বোঝ? ১
- খ. কৃষিক্ষেত্রে আইসিটি কীভাবে ব্যবহৃত হয়? ২
- গ. উদ্দীপকের টেবিলে প্রদত্ত কৃষিখাতের অবদানের কাঠামোগত পরিবর্তন লেখচিত্রে প্রদর্শন কর। ৩
- ঘ. উদ্দীপকে উল্লিখিত বাংলাদেশের তৃতীয় স্থান অর্জনে কৃষি প্রযুক্তি উদ্ভাবনের কোনো গুরুত্ব আছে কি? তোমার মতামত ব্যক্ত কর। ৪
- ২। ফজলু তার অল্প জমিতে পরম যত্নে চাষাবাদ করে যে পরিমাণ ফসল উৎপাদন করে, তা দিয়ে সে কোনো মতে তার পরিবারের ভরণ-পোষণ করতে পারে কিন্তু বাজারজাত করার মতো তেমন কোনো উদ্বৃত্ত তার থাকে না। অপরদিকে, তার বন্ধু রানা এমনভাবে চাষাবাদ করে যে, সে একই জমিতে বছরে তিন-চারটি ফসল উৎপাদন করতে পারে; যেমন- ধান, আলু, সবজি, ডাল ইত্যাদি।
- ক. বায়োটেকনোলজি কী? ১
- খ. বাংলাদেশের কৃষি ঋণ ব্যবস্থা আনানুষ্ঠানিক উৎসগুলোর ওপর বেশি নির্ভরশীল কেন? ২
- গ. ফজলুর কৃষি খামারটির উৎপাদন কৌশল ও দক্ষতা সম্পর্কিত বৈশিষ্ট্য বর্ণনাপূর্বক এর প্রকৃতি নির্ণয় কর। ৩
- ঘ. রানার চাষাবাদ পদ্ধতিটিকে কী এবং কীভাবে এটি শিল্পের বিকাশ, কর্মসংস্থান বৃদ্ধি ও পুষ্টি চাহিদা পূরণের মাধ্যমে নির্ভরযোগ্য উন্নয়ন (sustainable development) সাধনে সহায়তা করে? ব্যাখ্যা কর। ৪
- ৩। সুলতান সাহেবের কারখানায় স্থায়ী মূলধন প্রায় ৫৫ কোটি টাকা এবং তার কারখানায় ৫০০ জন শ্রমিক কাজ করে। এ কারখানায় পাটের কার্পেট, বস্তা ও হেসিয়ান সূতা তৈরি হয়। বর্তমানে বিশ্ববাজারে পাটজাত পণ্যের চাহিদা বৃদ্ধি পাওয়ায় বাংলাদেশের উৎপাদক ও রপ্তানিকারকরা বৈচিত্র্যময় পাটজাত পণ্য উৎপাদনে আগ্রহী হয়ে উঠছে।
- ক. মাইক্রো শিল্প কী? ১
- খ. আমাদের দেশে কাঁচা চামড়ার দাম কম থাকা সত্ত্বেও চামড়াজাত পণ্যের দাম এত বেশি কেন? ২
- গ. সুলতান সাহেবের কারখানাটি যে শিল্পের অন্তর্গত তার ধরন নির্ণয় কর এবং বর্ণনা কর। ৩
- ঘ. বাংলাদেশের প্রেক্ষাপটে উদ্দীপকে উল্লিখিত শিল্পটির ভবিষ্যৎ সম্ভাবনা আলোচনা কর। ৪
- ৪। একসময় টিভি, ফ্রিজ, মোবাইল ইত্যাদি বিদেশ থেকে আমদানি করা হলেও এসব পণ্য এখন দেশের ভিতরই উৎপাদিত হচ্ছে এবং এদেশের সাধারণ মানুষ সেগুলো কম দামে ক্রয় করতে পারছে। এ ধরনের দ্রব্য উৎপাদনের জন্য প্রয়োজনীয় বিদ্যুৎ ও জ্বালানির চাহিদা পূরণের লক্ষ্যে সরকারি-বেসরকারি অংশীদারিত্বের ভিত্তিতে বিভিন্ন প্রকল্প গ্রহণ করা হয়েছে।
- ক. রপ্তানি মুখী শিল্প কী? ১
- খ. 'একটি দেশের সমৃদ্ধির জন্য শিল্পায়ন জরুরি'- ব্যাখ্যা কর। ২
- গ. উদ্দীপকে কোন ধরনের শিল্পের কথা বলা হয়েছে তা নির্ধারণ কর। ৩
- ঘ. উদ্দীপকে উল্লিখিত অংশীদারিত্ব ব্যবস্থা কীভাবে অর্থনৈতিক উন্নয়নে সহায়তা করে? ব্যাখ্যা কর। ৪
- ৫। ২০২১ সালের মধ্যসময়ে 'ক' দেশের মোট জনসংখ্যা ১৭ কোটি, মোট আয়তন ১,৪৭,৫৭০ বর্গ কিলোমিটার এবং মোট জীবিত জনসংখ্যা ২৫ লক্ষ। উক্ত বছরে ওই দেশে বহিরাগমন (in migration) ৮০ হাজার এবং বহির্গমন (out migration) ৪ লক্ষ।
- ক. অশোণিত মৃত্যুহার কী? ১
- খ. জনসংখ্যা বৃদ্ধি কখন প্রত্যাশিত হতে পারে? ৩
- গ. 'ক' দেশের জনসংখ্যার ঘনত্ব ও অশোণিত জন্মহার নির্ণয় কর। ৩
- ঘ. 'ক' দেশের নিট অভিবাসন হারের ভিত্তিতে উক্ত দেশের আর্থসামাজিক অবস্থা সম্পর্কে তোমার মতামত দাও। ৪

৬।



রতনের শিক্ষক উপরের ছবির মাধ্যমে ক্লাসে একটি জনসংখ্যা তত্ত্ব ব্যাখ্যা করছিলেন। সে তখন বুঝতে পারে যে তার দেশ অতি জনবহুল। তাই সে চাকরির চিন্তা না করে পড়ালেখার পাশাপাশি বিভিন্ন প্রশিক্ষণ নিয়ে হাঁস-মুরগি ও মাছের খামার এবং একটি নার্সারি গড়ে তোলে। এর মাধ্যমে সে আরও পাঁচজনের কর্মসংস্থান করতে সক্ষম হয়।

- ক. বেকারত্ব কী? ১
- খ. জনস্বাস্থ্য ও পুষ্টির সাথে মানবসম্পদ উন্নয়নের সম্পর্ক কীরূপ? ব্যাখ্যা কর। ২

- গ. প্রদত্ত চিত্র থেকে a ও c বিন্দুতে অসামঞ্জস্য মান নির্ণয় কর এবং এর ভিত্তিতে নিম্ন জনসংখ্যা (under population) চিহ্নিত কর। ৩
- ঘ. রতনের মতো কর্মসংস্থানের জন্য তোমার করণীয় কী? আলোচনা কর। ৪
- ৭। 'X' দেশে ২০১৮ ও ২০২২ সালে বিভিন্ন ভোগ্য দ্রব্যের দাম এবং পরিমাণের তালিকা নিচে প্রদত্ত হলো-

	২০১৮		২০২২	
ভোগ্য দ্রব্যের নাম	পরিমাণ (কেজি/লিটার)	দাম (টাকা)	দাম (টাকা)	দাম (টাকা)
চাল	৩০	৫০	৬০	৬০
লবণ	২	২৫	৩০	৩০
আলু	১০	২০	৩০	৩০
তেল	৫	১০০	১৮০	১৮০

- উক্ত দেশের সরকার দ্রুত অর্থনৈতিক উন্নয়নের জন্য দেশি-বিদেশি ঋণ নিয়ে বিভিন্ন উন্নয়নমূলক কর্মকাণ্ড পরিচালনা করছে। এছাড়াও করোনাকালীন স্থবিরতা কাটিয়ে উঠতে সুদের হার হ্রাসসহ উৎপাদনকারীদের বিভিন্ন ধরনের প্রণোদনা প্যাকেজ সুবিধা প্রদান করে।
- ক. মুদ্রাস্ফীতি কী? ১
- খ. অর্থের অবমূল্যায়ন মুদ্রাস্ফীতির ওপর কীরূপ প্রভাব ফেলে? ব্যাখ্যা কর। ২
- গ. প্রদত্ত টেবিল থেকে ভোক্তার দাম সূচকের মাধ্যমে 'X' দেশের মুদ্রাস্ফীতির হার নির্ণয় কর। ৩
- ঘ. উদ্দীপকে উল্লিখিত সরকারের পদক্ষেপগুলো 'X' দেশের অর্থনীতিতে কীরূপ প্রভাব ফেলবে? মতামত দাও। ৪
- ৮। কৃষিপ্রধান দেশ হওয়া সত্ত্বেও বাংলাদেশকে প্রতিবছর বিপুল পরিমাণ খাদ্যশস্য, ফলমূল ও প্রক্রিয়াজাত খাদ্য অন্য দেশ থেকে কিনে আনতে হয়। অতীতে দেশটি পাট, চা, চামড়ার মতো গুটি কয়েক কৃষিপণ্য বিদেশে বিক্রি করলেও বর্তমানে তৈরি পোশাকের ন্যায় শিল্পপণ্যসহ বিচিত্র রকমের কৃষিপণ্য বিদেশে বিক্রয় করছে। আবার শিল্পায়নের প্রয়োজনে যন্ত্রপাতি, লোহা, ইস্পাত ইত্যাদি বিদেশে থেকে কিনে নিয়ে আসে। বর্তমানে পৃথিবীর বিভিন্ন দেশে বাংলাদেশের অনেক লোক কাজ করছে যাদের মাধ্যমে প্রচুর বৈদেশিক মুদ্রা অর্জিত হচ্ছে।
- ক. বিশ্বায়ন কী? ১
- খ. আবগারি শুল্ক রপ্তানিকে কীভাবে প্রভাবিত করে? ২
- গ. উদ্দীপক থেকে বাংলাদেশের আমদানি ও রপ্তানি দ্রব্যের তালিকা তৈরি কর। ৩
- ঘ. উদ্দীপকের ভিত্তিতে বাংলাদেশের বৈদেশিক বাণিজ্যের পরিবর্তনের ধারা আলোচনাপূর্বক অর্থনীতিতে এর গুরুত্ব আলোচনা কর। ৪
- ৯। বছকাল থেকেই বাংলাদেশ একটি আমদানি নির্ভর দেশ। প্রতিবছর দেশটির আমদানি ব্যয় রপ্তানি আয়ের থেকে বেশি হয়ে থাকে। সম্প্রতি দেশটি প্রচলিত পণ্যের পাশাপাশি বেশ কিছু অপ্রচলিত পণ্য পৃথিবীর বিভিন্ন দেশে রপ্তানি করছে। তাছাড়া রপ্তানি সম্প্রসারণের জন্য বর্তমান সরকার উৎপাদন বৃদ্ধি, রপ্তানি শুল্ক হ্রাস, পরিবহণ ব্যবস্থার উন্নয়ন, জ্বালানির মূল্যহ্রাস, বিভিন্ন দেশে বাণিজ্য প্রতিনিধি প্রেরণ ও বাণিজ্য চুক্তি সম্পাদন ইত্যাদি কার্যক্রম গ্রহণ করেছে।
- ক. প্রচলিত রপ্তানি দ্রব্য কাকে বলে? ১
- খ. বাংলাদেশ সরকার বিলাস দ্রব্য আমদানিকে নিরুৎসাহিত করে মূলধনী দ্রব্য আমদানিতে অধিকার প্রদান করছে কেন? ২
- গ. উদ্দীপকে লেনদেন ভারসাম্যের ঘাটতি দূরীকরণে গৃহীত পদক্ষেপসমূহ চিহ্নিত করে ব্যাখ্যা কর। ৩
- ঘ. বাংলাদেশের রপ্তানি বাণিজ্য সম্প্রসারণের জন্য সরকার গৃহীত পদক্ষেপগুলো কী পর্যাপ্ত? উদ্দীপকের আলোকে ব্যাখ্যা কর। ৪

১০। নিচের টেবিলে ২০১৯-২০ অর্থবছর 'ক' দেশের সরকারের বিভিন্ন ধরনের কর রাজস্বের পরিমাণ দেখানো হলো-

করের ধরন	রাজস্বের পরিমাণ (কোটি টাকা)
আমদানি শুল্ক	২৩,৬৪৩.৫৮
রপ্তানি শুল্ক	১.০৮
আবগারি শুল্ক	২,২৯৯.৭৯
আয়কর	৭২,১৭৯.৭৯
মূল্যসংযোজন কর	৭৩,০০৪.২১

- ক. কর কাকে বলে? ১
- খ. সরকারকে কেন আগে ব্যয়ের লক্ষ্যমাত্রা নির্ধারণ করে সেই অনুযায়ী আয়ের উৎস খুঁজে বের করতে হয়? ২
- গ. উদ্দীপক থেকে ২০১৯-২০ অর্থবছরে 'ক' দেশের সরকারের মোট পণ্য করের পরিমাণ নির্ণয় কর। ৩
- ঘ. উদ্দীপকে উল্লিখিত করগুলোর মধ্যে কোশট সমাজে ন্যায্যবিচার প্রতিষ্ঠা ও আয়-বৈষম্য হ্রাসে অধিক অবদান রাখে? তোমার নিজস্ব মতামত ব্যক্ত কর। ৪
- ১১। বর্তমানে জনকল্যাণমূলক রাষ্ট্র সরকার অভ্যন্তরীণ শান্তি-শৃঙ্খলা রক্ষা, প্রতিরক্ষা, প্রশাসনিক ব্যয় নির্বাহসহ বিভিন্ন কাজের জন্য প্রচুর অর্থ ব্যয় করে থাকে। এজন্য প্রয়োজনীয় অর্থ সংস্থানের উৎসগুলো হলো-
- (i) কর রাজস্ব (ii) কর-বহির্ভূত রাজস্ব (iii) সরকারি ঋণ (iv) নোট ছাপানো। ১
- ক. মূল্য সংযোজন কর কী? ১
- খ. আয়করকে প্রত্যক্ষ কর বলা হয় কেন? ২
- গ. উদ্দীপকে বর্ণিত সরকারি ব্যয়ের উদ্দেশ্যগুলো চিহ্নিত করে বর্ণনা কর। ৩
- ঘ. উদ্দীপকে উল্লিখিত অর্থ সংস্থানের তৃতীয় উৎসটি কখন দেশের অর্থনৈতিক উন্নয়নে সহায়ক ভূমিকা পালন করে? ব্যাখ্যা কর। ৪

## রাজশাহী বোর্ড ২০২৩

সময় : ২ ঘণ্টা ৩০ মিনিট

অর্থনীতি দ্বিতীয় পত্র সৃজনশীল প্রশ্ন

পূর্ণমান : ৭০

দ্রষ্টব্য : ডান পাশের সংখ্যা প্রশ্নের পূর্ণমান জ্ঞাপক। প্রদত্ত উদ্দীপকগুলো মনোযোগসহকারে পড় এবং সংশ্লিষ্ট প্রশ্নের উত্তর দাও। যেকোনো সাতটি প্রশ্নের উত্তর দিতে হবে।

- ১। শমসের একজন শিক্ষিত কৃষক। তিনি দেশে বিদ্যমান প্রযুক্তি এবং বিভিন্ন উৎস থেকে তথ্য সংগ্রহ করে জমি চাষাবাদ করেন। কিন্তু সংরক্ষণের সমস্যা, ক্রেটিপূর্ণ ওজন ও পরিমাণ পদ্ধতি, দুর্বল বাজার কাঠামো, পণ্যের মান নির্ধারণে জটিলতা, সরকারি যথাযথ নীতির অভাব, দামের ওঠা-নামা ইত্যাদি কারণে প্রায়ই ন্যায্যমূল্য প্রাপ্তি থেকে বঞ্চিত হন। সরকার উল্লিখিত সমস্যা সমাধানের জন্য বিভিন্ন ধরনের পদক্ষেপ গ্রহণ করে থাকেন।

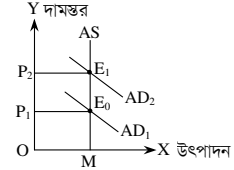
- ক. কৃষিক্ষেত্র কী? ১  
খ. কৃষিতে উন্নত প্রযুক্তি ব্যবহারে কীভাবে উৎপাদন খরচ হ্রাস পায়? ২  
গ. উদ্দীপকে কৃষির কোন ধরনের সমস্যার উল্লেখ করা হয়েছে? ব্যাখ্যা কর। ৩  
ঘ. উদ্দীপকে উল্লিখিত সমস্যার সমাধানে সরকার কোন ধরনের পদক্ষেপ নিতে পারে? বিশ্লেষণ কর। ৪
- ২। আমাদের দেশের কৃষকরা কৃষিতে বিনিয়োগের জন্য বাংলাদেশ কৃষি ব্যাংক, বাণিজ্যিক ব্যাংক, বন্ধু-বান্ধব, আত্মীয়-স্বজন, সমবায় সমিতি, বাংলাদেশ ব্যাংক, গ্রাম্য মহাজন, ভূস্বামী, মধ্যস্বত্ব ভোগী ও ব্যবসায়ীদের কাছ থেকে ঋণ গ্রহণ করেন। কৃষিক্ষেত্রের উপযোগিতা বৃদ্ধিতে তথা এক্ষেত্রে বিদ্যমান সমস্যা সমাধানে সরকার ঋণের পরিমাণ বৃদ্ধি, সুদের হার হ্রাস, তদারকি বৃদ্ধির পদক্ষেপ গ্রহণ করেছে।
- ক. কৃষিজাত কী? ১  
খ. 'কৃষি খাতের উন্নতি হলে কৃষকের দারিদ্র্যতা হ্রাস পাবে'- ব্যাখ্যা কর। ২  
গ. উদ্দীপকে উল্লিখিত কৃষি ঋণের প্রাতিষ্ঠানিক এবং অ-প্রাতিষ্ঠানিক উৎসগুলো পৃথক কর এবং ব্যাখ্যা কর। ৩  
ঘ. উদ্দীপকে উল্লিখিত সমস্যা সমাধানে গৃহীত পদক্ষেপগুলো পর্যাপ্ত কি না? ব্যাখ্যা কর। ৪

- ৩। বসত বাড়ির পাশে সালিহা ঘরে উৎপাদিত সূতা ও বাজার থেকে কাঁচামাল সংগ্রহ করে একটি প্রতিষ্ঠান পরিচালনা করছেন। এ প্রতিষ্ঠানে তিনি ৮ লাখ টাকা বিনিয়োগ করেছেন এবং ১০ জন শ্রমিক নিয়োগ দিয়েছেন। সম্প্রতি তিনি পণ্যের বিপণন সমস্যা, দক্ষ শ্রমিকের অভাব, কাঁচামালের উচ্চমূল্য ইত্যাদি কারণে লাভজনকভাবে প্রতিষ্ঠানটি পরিচালনা করতে পারছেন না।
- ক. ক্ষুদ্র শিল্প কাকে বলে? ১  
খ. কৃষি কীভাবে শিল্পকে সহায়তা করে? ২  
গ. উদ্দীপকে কোন ধরনের শিল্পের উল্লেখ করা হয়েছে? ব্যাখ্যা কর। ৩  
ঘ. উদ্দীপকে উল্লিখিত সমস্যার সমাধানে কোন ধরনের পদক্ষেপ গ্রহণ করা যাবে? বিশ্লেষণ কর। ৪
- ৪। 'A' একটি অনুন্নত দেশ। উক্ত দেশটির জনসংখ্যা ও খাদ্য উৎপাদন সম্পর্কিত তথ্য নিচে দেওয়া হলো—

সন	১৯২৫	১৯৫০	১৯৭৫	২০০০
জনসংখ্যা (কোটিতে)	১	২	৪	৮
খাদ্য উৎপাদন (কোটি টনে)	১	২	৩	৪

- ক. বেকারত্ব কী? ১  
খ. শিক্ষা মানবসম্পদ উন্নয়নে কীভাবে সহায়তা করে? ২  
গ. 'A' দেশের তথ্য জনসংখ্যার কোন তফের সাথে সংগতিপূর্ণ? ব্যাখ্যা কর। ৩  
ঘ. উদ্দীপকে উল্লিখিত দেশটির সমস্যা কীভাবে সমাধান করা যায়? বিশ্লেষণ কর। ৪
- ৫। সাদেক একজন শিক্ষিত বেকার। সম্প্রতি তিনি 'যুব উন্নয়ন অধিদপ্তর' থেকে প্রশিক্ষণ নিয়ে তার নিজস্ব জমিতে সবজি চাষ ও গরুর খামার গড়ে তুলেছেন। কিন্তু বাস্তব অভিজ্ঞতার অভাব, মূলধনের স্বল্পতা, সেচ সুবিধার অভাব, উৎপাদিত ফসলের ন্যায্যমূল্য না পাওয়া ইত্যাদি কারণে সাদেকের উদ্যোগ বাধাগ্রস্ত হচ্ছে। প্রয়োজনীয় সরকারি ও এনজিওর পৃষ্ঠপোষকতা পেলে তিনি উল্লিখিত সমস্যা কাটিয়ে উঠতে পারেন।
- ক. জনসংখ্যার ঘনত্ব কী? ১  
খ. জনসংখ্যা বাড়লে জনসংখ্যার ঘনত্ব বাড়ে কেন? ২  
গ. সাদেকের উদ্যোগটি চিহ্নিত কর এবং তার সমস্যাসমূহ ব্যাখ্যা কর। ৩  
ঘ. সাদেকের সমস্যা সমাধানে প্রয়োজনীয় পদক্ষেপগুলো বিশ্লেষণ কর। ৪
- ৬। বিগত দশ বৎসর যাবত শামী সাহেব পাঁচ ইউনিটের একটি রপ্তানিমুখী কারখানা অত্যন্ত সফলভাবে পরিচালনা করে আসছেন। এ শিল্প থেকে দেশের রপ্তানি আয়ের প্রায় ৫% উপার্জিত হয়। প্রচুর দক্ষ ও অদক্ষ শ্রমিক এ শিল্পে নিয়োজিত রয়েছে। এ শিল্পের কাঁচামালের বেশিরভাগ একটি উৎসবে সংগৃহীত হয়। সম্প্রতি বৈশ্বিক প্রতিযোগিতা, রাশিয়া ইউক্রেন যুদ্ধ পরিস্থিতি, উদ্যোক্তাদের অদক্ষতা ইত্যাদি কারণে এ শিল্পের প্রবৃদ্ধি বাধাগ্রস্ত হচ্ছে।

- ক. রপ্তানিমুখী শিল্প কী? ১  
খ. শিল্পায়ন কীভাবে বেকারত্ব নিরসনে সহায়তা করে? ২  
গ. উদ্দীপকে বর্ণিত শিল্পটি চিহ্নিত কর এবং উদ্দীপকের আলোকে এ শিল্পের গুরুত্ব বর্ণনা কর। ৩  
ঘ. উদ্দীপকে বর্ণিত সমস্যা সমাধানে তোমার মতামত বিশ্লেষণ কর। ৪  
৭। নিচের চিত্রটি লক্ষ কর এবং সংশ্লিষ্ট প্রশ্নগুলোর উত্তর দাও :



- ক. মুদ্রাস্ফীতি কী? ১  
খ. মুদ্রাস্ফীতির ফলে ভোক্তা কীভাবে ক্ষতিগ্রস্ত হয়? ২  
গ. উদ্দীপকে কোন ধরনের মুদ্রাস্ফীতি দেখানো হয়েছে? ব্যাখ্যা কর। ৩  
ঘ. উদ্দীপকে উল্লিখিত মুদ্রাস্ফীতি নিয়ন্ত্রণে ব্যাংক হার বৃদ্ধি করলে কোন ধরনের ফলাফল পাওয়া যাবে? ব্যাখ্যা কর। ৪
- ৮। তৈরি পোশাক খাত থেকে বাংলাদেশ প্রায় ৪০ বিলিয়ন মার্কিন ডলার বৈদেশিক মুদ্রা অর্জন করে। এ শিল্পে প্রায় ৩৫ লক্ষ শ্রমিকের কর্মসংস্থানের সুযোগ এবং অনেক ধরনের পশ্চাৎ সংযোগ শিল্প গড়ে ওঠেছে। তাছাড়া এ খাত সাধারণ জনগণের জীবনমান উন্নয়নে ভূমিকা রাখছে। সম্প্রতি এ খাতের সমৃদ্ধির জন্য শিল্পোদ্যোক্তাগণ অধিকতর মানসম্পন্ন পোশাক তৈরির পদক্ষেপ নিচ্ছেন।
- ক. সংরক্ষিত শিল্প কী? ১  
খ. রপ্তানি বৃদ্ধি কীভাবে কর্মসংস্থান বৃদ্ধি করে? ২  
গ. উদ্দীপকে উল্লিখিত উৎপাদন খাতটির গুরুত্ব ব্যাখ্যা কর। ৩  
ঘ. উদ্দীপকে উল্লিখিত খাতটির সমস্যা সমাধানে তোমার মতামত দাও। ৪
- ৯। 'X' দেশে ২০২০ সালে ভোক্তার মূল্য সূচক ছিল ১৬০, যা ২০২২ সালে বেড়ে ২০০ হয়। সম্প্রতি বিশ্ব পরিস্থিতির কারণে কাঁচামালের মূল্য বৃদ্ধি এবং বৈদেশিক মুদ্রার সংকটের ফলে দামস্তর ক্রমাগত বৃদ্ধি পাচ্ছে।
- ক. সূচক সংখ্যা কী? ১  
খ. অর্থের যোগান বৃদ্ধির কারণে কীভাবে মুদ্রাস্ফীতি সৃষ্টি হয়? ২  
গ. উদ্দীপকের আলোকে 'X' দেশের মুদ্রাস্ফীতির হার নির্ণয় কর। ৩  
ঘ. উদ্দীপকে উল্লিখিত বর্তমান পরিস্থিতি মোকাবিলায় তোমার মতামত ব্যক্ত কর। ৪
- ১০। বিশ্বায়ন হচ্ছে এমন একটি প্রক্রিয়া, যা অধিক জনগণের মধ্যে পারস্পরিক ক্রিয়া প্রতিক্রিয়াকে বোঝায়। এর ফলে বৈশ্বিক অর্থনীতির বিভিন্ন খাতে ব্যবসায় সম্প্রসারণ ও বাজার গতিশীলতা বৃদ্ধি পায়। তবে এর প্রভাবে বাংলাদেশের মতো উন্নয়নশীল দেশগুলো বিভিন্ন ধরনের ক্ষতির সম্মুখীন হচ্ছে।
- ক. বৈদেশিক সাহায্য কী? ১  
খ. আমদানি বৃদ্ধি কীভাবে বৈদেশিক মুদ্রার ঘাটতি সৃষ্টি করে? ২  
গ. উদ্দীপকের আলোকে বিশ্বায়নের গুরুত্ব ব্যাখ্যা কর। ৩  
ঘ. বিশ্বায়নের ফলে বাংলাদেশের মতো উন্নয়নশীল দেশগুলোর উৎপাদন খাত কীভাবে প্রভাবিত হচ্ছে? ব্যাখ্যা কর। ৪
- ১১। A দেশের একটি মেগা প্রকল্প প্রাক্কালিত ব্যয়ের প্রায় ৪০% অর্থায়নের প্রতিশ্রুতি দিয়েছে JICA, ADB ও বিশ্বব্যাংক। অবশিষ্ট ব্যয় নির্বাহের জন্য বাজেট উদ্বৃত্ত, সঞ্চয় পত্র, শেয়ার, সরকারি বন্ড বিক্রয়ের পদক্ষেপ নেওয়া হয়েছে। বর্তমানে বিদেশি দাতারা বিভিন্ন শর্ত আরোপ করায় প্রকল্পটির কার্যক্রম বাধাগ্রস্ত হচ্ছে।
- ক. পরোক্ষ কর কী? ১  
খ. কর কীভাবে জনকল্যাণ বাড়ায়? ২  
গ. উল্লিখিত উদ্দীপক থেকে প্রকল্প ব্যয়ের অভ্যন্তরীণ ও বৈদেশিক উৎসগুলো পৃথক কর এবং ব্যাখ্যা কর। ৩  
ঘ. উদ্দীপকে উল্লিখিত দুটি উৎসের মধ্যে কোনটি বাংলাদেশের জন্য মঙ্গলজনক? ব্যাখ্যা কর। ৪

## যশোর বোর্ড ২০২৩

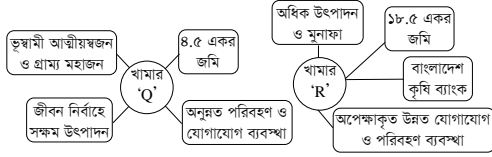
সময় : ২ ঘণ্টা ৩০ মিনিট

### অর্থনীতি দ্বিতীয় পত্র সৃজনশীল প্রশ্ন

পূর্ণমান : ৭০

দ্রষ্টব্য : ডান পাশের সংখ্যা প্রশ্নের পূর্ণমান জ্ঞাপক। প্রদত্ত উদ্দীপকগুলো মনোযোগসহকারে পড় এবং সংশ্লিষ্ট প্রশ্নের উত্তর দাও। যেকোনো সাতটি প্রশ্নের উত্তর দিতে হবে।

- ১। নিচের উদ্দীপকে খামার 'Q' ও খামার 'R'-এর সাথে সম্পৃক্ত বিষয়গুলো লক্ষ কর এবং সংশ্লিষ্ট প্রশ্নসমূহের উত্তর দাও :



- ক. কুটির শিল্প কী? ১  
খ. 'বৈশ্বিক উষ্ণতা বৃদ্ধি কৃষির জন্য ক্ষতিকর'- ব্যাখ্যা কর। ২  
গ. খামার 'Q'-এর প্রকৃতি ব্যাখ্যা কর। ৩  
ঘ. খামার 'Q' এবং খামার 'R'-এর তুলনামূলক বিশ্লেষণ কর। ৪
- ২। বাংলাদেশের কৃষির দুটি উপখাতের GDP-এর খাতওয়ারি প্রবৃদ্ধির হার নিম্নরূপ :

খাত	২০১০-১১	২০১১-১২	২০১২-১৩
প্রাণী সম্পদ	৩.৪৮	৩.৩৯	৩.৪৯
বনজ সম্পদ	৩.৯০	৪.৪২	৪.৪৭

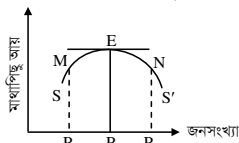
- ক. কৃষিপণ্যের বিপণন কী? ১  
খ. কৃষি খামার ও কৃষিজোত কোন অর্থে এক নয়? ২  
গ. উদ্দীপক হতে প্রাণী সম্পদের প্রবৃদ্ধির হার লেখচিত্রের সাহায্যে দেখাও। ৩  
ঘ. বাংলাদেশের GDP-তে দুটি খাতের অবদানের তুলনামূলক আলোচনা কর। ৪
- ৩। জনাব 'V'-এর টি-শার্ট তৈরির কারখানায় ১,৮০০ জন শ্রমিক কাজ করে। তার কারখানার তৈরিকৃত পোশাক জাপান, সুইজারল্যান্ড, নরওয়ে ও সুইডেনসহ আরও কয়েকটি দেশে সমাদৃত। মি. 'V'-এর কারখানার সাথে সামঞ্জস্যপূর্ণ আরও ৪৪টি কারখানা দেশে বিদ্যমান।
- ক. রপ্তানিমুখী শিল্প কী? ১  
খ. 'আমদানি বিকল্প শিল্প বৈদেশিক মুদ্রার রিজার্ভ বৃদ্ধির সহায়ক'- ব্যাখ্যা কর। ২  
গ. উদ্দীপকে মি. 'V'-এর কারখানার প্রকৃতি ব্যাখ্যা কর। ৩  
ঘ. বাংলাদেশের অর্থনীতিতে উদ্দীপকের উল্লিখিত শিল্পটির সম্ভাবনা সম্পর্কে আলোকপাত কর। ৪

- ৪। নিচের ছকটি লক্ষ কর এবং সংশ্লিষ্ট প্রশ্নের উত্তর দাও :

পাট ও পাটজাত দ্রব্য থেকে রপ্তানি আয়  
(মিলিয়ন মার্কিন ডলার)

	কাঁচাপাট	পাটজাত পণ্য
২০১৯-২০	১৩০	৭৫২
২০২০-২১	১৩৮	১০২৩
২০২১-২২	১৪৬	৬৫৩

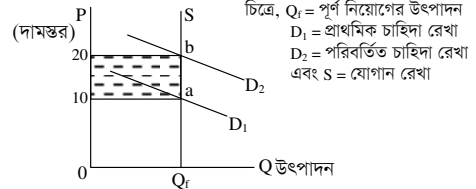
- ক. মাঝারি শিল্প কাকে বলে? ১  
খ. ফার্ম ও শিল্পের মূল পার্থক্য কী? ২  
গ. উদ্দীপকে উল্লিখিত শিল্পের সমস্যাগুলো চিহ্নিত কর। ৩  
ঘ. আমদানি বিকল্প হিসেবে উক্ত শিল্পের ভূমিকা আলোচনা কর। ৪
- ৫। নিচের চিত্রটি লক্ষ কর এবং সংশ্লিষ্ট প্রশ্নগুলোর উত্তর দাও :



- ক. আত্মকর্মসংস্থান কী? ১  
খ. নারী শিক্ষা কীভাবে মানবসম্পদ উন্নয়নে সহায়ক? ২  
গ. উদ্দীপকে চিত্রটি কোন জনসংখ্যা তত্ত্ব নির্দেশ করে? ব্যাখ্যা কর। ৩  
ঘ. উদ্দীপকে নির্দেশিত তত্ত্বটির সাথে ম্যালথাসের জনসংখ্যা তত্ত্বের তুলনামূলক বিশ্লেষণ কর। ৪
- ৬। নিচের তথ্য থেকে সংশ্লিষ্ট প্রশ্নগুলোর উত্তর দাও :

দ্রব্য	ভিত্তি বছর : ২০২০		চলতি বছর : ২০২১
	পরিমাণ (একক)	দাম (প্রতি একক)	
X <sub>1</sub>	৪০	৬০	৭০
X <sub>2</sub>	১৫	৩০	৪০
X <sub>3</sub>	৩	৩৫	৫০
X <sub>4</sub>	৭	১১০	১৪৫

- ক. মুদ্রাস্ফীতি কী? ১  
খ. কীভাবে অর্থের যোগান মুদ্রাস্ফীতি সৃষ্টি করে? ব্যাখ্যা দাও। ২  
গ. উদ্দীপক থেকে ভোক্তার দাম সূচক (CPI) নির্ণয় কর। ৩  
ঘ. স্বল্প আয়ের মানুষের ওপর মুদ্রাস্ফীতির প্রভাব বিশ্লেষণ কর। ৪
- ৭। নিচের চিত্রটি লক্ষ কর :



- ক. চাহিদা বৃদ্ধিজনিত মুদ্রাস্ফীতি কী? ১  
খ. মুদ্রাস্ফীতি হলে ঋণদাতা ক্ষতিগ্রস্ত হয় কেন? ২  
গ. চিত্রে কী ধরনের মুদ্রাস্ফীতি প্রকাশ পেয়েছে তা ব্যাখ্যা কর। ৩  
ঘ. উদ্দীপকে সৃষ্ট মুদ্রাস্ফীতি নিয়ন্ত্রণে আর্থিক নীতির ভূমিকা আলোচনা কর। ৪
- ৮। 'A' ও 'B' দুটি দেশ। 'A' দেশ তাদের নিজস্ব সম্পদ ব্যবহার করে দ্রব্য উৎপাদন করে এবং দেশের মধ্যেই ক্রয়-বিক্রয় করে। 'B' দেশ তার উৎপাদিত দ্রব্য নিজ দেশ ছাড়াও বিশ্বের অন্যান্য দেশের বাজারে বিক্রয় করে এবং অন্য দেশের পণ্য নিজ দেশের জন্য ক্রয় করে। এতে 'B' দেশের পণ্যের মান উন্নয়ন, কর্মসংস্থান এবং সম্পদের পূর্ণ ব্যবহার হয়।
- ক. অভ্যন্তরীণ বাণিজ্য কী? ১  
খ. দুটি দেশের মধ্যে কেন বাণিজ্য সংঘটিত হয়? ২  
গ. 'A' ও 'B' দেশের বাণিজ্যের পার্থক্য উদ্দীপকের আলোকে ব্যাখ্যা কর। ৩  
ঘ. অর্থনৈতিক উন্নয়নে 'B' দেশের বাণিজ্যের গুরুত্ব উদ্দীপকের আলোকে ব্যাখ্যা কর। ৪
- ৯। জহির সাহেব অনেক দিন ধরে বাংলাদেশে আমদানি ও রপ্তানি বাণিজ্যের সাথে সম্পৃক্ত। তিনি লক্ষ করেন বাংলাদেশ থেকে আগে কাঁচাপাট, পাটজাত দ্রব্য, চামড়াজাত দ্রব্য রপ্তানি হলেও বর্তমানে তৈরি পোশাক নিটওয়্যার, হিমায়িত খাদ্য ইত্যাদি অধিক রপ্তানি করা হচ্ছে। তবে এক্ষেত্রে পণ্যের মান, সঠিক সময়ে পণ্য জাহাজীকরণ, যোগাযোগ ব্যবস্থা ইত্যাদি সমস্যা দেখা দিয়েছে।
- ক. বৈদেশিক সাহায্য কী? ১  
খ. দেশীয় শিল্পের ওপর বিশ্বায়নের প্রভাব ব্যাখ্যা কর। ২  
গ. উদ্দীপকে বাংলাদেশের আন্তর্জাতিক বাণিজ্যের ক্ষেত্রে যে পরিবর্তন ধারা লক্ষ করা যায় তা ব্যাখ্যা কর। ৩  
ঘ. উদ্দীপকের আলোকে রপ্তানি বাণিজ্য সম্প্রসারণে উদ্ভূত সমস্যাগুলো বিশ্লেষণ কর। ৪
- ১০। 'G' দেশে অন্ন, বস্ত্র, শিক্ষা, যুদ্ধের অত্যাধুনিক সরঞ্জাম, বয়স্ক ভাতা, বিদ্যুৎ ও পরিবহণ, IT Sector সহ বিভিন্ন খাতে ব্যয়ের পরিমাণ বৃদ্ধির কারণে সরকারের ব্যয় দ্রুত বৃদ্ধি পেয়েছে। সরকার এসব ব্যয় মিটানোর জন্য আয়কর হার, সম্পত্তি কর হার, আমোদ-প্রমোদ কর হার, ভাড়া ও ইজারা, টোল ও লেভি এবং রেজিস্ট্রেশন ফি বৃদ্ধি করে। একই সাথে বাণিজ্যিক ব্যাংক, কেন্দ্রীয় ব্যাংক এবং বিদেশি সংস্থা ও রাষ্ট্রে থেকে সরকার ঋণ গ্রহণ করেছে।
- ক. সরকারি অর্থ ব্যবস্থা কী? ১  
খ. 'পরোক্ষ কর ফাঁকি দেওয়া কর্তন'- ব্যাখ্যা কর। ২  
গ. উদ্দীপকের আলোকে সরকারি ব্যয়ের উদ্দেশ্য ব্যাখ্যা কর। ৩  
ঘ. উদ্দীপকে সরকারি রাজস্ব ও সরকারি ঋণের উৎসের তুলনামূলক আলোচনা কর। ৪
- ১১। 'F' দেশে IT তে দক্ষ জনশক্তি গড়ার লক্ষ্যে বাস্তবমুখী শিক্ষা ও বিভিন্ন প্রশিক্ষণ প্রদানের উদ্যোগ গ্রহণ করে। অর্থ-সংস্থানের জন্য সরকার VAT, আমদানি শুল্ক, আবগারি শুল্ক, রপ্তানি শুল্ক এবং সম্পূর্ণ শুল্ক-এর হার বৃদ্ধি করে।
- ক. ফি কী? ১  
খ. 'সরকারি ব্যয় কর্মসংস্থান সৃষ্টিতে সহায়ক'- ব্যাখ্যা কর। ২  
গ. উদ্দীপকে উল্লিখিত কর ও শুল্কসমূহ কোন ধরনের রাজস্ব? ব্যাখ্যা কর। ৩  
ঘ. অর্থনীতিতে কর ও শুল্কের প্রভাব ব্যাখ্যা কর। ৪

## কুমিল্লা বোর্ড ২০২৩

## অর্থনীতি দ্বিতীয় পত্র সৃজনশীল প্রশ্ন

পূর্ণমান : ৭০

সময় : ২ ঘণ্টা ৩০ মিনিট

দ্রষ্টব্য : ডান পাশের সংখ্যা প্রশ্নের পূর্ণমান জ্ঞাপক। প্রদত্ত উদ্দীপকগুলো মনোযোগসহকারে পড় এবং সংশ্লিষ্ট প্রশ্নের উত্তর দাও। যেকোনো সাতটি প্রশ্নের উত্তর দিতে হবে।

- ১। দীর্ঘদিন পর জাভেদ বিদেশে থেকে এসে দেখলেন, তার বন্ধু রুবেল ডিগ্রি পাস করে ৭ লক্ষ টাকা মূলধন খাটিয়ে একটি কারখানা স্থাপন করেছেন। যেখানে ১২ জন শ্রমিক নিয়োজিত আছে এবং সে এখন সাবলম্বী। জাভেদ তার অর্জিত মূলধন দ্বারা গাজীপুরে একটি কারখানা স্থাপন করেন, যার অধিকাংশ শ্রমিক নারী। তার অর্জিত আয়ের বেশিরভাগ আসে রপ্তানির মাধ্যমে।
- ক. মাইক্রো শিল্প কী? ১
- খ. 'বিদ্যুৎ শক্তির প্রসার শিল্পায়নকে প্রভাবিত করে।' - ব্যাখ্যা কর। ২
- গ. রুবেলের ফার্মটি যে শিল্পের অন্তর্গত তার তিনটি বৈশিষ্ট্য আলোচনা কর। ৩
- ঘ. জাভেদ সাহেবের শিল্পটি অর্থনৈতিক উন্নয়নের দ্বার উন্মোচন করেছে— বাংলাদেশের প্রেক্ষিতে বিশ্লেষণ কর। ৪
- ২। বাংলাদেশের শিল্পনীতির ফলে ৯০ দশক থেকে ওষুধ তৈরির কারখানার প্রসার ঘটেছে, যা আমদানি হ্রাস করে বৈদেশিক মুদ্রা অর্জনে গুরুত্বপূর্ণ ভূমিকা রাখছে। এ শিল্পনীতি সরকারের বিনিয়োগের সাথে বেসরকারি বিনিয়োগকে উৎসাহিত করছে।
- ক. হাইটেক শিল্প কী? ১
- খ. 'ক্ষুদ্র ও কুটির শিল্পের প্রসার সম্পদের সুখম বণ্টনে সহায়তা করে' - ব্যাখ্যা কর। ২
- গ. উদ্দীপকে উল্লিখিত শিল্পটি কোন ধরনের শিল্প? ব্যাখ্যা কর। ৩
- ঘ. উদ্দীপকে শিল্পটি বাংলাদেশের অর্থনীতিতে কী ধরনের ভূমিকা রাখছে— বিশ্লেষণ কর। ৪
- ৩। 'ক' দেশে ১৯০০ সালে জনসংখ্যা ছিল ১০ কোটি। ওই বছরে জীবিত শিশু জন্মগ্রহণ করে ১৫ লক্ষ। তখন দেশটিতে খাদ্য উৎপাদনের পরিমাণ ছিল ১ লক্ষ মেট্রিক টন। ১৯২৫ সালে দেশটির জনসংখ্যা হয় ২০ কোটি, খাদ্য উৎপাদন হয় ২ লক্ষ মেট্রিক টন। ১৯৫০ সালে জনসংখ্যা হয় ৪০ কোটি এবং খাদ্য উৎপাদন হয় ৩ লক্ষ মেট্রিক টন।
- ক. জনসংখ্যা ঘনত্ব কাকে বলে? ১
- খ. 'অধিক জনসংখ্যার মূলধন গঠনে নেতিবাচক ভূমিকা রাখে' - ব্যাখ্যা কর। ২
- গ. 'ক' দেশের স্থূল জন্মহার নির্ণয় কর। ৩
- ঘ. 'ক' দেশের জনসংখ্যা ও খাদ্য উৎপাদন বৃদ্ধির ধারা জনসংখ্যা সংক্রান্ত কোন তত্ত্বের সাথে সংগতিপূর্ণ? বিশ্লেষণ কর। ৪
- ৪। বিগত কয়েক বছর ধরে দবিরুল ১ একর জমিতে মাছ ও সবজি চাষ করে আজ সে সাবলম্বী। সরকার দবিরুলের মতো উদ্যোগী যুবকদের সাবলম্বী করতে কর্মমুখী শিক্ষা, সবার জন্য স্বাস্থ্য সেবাসহ বিভিন্ন প্রশিক্ষণের ব্যবস্থা করেছেন।
- ক. আদম শুমারি কী? ১
- খ. 'প্রশিক্ষণ মানবসম্পদ উন্নয়নে গুরুত্বপূর্ণ উপাদান' - ব্যাখ্যা কর। ২
- গ. দবিরুলের প্রচেষ্টাকে কোন ধরনের কার্যক্রম বলা যায়? ব্যাখ্যা কর। ৩
- ঘ. সরকারের ভূমিকা দবিরুলের কার্যক্রমকে আরও বেগবান করবে' - বিশ্লেষণ কর। ৪
- ৫। 'X' দেশে ২০১৮ সালে চাল, আলু, লবণ, তেল-এর কেজি প্রতি দাম ছিল যথাক্রমে- ৪০, ১৫, ১০, ১০০ টাকা। ২০২০ সালে যার দাম দাঁড়ায় যথাক্রমে ৪৫, ২০, ১৫, ১৫০ টাকা। দাম বাড়ায় সরকার ব্যাংক হার পরিবর্তন, নগদ রিজার্ভের অনুপাতের পরিবর্তনসহ ঋণ নিয়ন্ত্রণের মতো পদক্ষেপ গ্রহণ করেন।
- ক. অর্থের মূল্য কী? ১
- খ. 'প্রাকৃতিক দুর্যোগের কারণে মুদ্রাস্ফীতি ঘটে।' - ব্যাখ্যা কর। ২
- গ. উদ্দীপক থেকে মুদ্রাস্ফীতির হার নির্ণয় কর। ৩
- ঘ. মুদ্রাস্ফীতি নিয়ন্ত্রণে উদ্দীপকে গৃহীত পদক্ষেপের যথার্থতা মূল্যায়ন কর। ৪
- ৬। রহমত উল্লাহ তার খামার থেকে উৎপাদিত ফসলের উদ্বৃত্ত অংশ সংরক্ষণের অভাবে বিক্রয়ের জন্য অতিরিক্ত খরচ দিয়ে পাইকারী বাজারে নিয়ে গেলেও ফরিয়া, দালালের জন্য সঠিক দাম থেকে বঞ্চিত হন। সমস্যা সমাধানে সরকার পণ্যের ন্যায্যমূল্য নির্ধারণ, ক্রয় এজেন্সি ও সমবায় বাজার গঠন করেন।
- ক. শস্য বহুমুখীকরণ কী? ১
- খ. 'বাংলাদেশের কৃষি প্রকৃতি নির্ভর' - ব্যাখ্যা কর। ২
- গ. উদ্দীপকে রহমত উল্লাহ কোন ধরনের সমস্যার সম্মুখীন? ব্যাখ্যা কর। ৩
- ঘ. রহমত উল্লাহর সমস্যা সমাধানে সরকার গৃহীত পদক্ষেপগুলো মূল্যায়ন কর। ৪
- ৭। সিডরের পর জয়নালের জমিতে সমুদ্রের পানি প্রবেশ করায় জমির লবণাক্ততা বেড়ে যায়। জয়নাল তার জমিতে সেচের জন্য পর্যাপ্ত মিঠা পানি পাচ্ছে না। যার জন্য কৃষি উৎপাদন হ্রাস পেয়েছে। এ অবস্থায় অভিযোজন সমস্যা মেটানোর জন্য বাণিজ্যিক ব্যাংক, NGO, গ্রামীণ ব্যাংক, আত্মীয়স্বজন, মহাজন, ধনী কৃষক এদের কারও না কারও কাছ থেকে জয়নালসহ গ্রামের লোকের ঋণ নিচ্ছেন।
- ক. জৈব প্রযুক্তি কী? ১
- খ. 'বৈশ্বিক উষ্ণতা ফসল উৎপাদন কমে যাওয়ার কারণ' - ব্যাখ্যা কর। ২
- গ. জয়নালের কৃষিক্ষেত্রের উৎসগুলোর শ্রেণি বিন্যাস কর। ৩
- ঘ. 'জয়নালের মতো দেশের উপকূলের কৃষকরা অভিযোজন সমস্যার কারণে ক্ষতিগ্রস্ত' - বিশ্লেষণ কর। ৪
- ৮। ফয়সাল সাহেব একজন খ্যাতনামা ব্যবসায়ী। তিনি দ্রব্যসামগ্রী দেশের অভ্যন্তরে উৎপাদন করে বিদেশে রপ্তানি করেন। তিনি ব্যবসার প্রসারের জন্য সরকারের কাছে ঋণ রেয়াত, কাঁচামাল আমদানি নীতি উদারীকরণ, আয়কর সুবিধাসহ বিদ্যুতের দাম হ্রাসের ব্যবস্থা জানান।
- ক. বিশ্বায়ন কাকে বলে? ১
- খ. প্রত্যক্ষ বৈদেশিক বিনিয়োগ উন্নয়নের জন্য অধিক গুরুত্বপূর্ণ - ব্যাখ্যা কর। ২
- গ. ফয়সাল সাহেবের বাণিজ্য কোন ধরনের ব্যাখ্যা কর। ৩
- ঘ. 'রপ্তানি বাণিজ্য সম্প্রসারণের লক্ষ্যে উদ্দীপকে গৃহীত পদক্ষেপগুলো ইতিবাচক ভূমিকা রাখবে।' - বিশ্লেষণ কর। ৪
- ৯। 'ক' দেশের সরকার প্রতিরক্ষা, সাধারণ প্রশাসন, আইন-শৃঙ্খলা, রাস্তাঘাট, সেতু নির্মাণ, বাঁধ নির্মাণের কাজ করে থাকে। এসব ব্যয় নির্বাহের জন্য সরকার আয়কর, আমদানি রপ্তানি শুল্ক, টোল, ফি VAT-এর আওতা বৃদ্ধির পদক্ষেপ গ্রহণ করে।
- ক. অভ্যন্তরীণ বাণিজ্য কাকে বলে? ১
- খ. 'আন্তর্জাতিক বাণিজ্য খাদ্য ঘাটতি পূরণে সহায়তা করে' - ব্যাখ্যা কর। ২
- গ. 'ক' দেশের সরকারের ব্যয়ের খাতগুলো ব্যাখ্যা কর। ৩
- ঘ. সরকারের ব্যয় নির্বাহের জন্য উদ্দীপকের গৃহীত পদক্ষেপগুলো বিশ্লেষণ কর। ৪
- ১০। সম্পদের উত্তম ব্যবহার, নতুন বাজার অন্বেষণ, রপ্তানি বৈচিত্র্যকরণ, রপ্তানি ঋণ বৃদ্ধি ইত্যাদির কারণে 'A' দেশে শিল্পজাত পণ্যের উৎপাদন বৃদ্ধি পেয়েছে। পণ্য উৎপাদনে 'A' দেশের প্রবৃদ্ধির ধারা নিচে প্রদর্শিত হলো—
- | সাল           | ২০১১-১২             | ২০১৬-১৭             | ২০১৭-১৮             |
|---------------|---------------------|---------------------|---------------------|
| শিল্পজাত পণ্য | ২৩,০৩৫ মিলিয়ন ডলার | ২৮,৭৯৮ মিলিয়ন ডলার | ৩৫,৩৩০ মিলিয়ন ডলার |
- ক. বৈদেশিক বাণিজ্য কাকে বলে? ১
- খ. 'আন্তর্জাতিক বাণিজ্য একচেটিয়া প্রভাব হ্রাসে গুরুত্বপূর্ণ ভূমিকা পালন করে' - ব্যাখ্যা কর। ২
- গ. উদ্দীপকে রপ্তানি বৃদ্ধিতে সরকার গৃহীত পদক্ষেপগুলো ব্যাখ্যা কর। ৩
- ঘ. উদ্দীপকে প্রদত্ত সূচিতে উল্লিখিত প্রবৃদ্ধির ধারা অর্থনৈতিক উন্নয়নে কী প্রভাব ফেলেবে? বিশ্লেষণ কর। ৪
- ১১।
- 
- ক. সরকারি আয় কাকে বলে? ১
- খ. 'মুদ্রাস্ফীতি রোধে আয়কর সহায়তা করে' - ব্যাখ্যা কর। ২
- গ. সামগ্রিক চাহিদা রেখা স্থানান্তরিত হয়ে যদি দামস্তর ২০ হয় তবে তা কোন ধরনের মুদ্রাস্ফীতি? ব্যাখ্যা কর। ৩
- ঘ. উদ্দীপকে বিদ্যমান মুদ্রাস্ফীতি একটি দেশের অর্থনীতিতে কী কী প্রভাব ফেলেবে? বিশ্লেষণ কর। ৪

## চট্টগ্রাম বোর্ড ২০২৩

সময় : ২ ঘণ্টা ৩০ মিনিট

### অর্থনীতি দ্বিতীয় পত্র ● সৃজনশীল প্রশ্ন

পূর্ণমান : ৭০

দ্রষ্টব্য : ডান পাশের সংখ্যা প্রশ্নের পূর্ণমান জ্ঞাপক। প্রদত্ত উদ্দীপকগুলো মনোযোগসহকারে পড় এবং সংশ্লিষ্ট প্রশ্নের উত্তর দাও। যেকোনো সাতটি প্রশ্নের উত্তর দিতে হবে।

- ১। আবহমান কাল থেকে কৃষি বাংলাদেশের প্রধান পেশা। কিন্তু বর্তমানে বাংলাদেশে কৃষির পাশাপাশি অন্যান্য সেक्टरও দেশের মোট দেশজ উৎপাদন (GDP) বৃদ্ধিতে সহায়ক ভূমিকা পালন করছে। কৃষিতে উন্নত বীজ, সার, কীটনাশক, আধুনিক যন্ত্রপাতি ও প্রযুক্তি ব্যবহারের ফলে কৃষির উৎপাদন বহুগুণে বৃদ্ধি পেয়েছে। কিন্তু কৃষকরা মূলধন সংগ্রহের প্রাতিষ্ঠানিক উৎস হতে পর্যাপ্ত ঋণের সুবিধা পাচ্ছে না। সরকার কৃষির উন্নয়নে বিভিন্ন উদ্যোগ যেমন- কৃষি উপকরণ বিতরণ, কৃষিক্ষণ বিতরণ সহায়তা, কৃষিবীজ সহায়তা সহজলভ্য করেছে।

- ক. পরিবেশ দূষণ কী? ১  
খ. কৃষিতে উন্নত বীজের ব্যবহার কর্মসংস্থানকে কীভাবে প্রভাবিত করে? ব্যাখ্যা কর। ২  
গ. কৃষিতে উৎপাদন বৃদ্ধির কারণ উদ্দীপকের আলোকে ব্যাখ্যা কর। ৩  
ঘ. উদ্দীপকে বর্ণিত কৃষির উন্নয়নে সরকারের গৃহীত পদক্ষেপগুলো কি পর্যাপ্ত? তোমার মতামত ব্যক্ত কর। ৪

- ২। রহিম মিয়া একজন প্রান্তিক কৃষক। তিনি কৃষিক্ষণ গ্রহণের উদ্দেশ্যে পার্শ্ববর্তী একটি ব্যাংকে যান। কিন্তু ঋণ গ্রহণের প্রক্রিয়া জটিল হওয়ায় তিনি ব্যাংক হতে ঋণ গ্রহণ করতে পারেননি। পরবর্তীতে তিনি গ্রাম্য মহাজনের কাছে চড়া সুদে ঋণ গ্রহণ করে উন্নত বীজ, সার ও কীটনাশক, পাওয়ার টিলার প্রভৃতি ব্যবহার করে উৎপাদন বৃদ্ধি, কর্মসংস্থান সৃষ্টি, জীবনযাত্রার মান উন্নয়ন প্রভৃতি ক্ষেত্রে সাফল্য অর্জন করেছেন।

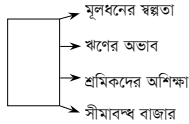
- ক. মিশ্র খামার কী? ১  
খ. 'কৃষির জন্য ঋণ গ্রহণ অত্যাৱশ্যক'— ব্যাখ্যা কর। ২  
গ. উদ্দীপকে কৃষিক্ষণের কোন উৎসের কথা বলা হয়েছে? ব্যাখ্যা কর। ৩  
ঘ. রহিম মিয়ার ঋণের উৎসসমূহের সুবিধা কি একই? ব্যাখ্যা কর। ৪

- ৩। শিল্পনীতি ২০১৬-এর আলোকে :

ক-শিল্প	খ-শিল্প	গ-শিল্প
মূলধন ৫০ কোটির অধিক শ্রমিক ৩০০ জনের অধিক	মূলধন ৭৫ লক্ষ থেকে ১৫ কোটি শ্রমিক ৩১- ১২০ জন	মূলধন ১০ লক্ষ টাকার নিচে শ্রমিক সর্বোচ্চ ১৫ জন

- ক. হাইটেক শিল্প কী? ১  
খ. 'আমদানি বিকল্প শিল্প বৈদেশিক মুদ্রা সাশ্রয়ে সহায়ক'— ব্যাখ্যা কর। ২  
গ. উদ্দীপকে 'ক' ও 'খ' শিল্প দুটির ধরন ব্যাখ্যা কর। ৩  
ঘ. 'খ' ও 'গ' শিল্প বাংলাদেশের অর্থনীতিতে কোনো ভূমিকা পালন করে কি? ৪

- ৪।



- ক. বৃহৎ শিল্প কী? ১  
খ. স্বচ্ছতা ও জবাবদিহিতা আনয়নে PPP কীভাবে ভূমিকা রাখে? ২  
গ. উদ্দীপকে কোন শিল্পকে নির্দেশ করা হয়েছে? যুক্তি দাও। ৩  
ঘ. উদ্দীপকে বর্ণিত শিল্পটির সমস্যা সমাধানের জন্য তুমি কী কী সুপারিশ করবে? ৪

- ৫। অর্থনীতি বিভাগের অধ্যাপক ড. এন. কে. স্যার একটি সেমিনারে বলেন, "বর্তমান বাংলাদেশের অর্থনৈতিক উন্নয়ন ত্বরান্বিত করতে ও উন্নয়নকে ধরে রাখতে মানবসম্পদ উন্নয়নের কোনো বিকল্প নেই।" তিনি আরও বলেন, অর্থনৈতিক প্রবৃদ্ধি ও মানবসম্পদ উন্নয়নের মধ্যে এক নিবিড় সম্পর্ক বিদ্যমান। তবে আশার কথা হলো বাংলাদেশ সরকার মানবসম্পদ উন্নয়নে বিভিন্ন কর্মসূচি গ্রহণ করেছে। সেগুলোর মধ্যে উল্লেখযোগ্য হলো প্রযুক্তি ও শিক্ষার উন্নয়ন, স্বাস্থ্য ও পরিবার কল্যাণ কর্মসূচি জোরদার, নারীদের উন্নয়ন ও ক্ষমতায়ন কর্মসূচি ইত্যাদি। এর ফলে বাংলাদেশে চাকরি নির্ভরশীলতা কমছে ও কর্মসংস্থান বৃদ্ধি পাচ্ছে।

- ক. নিট অভিবাসন হার-এর সূত্রটি লেখ। ১  
খ. কাম্য জনসংখ্যা ও সর্বোচ্চ উৎপাদন কীভাবে সম্পর্কিত? ২  
গ. উদ্দীপকের আলোকে মানবসম্পদ উন্নয়নে বর্তমান সরকারের গৃহীত পদক্ষেপগুলো বর্ণনা কর। ৩  
ঘ. উদ্দীপকে সরকারের গৃহীত পদক্ষেপের ফলে আত্মকর্মসংস্থান কীভাবে বৃদ্ধি পায়? ৪

- ৬। 'X' দেশের জনসংখ্যার তথ্য নিম্নরূপ :

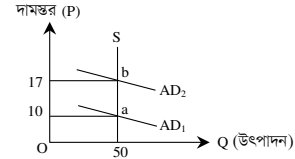
সাল	জনসংখ্যা
১৯৫০	২
১৯৭৫	৪
২০০০	৮

- ক. স্থূল জন্মহার কী? ১  
খ. 'জলবায়ু পরিবর্তন জনসংখ্যা বৃদ্ধি প্রভাবিত করে'— ব্যাখ্যা কর। ২  
গ. উদ্দীপকের তথ্য অনুযায়ী তড়ের নাম উল্লেখপূর্বক চিত্রে উপস্থাপন কর। ৩  
ঘ. উদ্দীপকের তত্ত্ব ও কাম্য জনসংখ্যা তড়ের মধ্যে তুমি বাংলাদেশের জন্য কোনটি অধিক সামঞ্জস্যপূর্ণ মনে কর ও কেন? ৪

- ৭। ইউক্রেন ও রাশিয়ার মধ্যকার যুদ্ধের ফলে বিশ্বব্যাপী ভোজ্য তেলসহ নিত্যপ্রয়োজনীয় দ্রব্যের দাম নিয়ন্ত্রণহীনভাবে বৃদ্ধি পেয়েছে। এরূপ দামস্তর বৃদ্ধির ফলে নির্দিষ্ট আয় ও নিম্ন আয়ের লোকজন তাদের ক্রয়ক্ষমতা হারাচ্ছে। এ অবস্থা থেকে উত্তরণের জন্য দেশটি দুটি হাতিয়ার ব্যবহার করে।

- ক. ভোজ্য মূল্য সূচক কী? ১  
খ. 'মুদ্রাস্ফীতির সময় ঋণগ্রহীতা লাভবান হয়'— ব্যাখ্যা কর। ২  
গ. উদ্দীপকে যুদ্ধের ফলে সৃষ্ট বিষয়টির কারণ ব্যাখ্যা কর। ৩  
ঘ. উদ্দীপকে সৃষ্ট অবস্থা নিয়ন্ত্রণে কেন্দ্রীয় ব্যাংক কী ধরনের পদক্ষেপ গ্রহণ করে? ব্যাখ্যা কর। ৪

- ৮। নিচের চিত্রটি লক্ষ কর এবং প্রশ্নগুলোর উত্তর দাও :



- ক. ব্যাংক হার কী? ১  
খ. 'মুদ্রাসংকোচন হলো মুদ্রাস্ফীতির বিপরীত ধারণা'— ব্যাখ্যা কর। ২  
গ. উদ্দীপকের আলোকে মুদ্রাস্ফীতির হার নির্ণয় কর। ৩  
ঘ. a বিন্দু হতে b বিন্দুতে দামস্তর স্থানান্তরিত হলে সীমিত আয়ের লোক, কৃষিজীবী, শ্রমিক শ্রেণি, ঋণদাতা ও ঋণ গ্রহীতার ওপর কী প্রভাব পড়বে? বিশ্লেষণ কর। ৪

- ৯। জাহিদ তার শ্রেণি শিক্ষকের নিকট শুনেছে যে, কোনো দেশের উদ্বৃত্ত দ্রব্য রপ্তানি ও ঘাটতি দ্রব্য আমদানির লক্ষ্যে আন্তর্জাতিক বাণিজ্য হয়। অবশ্য এই বাণিজ্য চুক্তির ভিত্তিতে বিভিন্ন দেশ বা জোটের মধ্যে হয়ে থাকে। এতে অবশ্য লেনদেনে জনিত সমস্যা, মুদ্রা ও ব্যাংক ব্যবস্থার ও ভিন্নতার মতো জটিলতাও থাকে। তবে এতে বিভিন্ন দেশের সম্পদের সৃষ্টি ব্যবহার, বাজার সম্প্রসারণ, ভোক্তার স্বার্থরক্ষা হয়ে থাকে। বিষয়টি জাহিদকে অনুপ্রাণিত করে।

- ক. আন্তর্জাতিক বাণিজ্য কী? ১  
খ. 'বাণিজ্য না হওয়ার চেয়ে কিছু বাণিজ্য ভালো'— ব্যাখ্যা কর। ২  
গ. উদ্দীপকে উল্লিখিত বাণিজ্যের বৈশিষ্ট্যসমূহ আলোচনা কর। ৩  
ঘ. উদ্দীপকের বাণিজ্যের মাধ্যমে দেশের কল্যাণ কীভাবে বৃদ্ধি পায়? সপক্ষে যুক্তি দেখাও। ৪

- ১০। অর্থনীতি বিভাগের শিক্ষক ক্লাসে শিক্ষার্থীদের উদ্দেশ্য বলেন যে, সরকারের ব্যয়ের খাত হলো রাজস্ব ব্যয় ও উন্নয়ন ব্যয়। সরকার সাধারণ জনগণের মৌলিক চাহিদাপূরণ, প্রতিরক্ষা ব্যয় নির্বাহ, সামাজিক নিরাপত্তা, নগরায়ণ ইত্যাদি ক্ষেত্রে ব্যয় করে থাকে। তাছাড়া ব্যয়ের পাশাপাশি সরকার বাণিজ্যিক রজস্ব, আয়কর, জরিমানা, মূল্য সংযোজন কর, টোল, আবগারি শুল্ক ইত্যাদি খাত হতে রাজস্ব সংগ্রহ করে থাকে।

- ক. শুল্ক কী? ১  
খ. 'আয়কর একটি প্রত্যক্ষ কর'— ব্যাখ্যা কর। ২  
গ. উদ্দীপক থেকে কর রাজস্ব ও কর বহির্ভূত রাজস্ব-এর খাতগুলো চিহ্নিত কর। ৩  
ঘ. উদ্দীপকে উল্লিখিত খাতগুলো ব্যতীত সরকার আর কোন কোন খাতে ব্যয় করতে পারে বলে তুমি মনে কর? মতামত দাও। ৪

- ১১।

তালিকা 'ক'	তালিকা 'খ'
কেন্দ্রীয় ব্যাংক	বিশ্ব ব্যাংক
তফসিল ব্যাংক	বিভিন্ন দেশ
অ-আর্থিক প্রতিষ্ঠান	আন্তর্জাতিক আর্থিক সংস্থা
ব্যক্তিগত উৎস	বিদেশি ব্যাংক

- ক. প্রত্যক্ষ কর কী? ১  
খ. 'শুধু কর রাজস্ব আয়ের একমাত্র উৎস নয়'— কেন? ২  
গ. উদ্দীপকটি সরকারি অর্থ ব্যবস্থার কোন দিকটি নির্দেশ করছে? ব্যাখ্যা কর। ৩  
ঘ. উদ্দীপকের আলোকে কোন তালিকাটি বাংলাদেশের জন্য বেশি কল্যাণকর? সপক্ষে যুক্তি দাও। ৪

## সিলেট বোর্ড ২০২৩

### অর্থনীতি দ্বিতীয় পত্র সৃজনশীল প্রশ্ন

সময় : ২ ঘণ্টা ৩০ মিনিট

পূর্ণমান : ৭০

দ্রষ্টব্য : ডান পাশের সংখ্যা প্রশ্নের পূর্ণমান জ্ঞাপক। প্রদত্ত উদ্দীপকগুলো মনোযোগসহকারে পড় এবং সংশ্লিষ্ট প্রশ্নের উত্তর দাও। যেকোনো সাতটি প্রশ্নের উত্তর দিতে হবে।

- ১। রসুলপুর গ্রামে পেঁয়াজের খুব ভালো ফলন হয়। কিন্তু এ গ্রামের যাতায়াত ব্যবস্থা ও বিদ্যুতের অপরিপূর্ণতার কারণে কোনো ফসল সংরক্ষণাগার গড়ে উঠেনি। এ পরিস্থিতিতে কাজে লাগিয়ে এক শ্রেণির দালাল কৃষকদের উৎপাদিত পেঁয়াজ খুব কম মূল্যে কিনে নেয় এবং বেশি দামে শহরের বাজারে বিক্রি করে।

ক. শস্য বহুমুখীকরণ কাকে বলে? ১

খ. 'বৈশ্বিক উষ্ণতা বৃদ্ধি কৃষি উন্নয়নকে ব্যহত করছে'— উক্তিটি ব্যাখ্যা কর। ২

গ. উদ্দীপকে রসুলপুর গ্রামের কৃষিতে বিদ্যমান পরিস্থিতিতে সমস্যাসমূহ ব্যাখ্যা কর। ৩

ঘ. উদ্দীপকে উল্লিখিত সমস্যা দূরীকরণে কী কী পদক্ষেপ নেওয়া যেতে পারে? তোমার মতামত দাও। ৪

- ২। জনাব জমির মিয়া বাণিজ্যিকভাবে ভুট্টা চাষ করার জন্য তার মামার নিকট থেকে কিছু টাকা এবং তার গ্রামের ভুট্টা বেপারীর নিকট থেকে বাকি টাকা ঋণ গ্রহণ করেন। কিন্তু তার বন্ধু শরীফ হোসেন ভুট্টা চাষ করার জন্য স্থানীয় কৃষি ব্যাংক থেকে ঋণ গ্রহণ করেন। চলতি বছর সরকার কৃষি ব্যাংকের ঋণের সুদ মওকুফ করার ঘোষণা করেছে।

ক. জীবন নির্বাহী খামার কী? ১

খ. কৃষি পণ্যের উৎপাদন বৃদ্ধিতে তথ্য ও যোগাযোগ প্রযুক্তি কীভাবে ভূমিকা পালন করতে পারে? ২

গ. উদ্দীপকে উল্লিখিত কৃষিক্ষেত্রের উৎসের শ্রেণিবিভাগ চিহ্নিত কর। ৩

ঘ. উদ্দীপক অনুযায়ী সরকারের গৃহীত পদক্ষেপ শরীফ হোসেনের কৃষি উৎপাদন ও জীবনযাত্রার মানের ওপর কীভাবে প্রভাব বিস্তার করবে? যথাযথ বিশ্লেষণ কর। ৪

- ৩। 'X' দেশের বিভিন্ন বছরের জনসংখ্যা ও খাদ্য উৎপাদনের পরিমাণ নিম্নরূপ :

সাল	১৯৭০	১৯৯৫	২০২০
জনসংখ্যা	১ কোটি	২ কোটি	৪ কোটি
খাদ্য উৎপাদন	১ লাখ মে. টন	২ লাখ মে. টন	৩ লাখ মে. টন

ক. স্থূল জন্মহার কী? ১

খ. 'জনসংখ্যার উন্নয়ন মানব সম্পদ উন্নয়নকে প্রভাবিত করে।'— ব্যাখ্যা কর। ২

গ. উদ্দীপকের ছক তোমার বইয়ের কোন তত্ত্বের সাথে সামঞ্জস্যপূর্ণ? ব্যাখ্যা কর। ৩

ঘ. উদ্দীপকে উল্লিখিত তত্ত্বানুযায়ী, জনসংখ্যা ও খাদ্য উৎপাদন বৃদ্ধির মধ্যে ব্যবধান দূর করার ক্ষেত্রে তুমি কী কী উপায় সুপারিশ করবে? বিশ্লেষণ কর। ৪

- ৪। 'A' দেশের আয়তনের তুলনায় জনসংখ্যা অত্যধিক। দেশটির জলবায়ু উষ্ণ ও আর্দ্র। ভূমিরূপ উর্বল ও সমতল। এদেশের জনগণের প্রধান খাদ্য ভাত। এছাড়া এখানে শিক্ষার হার অত্যন্ত কম। অধিক জনসংখ্যার কারণে এদেশে খাদ্য, বাসস্থান, কর্মসংস্থান, জীবনযাত্রার নিম্নমান ইত্যাদি সমস্যা লেগেই আছে। উদ্ভূত সমস্যা সমাধানে উক্ত দেশের সরকার শিক্ষা ও প্রশিক্ষণের ওপর গুরুত্বারোপ করেছে।

ক. নিট অভিবাসন কাকে বলে? ১

খ. জনসংখ্যা নিয়ন্ত্রণে পরিবার পরিকল্পনার গুরুত্ব ব্যাখ্যা কর। ২

গ. উদ্দীপকে 'A' দেশের জনাধিক্যের কারণগুলো ব্যাখ্যা কর। ৩

ঘ. উদ্দীপকে উল্লিখিত অধিক জনসংখ্যার প্রভাব মোকাবেলায় 'A' দেশের সরকারের গৃহীত পদক্ষেপের কার্যকারিতা বিশ্লেষণ কর। ৪

- ৫। 'C' দেশে পূর্বে টিভি, ফ্রিজ, কম্পিউটারসহ অন্যান্য ইলেক্ট্রনিকস পণ্য আমদানি করা হতো। সম্প্রতি ওই দেশে 'ABC Techonology' নামে একটি ইলেক্ট্রনিকস পণ্য সংযোজনকারী প্রতিষ্ঠান গড়ে ওঠে। 'ABC Technology' বর্তমানে দেশের টিভি, ফ্রিজ ও কম্পিউটার-এর চাহিদা পূরণ করছে।

ক. সংরক্ষিত শিল্প কাকে বলে? ১

খ. "গ্রামীণ অর্থনীতির উন্নয়নে ক্ষুদ্র ও কুটির শিল্পের ভূমিকা রয়েছে।"— ব্যাখ্যা কর। ২

গ. উদ্দীপকে উল্লিখিত 'ABC Techonology' কোন ধরনের শিল্প? ব্যাখ্যা কর। ৩

ঘ. উদ্দীপকে 'C' দেশের অর্থনৈতিক উন্নয়নে 'ABC Techonology' এর মতো প্রতিষ্ঠানগুলোর গুরুত্ব ব্যাখ্যা কর। ৪

- ৬। 'Y' দেশের কয়েক দশক পূর্ব হতে বর্তমান পর্যন্ত পাট ও পাটজাত দ্রব্য প্রধান রপ্তানি দ্রব্য। তবে প্রযুক্তিগত সীমাবদ্ধতা, গুণগতমানের অভাব, প্রাস্টিক ও সিনথেটিক জাতীয় সস্তা বিকল্প দ্রব্যের উপস্থিতির কারণে পাটজাত পণ্যের চাহিদা দিন দিন হ্রাস পাচ্ছে। তবে বর্তমান বিশ্ব সম্প্রদায় প্রাস্টিক ও সিনথেটিক পণ্যের ক্ষতিকর দিক সম্পর্কে সচেতন হচ্ছে। এদিকে সম্প্রতি উক্ত দেশের একজন বিজ্ঞানী পাটের জেনেটিক কোড উন্মোচন করেছেন।

ক. Public Private Partnership (PPP) বলতে কী বোঝ? ১

খ. 'শিল্পোন্নয়ন অর্থনৈতিক উন্নয়নের পূর্বশর্ত'— উক্তিটি ব্যাখ্যা কর। ২

গ. উদ্দীপকে উল্লিখিত সমস্যাগুলো কীভাবে পাট শিল্পের ক্ষতি করছে? ব্যাখ্যা কর। ৩

ঘ. উদ্দীপকে উল্লিখিত বিশ্ববাসীর মনোভাব পাট শিল্পের হারানো ঐতিহ্য ফিরিয়ে আনতে কীভাবে ভূমিকা রাখতে পারে? তোমার উত্তরের সপক্ষে যুক্তি দাও। ৪

- ৭। সম্প্রতি রাশিয়া ও ইউক্রেন যুদ্ধের প্রভাবে বিশ্ব বাণিজ্য বাধাগ্রস্ত হয় এবং জ্বালানি তেলসহ অধিকাংশ খাদ্য পণ্যের যোগান ঘাটতি দেখা দেয়। এর প্রভাবে 'D' দেশের খাদ্য ও ভোগ্য পণ্যের দাম ক্রমাগত বৃদ্ধি পেতে থাকে। দ্রব্য মূল্যের এই উর্ধ্বগতি নিয়ন্ত্রণে 'D' দেশের সরকার তার সকল ধরনের ব্যয় কমানোর সিদ্ধান্ত গ্রহণ করেছে।

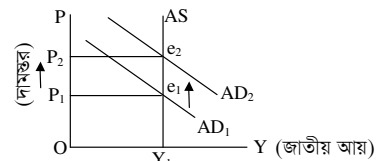
ক. মুদ্রাস্ফীতি কী? ১

খ. মুদ্রাস্ফীতির ফলে কৃষকের উৎপাদনের ওপর কেমন প্রভাব পড়বে? ২

গ. উদ্দীপকে 'D' দেশে যে ধরনের মুদ্রাস্ফীতি সৃষ্টি হয়েছে তা ব্যাখ্যা কর। ৩

ঘ. উদ্দীপক অনুযায়ী 'D' দেশের সরকারের গৃহীত পদক্ষেপ মুদ্রাস্ফীতি নিয়ন্ত্রণে কীভাবে ভূমিকা পালন করবে? ব্যাখ্যা কর। ৪

- ৮। উদ্দীপকটি লক্ষ কর ও উত্তর দাও :



ক. ভোক্তার দাম সূচকের (CPI) সূত্রটি লেখ। ১

খ. একজন ঋণ গ্রহীতার ওপর মুদ্রাস্ফীতির প্রভাব ব্যাখ্যা কর। ২

গ. উদ্দীপকে যে ধরনের মুদ্রাস্ফীতি দেখানো হয়েছে তার তিনটি কারণ ব্যাখ্যা কর। ৩

ঘ. উদ্দীপকে উল্লিখিত পরিস্থিতিতে কেন্দ্রীয় ব্যাংকের গৃহীত ব্যবস্থা কী হতে পারে? ব্যাখ্যা কর। ৪

- ৯। জনাব জামিল মধুপুরের আনারস দেশের বিভিন্ন শহরে বিক্রয় করেন। তার ভাই রাজিব যে শিল্প কারখানায় চাকরি করেন সেখানকার উৎপাদিত পণ্য ইউরোপের বিভিন্ন দেশে রপ্তানি করে দেশের সর্বাধিক পরিমাণ বৈদেশিক মুদ্রা অর্জন, দেশীয় শ্রমের ব্যবহার ও আন্তর্জাতিক সহযোগিতা বৃদ্ধিতে গুরুত্বপূর্ণ ভূমিকা রাখছে।

ক. FDI-এর পূর্ণরূপ লেখ। ১

খ. 'তথ্য প্রযুক্তির উন্নয়ন ও প্রসার বিশ্বায়নে সহায়ক'— ব্যাখ্যা কর। ২

গ. উদ্দীপক অনুযায়ী রাজিবের বাণিজ্যের তিনটি সুবিধা ব্যাখ্যা কর। ৩

ঘ. উদ্দীপকে উল্লিখিত জামিল ও রাজিবের বাণিজ্যের মধ্যে কোনো পার্থক্য থাকলে তা বিশ্লেষণ কর। ৪

- ১০। বাংলাদেশ বিগত তিন দশক পূর্ব থেকে চামড়া, গুণ্ডা, চা, পাট, হিমায়িত মাছ, ফুল, ফল ও তাজা সবজি রপ্তানি করছে। বাংলাদেশের সরকার রপ্তানি পণ্যের তালিকায় আরও পণ্য যুক্ত করার জন্য বিভিন্ন উদ্যোগ গ্রহণ করছে।

ক. আন্তর্জাতিক বাণিজ্য কাকে বলে? ১

খ. 'Tax Holiday' রপ্তানিমুখী শিল্প বিকাশে সহায়ক— ব্যাখ্যা কর। ২

গ. উদ্দীপক অনুযায়ী বাংলাদেশের প্রচলিত ও অপ্রচলিত রপ্তানি পণ্যের তালিকা তৈরি কর। ৩

ঘ. উদ্দীপকে উল্লিখিত পরিস্থিতিতে সরকারের আর কোন কোন উদ্যোগ তুমি সুপারিশ করবে? ব্যাখ্যা কর। ৪

- ১১। অর্থনীতির শিক্ষক জনাব হাসান শ্রেণিকক্ষে সরকারের আয়ের বিভিন্ন উৎস নিয়ে আলোচনা করছিলেন। তিনি বললেন, "সরকার আয়কর, মূল্য সংযোজন কর, আবগারি শুল্ক, জরিমানা, ফি, অনুদান ইত্যাদি বিভিন্ন খাত থেকে আয় করে থাকেন। সরকার তার ব্যয় মেটানোর জন্য বিভিন্ন অভ্যন্তরীণ ও বাহ্যিক উৎস থেকে ঋণও গ্রহণ করে থাকেন।"

ক. সরকারি অর্থব্যবস্থা কাকে বলে? ১

খ. ফি ও কর এক নয় কেন? ২

গ. উদ্দীপকে জনাব হাসান যে সকল কর রাজস্বের খাত উল্লেখ করেছেন তা চিহ্নিত কর। ৩

ঘ. উদ্দীপকে উল্লিখিত উৎসের মধ্যে কোনটি থেকে ঋণ গ্রহণ করা দেশের জন্য উত্তম বলে মনে কর? তোমার মতামত বিশ্লেষণ কর। ৪

## বরিশাল বোর্ড ২০২৩

সময় : ২ ঘণ্টা ৩০ মিনিট

### অর্থনীতি দ্বিতীয় পত্র সৃজনশীল প্রশ্ন

পূর্ণমান : ৭০

দ্রষ্টব্য : ডান পাশের সংখ্যা প্রশ্নের পূর্ণমান জ্ঞাপক। প্রদত্ত উদ্দীপকগুলো মনোযোগসহকারে পড় এবং সংশ্লিষ্ট প্রশ্নের উত্তর দাও। যেকোনো সাতটি প্রশ্নের উত্তর দিতে হবে।

- ১। কৃষি উন্নয়নে জনকল্যাণমুখী সরকার কৃষকদের ন্যায্যমূল্য প্রাপ্তির লক্ষ্যে, মধ্যমত্বভোগীদের দৌরাত্ম্য প্রতিরোধে বিভিন্ন কৃষিপণ্য ও কৃষি উপকরণের দাম নির্ধারণ করে দেয়। একটি বিশেষ প্রযুক্তির সাহায্যে সমগ্র দেশের কৃষক এ তথ্য সম্পর্কে দ্রুত অবগত হতে পারে। এ ছাড়া কৃষির বিভিন্ন প্রয়োজনীয় তথ্য ও সেবা কৃষকদের দোরগোড়ায় পৌঁছানোর ক্ষেত্রেও প্রযুক্তিটি বৈপ্লবিক ভূমিকা পালন করছে।
  - ক. আদর্শ খামার কী? ১
  - খ. 'মাশরুম একটি ঔষধি গুণসম্পন্ন খাবার'— ব্যাখ্যা কর। ২
  - গ. উদ্দীপকে কোন ধরনের প্রযুক্তির কথা বলা হয়েছে? ব্যাখ্যা কর। ৩
  - ঘ. উল্লিখিত প্রযুক্তির সাহায্যে কৃষকরা কীভাবে উপকৃত হয়? উদ্দীপকের আলোকে ব্যাখ্যা কর। ৪
- ২। মি. রবি মহাজনের কাছ থেকে ঋণ নিয়ে বাড়িতে বেত দ্বারা বিভিন্ন ধরনের চেয়ার, দোলনা ও সোফাসেটসহ অনেক দ্রব্যসামগ্রী তৈরি করেন। এ কাজে তার স্ত্রী, সন্তান ও ছোট ভাই তাকে সাহায্য করে। উৎপাদিত দ্রব্যসমূহ বাজারে বিক্রি করে যে মুনাফা অর্জন করে, তা দিয়ে তিনি ঋণ পরিশোধসহ পরিবারের যাবতীয় খরচ বহন করতে পারেন। তাকে দেখে গ্রামের অনেকেই এ কাজে আত্মনিয়োগ করে।
  - ক. PPP কী? ১
  - খ. আমদানি বিকল্প শিল্প বৈদেশিক মুদ্রা সাশ্রয়ে সহায়ক— ব্যাখ্যা কর। ২
  - গ. উদ্দীপকে উল্লিখিত শিল্পটির প্রকৃতি ব্যাখ্যা কর। ৩
  - ঘ. বেকারত্ব হ্রাস, মহিলাদের কর্মসংস্থান ও সম্পদের সুশম বন্টনে উদ্দীপকে উল্লিখিত শিল্পটির গুরুত্ব আলোচনা কর। ৪
- ৩। জনসংখ্যা বিষয়ক এমন একটি তত্ত্ব রয়েছে যার অনুমিত শর্তগুলো হলো খাদ্যের যোগান সীমিত, জমিতে ক্রমহ্রাসমান প্রান্তিক উৎপাদনের বিধি কার্যকর, নর-নারীর মধ্যে আকর্ষণ প্রয়োজনীয় নিয়ন্ত্রিত ও শাস্ত ও কৃষিই একমাত্র উৎপাদন ব্যবস্থা ইত্যাদি। এ তত্ত্ব মূলত জনসংখ্যা ও খাদ্য উৎপাদনের সম্পর্ক বিষয়ক বক্তব্য উপস্থাপিত হয়েছে।
  - ক. মানবসম্পদ উন্নয়ন কী? ১
  - খ. 'আত্মকর্মসংস্থানের মূলভিত্তি আত্মপ্রত্যয়'— ব্যাখ্যা কর। ২
  - গ. উদ্দীপকে জনসংখ্যা সম্পর্কিত কোন তত্ত্বের ধারণা প্রতিফলিত হয়েছে? ব্যাখ্যা কর। ৩
  - ঘ. উদ্দীপকে উল্লিখিত তত্ত্বটি একটি গাণিতিক উদাহরণের মাধ্যমে ব্যাখ্যা কর। ৪
- ৪। একটি দেশের ২০১৪ এবং ২০১৫ সালের বিভিন্ন ভোগ্য দ্রব্যের দাম ও পরিমাণের তালিকা নিম্নরূপ :
 

ভোগ্যদ্রব্য	২০১৪ সাল		২০১৫ সাল	
	একক প্রতি দাম (টাকা)	পরিমাণ (কেজি)	একক প্রতি দাম (টাকা)	পরিমাণ (কেজি)
চাল	৪০	৬০	৫০	
ডাল	৮০	১৫	১০০	
আটা	৩০	৬০	৪৫	
তেল	৮০	১০	১০০	
লবণ	২৫	৬	৩০	

দেশটির সংশ্লিষ্ট কর্তৃপক্ষ দ্রব্যমূল্য নিয়ন্ত্রণে ব্যাংক হার ও নগদ জমার অনুপাত বৃদ্ধি করে এবং সরকারি ব্যয় হ্রাস করে।

- ক. মুদ্রা সংকোচন কী? ১
  - খ. 'সামাজিক নিরাপত্তার আওতা বৃদ্ধির ফলে মুদ্রাস্ফীতি দেখা দেয়'— ব্যাখ্যা কর। ২
  - গ. উদ্দীপকের আলোকে দেশটির ভোক্তার মূল্যসূচক নির্ণয় কর। ৩
  - ঘ. উদ্দীপকে উল্লিখিত হাতিয়ারগুলো দ্রব্যমূল্য নিয়ন্ত্রণে কীভাবে ভূমিকা পালন করে? ব্যাখ্যা কর। ৪
- ৫। বাংলাদেশ বিশ্বের বিভিন্ন দেশে কাঁচা পাট, চা, চামড়া, তৈরি পোশাক, শাকসবজি ও হিমায়িত খাদ্যসহ বিভিন্ন দ্রব্যসামগ্রী রপ্তানি করে। আবার দেশের অভ্যন্তরীণ চাহিদা পূরণে বিশ্বের বিভিন্ন দেশ থেকে খাদ্যশস্য, তৈলবীজ, ভোজ্যতেল ও সারসহ বিভিন্ন মূলধনী দ্রব্য আমদানি করে। এভাবে আমদানি-রপ্তানির মাধ্যমে দেশটি যেমন অনুৎপাদিত দ্রব্য ভোগ করতে পারে, ঠিক তেমনি উদ্বৃত্ত পণ্য রপ্তানি করতে পারে।
    - ক. অভ্যন্তরীণ বাণিজ্য কী? ১
    - খ. 'তথ্য প্রযুক্তির উন্নয়ন বিশ্বায়নকে বেগবান করে'— ব্যাখ্যা কর। ২
    - গ. উদ্দীপক হতে প্রচলিত ও অপ্রচলিত রপ্তানি পণ্যের একটি তালিকা প্রস্তুত কর। ৩
    - ঘ. উদ্দীপকে সংঘটিত বাণিজ্য বাংলাদেশের জন্য কতটা গুরুত্বপূর্ণ? তোমার মতামত দাও। ৪

- ৬। সরকারের দৈনন্দিন কার্যক্রম পরিচালনা এবং অন্যান্য গুরুত্বপূর্ণ কর্মসূচি বাস্তবায়নের জন্য অর্থ ব্যয় অপরিহার্য। এ ব্যয় নির্বাহের জন্য সরকার বিভিন্ন উৎস যেমন, আয়কর, সম্পদ কর, ভূমি রাজস্ব, বাণিজ্য শুল্ক, রেজিস্ট্রেশন ফি, জরিমানা, প্রাকৃতিক সম্পদ, বিক্রয়, সরকারি বাণিজ্যিক প্রতিষ্ঠানের মুনাফা ইত্যাদি হতে অর্থ সংগ্রহ করে। তবে ঘাটতি অর্থসংস্থানের ক্ষেত্রে সরকার বিভিন্ন অভ্যন্তরীণ উৎস যেমন, দেশের অ-আর্থিক প্রতিষ্ঠান, বাণিজ্যিক ব্যাংক, কেন্দ্রীয় ব্যাংক ইত্যাদি হতে ঋণ নিতে পারে। আবার বিভিন্ন বৈদেশিক উৎস যেমন বিদেশি সরকার, সংস্থা, আন্তর্জাতিক আর্থিক প্রতিষ্ঠান ইত্যাদি হতেও ঋণ নিতে পারে। তবে এসব গৃহীত ঋণের সুবিধা এবং অসুবিধা দুইটি রয়েছে।
  - ক. সরকারি অর্থব্যবস্থা কী? ১
  - খ. 'প্রত্যক্ষ কর সামাজিক ন্যায় বিচারের সাথে সংগতিপূর্ণ'— ব্যাখ্যা কর। ২
  - গ. উদ্দীপক হতে কর বহির্ভূত রাজস্বের একটি তালিকা প্রস্তুত কর। ৩
  - ঘ. উদ্দীপকে ঘাটতি অর্থসংস্থানের ঋণ গ্রহণের ক্ষেত্রে অভ্যন্তরীণ ও বৈদেশিক উৎসের মধ্যে কোনটি শ্রেয়? তুলনামূলক সুবিধা-অসুবিধা বিশ্লেষণপূর্বক মতব্য কর। ৪
- ৭। মি. 'X' তার পরিবারের সদস্য নিয়ে ছোট আয়তনের একটি জমিতে ধান উৎপাদন করেন। অন্যদিকে, মি. 'Y' তার বড় আয়তনের জমিতে ভাড়া করা শ্রমিক দিয়ে আধুনিক কৃষি উপকরণ ব্যবহার করে অধিক দক্ষতার সাথে ধান উৎপাদন করেন। ধানের মূল্য হ্রাস-বৃদ্ধি, কৃষিপণ্যের বিপণন ইত্যাদি বিষয় মি. 'X'-এর নিকট গুরুত্বপূর্ণ না হলেও মি. 'Y' এর নিকট অতীব গুরুত্বপূর্ণ।
  - ক. শস্য বহুমুখীকরণ কী? ১
  - খ. 'কৃষকদের দারিদ্র্য কৃষিপণ্য বিপণনের প্রধান সমস্যা'— ব্যাখ্যা কর। ২
  - গ. মি. 'X'-এর খামারটি কোন ধরনের খামার? ব্যাখ্যা কর। ৩
  - ঘ. উদ্দীপকে মি. 'X' ও মি. 'Y'-এর খামার দুটির মধ্যে তুলনামূলক পার্থক্য বিশ্লেষণ কর। ৪
- ৮। বাংলাদেশের বিভিন্ন উৎপাদনকারী প্রতিষ্ঠান 'X' দ্রব্যটির মতো আরও কয়েকটি দ্রব্য বিদেশে রপ্তানি করে প্রচুর পরিমাণ বৈদেশিক মুদ্রা অর্জন করে। অপরদিকে, দেশটির অভ্যন্তরীণ চাহিদা পূরণে 'Y' দ্রব্যটি আগে আমদানি করা হলেও বর্তমানে বিভিন্ন উৎপাদনকারী প্রতিষ্ঠান দ্রব্যটি দেশের অভ্যন্তরে উৎপাদন ও বিক্রয় করে। ফলে দ্রব্যটির আমদানি চাহিদা অনেকাংশেই কমে গেছে।
  - ক. শিল্প কী? ১
  - খ. কৃষি উন্নয়নে শিল্প কীভাবে গুরুত্বপূর্ণ ভূমিকা পালন করে? ব্যাখ্যা কর। ২
  - গ. 'X' দ্রব্য উৎপাদনকারী প্রতিষ্ঠান কোন শিল্পের অন্তর্ভুক্ত? ব্যাখ্যা কর। ৩
  - ঘ. 'Y' দ্রব্য উৎপাদনকারী শিল্প কর্মসংস্থান বৃদ্ধি, দেশীয় শিল্প সংরক্ষণ, বাণিজ্য ঘাটতি হ্রাস ও অর্থনৈতিক স্বয়ংসম্পূর্ণতা অর্জনে কীভাবে ভূমিকা পালন করে? ব্যাখ্যা কর। ৪
- ৯। আয়তনের তুলনায় 'A' দেশটির জনসংখ্যা অনেক বেশি। দেশটির জনসংখ্যা ১২ কোটির উপরে, জন্মহার ২২.৩ এবং মৃত্যু হার ৪.২। দেশটির জনসংখ্যা দ্রুতহারে বৃদ্ধির কারণ হিসেবে জলবায়ু ও জনগণের খাদ্যাভ্যাসকে চিহ্নিত করা হয়েছে।
  - ক. জনসংখ্যার ঘনত্ব কী? ১
  - খ. ভূ-প্রকৃতি কীভাবে জনসংখ্যার গুরুত্বপূর্ণ নির্ধারক? ব্যাখ্যা কর। ২
  - গ. 'A' দেশের জনসংখ্যার স্বাভাবিক বৃদ্ধির হার নির্ণয় কর। ৩
  - ঘ. 'উচ্চ প্রজনন হারই 'A' দেশের জনসংখ্যা বৃদ্ধির অন্যতম কারণ।'— উদ্দীপকের আলোকে ব্যাখ্যা কর। ৪
- ১০। চিত্রটি লক্ষ কর এবং সংশ্লিষ্ট প্রশ্নগুলোর উত্তর দাও :

- ক. সূচক সংখ্যা কী? ১
  - খ. 'অর্থের যোগান বৃদ্ধি মুদ্রাস্ফীতির জন্য দায়ী'— ব্যাখ্যা কর। ২
  - গ. উদ্দীপকের আলোকে মুদ্রাস্ফীতির হার নির্ণয় কর। ৩
  - ঘ. চিত্রে সামগ্রিক চাহিদা রেখা AD<sub>1</sub> হতে AD<sub>2</sub> তে স্থানান্তরের সম্ভাব্য কারণসমূহ বিশ্লেষণ কর। ৪
- ১১। অর্থনীতি বিভাগের শামছুল আলম স্যার শ্রেণিকক্ষে সরকারি আয়ের দৃষ্টি উৎস নিয়ে কথা বলছিলেন। উৎস দুটির মধ্যে একটি বাধ্যতামূলক এবং এর আইনগত বৈধতা রয়েছে। কিন্তু অন্য উৎসটি বাধ্যতামূলক নয় এবং এর আইনগত বৈধতাও নেই।
    - ক. প্রত্যক্ষ কর কী? ১
    - খ. 'ব্যক্তির কাছ থেকে সরকার ঋণ গ্রহণ করতে পারে'— ব্যাখ্যা কর। ২
    - গ. উদ্দীপকে সরকারি আয়ের উৎস দুটি চিহ্নিত করে ব্যাখ্যা কর। ৩
    - ঘ. উদ্দীপকে উল্লিখিত সরকারের আয়ের উৎস দুটির তুলনামূলক পার্থক্য বিশ্লেষণ কর। ৪

## দিনাজপুর বোর্ড ২০২৩

## অর্থনীতি দ্বিতীয় পত্র সৃজনশীল প্রশ্ন

সময় : ২ ঘণ্টা ৩০ মিনিট

পূর্ণমান : ৭০

দ্রষ্টব্য : ডান পাশের সংখ্যা প্রশ্নের পূর্ণমান জ্ঞাপক। প্রদত্ত উদ্দীপকগুলো মনোযোগসহকারে পড় এবং সংশ্লিষ্ট প্রশ্নের উত্তর দাও। যেকোনো সাতটি প্রশ্নের উত্তর দিতে হবে।

- ১। মি. জামাল ও কামাল দুই বন্ধু। মি. জামালের জমির পরিমাণ কম এবং উৎপাদিত ফসল দিয়ে কোনোভাবে পরিবারের ভরণ-পোষণ নির্বাহ করেন। অন্যদিকে, মি. কামালের জমির পরিমাণ বেশি। তিনি আধুনিক প্রযুক্তি ব্যবহার করে চাষাবাদ করেন। তিনি পরিবারের প্রয়োজন মিটিয়ে উদ্ধৃত ফসল বাজারে বিক্রি করে মুনাফা অর্জন করেন।
- ক. শস্য বহুমুখীকরণ কী? ১
- খ. কৃষকরা ঋণ গ্রহণ করে কেন? ২
- গ. উদ্দীপকের মি. জামাল ও কামালের কৃষি খামারের পার্থক্যগুলো বর্ণনা কর। ৩
- ঘ. 'মি. জামালের তুলনায় মি. কামালের কৃষি খামার বাংলাদেশের অর্থনীতিতে অধিক গুরুত্বপূর্ণ'— উদ্দীপকের আলোকে মূল্যায়ন কর। ৪

- ২। সাম্প্রতিককালে বাংলাদেশের রপ্তানি বাণিজ্যের গতি প্রকৃতিতে পরিবর্তন সাধিত হয়েছে। অতীতে আমাদের রপ্তানি বাণিজ্যে শুধু পাট, চা, চামড়া প্রভৃতি কতিপয় কৃষিপণ্য নিয়ে গঠিত ছিল। কিন্তু বর্তমানে রপ্তানি বাণিজ্যে এসব দ্রব্যের পাশাপাশি মাছ, তৈরি পোশাক, ফল, ফুল ও হস্তশিল্পজাত দ্রব্যসহ আরও অনেক পণ্য সংযোজিত হচ্ছে। বর্তমান সরকার রপ্তানি আয় বৃদ্ধির লক্ষ্যে রপ্তানি উন্নয়ন তহবিল গঠন, বিদেশে বাণিজ্য অফিস খোলা, রপ্তানি শুল্ক হ্রাসকরণসহ বিভিন্ন পদক্ষেপ গ্রহণ করেছে।
- ক. বৈদেশিক সাহায্য কী? ১
- খ. কীভাবে আন্তর্জাতিক বাণিজ্য আভ্যন্তরীণ বাণিজ্যকে সম্প্রসারণ করে? ২
- গ. উদ্দীপকের আলোকে বাংলাদেশের রপ্তানি পণ্যের শ্রেণিবিভাগ কর। ৩
- ঘ. তুমি কি মনে কর, রপ্তানি বৃদ্ধির জন্য বাংলাদেশ সরকারের গৃহীত পদক্ষেপগুলোই যথেষ্ট? মূল্যায়ন কর। ৪

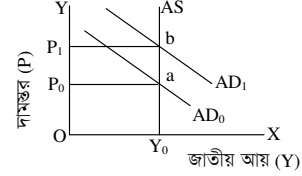
- ৩। একসময় পাট বাংলাদেশের প্রধান অর্থকরী ফসল ছিল। জলবায়ু পরিবর্তন ও বিশ্বব্যাপী পরিবেশ সচেতনতা বৃদ্ধি পাওয়ায় আন্তর্জাতিক বাজারে পাট ও পাটজাত দ্রব্যের প্রতি অগ্রহ ও চাহিদা দিন দিন বৃদ্ধি পাচ্ছে। বর্তমান সরকার এই শিল্পের উন্নতির জন্য আর্থিক অনুদানসহ প্রযুক্তিগত ও বিভিন্ন সেবামূলক সুবিধা প্রদানের লক্ষ্যে "জুট ডাইভারসিফিকেশন প্রমোশন সেন্টার" প্রতিষ্ঠা করেছে।
- ক. PPP-এর পূর্ণরূপ কী? ১
- খ. আমদানি বিকল্প শিল্প কীভাবে দেশীয় শিল্পকে সংরক্ষণ করে? ২
- গ. উদ্দীপকের উল্লিখিত শিল্পটির বর্তমান সমস্যাসমূহ বর্ণনা কর। ৩
- ঘ. তুমি কি মনে কর, সরকারের গৃহীত পদক্ষেপ এই শিল্পের উন্নয়নে গুরুত্বপূর্ণ ভূমিকা রাখবে? বিশ্লেষণ কর। ৪

- ৪।
- 
- ক. অভিবাসন কী? ১
- খ. 'প্রশিক্ষণ ও মানব সম্পদ উন্নয়ন পরস্পর পরিপূরক'— ব্যাখ্যা কর। ২
- গ. উদ্দীপকের সাথে সামঞ্জস্যপূর্ণ জনসংখ্যা তত্ত্বটি ব্যাখ্যা কর। ৩
- ঘ. উদ্দীপকের আলোকে বাংলাদেশের জনসংখ্যার বর্তমান পরিস্থিতি মূল্যায়ন কর। ৪

- ৫। বাংলাদেশের কৃষিপণ্যের বাজারজাতকরণ ব্যবস্থা উন্নত নয়। দারিদ্র্যতা, অনুন্নত পরিবহণ ও যোগাযোগ ব্যবস্থা, গুণমাত্রাজাতকরণ ও সংরক্ষণ সমস্যা এবং দুর্বল বাজার কাঠামোর কারণে কৃষকরা ফসলের ন্যায্যমূল্য থেকে বঞ্চিত হয়। বর্তমান কৃষিবান্ধব সরকার ফসলের ন্যায্যমূল্য নিশ্চিতকরণে অবকাঠামোগত উন্নয়ন, কৃষিবিমা প্রচলন ও কৃষি তথ্য সার্ভিস চালুসহ নানাবিধ পদক্ষেপ গ্রহণ করেছে।
- ক. মার্শরুম কী? ১
- খ. আমিষের অভাব পূরণে হাঁস-মুরগি পালন কীভাবে ভূমিকা রাখে? ২
- গ. উদ্দীপকের আলোকে বাংলাদেশের কৃষিপণ্যের বাজারজাতকরণ সমস্যাসমূহ চিহ্নিত কর। ৩
- ঘ. ফসলের ন্যায্যমূল্য নিশ্চিতকরণে আর কী কী পদক্ষেপ গ্রহণ করা উচিত? মতামত দাও। ৪

- ৬। রিমা ও শিমা নারায়ণগঞ্জে একটি গার্মেন্টস-এ চাকরিত ছিল। 'কোভিড-১৯' মহামারির কারণে তাদের চাকরি চলে যায় এবং গ্রামে ফিরে আসে। তারা উপজেলা যুব উন্নয়ন কর্মকর্তার পরামর্শে স্থানীয় বাজারে 'সেলাইঘর' নামে একটি টেইলারিং এর দোকান দেন। প্রথম মাসে তাদের নিট মুনাফা হয় বিশ হাজার টাকা।
- ক. জনসংখ্যার ঘনত্ব কী? ১
- খ. স্থূল জন্মহার কীভাবে পরিমাপ করা হয়? ২
- গ. উদ্দীপকে রিমা ও শিমা-এর উদ্যোগটির প্রকৃতি বর্ণনা কর। ৩
- ঘ. বাংলাদেশের আর্থসামাজিক প্রেক্ষাপটে 'সেলাইঘর'— এর যথার্থতা মূল্যায়ন কর। ৪

৭।



- ক. সূচক সংখ্যা কী? ১
- খ. মুদ্রাস্ফীতির ফলে ঋণদাতা ক্ষতিগ্রস্ত হয় কেন? ২
- গ. উদ্দীপকে কোন ধরনের মুদ্রাস্ফীতি নির্দেশিত হয়েছে? ব্যাখ্যা কর। ৩
- ঘ. উদ্দীপকে নির্দেশিত মুদ্রাস্ফীতির নিয়ন্ত্রণের উপায় বর্ণনা কর। ৪
- ৮। রাজিব শীতের ছুটিতে নানাবাড়ি বেড়াতে গেল। সেখানে সে লক্ষ করল নাজমা বেগম ও তার দুই মেয়ে বাড়িতে বাঁশ ও বেত দিয়ে বিভিন্ন দ্রব্য তৈরি করেন। তাদের উৎপাদিত দ্রব্যসামগ্রী শহরের বিভিন্ন দোকানে বিক্রি করেন। এতে নাজমা বেগমের পরিবারের আয় ও স্বচ্ছলতা বাড়ছে। স্বল্প পুঁজি, স্থানীয় কাঁচামাল ও কোনো প্রাতিষ্ঠানিক প্রশিক্ষণ না লাগার কারণে গ্রামের অনেক মহিলা এ কাজে এগিয়ে আসছে। এ ধরনের কর্মকাণ্ড নারীর কর্মসংস্থান সৃষ্টি ও অর্থনৈতিক উন্নয়নে বিশেষ ভূমিকা রাখছে।
- ক. শিল্প কী? ১
- খ. 'পাট শিল্পের ভবিষ্যত সম্ভাবনা উজ্জ্বল'— বুঝিয়ে বল। ২
- গ. উদ্দীপকে নাজমা বেগমের কার্যক্রমের সাথে সম্পর্কিত শিল্পের বর্ণনা দাও। ৩
- ঘ. উদ্দীপকে নির্দেশিত শিল্প দেশের অর্থনৈতিক উন্নয়নে কী ভূমিকা রাখছে? ব্যাখ্যা কর। ৪

- ৯। 'B' দেশের সরকারের আয়ের উৎসসমূহ :

বিবরণ	২০১৮-১৯ (কোটি টাকায়)
মূল্য সংযোজন কর	১,১০,৫৫৫
সম্পূরক শুল্ক	৩২,৫৫৩
ভূমি রাজস্ব	১,৪০০
টোল ও লেভি	৬৫৭
যানবাহন কর	১,৪২৯

'B' দেশের সরকার জাতীয় আয় বৃদ্ধির জন্য প্রতিবছর (১-৩০) নভেম্বর 'জাতীয় আয়কর মেলা' আয়োজন করে।

- ক. পরোক্ষ কর কী? ১
- খ. আয়করকে প্রত্যক্ষ কর বলা হয় কেন? ২
- গ. উদ্দীপক হতে সরকারের কর রাজস্ব ও কর বহির্ভূত রাজস্বের পরিমাণ নির্ণয় কর। ৩
- ঘ. উদ্দীপকের আলোকে সরকারের আয়ের প্রধান উৎসগুলোর তুলনামূলক আলোচনা কর। ৪
- ১০। দেশের অর্থনৈতিক কর্মকাণ্ডে অনুকূল পরিবেশ সৃষ্টির মাধ্যমে কর্মসংস্থান সৃষ্টি, দারিদ্র্য বিমোচন, মানবসম্পদ উন্নয়ন ও অবকাঠামো নির্মাণসহ বিভিন্ন কাজে সরকার প্রতিবছর বিপুল অর্থ ব্যয় করে। সরকারের ব্যয়ের মূল লক্ষ্যই হলো জনকল্যাণ।
- ক. 'ফি' কী? ১
- খ. VAT কে পরোক্ষ কর বলা হয় কেন? ২
- গ. উদ্দীপকের আলোকে বাংলাদেশ সরকারের ব্যয়ের খাতগুলো বর্ণনা কর। ৩
- ঘ. "সরকারের ব্যয়ের মূল লক্ষ্যই হলো জনকল্যাণ"— উদ্দীপকের আলোকে এর যথার্থতা মূল্যায়ন কর। ৪
- ১১। 'X' দেশের ২০২১ ও ২০২২ সালের বিভিন্ন ভোগ্যপণ্যের দাম এবং পরিমাণ নিম্নরূপ :

ভোগ্য দ্রব্য	পরিমাণ (কেজি)	২০২১	২০২২
		দাম (টাকায়)	দাম (টাকায়)
চাল	২০	৫০	৬০
গম	১৫	৪০	৫০
চিনি	১০	৬০	৮০

দেশটির সরকার দ্রব্যমূল্য স্থিতিশীল রাখতে প্রত্যক্ষ করের হার ও ব্যাংক হার বৃদ্ধি এবং অর্থের যোগান-হ্রাস করে।

- ক. ব্যাংক হার কী? ১
- খ. সীমিত আয়ের লোকের ওপর মুদ্রাস্ফীতির প্রভাব কীরূপ? ২
- গ. উদ্দীপকের আলোকে 'X' দেশের মুদ্রাস্ফীতির হার নির্ণয় কর। ৩
- ঘ. মুদ্রাস্ফীতি নিয়ন্ত্রণে সরকার গৃহীত পদক্ষেপগুলো যথেষ্ট কি? তোমার মতামত দাও। ৪

## ময়মনসিংহ বোর্ড ২০২৩

সময় : ২ ঘণ্টা ৩০ মিনিট

### অর্থনীতি দ্বিতীয় পত্র ● সৃজনশীল প্রশ্ন

পূর্ণমান : ৭০

দ্রষ্টব্য : ডান পাশের সংখ্যা প্রশ্নের পূর্ণমান জ্ঞাপক। প্রদত্ত উদ্দীপকগুলো মনোযোগসহকারে পড় এবং সংশ্লিষ্ট প্রশ্নের উত্তর দাও। যেকোনো সাতটি প্রশ্নের উত্তর দিতে হবে।

- ১। মি. সাজিদ একজন স্বল্পশিক্ষিত কৃষক। তিনি আর্থিকভাবে খুব একটা স্বচ্ছল নন। তিনি তার নিজস্ব জমিতে চাষাবাদ করেন। পরিবহণ ও ঋণের অভাব, অনুন্নত যোগাযোগ ব্যবস্থা, গুদামজাতকরণের সমস্যা ইত্যাদি কারণে তিনি তার জমিতে উৎপাদিত ফসল স্থানীয় বাজারে বিক্রি করেন। এতে তার সংসারে অভাব অনটন লেগেই আছে। সরকার কৃষকদের এসব সমস্যা নিরসনে অবকাঠামোগত উন্নয়ন, কৃষিবিমা প্রচলন, ভর্তুকি প্রদান ইত্যাদি বিভিন্ন ধরনের পদক্ষেপ গ্রহণ করেছে।

- ক. জীবন নির্বাহ খামার কী? ১  
খ. 'কৃষি জাতীয় উন্নয়নে সহায়ক'— ব্যাখ্যা কর। ২  
গ. উদ্দীপকের আলোকের মি. সাজিদ-এর উৎপাদিত পণ্য বিপণনের সমস্যাগুলো ব্যাখ্যা কর। ৩  
ঘ. উৎপাদিত কৃষিপণ্য বিপণনে সরকারের গৃহীত পদক্ষেপগুলো কি পর্যাপ্ত? উত্তরের যথার্থতা ব্যাখ্যা কর। ৪

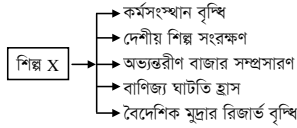
- ২। 'X' দেশে ২০২০-২১ অর্থ বছরে কৃষির উপখাতগুলোর অবদান নিম্নরূপ :

কৃষির উপখাত	শস্য ও শাকসবজি	পশুসম্পদ	বনজ সম্পদ	মৎস্য সম্পদ
অবদানের শতকরা হার	১২	৪	৩	৫

জনাব রায়হান একজন কৃষি কর্মকর্তা। তার মতে, 'X' দেশে কৃষি উন্নয়নের জন্য কৃষি খাতে আইসিটি ব্যবহারের প্রয়োজন রয়েছে।

- ক. শস্য বহুমুখীকরণ কী? ১  
খ. কৃষকরা কেন ঋণ গ্রহণ করে? ২  
গ. উদ্দীপকের আলোকে একটি দৃষ্টান্ত অঙ্কন কর। ৩  
ঘ. উদ্দীপকের আলোকে জনাব রায়হানের মতামতের যথার্থতা বিশ্লেষণ কর। ৪

৩।

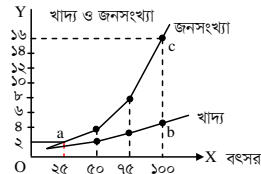


- ক. মাইক্রো শিল্প কী? ১  
খ. ফার্ম ও শিল্পের মধ্যে পার্থক্য লেখ। ২  
গ. উদ্দীপকে উল্লিখিত 'X' শিল্পটি কোন ধরনের? ব্যাখ্যা কর। ৩  
ঘ. উদ্দীপকের বর্ণিত শিল্পটির সমস্যাসমূহ বাংলাদেশের পরিপ্রেক্ষিতে আলোচনা কর। ৪

- ৪। মি. আজাদ একটি শিল্প প্রতিষ্ঠান পরিচালনা করেন। তার শিল্পে প্রায় ৮০% শ্রমিকই নারী। তার শিল্পের উৎপাদন আমাদের দেশের বৈদেশিক মুদ্রা অর্জনে কম-বেশি অবদান রাখছে। তবে শিল্পটির সমস্যাগুলো হলো কাঁচামাল ও দক্ষ শ্রমিকের অভাব, বিদ্যুৎ সরবরাহে অনিশ্চয়তা, শ্রমিক অসন্তোষ, ব্র্যান্ডিং সমস্যা ইত্যাদি।

- ক. PPP কী? ১  
খ. অর্থনৈতিক উন্নয়নে শিল্পায়ন প্রয়োজনীয় কেন? ২  
গ. উদ্দীপকে উল্লিখিত মি. আজাদের শিল্প এদেশের অর্থনৈতিক উন্নয়নে কী ধরনের ভূমিকা পালন করে? ব্যাখ্যা কর। ৩  
ঘ. উদ্দীপকে উল্লিখিত সমস্যার সমাধানে কোন ধরনের পদক্ষেপ গ্রহণ করা যাবে? বিশ্লেষণ কর। ৪

৫।



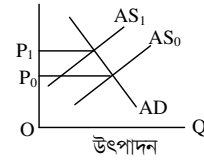
- ক. স্থূল জন্মহার কী? ১  
খ. জনসংখ্যার ঘনত্ব নির্ণয়ের সূত্র লেখ। ২  
গ. উদ্দীপকে উল্লিখিত 'ab' এবং 'ac' রেখা দ্বারা গণিতের কোন ধরনের হার নির্দেশিত হয়? ব্যাখ্যা কর। ৩  
ঘ. উদ্দীপকে উল্লিখিত তত্ত্বটি বাংলাদেশে কতটুকু প্রাসঙ্গিক? বিশ্লেষণ কর। ৪

- ৬। মি. ক্যাথুই কৃষি বিশ্ববিদ্যালয় হতে এমএসসি পাশ করার পর তার নিজ গ্রামে একটি আসবাবপত্র তৈরির কারখানা গড়ে তোলেন। স্থানীয় পাহাড়ি কাঠ ব্যবহার করে উৎপাদিত তার আসবাবপত্রগুলোর শহরে যথেষ্ট চাহিদা রয়েছে। তার নিকট আত্মীয়রাই তার কারখানার শ্রমিক হিসেবে কাজ করে। মি. ক্যাথুই নিজ যোগ্যতার একজন সফল উদ্যোক্তা হতে চান।

- ক. বেকারত্ব কী? ১  
খ. 'শিক্ষা ও প্রশিক্ষণ মানবসম্পদ উন্নয়নে সহায়ক'— ব্যাখ্যা কর। ২  
গ. উদ্দীপকে মি. ক্যাথুই-এর কর্মসংস্থানের কোন প্রসঙ্গটি উপস্থাপিত হয়েছে? ব্যাখ্যা কর। ৩  
ঘ. বাংলাদেশের পরিপ্রেক্ষিতে মি. ক্যাথুই-এর গৃহীত পদক্ষেপের গুরুত্ব বিশ্লেষণ কর। ৪

৭।

P (দামস্তর)



- ক. মুদ্রাস্ফীতি কী? ১  
খ. মুদ্রাস্ফীতির হার নির্ণয়ের সূত্রটি লেখ। ২  
গ. উদ্দীপকের কোন ধরনের মুদ্রাস্ফীতি উপস্থাপিত হয়েছে? ব্যাখ্যা কর। ৩  
ঘ. উদ্দীপকে নির্দেশিত মুদ্রাস্ফীতির ফলে কর্মসংস্থান ও বিনিয়োগের ওপর কী প্রভাব পড়বে? বিশ্লেষণ কর। ৪

- ৮। জনাব সাজু একজন খুচরা বিক্রেতা। তিনি পাবনা থেকে লুঙ্গি ক্রয় করেন এবং তা ঢাকার বাজারে বিক্রয় করেন। অন্যদিকে, তার ভাই জনাব রাজু সৌদি আরব থেকে খেজুর কিনে তা ঢাকার বাজারে বিক্রয় করেন।

- ক. আমদানি কী? ১  
খ. কাঁচা পাটকে কেন বাংলাদেশের প্রচলিত রপ্তানি পণ্য বলা হয়? ২  
গ. উদ্দীপকে উল্লিখিত জনাব রাজুর ব্যবসায়কে কোন ধরনের বাণিজ্য বলা যায়? ব্যাখ্যা কর। ৩  
ঘ. উদ্দীপকের আলোকে সাজু ও রাজুর বাণিজ্যের চারটি পার্থক্য বিশ্লেষণ কর। ৪

- ৯। বর্তমান বিশ্বের শ্রম বাজার, শ্রমিক সম্পর্ক ও শ্রম স্থানান্তর দ্রুত পরিবর্তনশীল। দেশে দেশে সম্পদের ব্যবহার ও নিয়ন্ত্রণ, মানবাধিকার, গণতন্ত্র, সংস্কৃতি, ঐতিহ্য, লিঙ্গ সম্পর্ক ইত্যাদির ক্ষেত্রেও এসেছে পরিবর্তনের ঢেউ।

- ক. অভ্যন্তরীণ বাণিজ্য কী? ১  
খ. আন্তর্জাতিক বাণিজ্য কেন সংঘটিত হয়? ২  
গ. উদ্দীপকে উল্লিখিত পরিস্থিতি দ্বারা আন্তর্জাতিকীকরণের কোন প্রক্রিয়াকে নির্দেশ করা হয়েছে? ব্যাখ্যা কর। ৩  
ঘ. উদ্দীপকে উল্লিখিত পরিস্থিতি বাংলাদেশের মতো উন্নয়নশীল দেশগুলোকে কীভাবে প্রভাবিত করে? বিশ্লেষণ কর। ৪

- ১০। একটি দেশের উন্নয়ন প্রকল্পের প্রয়োজনীয় ব্যয় নির্বাহের জন্য প্রচুর অর্থের প্রয়োজন হয়। এ উদ্দেশ্যে সরকার দেশীয় আর্থিক ও অ-আর্থিক প্রতিষ্ঠানের পাশাপাশি বিদেশি সংস্থা, আন্তর্জাতিক আর্থিক প্রতিষ্ঠান হতে ঋণ নিয়ে থাকে। অর্থনীতিবিদগণের মতে, এ ধরনের আর্থিক সংস্থান ভারহীন নয়।

- ক. কর কী? ১  
খ. আয়করকে প্রত্যক্ষ কর বলা হয় কেন? ২  
গ. উদ্দীপকে উল্লিখিত আর্থিক সংস্থানের উৎসগুলো চিহ্নিত কর। ৩  
ঘ. উদ্দীপকে উল্লিখিত অর্থ সংস্থানের বিভিন্ন উৎসের তুলনামূলক সুবিধা বিশ্লেষণ কর। ৪

- ১১। একটি দেশের ২০২০ ও ২০২২ সালের ভোগ্যপণ্যের পরিমাণ ও দাম নিম্নরূপ :

ভোগ্য পণ্য	২০২০ সালের পরিমাণ	২০২০ সালের মূল্য	২০২২ সালের পরিমাণ	২০২২ সালের মূল্য
A	100	60	70	70
B	5	140	180	180
C	10	80	100	100
D	5	15	25	25

পরিস্থিতি নিয়ন্ত্রণে দেশটির সরকার আর্থিক নীতির আওতায় বিভিন্ন পদক্ষেপ গ্রহণ করেছে।

- ক. সূচক সংখ্যা কী? ১  
খ. 'মুদ্রাস্ফীতি সবসময় খারাপ নয়'— ব্যাখ্যা কর। ২  
গ. উদ্দীপকের আলোকে ভোক্তার মূল্য সূচক (CPI) নির্ণয় কর। ৩  
ঘ. উদ্দীপকের আলোকে সরকার কর্তৃক গৃহীত পদক্ষেপসমূহ বিশ্লেষণ কর। ৪

## ঢাকা বোর্ড ২০২২

## অর্থনীতি দ্বিতীয় পত্র সৃজনশীল প্রশ্ন

সময় : ২ ঘণ্টা ৩০ মিনিট

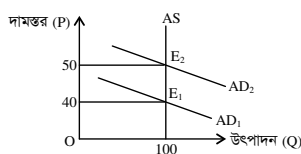
পূর্ণমান : ৭০

**দ্রষ্টব্য :** ডান পাশের সংখ্যা প্রশ্নের পূর্ণমান জ্ঞাপক। নিচের উদ্দীপকগুলো পড় এবং সংশ্লিষ্ট প্রশ্নগুলোর উত্তর দাও। যেকোনো সাতটি প্রশ্নের উত্তর দাও।

- ১। অধ্যাপক জামাল আহমেদ অর্থনৈতিক এক সেমিনারে “বাংলাদেশের কৃষিতে জলবায়ুর পরিবর্তনজনিত প্রভাব” শীর্ষক এক আলোচনায় বলেন, জলবায়ু পরিবর্তনের সাথে সাথে পৃথিবীর তাপমাত্রা বৃদ্ধি পাচ্ছে। ফলে মেরু অঞ্চলের বরফ গলে সমুদ্রের উচ্চতা বৃদ্ধি পাচ্ছে। কৃষিনির্ভর বাংলাদেশের মতো উন্নয়নশীল দেশে এর বিরূপ প্রভাব বেশি পড়ছে। উক্ত সেমিনারে জলবায়ু পরিবর্তন মোকাবিলায় সামাজিক বনায়ন, পরিবেশবান্ধব শিল্পকারখানা স্থাপনসহ বিভিন্ন ব্যবস্থা গ্রহণের সুপারিশ করা হয়।
- ক. কৃষিজ্যোত কী? ১
- খ. শস্য বহুমুখীকরণ কি খাদ্য ঘাটতিপূরণ করে? ব্যাখ্যা কর। ২
- গ. তাপমাত্রা বৃদ্ধি বাংলাদেশের কৃষি উৎপাদনকে বাধাগ্রস্ত করছে? ব্যাখ্যা কর। ৩
- ঘ. উদ্দীপকের আলোকে জলবায়ু পরিবর্তনের প্রভাব মোকাবিলায় উপায়সমূহ বিশ্লেষণ কর। ৪
- ২। রায়হান সাহেব বাংলাদেশে বসবাস করেন। দেশটিতে বাণিজ্য ঘাটতি বিদ্যমান। এ পরিস্থিতি মোকাবিলায় লক্ষ্যে সরকার একটি বিশেষ শিল্প প্রতিষ্ঠার সিদ্ধান্ত নেয়, যা নারীদের কর্মসংস্থান বৃদ্ধি, বৈদেশিক মুদ্রা সাশ্রয়সহ দেশীয় শিল্পের বিকাশে গুরুত্বপূর্ণ অবদান রাখবে।
- ক. হাই-টেক শিল্প কী? ১
- খ. স্বনির্ভরতা অর্জনে শিল্পায়ন জরুরি কেন? ২
- গ. উদ্দীপকে কোন শিল্প প্রতিষ্ঠার কথা বলা হয়েছে? ব্যাখ্যা কর। ৩
- ঘ. দেশীয় শিল্পের বিকাশে উদ্দীপকে বর্ণিত শিল্পের ভূমিকা বিশ্লেষণ কর। ৪
- ৩। জনাব মাহবুব স্যার শ্রেণিকক্ষে শিক্ষার্থীদের উদ্দেশ্যে বলেন, জনসংখ্যা সম্পর্কে অনেক তত্ত্ব প্রচলিত রয়েছে। তার মধ্যে একটি তত্ত্বে বলা হয়েছে, জনসংখ্যা বৃদ্ধি পায় ১, ২, ৪, ৮, ১৬ ... হারে এবং খাদ্যোৎপাদন বৃদ্ধি পায় ১, ২, ৩, ৪, ৫, ... হারে। অপর তত্ত্বে দেশে জনসংখ্যার এমন একটি স্তর নির্দেশ করা হয়, যেখানে সর্বোচ্চ মাথাপিছু আয় অর্জিত হয়।
- ক. নিট অভিবাসন কী? ১
- খ. প্রশিক্ষণ কীভাবে মানবসম্পদ উন্নয়ন করে? ২
- গ. উদ্দীপকের আলোকে প্রথমে জনসংখ্যার যে তত্ত্বটি উল্লেখ করা হয়েছে তা ব্যাখ্যা কর। ৩
- ঘ. উদ্দীপকে উল্লিখিত জনসংখ্যার তত্ত্ব দুটির মধ্যে বাংলাদেশের প্রেক্ষাপটে কোন তত্ত্বটিকে তুমি অধিকতর কার্যকর বলে মনে কর? বিশ্লেষণ কর। ৪
- ৪। মিজান একজন স্বল্প আয়ের মানুষ। তিনি বাজারে গিয়ে লক্ষ করলেন, দিন দিন চাল, ডাল, তেল, চিনিসহ নিত্যপ্রয়োজনীয় পণ্যের দাম ক্রমাগত বৃদ্ধি পাচ্ছে। পণ্যের দাম নিয়ন্ত্রণের জন্য ইতোমধ্যে সরকার পণ্যের ন্যূনতম দাম নির্ধারণ, উৎপাদকদের তত্ত্বিক প্রদান, ন্যায্যমূল্যে খোলাবাজারে পণ্য বিক্রির ব্যবস্থা গ্রহণ করেছে।
- ক. সূচক সংখ্যা কী? ১
- খ. অর্থ সরবরাহ বৃদ্ধি মুদ্রাস্ফীতির মূল কারণ— ব্যাখ্যা কর। ২
- গ. উদ্দীপকে পণ্যের দামবৃদ্ধি অর্থনীতির যে বিষয়টিকে ইঙ্গিত করে তা ব্যাখ্যা কর। ৩
- ঘ. বাজারে পণ্যের দাম স্বাভাবিক রাখতে উদ্দীপকে গৃহীত সরকারি পদক্ষেপসমূহ কি যথেষ্ট? উত্তরের সপক্ষে যুক্তি দাও। ৪
- ৫। বাংলাদেশের রপ্তানি ও আমদানি পরিস্থিতি :

রপ্তানি আয় (মিলিয়ন মার্কিন ডলার)	আমদানি (মিলিয়ন মার্কিন ডলার)
১০১০-১১	২০১১-১২
২২,৯২৪	২৪,৩০২
	২০১০-১১
	৩৩,৬৫৮
	২০১১-১২
	৩৫,৫১৬

- ক. অভ্যন্তরীণ বাণিজ্য কী? ১
- খ. আন্তর্জাতিক বাণিজ্য সংঘটিত হওয়ার দুটি কারণ ব্যাখ্যা কর। ২
- গ. উদ্দীপকের তথ্য অনুযায়ী বাংলাদেশের আন্তর্জাতিক বাণিজ্যের গতি-প্রকৃতি বিশ্লেষণ কর। ৩
- ঘ. উদ্দীপকে ২০১১-১২ অর্থবছরে রপ্তানি ও আমদানি বৃদ্ধি বাংলাদেশের অর্থনৈতিক উন্নয়নে অবদান রাখছে কিনা তা বিশ্লেষণ কর। ৪
- ৬। নিচের চিত্রটি লক্ষ কর এবং সংশ্লিষ্ট প্রশ্নের উত্তর দাও :



- ক. CPI-এর পূর্ণরূপ কী? ১
- খ. “অতিরিক্ত সরকারি ব্যয় মুদ্রাস্ফীতি ঘটায়”— ব্যাখ্যা কর। ২
- গ. চিত্রে E<sub>1</sub> থেকে E<sub>2</sub> তে মুদ্রাস্ফীতির পরিমাণ নির্ণয় কর। ৩
- ঘ. উদ্দীপকে সৃষ্ট মুদ্রাস্ফীতি নিয়ন্ত্রণে সরকার কী ধরনের ভূমিকা গ্রহণ করবে? আলোচনা কর। ৪
- ৭। করিম মিয়া একজন দরিদ্র কৃষক। পাঁচজনের অভাবের সংসারে উত্তরাধিকার সূত্রে প্রাপ্ত সামান্য জমি ছাড়া তার কোনো সম্পদ নেই। তাই কৃষিকাজ করার সময় ধানের বীজ, কীটনাশক ও সার ক্রয়ের জন্য স্থানীয় মহাজন, ধনী ব্যবসায়ী ও আত্মীয়স্বজনের কাছ থেকে উচ্চ হারে সুদে টাকা ধার নিতে হয়।
- ক. কৃষি কী? ১
- খ. “বৈশ্বিক উষ্ণতা বৃদ্ধি কৃষির ওপর নেতিবাচক প্রভাব ফেলে”— ব্যাখ্যা কর। ২
- গ. উদ্দীপকের আলোকে করিম মিয়ার ঋণগ্রহণের অপ্রতিষ্ঠানিক উৎসসমূহ বর্ণনা কর। ৩
- ঘ. তুমি কি মনে কর উদ্দীপকে উল্লিখিত উৎসসমূহ কৃষিঋণের জন্য পর্যাপ্ত বিশ্লেষণ কর। ৪
- ৮। ‘ক’ একটি উন্নয়নশীল দেশ। ‘ক’ দেশের আয়তন ১,৪৭,৫৭০ বর্গ কি. মি. এবং জনসংখ্যার কাঠামো নিম্নরূপ :

২০১৫ সালের মধ্যবর্তী সময়ের জনসংখ্যা	২০১৫ সালের মোট জীবিত জনসংখ্যা	২০১৫ সালে মোট মৃত জনসংখ্যা
১৫,০০,০০,০০০	৫০,০০,০০০	২০,০০,০০০

- ক. কাম্য জনসংখ্যা কী? ১
- খ. “অধিক জনসংখ্যা বাংলাদেশের প্রধান সমস্যা”—কেন? ২
- গ. উদ্দীপক থেকে স্থূল জন্মহার ও স্থূল মৃত্যুহার নির্ণয় কর। ৩
- ঘ. উদ্দীপকের আলোকে ‘ক’ দেশের জনসংখ্যার ঘনত্ব নির্ণয় সাপেক্ষে দেশটি জনবহুল হলে তার সমাধানের উপায় বর্ণনা কর। ৪
- ৯। ‘Z’ শিল্পটি দেশে কর্মসংস্থান ও বৈদেশিক মুদ্রা অর্জনকারী শিল্প হিসেবে সর্বাধিক গুরুত্ব বহন করছে। শুল্ক বাধা, বিদ্যুৎ সরবরাহে অনিশ্চয়তা, আর্থিক ঋণ সুবিধা অনুপস্থিতিসহ নানাবিধ সমস্যা এ শিল্পের উন্নয়নে বাধার সৃষ্টি করছে। তথাপি সরকারের গৃহীত বিভিন্ন পদক্ষেপ এ শিল্পের ভবিষ্যৎ সম্ভাবনাকে উজ্জ্বল করেছে।
- ক. শিল্প কী? ১
- খ. “ক্ষুদ্র ও কুটির শিল্প দেশে সুখম উন্নয়ন ঘটায়”— ব্যাখ্যা কর। ২
- গ. উদ্দীপকে বর্ণিত ‘Z’ শিল্পটির সমস্যা সমাধানের উপায়সমূহ ব্যাখ্যা কর। ৩
- ঘ. “বাংলাদেশে ‘Z’ শিল্প এক উজ্জ্বল সম্ভাবনাময় শিল্প”—বিশ্লেষণ কর। ৪
- ১০। মারুফ দীর্ঘদিন যাবত জাপানে অবস্থান করছেন। সাম্প্রতিক সময়ে তিনি দেশে এসেছেন। গ্রামে এসে তিনি একটি বিষয় লক্ষ করলেন, গ্রামের অবস্থা আর পূর্বের মতো নেই। গ্রামে বিদ্যুৎ এসেছে, রঙিন টিভি ও ডিশ লাইন এসেছে। মানুষ চায়ের দোকানে বসে চা পানের সাথে সাথে টিভির বিভিন্ন চ্যানেলের সংবাদে পাশাপাশি বিভিন্ন দেশের আচার-অনুষ্ঠান দেখার সুযোগ পাচ্ছে। ইন্টারনেটের মাধ্যমে দেশের বাইরে থাকা আত্মীয়স্বজনের সাথে যোগাযোগ স্থাপন ও ছোটখাটো ব্যবসা পরিচালনা করছে। এতে মারুফ আনন্দিত ও আশান্বিত।
- ক. বৈদেশিক সাহায্য কী? ১
- খ. কেন অধিক রপ্তানিমুখী শিল্প স্থাপন করা প্রয়োজন? ২
- গ. “সাম্প্রতিক সময়ে সমাজের এই পরিবর্তনকে অর্থনীতির পরিভাষায় কী নামে চিহ্নিত করা যায়?” তা ব্যাখ্যা কর। ৩
- ঘ. উদ্দীপকের আলোকে এদেশের অর্থনীতিতে বিষয়টির প্রভাব বিশ্লেষণ কর। ৪
- ১১। বর্তমান সময়ে দেশে শিক্ষা, স্বাস্থ্য, কর্মসংস্থান, পরিবহণ ও যোগাযোগ বাবদ ব্যয় এবং দুস্থ ও বয়স্ক ভাতাসহ অন্যান্য ভাতা বৃদ্ধির কারণে সরকারের সামগ্রিক ব্যয় উত্তরোত্তর বৃদ্ধি পাচ্ছে। ফলে এসব ব্যয় নির্বাহের জন্য সরকার একদিকে যেমন দেশের অভ্যন্তরে ব্যক্তিবর্গ, বাণিজ্যিক ব্যাংক, কেন্দ্রীয় ব্যাংক থেকে ঋণ গ্রহণ করছে, অন্যদিকে বিদেশি বিভিন্ন সংস্থা ও রাষ্ট্রে থেকেও ঋণ গ্রহণ করছে।
- ক. আবগারি শুল্ক কী? ১
- খ. “প্রত্যক্ষ কর ফাঁকি দেওয়ার প্রবণতা বেশি”—ব্যাখ্যা কর। ২
- গ. উদ্দীপকের আলোকে সরকারি ব্যয়ের উদ্দেশ্য ব্যাখ্যা কর। ৩
- ঘ. সরকারি ঋণের উৎস দুটির মধ্যে কোনটি দেশের জন্য মঙ্গলজনক— উদ্দীপকের আলোকে মূল্যায়ন কর। ৪

## রাজশাহী বোর্ড ২০২২

সময় : ২ ঘণ্টা ৩০ মিনিট

### অর্থনীতি দ্বিতীয় পত্র সৃজনশীল প্রশ্ন

পূর্ণমান : ৭০

**দ্রষ্টব্য :** ডান পাশের সংখ্যা প্রশ্নের পূর্ণমান জ্ঞাপক। নিচের উদ্দীপকগুলো পড় এবং সংশ্লিষ্ট প্রশ্নগুলোর উত্তর দাও। যেকোনো সাতটি প্রশ্নের উত্তর দাও।

- ১। পূর্বা তার বাবার সাথে ট্রেনযোগে খুলনা থেকে ঢাকা যাওয়ার সময় পদ্মা নদীর পাড়ে রূপপুর নামক স্থানে বিস্তৃত এলাকাজুড়ে বিরাট কর্মযজ্ঞ দেখতে পায়। সেই সাথে সারি সারি সু-উচ্চ বিল্ডিং ও বিদেশিদের আনাগোনা দেখতে পায়। পূর্বা বাবার কাছে এ সম্পর্কে জানতে চায়। তার বাবা তাকে বলে যে, এটা হচ্ছে পাবনার রূপপুর। এখানে বাংলাদেশের একমাত্র পারমাণবিক বিদ্যুৎ কেন্দ্র তৈরি হচ্ছে। বিদ্যুতের পাশাপাশি পারমাণবিক শক্তিকে কৃষি উৎপাদনে, চিকিৎসা ক্ষেত্রে, খাদ্য নিরাপত্তাসহ নানাবিধ কাজে ব্যবহার করা যাবে।

- ক. কৃষিতে ভূত্বিক কী? ১  
খ. পরিবেশ দূষণ কেন হয়? ২  
গ. উদ্দীপকে বিদ্যুৎ উৎপাদনে কোন বিষয়টি উল্লেখ আছে? ব্যাখ্যা কর। ৩  
ঘ. উদ্দীপকের শেষোক্ত মন্তব্যের সাথে তুমি কি একমত? বাংলাদেশের কৃষি, চিকিৎসা, বিদ্যুৎ ইত্যাদি খাতে পরমাণু শক্তির সম্ভাব্য ব্যবহার সম্পর্কে আলোচনাপূর্বক বিশ্লেষণ কর। ৪

- ২। মি. A দীর্ঘদিন বিদেশে থেকে নিজ দেশ বেড়াতে এসে দেখেন, দেশের বিভিন্ন শহরে কারিগরের তৈরি দেশীয় পণ্যের নানাবিধ দেশীয় দ্রব্য বিক্রি হচ্ছে। পণ্যগুলো দামে সস্তা ও আকর্ষণীয় হলেও এর উৎপাদনকারীরা ন্যায্যমূল্য পায় না। তারা গরিব বিধায় ঋণসহ অন্যান্য সুযোগ-সুবিধা থেকে বঞ্চিত। শিল্পটি মি. A এর দেশের অতীত ঐতিহ্যের ধারক ও বাহকও বটে।

- ক. কুটির শিল্প কী? ১  
খ. চিংড়িকে 'White Gold' বলা হয় কেন? ২  
গ. উদ্দীপকের আলোকে শিল্পটির গুরুত্বপূর্ণ সমস্যাগুলো ব্যাখ্যা কর। ৩  
ঘ. উদ্দীপকের আলোকে শিল্পটির সমস্যা সমাধানে তোমার মতামত প্রদান কর। ৪

- ৩। প্রদীপদের সংসারে মোট ৭ জন সদস্য। অভাবের সংসার। প্রদীপ ও তার মা কোনো একটি গ্রামের N.G.O থেকে ঋণ নিয়ে হস্তচালিত তাঁতের লুঙ্গি, শাড়ি, গামছা তৈরি করেন। এ কাজে তাদের দাদা-দাদিরাও সাহায্য করেন। কিন্তু হস্তচালিত হওয়ায় তাদের উৎপাদন কম ও সময়সাপেক্ষ। তাই প্রদীপ আরও কিছু ঋণ নিয়ে কয়েকটি মেশিন কিনে শাড়ি, লুঙ্গি, গামছার পাশাপাশি কিছু হোসিয়ারি দ্রব্য তৈরি করে। ফলে তার আয় যেমন বাড়ে, সবার কর্মসংস্থানের সুযোগ সৃষ্টি হয়, দারিদ্র্য কমে তেমনি দেশেরও উন্নতি হয়।

- ক. মাঝারি শিল্প কাকে বলে? ১  
খ. ক্ষুদ্র ও কুটিরশিল্পের মধ্যে পার্থক্য কী? ২  
গ. প্রদীপদের শিল্প কী ধরনের শিল্প? ব্যাখ্যা কর। ৩  
ঘ. উদ্দীপকের আলোকে উল্লিখিত শিল্পের গুরুত্ব ব্যাখ্যা কর। ৪

- ৪। মি. রহমান একটি গার্মেন্টস শিল্প পরিচালনা করেন। এ শিল্পটি বাংলাদেশে খুব দ্রুত বিকশিত হচ্ছে। এ শিল্পের উৎপাদিত দ্রব্য দেশের চাহিদা মিটিয়ে বিদেশেও রপ্তানি করে। বর্তমানে এ শিল্পে ৫০ লক্ষের মতো শ্রমিক কাজ করে। মোট রপ্তানি আয়ের সিংহভাগ এ শিল্প হতে আসে। বিশ্ব বাজারে বাংলাদেশের এ শিল্পের খুব সুনাম রয়েছে।

- ক. শিল্প কাকে বলে? ১  
খ. শিল্প সংরক্ষণ বলতে কী বোঝায়? ২  
গ. উদ্দীপকে উল্লিখিত শিল্পটি কী ধরনের শিল্প—ব্যাখ্যা কর। ৩  
ঘ. উদ্দীপকে উল্লিখিত শিল্পটি বাংলাদেশে কর্মসংস্থানের পাশাপাশি বৈদেশিক মুদ্রা অর্জনের গুরুত্বপূর্ণ খাত—ব্যাখ্যা কর। ৪

- ৫। একদিন অর্থনীতির এক ক্লাসে শিক্ষক বললেন, বাংলাদেশের আয়তনের তুলনায় জনসংখ্যা বেশি, মাথাপিছু আয় কম, জীবনযাত্রার মান নিম্ন হওয়ায় বাংলাদেশকে অধিক জনসংখ্যার দেশ বলা হয়। তিনি বলেন, যদি আমরা আমাদের জনসংখ্যাকে জনসম্পদে পরিণত করতে পারি, সম্পদের সুষ্ঠু ব্যবহার করতে পারি, মাথাপিছু আয় বাড়াতে পারি, শান্তিতে বসবাস করতে পারব— তাহলে বাংলাদেশকেও কাম্য জনসংখ্যার দেশ বলা যাবে।

- ক. জনসংখ্যার স্থানান্তর কী? ১  
খ. আদমশুমারি কেন করা হয়? ২  
গ. বাংলাদেশ অধিক জনসংখ্যার দেশ—ব্যাখ্যা কর। ৩  
ঘ. উদ্দীপকের আলোকে অধিক জনসংখ্যাকেও কাম্য জনসংখ্যা রূপান্তর করা যায়— ব্যাখ্যা কর। ৪

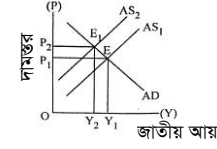
- ৬। আদমশুমারি অনুযায়ী বাংলাদেশের জনসংখ্যা বৃদ্ধির হার নিম্নরূপ :

বছর	১৯৭৪	১৯৮১	১৯৯১	২০০১	২০১১	২০২১
জনসংখ্যা বৃদ্ধির হার	২.৭০	২.৩৬	২.১৭	১.৪৮	১.৩৬	১.৩৭

পরিবার পরিকল্পনা গ্রহণ, জনসচেতনতা বৃদ্ধি, শিক্ষা বিস্তার, কর্মসংস্থান সৃষ্টি প্রভৃতির মাধ্যমে জনসংখ্যা বৃদ্ধির হার কমানো যায়।

- ক. অধিক জনসংখ্যা কী? ১  
খ. কীভাবে জনসংখ্যাকে জনসম্পদে পরিণত করা যায়? ২  
গ. উদ্দীপক অনুযায়ী স্বাধীনতা—পরবর্তী সময়ে বাংলাদেশে জনসংখ্যা বৃদ্ধির হারের চিত্র ব্যাখ্যা কর। ৩  
ঘ. তুমি কি মনে কর, বাংলাদেশের জনসংখ্যা বৃদ্ধির হার এখনও অধিক? কীভাবে এ হার নিয়ন্ত্রণ করা যায়? ৪

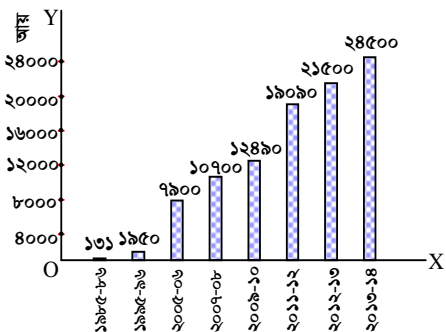
- ৭। উদ্দীপকটি লক্ষ কর এবং নিম্নের প্রশ্নগুলোর উত্তর দাও :



- ক. G.N.P ডিফ্লেকটর কী? ১  
খ. কোন মাত্রার মুদ্রাস্ফীতি অর্থনীতির জন্য ভালো? ২  
গ. উল্লিখিত চিত্রটি কোন ধরনের মুদ্রাস্ফীতি নির্দেশ করে? ব্যাখ্যা কর। ৩  
ঘ. উদ্দীপকে উল্লিখিত মুদ্রাস্ফীতি আমাদের দৈনন্দিন জীবনে কী ধরনের প্রভাব ফেলে? ব্যাখ্যা কর। ৪

- ৮। বৈদেশিক ঋণ ও সাহায্য দেশীয় অর্থনীতিকে গতিশীল করতে সাহায্য করে। তবে বেশিরভাগ ঋণ ও সাহায্যের সাথে কঠিন শর্ত থাকে। দাতা দেশসমূহ বিভিন্ন অজুহাতে দেশের অভ্যন্তরে হস্তক্ষেপ করে। স্বাধীনতার পর বাংলাদেশে প্রচুর বৈদেশিক ঋণ ও সাহায্য এসেছে যার বেশিরভাগই অপচয় ও দুর্নীতি হয়েছে। তাই আমাদের উচিত বৈদেশিক ঋণ ও সাহায্যের ওপর নির্ভরতা কমিয়ে নিত্যনতুন রপ্তানিমুখী দ্রব্যসমূহ উৎপাদন করা। ফলে এদেশ বৈদেশিক মুদ্রা অর্জনের মাধ্যমে স্বনির্ভরতা অর্জনের পথে এগিয়ে যাবে।

- ক. বিশ্বায়ন কী? ১  
খ. অপ্রচলিত রপ্তানি দ্রব্য বলতে কী বোঝায়? ২  
গ. উদ্দীপকের আলোকে বৈদেশিক ঋণ ও সাহায্যের ক্ষতিকর দিক উল্লেখ কর। ৩  
ঘ. আমাদের দেশের অর্থনৈতিক স্বনির্ভরতা অর্জনের দিকসমূহ আলোচনা কর। ৪  
৯। তৈরি পোশাক ও নিটওয়্যারের বর্ষভিত্তিক রপ্তানি আয়ের লেখচিত্র [মিলিয়ন মার্কিন ডলারে] :



- ক. বৈদেশিক অনুদান কী? ১  
খ. কীভাবে আন্তর্জাতিক বাণিজ্যের উদ্ভব ঘটে? ২  
গ. বাংলাদেশের তৈরি পোশাক ও নিটওয়্যার শিল্পের বর্ষভিত্তিক রপ্তানি আয়ের তুলনামূলক আলোচনা কর। ৩  
ঘ. উদ্দীপক অনুযায়ী রপ্তানি আয়ের এ ধারা যথেষ্ট গতিশীল বলে কি তুমি মনে কর? যদি না হয় তবে কীভাবে তা গতিশীল করা যায়? ৪

- ১০। সরকারি ঋণ বলতে সরকারের কেন্দ্রীয় কর্তৃপক্ষ গৃহীত ঋণকে বোঝায়। সরকার তার ব্যয় নির্বাহের জন্য কেন্দ্রীয় ব্যাংক, অ-আর্থিক প্রতিষ্ঠান, আন্তর্জাতিক আর্থিক প্রতিষ্ঠান প্রভৃতি খাত থেকে ঋণ গ্রহণ করে থাকে। সরকার মূলত আর্থসামাজিক অবকাঠামো নির্মাণ, ঘাটতে বাজেট পূরণ ও জরুরি অবস্থা মোকাবিলা করার উদ্দেশ্যে ঋণ গ্রহণ করে থাকে। এজন্য সরকারি ঋণ শুধুমাত্র উৎপাদনশীল খাতে ব্যবহার করা উচিত। তা না হলে দেশের অর্থনৈতিক বিপর্যয় ঘটবে।

- ক. আবগারি শুল্ক কী? ১  
খ. সরকারের আয়ের প্রধান প্রধান খাতগুলো কী কী? ২  
গ. উদ্দীপকের আলোকে সরকারি ঋণের উৎসসমূহ আলোচনা কর। ৩  
ঘ. সরকারের ঋণ গ্রহণের উদ্দেশ্যাবলি পূরণে প্রাপ্ত ঋণ কি যথেষ্ট বলে তুমি মনে কর? উদ্দীপকের আলোকে তা ব্যাখ্যা কর। ৪

- ১১। একদিন ক্লাসে শিক্ষক ছাত্রদের বলেন, জন্ম থেকে মৃত্যু পর্যন্ত মানুষকে কর দিতে হয়। আয়কর, সম্পদ কর, ভূমি কর ইত্যাদি প্রত্যক্ষ কর। আবার VAT, বিক্রয় কর, আমদানি শুল্ক, রপ্তানি শুল্ক, প্রমোদ কর, পণ্য কর ইত্যাদি পরোক্ষ কর। তিনি আরও বলেন, পরোক্ষ করের চেয়ে প্রত্যক্ষ কর বেশি অপ্রিয়।

- ক. রপ্তানি শুল্ক কী? ১  
খ. করের মাধ্যমে সামাজিক কল্যাণ কীভাবে পরিমাপ করা যায়? ২  
গ. করের বিভিন্ন উৎস উদ্দীপকের আলোকে আলোচনা কর। ৩  
ঘ. উদ্দীপকের আলোকে প্রত্যক্ষ কর বেশি অপ্রিয় হওয়ার যুক্তিযুক্ত কারণ ব্যাখ্যা কর। ৪

## যশোর বোর্ড ২০২২

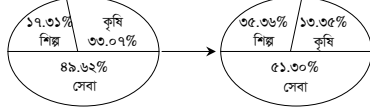
সময় : ২ ঘণ্টা ৩০ মিনিট

### অর্থনীতি দ্বিতীয় পত্র সৃজনশীল প্রশ্ন

পূর্ণমান : ৭০

**দ্রষ্টব্য :** ডান পাশের সংখ্যা প্রশ্নের পূর্ণমান জ্ঞাপক। নিচের উদ্দীপকগুলো পড় এবং সংশ্লিষ্ট প্রশ্নগুলোর উত্তর দাও। যেকোনো সাতটি প্রশ্নের উত্তর দাও।

- ১। নিম্নে বাংলাদেশের মোট দেশজ উৎপাদনের (GDP) বিভিন্ন খাতের কাঠামোগত পরিবর্তন দেখানো হলো :



- ক. কৃষিপণ্যের বিপণন কী? ১  
খ. কৃষিজাত ও কৃষি খামার কি একই? ২  
গ. উদ্দীপকে উল্লিখিত খাতসমূহের কাঠামোগত পরিবর্তনকে তুমি কীভাবে ব্যাখ্যা করবে? ৩  
ঘ. তুমি কি মনে কর, বাংলাদেশের কৃষির ক্রমাগত উন্নতি হচ্ছে? উদ্দীপকের তথ্যের আলোকে ব্যাখ্যা কর। ৪

- ২।

- ক. PPP এর পূর্ণরূপ কী? ১  
খ. বর্তমানে চামড়া শিল্পের অবনতির কারণ কী? ২  
গ. উপরের উদ্দীপক অনুযায়ী বৈদেশিক নির্ভরশীলতা হ্রাস করার জন্য কী কী পদক্ষেপ গ্রহণ করা যেতে পারে? ৩  
ঘ. বাংলাদেশের অর্থনীতির বৈদেশিক নির্ভরশীলতা হ্রাসে কোন শিল্পনীতি বেশি কার্যকর? উদ্দীপকের আলোকে ব্যাখ্যা কর। ৪

- ৩। নিম্নে বাংলাদেশের পাটজাত পণ্যের উৎপাদন ও রপ্তানি মূল্যের বিবরণ দেওয়া হলো :

অর্থবছর	২০১৬-১৭	২০১৭-১৮	২০১৮-১৯	২০১৯-২০	২০২০-২১
উৎপাদন (লক্ষ মে. টন)	৯.৮৩	১০.২৬	৯.৩৮	৮.৮৯	৩.১৩
রপ্তানি আয় (কোটি টাকা)	৬৪৩০.৬০	৬৮০১.৫৭	৫২২০.৮৫	৩০৫১.৩৭	২৩৬৯.৪৫

- ক. সংরক্ষিত শিল্প কী? ১  
খ. “আমদানি বিকল্প শিল্প বৈদেশিক মুদ্রা সাশ্রয় করে”—ব্যাখ্যা কর। ২  
গ. উদ্দীপকের তথ্যের ভিত্তিতে পাটজাত দ্রব্যের উৎপাদনের পরিমাণকে স্তম্ভচিত্রে প্রকাশ কর। ৩  
ঘ. উদ্দীপকের আলোকে বাংলাদেশের পাট শিল্পের গতি-প্রকৃতি ব্যাখ্যা কর। ৪

- ৪। নিম্নে বাংলাদেশের জনসংখ্যার পরিমাণ ও জনসংখ্যা বৃদ্ধির হার তুলে ধরা হলো :

বছর	জনসংখ্যার পরিমাণ (কোটি)	জনসংখ্যা বৃদ্ধির হার (%)
১৯৭১	৭.৬৪	২.৪৮
১৯৮১	৮.৯৯	২.৩৫
১৯৯১	১১.১৪	২.১৭
২০০১	১৩.১৫	১.৫৯
২০১১	১৪.৯৮	১.৫৭
২০২১	১৬.৮২	১.৩৭

- ক. কাম্য জনসংখ্যা বলতে কী বোঝ? ১  
খ. জনসংখ্যা ঘনত্বের ওপর জন্মহারের প্রভাব কীরূপ? ২  
গ. উদ্দীপকের আলোকে বাংলাদেশের জনসংখ্যা বৃদ্ধির হারের গতিধারা আলোচনা কর। ৩  
ঘ. বাংলাদেশের মোট জনসংখ্যার পরিমাণ বৃদ্ধি পেলেও জনসংখ্যা বৃদ্ধির হার ক্রমাগত হ্রাস পাচ্ছে কেন? ব্যাখ্যা কর। ৪

- ৫।

- ক. গাণিতিক হার কী? ১  
খ. নিট অভিবাসন কীভাবে জনসংখ্যা বৃদ্ধির হারকে প্রভাবিত করে? ২  
গ. উদ্দীপকের ? চিহ্নিত স্থানে কী হবে? ব্যাখ্যা কর। ৩  
ঘ. বাংলাদেশের আর্থসামাজিক উন্নয়নে উদ্দীপকে উল্লিখিত বিষয়গুলোর গুরুত্ব ব্যাখ্যা কর। ৪

- ৬। জাতীয় বেতন স্কেল পরিবর্তনে 'A' দেশের ২০২০ সালের ভোক্তার মূল্যসূচক হলো ১১৮। এই অবস্থায় দেশটিকে ভোক্তা, ঋণদাতা ও শ্রমিক শ্রেণির ক্ষতিগ্রস্ত হওয়ার প্রবণতা লক্ষ করা গেল। অন্যদিকে ব্যবসায়ী, চোরাকারবারি, ঋণগ্রহীতা ও করদাতা লাভবান হলো। উল্লেখ্য, 'A' দেশে ২০১৫ সালে ভোক্তার মূল্যসূচক ছিল ১০০।

- ক. সূচক সংখ্যা কী? ১  
খ. “অর্থের যোগানের সাথে মুদ্রাস্ফীতির সম্পর্ক সরাসরি”—ব্যাখ্যা কর। ২  
গ. উদ্দীপক হতে 'A' দেশের মুদ্রাস্ফীতির হার নির্ণয় কর। ৩  
ঘ. উদ্দীপকে উল্লিখিত ব্যক্তিবর্গ কীভাবে ক্ষতিগ্রস্ত ও লাভবান হবে? ব্যাখ্যা কর। ৪

- ৭। রফিক সাহেব অর্থনীতি ক্লাসে ছাত্রছাত্রীদের মুদ্রাস্ফীতি পড়াতে গিয়ে বলেন যে, একটি দেশের মুদ্রাস্ফীতি নিয়ন্ত্রণে কেন্দ্রীয় ব্যাংকের আর্থিক নীতি যথা— ব্যাংক হার, নগদ রিজার্ভের অনুপাত এবং খোলাবাজার নীতি যেমন কার্যকর ভূমিকা রাখে, তেমনিভাবে সরকারের রাজস্ব নীতি যথা— সরকারি ব্যয়, কর এবং সরকারি ঋণও গুরুত্বপূর্ণ ভূমিকা রাখে।

- ক. মুদ্রাস্ফীতি হার কী? ১  
খ. উদার ঋণনীতি কীভাবে মুদ্রাস্ফীতিকে প্রভাবিত করে? ২  
গ. মুদ্রাস্ফীতি নিয়ন্ত্রণে উদ্দীপকে উল্লিখিত আর্থিক নীতির হাতিয়ারগুলো ব্যাখ্যা কর। ৩  
ঘ. উদ্দীপকে উল্লিখিত সরকারের রাজস্ব নীতিগুলো কীভাবে মুদ্রাস্ফীতি নিয়ন্ত্রণ করে? ব্যাখ্যা কর। ৪

- ৮। বাংলাদেশের আন্তর্জাতিক বাণিজ্যের গতিধারা পরিবর্তনে নিম্নের দ্রব্যসামগ্রীগুলো ভূমিকা রাখে : খাদ্যশস্য, তৈরি পোশাক, ভোজ্য তেল, কাঁচা পাট, তুলা, চা, অপরিশোধিত পেট্রোলিয়াম, মূলধনী দ্রব্য, জুতা, সিরামিক সামগ্রী, চামড়া, সার, ক্রিয়াকার, কাগজ, হিমায়িত দ্রব্যসামগ্রী ইত্যাদি।

- ক. বিশ্বায়ন কী? ১  
খ. পৃথক মুদ্রা ব্যবস্থা কীভাবে আন্তর্জাতিক বাণিজ্যকে বাধাগ্রস্ত করে? ২  
গ. উদ্দীপকের তথ্য থেকে বাংলাদেশের রপ্তানি ও আমদানি পণ্যসমূহের বিবরণ দাও। ৩  
ঘ. উদ্দীপকের আলোকে বাংলাদেশের অপ্রচলিত রপ্তানি পণ্যগুলোকে চিহ্নিত কর এবং দেখাও যে, এগুলো দেশের রপ্তানি বাণিজ্য সম্প্রসারণে গুরুত্বপূর্ণ ভূমিকা রাখছে। ৪

- ৯। সামিহা তার অর্থনীতি ক্লাস থেকে জানতে পারে যে, একটি দেশের অর্থনৈতিক উন্নয়নে বৈদেশিক বাণিজ্য নাকি বৈদেশিক সাহায্য বেশি ভূমিকা রাখে। বৈদেশিক বাণিজ্যের ফলে একটি দেশের বিনিয়োগ, কর্মসংস্থান ও উৎপাদন বৃদ্ধি পায়। সে এ বিষয়ে স্যারের সাথে একমত হয় যে, বৈদেশিক সাহায্য দীর্ঘমেয়াদে পরনির্ভরশীলতা বৃদ্ধি করে; কিন্তু বৈদেশিক বাণিজ্য এরূপ ক্ষতিকর প্রভাব সৃষ্টি করে না।

- ক. সংরক্ষণ বাণিজ্য কী? ১  
খ. আন্তর্জাতিক বাণিজ্য সংঘটিত হওয়ার শর্তগুলো কী? ২  
গ. উদ্দীপকের আলোকে একটি দেশের অর্থনৈতিক উন্নয়নে বৈদেশিক বাণিজ্য কীভাবে ভূমিকা রাখে? ব্যাখ্যা কর। ৩  
ঘ. উদ্দীপকের আলোকে তুমি কি মনে কর অর্থনৈতিক উন্নয়নে বৈদেশিক সাহায্যের চেয়ে বৈদেশিক বাণিজ্যই অধিক কার্যকর? ব্যাখ্যা কর। ৪

- ১০। একটি দেশের সরকার প্রতিবছর জনপ্রশাসন ও জনকল্যাণ সাধনে বাধ্যতামূলকভাবে ব্যয় করে যা পৌনঃপুনিক। আবার বার্ষিক উন্নয়ন কর্মসূচির আলোকে শিক্ষা, স্বাস্থ্য, পরিবহণ ও যোগাযোগ ব্যবস্থার উন্নয়নেও ব্যয় করে। ফলে তাকে ঘাটতে বাজেট গ্রহণ করতে হয়।

- ক. প্রত্যক্ষ কর কাকে বলে? ১  
খ. মূল্য সংযোজন কর কি প্রত্যক্ষ না পরোক্ষ কর? ২  
গ. উদ্দীপকের আলোকে সরকারের কোন ধরনের ব্যয় পৌনঃপুনিক? ব্যাখ্যা কর। ৩  
ঘ. সরকার কেন ঘাটতে বাজেট গ্রহণ করে? উদ্দীপকের আলোকে ব্যাখ্যা কর। ৪

- ১১।

- ক. কর ঘাত কী? ১  
খ. কর ও ফি এর মধ্যে কোনো পার্থক্য আছে কি? ২  
গ. উদ্দীপকের আলোকে সরকারি ঋণের অভ্যন্তরীণ উৎসগুলোর বিবরণ দাও। ৩  
ঘ. বৃহৎ প্রকল্প বাস্তবায়নে অভ্যন্তরীণ অর্থায়নের উৎসের পাশাপাশি বৈদেশিক অর্থায়নের যৌক্তিকতা বিশ্লেষণ কর। ৪

## কুমিল্লা বোর্ড ২০২২

সময় : ২ ঘণ্টা ৩০ মিনিট

## অর্থনীতি দ্বিতীয় পত্র সৃজনশীল প্রশ্ন

পূর্ণমান : ৭০

**দ্রষ্টব্য :** ডান পাশের সংখ্যা প্রশ্নের পূর্ণমান জ্ঞাপক। নিচের উদ্দীপকগুলো পড় এবং সংশ্লিষ্ট প্রশ্নগুলোর উত্তর দাও। যেকোনো সাতটি প্রশ্নের উত্তর দাও।

১। আদাল মিয়া একজন ক্ষুদ্র চাষি। প্রাতিষ্ঠানিক ঋণ গ্রহণের জটিলতার কারণে গ্রাম্য মহাজন ও মধ্যস্বত্বভোগী দালালদের নিকট থেকে ঋণ গ্রহণ করে চাষাবাদ করেন। ফলে মূলধন সংকট লেগেই থাকে। ইদানীং সরকার কৃষকদের সহায়তা করার জন্য ভূত্বিক প্রদানের মাধ্যমে কৃষকের মাঝে স্বল্পমূল্যে রাসায়নিক সার, উচ্চ ফলনশীল বীজ, কীটনাশক ইত্যাদি উপকরণ পৌঁছে দিচ্ছে। ফলে আদাল মিয়ার মতো কৃষকেরা যথেষ্ট উপকৃত হচ্ছেন।

- ক. শস্য বহুমুখীকরণ কী? ১  
খ. 'জীবন নির্বাহী খামার' ও 'বাণিজ্যিক খামার' ধারণা দুটি ভিন্ন-ব্যাখ্যা কর। ২  
গ. আদাল মিয়ার অপ্রাতিষ্ঠানিক ঋণের উৎসগুলোর বর্ণনা দাও। ৩  
ঘ. কৃষির উন্নয়নে সরকার কর্তৃক গৃহীত কৃষি উপকরণ বিতরণের ইতিবাচক দিকটি মূল্যায়ন কর। ৪

২। বাংলাদেশের কৃষি এখনও প্রকৃতির ওপর বহুলাংশে নির্ভরশীল। বিশ্বব্যাপী অপরিবর্তিত শিল্পায়ন, নগরায়ণ, কার্বন নির্গমন ইত্যাদির প্রভাবে বৈশ্বিক উষ্ণতা বৃদ্ধি পাচ্ছে। ফলে জলবায়ুর দ্রুত পরিবর্তন হচ্ছে। এর প্রভাবে বন্যা, খরা, প্রাকৃতিক দুর্যোগ, সমুদ্রপৃষ্ঠের উচ্চতা ইত্যাদি বৃদ্ধি পাচ্ছে। তাই বাংলাদেশের কৃষি অতিমাত্রায় ঝুঁকিতে রয়েছে। কৃষি কার্যক্রমের অভিযোজন কৌশল বাস্তবায়নের জন্য সরকার একটি তহবিল গঠনসহ বিভিন্ন ধরনের কর্মসূচি বাস্তবায়ন করছে।

- ক. কৃষি ঋণ কী? ১  
খ. বাংলাদেশের কৃষি কি প্রকৃতির ওপর নির্ভরশীল? ব্যাখ্যা কর। ২  
গ. বাংলাদেশের কৃষিতে জলবায়ু পরিবর্তনের প্রভাবসমূহ উদ্দীপকের আলোকে আলোচনা কর। ৩  
ঘ. জলবায়ু পরিবর্তন মোকাবেলায় সরকার কর্তৃক গৃহীত কার্যক্রমগুলো উদ্দীপকের আলোকে আলোচনা কর। ৪

৩। আগের মতো বাংলাদেশ শিল্পে পশ্চাৎপদ নয়। এক সময় যেসব পণ্য বাহির থেকে আমদানি করত তার বেশিরভাগই এখন দেশের অভ্যন্তরে উৎপাদন হচ্ছে। এসব শিল্পগুলোর মধ্যে অন্যতম তৈরি পোশাক শিল্প, ঔষধ শিল্প, প্লাস্টিক শিল্প, সফটওয়্যার শিল্প। এসব শিল্প খাতগুলো সামগ্রিক রপ্তানি আয়ে অবদান রাখছে।

- ক. বৃহৎ শিল্প কী? ১  
খ. শিল্পায়ন কর্মসংস্থান সৃষ্টির অন্যতম সহায়ক-ব্যাখ্যা কর। ২  
গ. উদ্দীপকে উল্লিখিত শিল্পগুলো কোন ধরনের শিল্পের অন্তর্গত? ব্যাখ্যা কর। ৩  
ঘ. উদ্দীপকে উল্লিখিত শিল্পসমূহ বাংলাদেশের অর্থনীতিতে পর্যাপ্ত অবদান রাখতে পারছে কি? তোমার মতামত দাও। ৪

৪। বিশেষজ্ঞদের মতামত হলো, একটি দেশকে স্বয়ংসম্পূর্ণ হতে হলে অবশ্যই ওই দেশকে আমদানি বিকল্প শিল্প নীতি অনুসরণ করতে হবে। সাম্প্রতিককালে বাংলাদেশ এ নীতি অনুসরণ করছে। এর মাধ্যমে দেশীয় শিল্পের সংরক্ষণ, বৈদেশিক মুদ্রা সাশ্রয়, বাণিজ্য ঘাটতি হ্রাস পায়। এ নীতি অনুসরণে কৌশল নির্ধারণ, কর্মসংস্থান, ভোক্তা ক্ষতিগ্রস্ত হওয়ার মতো কিছু সমস্যাও সৃষ্টি হয়।

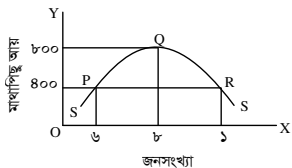
- ক. হাইটেক শিল্প কী? ১  
খ. স্বনির্ভরতা অর্জনে শিল্পায়ন জরুরি কেন? ২  
গ. উদ্দীপকের আলোকে বাংলাদেশে আমদানি বিকল্প শিল্পের গুরুত্ব আলোচনা কর। ৩  
ঘ. উদ্দীপকে উল্লিখিত শিল্পের সমস্যাসমূহ বিশ্লেষণপূর্বক এ নীতির যথার্থতা মূল্যায়ন কর। ৪

৫। কোনো একটি উন্নয়নশীল দেশের ২৫ বছর অন্তর জনসংখ্যা বৃদ্ধির পরিমাণ নিম্নে ছকে উল্লেখ করা হলো :

বছর	০	২৫	৫০	৭৫	১০০
জনসংখ্যা বৃদ্ধি	১	২	৪	৮	১৬
খাদ্য উৎপাদন	১	২	৩	৪	৫

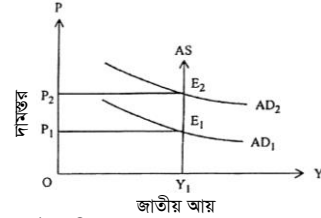
- ক. মানবসম্পদ উন্নয়ন কী? ১  
খ. জনসংখ্যা বৃদ্ধি খাদ্য সমস্যা সৃষ্টি করে-ব্যাখ্যা কর। ২  
গ. উদ্দীপকে উল্লিখিত ছকটি জনসংখ্যার কোন তরঙ্গের সাথে সামঞ্জস্যপূর্ণ-ব্যাখ্যা কর। ৩  
ঘ. উদ্দীপকের সারণিতে জনসংখ্যা বৃদ্ধি ও খাদ্য উৎপাদনের মধ্যে যে ব্যবধান সৃষ্টি হয়েছে তা দূরীকরণের উপায় ব্যাখ্যা কর। ৪

৬।



- ক. আত্মকর্মসংস্থান কী? ১  
খ. শিক্ষা কীভাবে মানবসম্পদের উন্নয়ন প্রভাবিত করে? ব্যাখ্যা কর। ২  
গ. 'P' বিন্দুতে অসাম্যজস্যের পরিমাণ নির্ণয় কর। ৩  
ঘ. উদ্দীপকের আলোকে কাম্য জনসংখ্যা কত ও কেন? ব্যাখ্যা কর। ৪

৭। চিত্রটি লক্ষ কর এবং সংশ্লিষ্ট প্রশ্নগুলোর উত্তর দাও :



- ক. CPI এর পূর্ণরূপ কী? ১  
খ. অর্থ সরবরাহ বৃদ্ধি মুদ্রাস্ফীতির মূল কারণ-ব্যাখ্যা কর। ২  
গ. উদ্দীপকে ছেদবিন্দু E1 থেকে E2 তে পরিবর্তনের কারণগুলো ব্যাখ্যা কর। ৩  
ঘ. উদ্দীপকে সৃষ্ট মুদ্রাস্ফীতি নিয়ন্ত্রণে সরকার কী ভূমিকা রাখতে পারে-ব্যাখ্যা কর। ৪

৮। 'X' দেশের ভিত্তি বছর ও বর্তমানে বছরের দুটি ভোগ্য পণ্যের পরিমাণ, দাম ও ব্যয়ের পরিমাণ নিম্নরূপ :

ভোগ্য পণ্য	পরিমাণ (Q <sub>০</sub> ) কেজি/লিটার	ভিত্তি বছর		বর্তমান বছর	
		দাম (P <sub>০</sub> ) টাকা	ব্যয় (P <sub>০</sub> Q <sub>০</sub> ) টাকা	দাম (P <sub>১</sub> ) টাকা	ব্যয় (P <sub>১</sub> Q <sub>১</sub> ) টাকা
চাল	৪০	৪০	১৬০০	৬০	২৪০০
তেল	৫	৮০	৪০০	১২০	৬০০

দ্রব্যমূল্য স্থিতিশীল রাখার স্বার্থে সরকার ব্যাংক হার বৃদ্ধি, অর্থের যোগান হ্রাস, সরকারি ব্যয় হ্রাস, উৎপাদন বৃদ্ধি ও পরোক্ষ করের হার কমিয়ে দেয়।

- ক. সূচক সংখ্যা কী? ১  
খ. "মুদ্রাস্ফীতি সবসময় খারাপ নয়"-ব্যাখ্যা কর। ২  
গ. উদ্দীপকে প্রদত্ত তথ্যের ভিত্তিতে মুদ্রাস্ফীতির হার নির্ণয় কর। ৩  
ঘ. সরকার কর্তৃক গৃহীত পদক্ষেপসমূহ মুদ্রাস্ফীতি নিয়ন্ত্রণে কতটুকু ভূমিকা রাখবে উদ্দীপকের আলোকে ব্যাখ্যা কর। ৪
- ৯। মি. জামিল ও মি. সোহান দুই বন্ধু। তারা দুজনই তৈরি পোশাক কারখানার মালিক। মি. জামিল যে সমস্ত পোশাক প্রস্তুত করেন তিনি সেগুলো ইউরোপ ও আমেরিকার বাজারে বিক্রি করেন। এ ক্ষেত্রে মি. জামিল সরকার কর্তৃক নগদ সহায়তাসহ বিভিন্ন ধরনের সুবিধা ভোগ করেন। অন্যদিকে মি. সোহান তার তৈরি পোশাকগুলো দেশের অভ্যন্তরে বিক্রি করেন। কিন্তু তিনি সরকার কর্তৃক তেমন কোনো সুবিধা পান না।

- ক. বিশ্বায়ন কী? ১  
খ. আন্তর্জাতিক বাণিজ্য সংঘটিত হয় কেন? ২  
গ. মি. সোহানের বাণিজ্য কোন ধরনের বাণিজ্যের অন্তর্গত? ব্যাখ্যা কর। ৩  
ঘ. মি. জামিলকে সহায়তা প্রদানের মাধ্যমে রপ্তানি বৃদ্ধির সরকারি পদক্ষেপের কার্যকারিতা মূল্যায়ন কর। ৪

১০। বাংলাদেশ যেসব পণ্য সাচরাচর বিশ্ববাজারে রপ্তানি করে আসছে সেগুলো হলো কাঁচা পাট, চা, চামড়া ও চামড়াজাত পণ্য, কাগজ ইত্যাদি। সাম্প্রতিককালে রপ্তানি বাণিজ্যের গতিপ্রকৃতিতে বেশ পরিবর্তন এসেছে। বিশ্বব্যাপী বিভিন্নমুখী চাহিদার প্রেক্ষিতে এসব পণ্য রপ্তানিতে বাংলাদেশ বৈচিত্র্য এনেছে। নতুন এসব দ্রব্য রপ্তানির মধ্যে রয়েছে তৈরি পোশাক, হোসিয়ারি দ্রব্য, হিমায়িত খাদ্য, শাকসবজি, ফলমূল ইত্যাদি। বাংলাদেশের মোট রপ্তানিতে এসব পণ্যের অবদান ৮৫ ভাগেরও বেশি। ইদানীং সরকার রপ্তানি বাণিজ্য অধিক সম্প্রসারণের জন্য রপ্তানিকারকদের স্কন্ধ কর রেয়াত, আয়কর সুবিধাসহ বিভিন্ন কার্যক্রম গ্রহণ করেছে।

- ক. আন্তর্জাতিক বাণিজ্য কাকে বলে? ১  
খ. উদ্বৃত্ত পণ্য আন্তর্জাতিক বাণিজ্যের ভিত্তি-ব্যাখ্যা কর। ২  
গ. উদ্দীপকের আলোকে প্রচলিত ও অপ্রচলিত রপ্তানি পণ্যের একটি তালিকা প্রস্তুত কর। ৩  
ঘ. বাংলাদেশের রপ্তানি বাণিজ্য সম্প্রসারণের জন্য সরকার কর্তৃক গৃহীত ব্যবস্থা কীভাবে উদ্দীপকের আলোকে বিশ্লেষণ কর। ৪

১১। অর্থনৈতিক উন্নয়ন ও কল্যাণমূলক রপ্তানি প্রতিষ্ঠার লক্ষ্যে সরকারকে প্রচুর ব্যয় করতে হয়। শিক্ষা, চিকিৎসা, আইনশৃঙ্খলা রক্ষা, সামাজিক নিরাপত্তা, কর্মসংস্থান বৃদ্ধি প্রভৃতি খাতে সরকারকে প্রচুর ব্যয় করতে হয়। তবে এসব ঋণের দক্ষ ব্যবহার নিশ্চিত করতে না পারলে তা দেশের জন্য ক্ষতিকর হয়।

- ক. আবগারি শুল্ক কী? ১  
খ. মূল্য সংযোজন করকে পরোক্ষ কর বলা হয় কেন? ২  
গ. উদ্দীপকের আলোকে সরকারি ব্যয়ের খাতগুলোর বর্ণনা দাও। ৩  
ঘ. ঋণ গ্রহণের মাধ্যমে ব্যয় নির্বাহের অসুবিধা সম্পর্কে তোমার মতামত দাও। ৪

## চট্টগ্রাম বোর্ড ২০২২

### অর্থনীতি দ্বিতীয় পত্র সৃজনশীল প্রশ্ন

সময় : ২ ঘণ্টা ৩০ মিনিট

পূর্ণমান : ৭০

**দ্রষ্টব্য :** ডান পাশের সংখ্যা প্রশ্নের পূর্ণমান জ্ঞাপক। নিচের উদ্দীপকগুলো পড় এবং সর্বাঙ্গীর্ণ প্রশ্নগুলোর উত্তর দাও। যেকোনো সাতটি প্রশ্নের উত্তর দাও।

- ১। কাসিম ও হাসিম একই গ্রামের মানুষ। উভয়ই কৃষিকাজ করে জীবিকা নির্বাহ করে। কাসিম সনাতন পদ্ধতিতে চাষাবাদ করার কারণে একর প্রতি উৎপাদন খুবই কম হয়। কিন্তু হাসিম শিক্ষিত যুবক হওয়ায় এ সনাতন পদ্ধতি থেকে বের হয়ে কৃষিতে উন্নত রাসায়নিক সার ও কীটনাশক, তেজস্ক্রিয় আইসোটোপ, উফশী বীজ ইত্যাদি ব্যবহারের মাধ্যমে ফসল উৎপাদন বাড়াতে পেরেছে। এছাড়াও সে লক্ষ করছে যে, ICT এর ব্যবহার তাকে অনেক লাভবান করেছে। এর মাধ্যমে যেকোনো তথ্য সে সহজেই পাচ্ছে।
- ক. কৃষি প্রযুক্তি কী? ১  
খ. বৈশ্বিক উষ্ণতা কৃষির জন্য হুমকিস্বরূপ—ব্যাখ্যা কর। ২  
গ. উদ্দীপকে উল্লিখিত হাসিমের কৃষিতে ব্যবহৃত প্রযুক্তিসমূহের গুরুত্ব উল্লেখ কর। ৩  
ঘ. উদ্দীপকের আধুনিক প্রযুক্তি ব্যবহার কীভাবে কৃষকদের লাভবান করেছে? তোমার মতামত দাও। ৪

- ২। বাংলাদেশে খাদ্যশস্য উৎপাদনের গতিধারা নিম্নধারা :

বছর	খাদ্যশস্য উৎপাদনের বিবরণ (কোটি মেট্রিক টন)
১৯৮০-১৯৮১	১.৫০
২০০৪-২০০৫	২.৬৫
২০১৮-২০১৯	৪.২১

- বর্তমানে বাংলাদেশে বিভিন্ন কারণে আবাদি জমির পরিমাণ হ্রাস পেলেও নতুন নতুন জাতের উফশী বীজের ব্যাপক ব্যবহার, পাওয়ার টিলারের ব্যবহার, যন্ত্রনির্ভর সেচব্যবস্থা, রাসায়নিক সার ও কীটনাশকের ব্যবহার ইত্যাদি পদক্ষেপ গ্রহণ করা হচ্ছে।

- ক. কৃষিপণ্যের বিপণন কী? ১  
খ. মার্শলম মানবদেহের জন্য উপকারি খাদ্য—ব্যাখ্যা কর। ২  
গ. উদ্দীপকের ভিত্তিতে খাদ্যশস্য উৎপাদনের গতিধারা লেখচিত্রের মাধ্যমে ব্যাখ্যা কর। ৩  
ঘ. “কৃষি উৎপাদনযোগ্য ভূমির পরিমাণ দিন দিন হ্রাস পাওয়া সত্ত্বেও কৃষি উৎপাদনে বাংলাদেশের সাফল্য ঈর্ষণীয়”— উদ্দীপকের আলোকে বিশ্লেষণ কর। ৪
- ৩। বসন্ত ৫০ ও ৬০ দশকের দিকে কাঁচা পাট রপ্তানির মাধ্যমেই বাংলাদেশের রপ্তানি আয়ের সিংহভাগ অর্জিত হতো। এ কারণে তখন পাটকে, ‘সোনালি আঁশ’ বলা হতো। কিন্তু পাটের বিকল্প ব্যবহার, মূল্য সমস্যা, মধ্যবর্তী ব্যবসায়ীদের উপস্থিতি, প্রতিকূল বাণিজ্য শর্ত ইত্যাদির কারণে পাটের চাহিদা ও মূল্য দিন দিন হ্রাস পাচ্ছে। তবে বর্তমানে প্রাস্টিক পণ্য উৎপাদন নিষিদ্ধকরণ, পাটশিল্প উন্নয়নে সুনির্দিষ্ট নীতিমালা প্রণয়ন, শ্রমিকের দক্ষতা বৃদ্ধিসহ বিভিন্ন পদক্ষেপ গ্রহণ করা সম্ভব হলে পাটশিল্পের ভবিষ্যৎ উজ্জ্বল সম্ভাবনাময়।

- ক. আমাদানি বিকল্প শিল্প কী? ১  
খ. কর্মসংস্থান সৃষ্টিতে কুটিরশিল্পের অগ্রণী ভূমিকা রয়েছে— ব্যাখ্যা কর। ২  
গ. উদ্দীপকে উল্লিখিত পাটশিল্পের সমস্যাসমূহ ব্যাখ্যা কর। ৩  
ঘ. বাংলাদেশের প্রেক্ষিতে পাটশিল্পের সম্ভাবনা উদ্দীপকের আলোকে বিশ্লেষণ কর। ৪
- ৪। জনাব রহিম ৬০ কোটি টাকা ব্যয়ে একটি কারখানা স্থান করেন। কারখানার ৩২৫ জন শ্রমিকের অধিকাংশই দক্ষ। প্রতি বছর তিনি তার কারখানা থেকে ভালো মুনাফা লাভ করেছেন। এ ধরনের শিল্প স্থাপনে প্রচুর মূলধন লাগে। তাই উন্নয়নশীল দেশে এ শিল্পের সংখ্যা কম। দেশে এসব শিল্পের প্রসার ঘটানো সম্ভব হলে বেকারত্ব হ্রাসের পাশাপাশি অর্থনৈতিক উন্নয়ন দ্রুত বৃদ্ধি পাবে।

- ক. ক্ষুদ্র শিল্প কাকে বলে? ১  
খ. ফার্ম ও শিল্পের মধ্যে পার্থক্য লেখ। ২  
গ. জনাব রহিম যে কারখানা স্থাপন করেছেন তা কোন শিল্পের অন্তর্ভুক্ত? উক্ত শিল্পের সুবিধা লেখ। ৩  
ঘ. দেশের অর্থনৈতিক উন্নয়ন ত্বরান্বিত করার জন্য উদ্দীপকে উল্লিখিত শিল্পের বিকল্প নেই—তুমি কি এই বক্তব্যের সাথে একমত? তোমার উত্তরের সপক্ষে যুক্তি দাও। ৪

- ৫। 'B' একটি উন্নয়নশীল দেশ। দেশটির সর্বশেষ আদমশুমারি তথ্য অনুযায়ী নারী ও পুরুষের অনুপাত হচ্ছে ১০০ : ১০০.৫। মোট জনগোষ্ঠীর প্রায় অর্ধেক নারী হলেও বিভিন্ন কারণে তারা অর্থনৈতিক উন্নয়ন ধারার বাইরে। তাই দেশটির সরকার নারী শিক্ষা প্রসারের জন্য প্রাথমিক, মাধ্যমিক ও কলেজ পর্যায়ে উপবৃত্তি প্রদান, বিভিন্ন চাকরির ক্ষেত্রে নারীদের অগ্রাধিকার প্রদান, ইভটিজিং বন্ধে আইন প্রণয়নসহ নারী ও শিশুবিষয়ক মন্ত্রণালয় প্রতিষ্ঠা করেছে। এ ক্ষেত্রে সরকারের লক্ষ্য হচ্ছে নারীর ক্ষমতায়নের মাধ্যমে জাতীয় উন্নয়ন কর্মকাণ্ডে নারীর অংশগ্রহণ নিশ্চিত করা।

- ক. গাণিতিক বৃদ্ধির হার কী? ১  
খ. দরিদ্রতা জনসংখ্যা বৃদ্ধিকে কীভাবে প্রভাবিত করে? ব্যাখ্যা কর। ২  
গ. উদ্দীপকে নারী উন্নয়নে সরকারের গৃহীত কর্মসূচি ব্যাখ্যা কর। ৩  
ঘ. নারীর ক্ষমতায়ন কীভাবে জাতীয় উন্নয়নে ভূমিকা রাখবে? তোমার মতামত দাও। ৪

- ৬। 'X' দেশের জনসংখ্যা ও মাথাপিছু আয় সম্পর্কিত তথ্য নিম্নরূপ :
- | নির্দেশক বিন্দু | মোট জনসংখ্যা (কোটি) | মাথাপিছু আয় (ডলার) |
|-----------------|---------------------|---------------------|
| A               | ৬                   | ২,৮০০               |
| B               | ১২                  | ৪,২০০               |
| C               | ১৮                  | ২,৮০০               |
- ক. CBR এর পূর্ণরূপ লেখ। ১  
খ. অধিক জনসংখ্যা কীভাবে পরিবেশ বিপর্যয় ঘটায়? ব্যাখ্যা কর। ২  
গ. উদ্দীপকের তথ্য রেখাচিত্রের মাধ্যমে ব্যাখ্যা কর। ৩  
ঘ. উদ্দীপকের কোন বিন্দুর সাথে তোমার দেশের জনসংখ্যা পরিষ্টি সামঞ্জস্যপূর্ণ? বিশ্লেষণ কর। ৪

- ৭। মি. 'X' এর দেশে সরকার মেগা প্রকল্প গ্রহণ, সরকারি ব্যয় বৃদ্ধি ইত্যাদির মাধ্যমে জাতীয় মাথাপিছু আয়ের বৃদ্ধি ঘটায় ফলস্বরূপ সামগ্রিক চাহিদার বৃদ্ধি ও মুদ্রাস্ফীতি ঘটে। মি. 'Y' এর দেশে প্রাকৃতিক দুর্যোগ, মহামারি, উপকরণ সংকট ইত্যাদি কারণে সামগ্রিক যোগান হ্রাস পায় ও মুদ্রাস্ফীতি ঘটে।

- ক. CPI এর পূর্ণরূপ লেখ। ১  
খ. মুদ্রাস্ফীতির ফলে ঋণগ্রহীতা কীভাবে সুবিধা ভোগ করে— ব্যাখ্যা কর। ২  
গ. X ও Y এর দেশের মুদ্রাস্ফীতির প্রভাবের তুলনা কর। ৩  
ঘ. মুদ্রাস্ফীতি নিয়ন্ত্রণে সরকারি পদক্ষেপ কোন দেশে বেশি কার্যকর এবং কেন? বিশ্লেষণ কর। ৪
- ৮। বাংলাদেশের আন্তর্জাতিক বাণিজ্যে তিনটি পণ্যের রপ্তানি আয়ের (মিলিয়ন মার্কিন ডলারে) গতি-প্রকৃতি নিচে দেওয়া হলো :

পণ্যের নাম	২০১৮-২০১৯	২০১৯-২০২০
কাঁচা পাট	১১২	১৩০
পাটজাত দ্রব্য	৭০৪	৭৫২
জুতা	২৭২	২৭৭

- ২০১৯-২০২০ অর্থবছরে যুক্তরাষ্ট্রে ৫.৮৩২ মিলিয়ন মার্কিন ডলার এবং জার্মানিতে ৫.০৯৯ মিলিয়ন মার্কিন ডলারের পণ্য রপ্তানি হয়।

- ক. বিশ্বায়ন কী? ১  
খ. “উন্নত পণ্য রপ্তানি আন্তর্জাতিক বাণিজ্যের মূল লক্ষ্য”—বুঝিয়ে লেখ। ২  
গ. উদ্দীপকের তথ্যের ভিত্তিতে কাঁচা পাট, পাটজাত দ্রব্য ও জুতার গতি-প্রকৃতি স্তম্ভ লেখের সাহায্যে দেখাও। ৩  
ঘ. উদ্দীপকে উল্লিখিত পদক্ষেপগুলো ব্যতীত আর কী কী পদক্ষেপ গ্রহণ করলে রপ্তানি বাণিজ্য সম্প্রসারিত হবে? — তোমার উত্তরের সপক্ষে যুক্তি দাও। ৪
- ৯। ২০১৮-২০১৯ এবং ২০১৯-২০২০ অর্থবছরে উল্লেখযোগ্য কিছু প্রাথমিক ও শিল্পজাত পণ্যের আমদানি ও রপ্তানি তালিকা নিম্নের দেওয়া হলো :

দ্রব্যসমূহ	(মিলিয়ন মার্কিন ডলারে)	
	২০১৮-২০১৯	২০১৯-২০২০
তৈরি পোশাক	১৭,২৪৫	১৪,০৪০
মূলধনী যন্ত্রপাতি	৪,৫১৩	৩,৫৮১
গম	১,৪৩৭	১,৬৫১
নিটওয়্যার	১৬,৮৮৯	১৩,৯০৮
পাটজাত দ্রব্য	৭০৪	৭৫২
তৈল বীজ	৭৯৬	১,১৮৩
হিমায়িত খাদ্য	৫০০	৪৫৬
ক্রিয়াকার	৯৯৩	৮৭৯

- ক. প্রকল্প সাহায্য কী? ১  
খ. “বিশ্বায়ন প্রযুক্তির বিকাশ ঘটায়”— ব্যাখ্যা কর। ২  
গ. উদ্দীপক থেকে আমদানি ও রপ্তানি পণ্যের তালিকা তৈরি কর। ৩  
ঘ. উদ্দীপকের তথ্যের আলোকে আন্তর্জাতিক বাণিজ্যের পরিবর্তনের ধারা বিশ্লেষণ কর। ৪
- ১০। সরকার জনকল্যাণ সাধন, প্রশাসনিক কার্যাবলি, আর্থসামাজিক এবং টেকসই উন্নয়ন, অর্থনৈতিক উন্নয়ন কার্যক্রম পরিচালনার জন্য বিভিন্ন উৎস থেকে আয় করে থাকে। তার মধ্যে উল্লেখযোগ্য হলো— কর রাজস্ব ও করবহির্ভূত রাজস্ব, যেমন— আয়কর, ফি, সম্পূর্ণ শুল্ক, জরিমানা, নন-জুডিশিয়াল স্ট্যাম্প, সুদ, আবগারি শুল্ক, লেভি, ভূমি রাজস্ব ইত্যাদি। সরকার স্থিতিশীল উন্নয়নের জন্য আয় আরও বৃদ্ধির জন্য বিভিন্ন ধরনের পদক্ষেপ গ্রহণ করতে পারে। যেমন— কর ফাঁকি রোধ, করের ভিত্তি প্রসারণ।

- ক. NBR এর পূর্ণরূপ কী? ১  
খ. স্বেচ্ছামূলক দান কোন ধরনের কর? ব্যাখ্যা কর। ২  
গ. উদ্দীপকে উল্লিখিত কর রাজস্ব ও করবহির্ভূত রাজস্বের তালিকা তৈরি কর। ৩  
ঘ. উদ্দীপকে সরকারের আয়ের উৎস হিসেবে কর রাজস্ব ও করবহির্ভূত রাজস্বের মধ্যে কোন উৎসটি আয় বৃদ্ধিতে অধিক ফলপ্রসূ বলে তুমি মনে কর? তোমার উত্তরের সপক্ষে যুক্তি দাও। ৪

- ১১। 'A' দেশের সরকার অর্থনৈতিক উন্নয়ন ও জনগণের কল্যাণের জন্য অর্থ ব্যয় করে। সরকার এ সমস্ত ব্যয় কেন্দ্রীয়ভাবে এবং স্থানীয় কর্তৃপক্ষের মাধ্যমে সম্পন্ন করে থাকে। সরকারি ব্যয়ের প্রধান খাতগুলো হলো— প্রতিরক্ষা, গ্রাম পরিষদ, স্বাস্থ্য ও জনসংখ্যা নিয়ন্ত্রণ, জেলা পরিষদ, পৌরসভা, শিক্ষা, ইউনিসিপ্যাল কর্পোরেশন প্রভৃতি। এসব ব্যয়ের মাধ্যমে যেমন কর্মসংস্থান সৃষ্টি হয়, তেমনি দেশকে টেকসই উন্নয়নের পথে অগ্রসর হতে সাহায্য করে।

- ক. সম্পূর্ণ শুল্ক কী? ১  
খ. মূল্য সংযোজন করকে পরোক্ষ কর বলা হয় কেন? ২  
গ. উদ্দীপকে উল্লিখিত কেন্দ্রীয় ও স্থানীয় ব্যয়ের খাতগুলোর তালিকা তৈরি কর। ৩  
ঘ. কেন্দ্রীয় ব্যয় অর্থনৈতিক উন্নয়নে বেশি সহায়ক কেন? উদ্দীপকের আলোকে বিশ্লেষণ কর। ৪

## সিলেট বোর্ড ২০২২

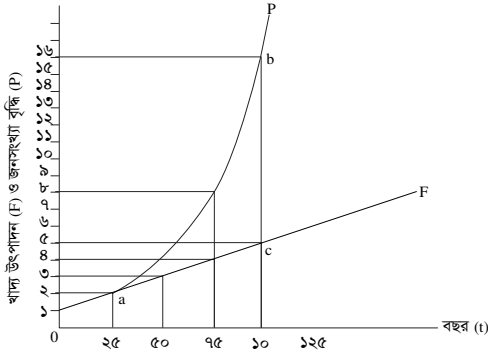
সময় : ২ ঘণ্টা ৩০ মিনিট

### অর্থনীতি দ্বিতীয় পত্র সৃজনশীল প্রশ্ন

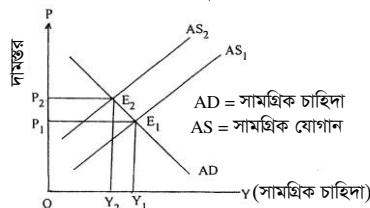
পূর্ণমান : ৭০

**দ্রষ্টব্য :** ডান পাশের সংখ্যা প্রশ্নের পূর্ণমান জ্ঞাপক। নিচের উদ্দীপকগুলো পড় এবং সংশ্লিষ্ট প্রশ্নগুলোর উত্তর দাও। যেকোনো সাতটি প্রশ্নের উত্তর দাও।

- ১। কৃষকদের দারিদ্র্য, অনুন্নত পরিবহন ও যোগাযোগ ব্যবস্থা, গুদামজাতকরণ ও সংরক্ষণের অসুবিধা, দুর্বল বাজার কাঠামো, ঋণের অভাব, ক্রটিপূর্ণ ওজন ও পরিমাপসহ নানাবিধ সমস্যার কারণে কৃষকরা তাদের উৎপাদিত ফসলের ন্যায্যমূল্য প্রাপ্তি হতে বঞ্চিত হয়। ফলে তাদের আর্থসামাজিক উন্নয়ন ব্যাহত হয়। উল্লিখিত সমস্যাগুলো সমাধান করা হলে কৃষকরা উৎপাদিত ফসলের ন্যায্যমূল্য লাভ করবে এবং তাদের জীবনযাত্রার মান উন্নত হবে।
- ক. কৃষি ঋণ কী? ১
- খ. শস্য বহুমুখীকরণের ফলে কর্মসংস্থান কীভাবে প্রভাবিত হয়? ২
- গ. উদ্দীপকে কৃষকদের কোন সমস্যার দিকটি প্রতিফলিত হয়েছে? ব্যাখ্যা কর। ৩
- ঘ. উদ্দীপকে উল্লিখিত সমস্যা সমাধানে তোমার সুপারিশসমূহ তুলে ধর। ৪
- ২। রাকিব ও তুহিন একই গ্রামের দুইজন কৃষক। রাকিবের ছোট আয়তনের জমিতে যে ফসল উৎপাদন হয় তা দ্বারা তার পরিবার কোনোরকমে জীবিকা নির্বাহ করতে পারে। অন্যদিকে তুহিন তার বৃহৎ আয়তনের জমিতে চাষাবাদের আধুনিক পদ্ধতি ব্যবহার করে অধিক ফসল উৎপাদনের মাধ্যমে অধিক মুনাফা অর্জন করে।
- ক. কৃষি কী? ১
- খ. কৃষি খামার ও কৃষিজাত দুটি ভিন্ন ধারণা—ব্যাখ্যা কর। ২
- গ. উদ্দীপকে রাকিবের খামারের ধরন চিহ্নিত করে এই ধরনের খামারের দুটি সমস্যা তুলে ধর। ৩
- ঘ. উদ্দীপকে উল্লিখিত রাকিব ও তুহিনের খামারের মধ্যে তুলনামূলক পার্থক্য আলোচনা কর। ৪
- ৩। নিচের চিত্রটি লক্ষ কর এবং সংশ্লিষ্ট প্রশ্নগুলোর উত্তর দাও :



- ক. নিট অভিবাসন কী? ১
- খ. ভূ-প্রকৃতি জনসংখ্যার একটি গুরুত্বপূর্ণ নির্ধারক—ব্যাখ্যা কর। ২
- গ. উদ্দীপকের আলোকে জনসংখ্যা ও খাদ্য উৎপাদন বৃদ্ধির একটি সূচি তৈরি কর। ৩
- ঘ. উদ্দীপকে জনসংখ্যা বিষয়ক কোন তত্ত্বটি প্রতিফলিত হয়েছে? ব্যাখ্যা কর। ৪
- ৪। 'A' দেশ তার সম্পদকে কাজে লাগিয়ে উৎপাদিত দ্রব্য ও সেবা নিজ দেশের মধ্যে বিনিময় করে। 'B' দেশ তার উৎপাদিত পণ্য ও সেবা নিজ দেশ ও প্রতিবেশী দেশসমূহের মধ্যে বিনিময় করে থাকে। এতে 'B' দেশ তার সম্পদের উত্তম ব্যবহারের মাধ্যমে উদ্বৃত্ত পণ্য রপ্তানি করতে পারে এবং অনুৎপাদিত পণ্য আমদানি করতে পারে। ফলে দেশটি অর্থনৈতিকভাবে লাভবান হয়।
- ক. বিশ্বায়ন কী? ১
- খ. আন্তর্জাতিক বাণিজ্যের ফলে একেটিয়া প্রভাবহাস পায়—ব্যাখ্যা কর। ২
- গ. উদ্দীপকে 'A' ও 'B' দেশে কোন ধরনের বাণিজ্য বিদ্যমান? ব্যাখ্যা কর। ৩
- ঘ. বাংলাদেশের মতো উন্নয়নশীল দেশের অর্থনৈতিক উন্নয়নে 'B' দেশের বাণিজ্যের গুরুত্ব আলোচনা কর। ৪
- ৫। নিচের চিত্রটি লক্ষ কর এবং সংশ্লিষ্ট প্রশ্নগুলোর উত্তর দাও :



- ক. সূচক সংখ্যা কী? ১
- খ. সরকারি ব্যয় বৃদ্ধির ফলে দামস্তর বাড়বে—ব্যাখ্যা কর। ২
- গ. উদ্দীপকে কোন ধরনের মুদ্রাস্ফীতি প্রকাশিত হয়েছে? ব্যাখ্যা কর। ৩
- ঘ. উদ্দীপকে প্রকাশিত মুদ্রাস্ফীতির কারণ ব্যাখ্যা কর। ৪

- ৬। 'A' দেশে ২০১৮ সালে ভোক্তার মূল্যসূচক ছিল ১৬০। ২০২০ সালে ঐ দেশের ভোক্তার মূল্যসূচক বেড়ে ১৮০ হয়। এর ফলে উৎপাদনকারীরা লাভবান হলেও গরিব ও সীমিত আয়ের লোক ভোগান্তির শিকার হয়।
- ক. মুদ্রা সংকোচন কী? ১
- খ. “মুদ্রাস্ফীতির ফলে অর্থের মূল্যহ্রাস পায়”—ব্যাখ্যা কর। ২
- গ. 'A' দেশের ২০২০ সালের মুদ্রাস্ফীতির হার নির্ণয় কর। ৩
- ঘ. উদ্দীপকের আলোকে উৎপাদনকারী এবং গরিব ও সীমিত আয়ের লোকের ওপর মুদ্রাস্ফীতির প্রভাব ব্যাখ্যা কর। ৪
- ৭। জাতীয় ব্যয় নির্বাহের জন্য সরকার বিভিন্ন উৎস যেমন : সরকারের প্রাপ্ত রাজস্ব, বিনিয়োগ প্রতিষ্ঠান, কর ও ঋণ, টাকা ছাপানো এবং অনুদান ও দান প্রভৃতি থেকে অর্থ সংগ্রহ করে। এই সংগৃহীত অর্থ সরকার রাষ্ট্র পরিচালনাসহ বিভিন্ন উন্নয়নমূলক ও জনহিতকর কাজের জন্য ব্যয় করে।
- ক. আমদানি শুল্ক কী? ১
- খ. “ফি বাধ্যতামূলক নয়”—ব্যাখ্যা কর। ২
- গ. উদ্দীপকে সরকারি অর্থব্যবস্থার কোন ধারণা দুটি প্রতিফলিত হয়েছে? ব্যাখ্যা কর। ৩
- ঘ. উদ্দীপকের আলোকে বাংলাদেশ সরকারের ব্যয়ের খাতসমূহ আলোচনা কর। ৪
- ৮। 'A' ব্যক্তির ওপর ধার্যকৃত করের বোঝা আংশিক বা সম্পূর্ণভাবে অন্যের ওপর চাপিয়ে দিতে পারে। কিন্তু 'B' ব্যক্তির ওপর ধার্যকৃত করের বোঝা সম্পূর্ণভাবে তাকেই বহন করতে হয়। 'A' ও 'B' ব্যক্তিদ্বয়ের ওপর ধার্যকৃত দুই ধরনের কর সরকারি আয়ের প্রধান গুরুত্বপূর্ণ উৎস। কিন্তু নিশ্চয়তা, নাগরিক চেতনা, পরিশোধ পদ্ধতি, জনপ্রিয়তা, দামের ওপর প্রভাব বিস্তার ইত্যাদি দিক থেকে কর দুটির মধ্যে পার্থক্য রয়েছে।
- ক. সরকারি অর্থব্যবস্থা কী? ১
- খ. প্রত্যক্ষ কর নাগরিক চেতনা বৃদ্ধিতে সহায়ক। — ব্যাখ্যা কর। ২
- গ. উদ্দীপকে উল্লিখিত কর দুটি চিহ্নিত কর। ৩
- ঘ. উদ্দীপকের আলোকে কর দুটির মধ্যে পার্থক্য বিশ্লেষণ কর। ৪
- ৯। কর্মসংস্থান বৃদ্ধি, কৃষির ওপর জনসংখ্যার চাপ হ্রাস, মহিলাদের কাজের সুযোগ সৃষ্টি, সম্পদের সুস্থ বন্টন ও বৈদেশিক মুদ্রা সাশ্রয়সহ অর্থনৈতিক উন্নয়নে বাংলাদেশের কুটিরশিল্প গুরুত্বপূর্ণ ভূমিকা পালন করলেও নানাবিধ সমস্যার ভারে এ শিল্প জর্জরিত। সহজ শর্তে ও কম সুদে পর্যাপ্ত ঋণের মাধ্যমে মূলধন সরবরাহ করা হলে এ শিল্প অর্থনৈতিক উন্নয়নে আরও বেশি ভূমিকা রাখতে পারবে।
- ক. হাইটেক শিল্প কী? ১
- খ. আমদানি বিকল্প শিল্প কীভাবে বৈদেশিক মুদ্রার রিজার্ভ বৃদ্ধি করে? ব্যাখ্যা কর। ২
- গ. উদ্দীপকে কুটিরশিল্পের কোন সমস্যাটি সমাধানের কথা বলা হয়েছে? ব্যাখ্যা কর। ৩
- ঘ. উদ্দীপকে উল্লিখিত শিল্পের বাংলাদেশের অর্থনৈতিক উন্নয়নে গুরুত্ব ব্যাখ্যা কর। ৪
- ১০। একটি দেশ তার জরুরি, প্রয়োজনে, অর্থনৈতিক উন্নয়নের লক্ষ্যে খাদ্য, ওষুধ, প্রকল্প, দান, অনুদান, ঋণ, আর্থিক ও কারিগরি যেকোনো ধরনের সাহায্য গ্রহণ করতে পারে; যাকে বৈদেশিক সাহায্য বলে। তবে এ ধরনের সাহায্য কঠিন শর্তযুক্ত হয়। অনেক ক্ষেত্রে সুদের হার উচ্চ হয়ে থাকে, প্রত্যক্ষ ও পরোক্ষভাবে দাতার স্বার্থ সংরক্ষণে ব্যবহার হয় এবং গ্রহীতা দেশকে পরনির্ভরশীল করে রাখে। অন্যদিকে বৈদেশিক বাণিজ্যের মাধ্যমে অভ্যন্তরীণ সম্পদের কাম্য ব্যবহার নিশ্চিত করা যায়, স্বাধীনভাবে উন্নয়ন পরিকল্পনা গ্রহণ করা যায় এবং বৈদেশিক নির্ভরশীলতা হ্রাসের মাধ্যমে একটি আত্মনির্ভরশীল জাতি হিসেবে প্রতিষ্ঠা লাভ করা যায়।
- ক. বাণিজ্য কী? ১
- খ. আন্তর্জাতিক বাণিজ্যের মাধ্যমে ভোক্তার কীভাবে উপকৃত হয়? ব্যাখ্যা কর। ২
- গ. বৈদেশিক সাহায্য গ্রহণের পূর্বে কী কী বিষয় খেয়াল রাখা উচিত? উদ্দীপকের আলোকে ব্যাখ্যা কর। ৩
- ঘ. “বৈদেশিক সাহায্য নয়; বৈদেশিক বাণিজ্যই একটি দেশকে আত্মনির্ভরশীল হতে সাহায্য করে।” — উদ্দীপকের আলোকে ব্যাখ্যা কর। ৪
- ১১। স্বল্পশিক্ষিত, আত্মবিশ্বাসী ও কঠোর পরিশ্রমী নাসিমা একদিন স্বপ্ন দেখেছিল সে উদ্যোক্তা হবে; অন্যের অধীনে কাজ করবে না; অন্যকে কাজ দিবে। যুব উন্নয়ন অধিদপ্তরের আওতায় বিভিন্ন প্রশিক্ষণ গ্রহণ করে অল্পকিছু ঋণ নিয়ে হাঁস-মুরগি পালনের মাধ্যমে তার স্বপ্ন বাস্তবায়নের কাজ শুরু করে। আত্মপ্রত্যয়ী ও পরিশ্রমী নাসিমা এখান থেকে ভালো মুনাফা অর্জন করতে থাকে। বর্তমানে সে একটি নার্সারি ও একটি পোন্ডি ফার্মের মালিক এবং তার অধীনে প্রায় ১০ জন লোক কাজ করে।
- ক. জনসংখ্যার ঘনত্ব কী? ১
- খ. মানবসম্পদ উন্নয়নের জন্য শিক্ষা ও প্রশিক্ষণের গুরুত্বপূর্ণ অপরিসীম— ব্যাখ্যা কর। ২
- গ. উদ্দীপকে পাঠ্যপুস্তকের কোন ধারণাটি প্রতিফলিত হয়েছে? ব্যাখ্যা কর। ৩
- ঘ. নাসিমার উদ্যোগ বেকার সমস্যা সমাধানে কীভাবে ভূমিকা রাখতে পারে? উদ্দীপকের আলোকে ব্যাখ্যা কর। ৪

## বরিশাল বোর্ড ২০২২

### অর্থনীতি দ্বিতীয় পত্র সৃজনশীল প্রশ্ন

সময় : ২ ঘণ্টা ৩০ মিনিট

পূর্ণমান : ৭০

**দ্রষ্টব্য :** ডান পাশের সংখ্যা প্রশ্নের পূর্ণমান জ্ঞাপক। নিচের উদ্দীপকগুলো পড় এবং সংশ্লিষ্ট প্রশ্নগুলোর উত্তর দাও। যেকোনো সাতটি প্রশ্নের উত্তর দাও।

- ১। বাগমারা গ্রামের কৃষক আক্লাছ মিয়ার খামারের আয়তন ছোট হওয়ায় বেশি ফসল উৎপাদন করতে পারে না। যা উৎপাদন করে তা দিয়ে শুধুমাত্র তার পরিবারের ভরণপোষণ চলে। অন্যদিকে তার প্রতিবেশী মাসুমের খামারের আয়তন বড় হওয়ায় সে পরিবারের প্রয়োজন মেটানোর পর উদ্বৃত্ত ফসল বিক্রি করে মুনাফা অর্জন করে। এতে তার আর্থিক সচ্ছলতা অর্জিত হয়েছে।
- ক. শস্য বহুমুখীকরণ কী? ১
- খ. “মধ্যস্থভোগীদের ভূমিকার কারণে কৃষকরা ফসলের ন্যায্যমূল্য পায় না।” – ব্যাখ্যা কর। ২
- গ. উদ্দীপকে উল্লিখিত আক্লাছ মিয়ার খামার কোন ধরনের? ব্যাখ্যা কর। ৩
- ঘ. “মাসুমের খামার একটি দেশের দ্রুত অর্থনৈতিক উন্নয়নে গুরুত্বপূর্ণ ভূমিকা রাখতে পারে” – যুক্তিসহ বিশ্লেষণ কর। ৪

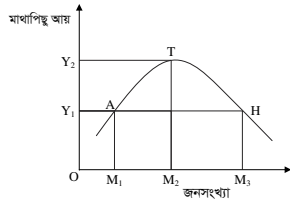
- ২। বাংলাদেশের GDP-তে মৎস্য খাতের অবদান নিচের তালিকায় প্রদর্শিত হলো :

	২০০৯-১০	২০১০-১১	২০১১-১২	২০১৩-১৪	২০১৮-১৯
GDP (কোটি টাকা)	২১,৬০৭	২৩,০৫১	২৪,২৭৯	২৭,৪১৯	৩৭,১৪৬
প্রবৃদ্ধির হার (%)	৪.৬০	৪.৬৯	৫.৩২	৬.৩৬	৬.২১

- ক. কৃষিজাত কাকে বলে? ১
- খ. কৃষকরা ঋণ গ্রহণ করে কেন? ২
- গ. উদ্দীপক থেকে বাংলাদেশের GDP-তে মৎস্য খাতের অবদানের লেখচিত্র অঙ্কন কর। ৩
- ঘ. “বাংলাদেশের অর্থনীতিতে মৎস্য খাতের বিপুল সম্ভাবনা রয়েছে” – উদ্দীপকের সাহায্যে বিশ্লেষণ কর। ৪
- ৩। বাংলাদেশের ওয়াল্টন, ভিশন, মাইওয়ান, মিনিস্টার প্রভৃতি কোম্পানি বর্তমানে দেশেই ভালোমানের টিভি, ফ্রিজ, এয়ারকুলার ইত্যাদি পণ্য উৎপাদন করছে। এতে পূর্বের তুলনায় আমদানি ব্যয় অনেকটা হ্রাস পেয়েছে এবং প্রচুর বৈদেশিক মুদ্রার সাশ্রয় হচ্ছে। এই বিশেষ কৌশল অবলম্বনের ফলে বাংলাদেশ স্বনির্ভরতা অর্জন করছে এবং ভোগ্যপণ্য ও মূলধনী পণ্য উৎপাদনে দক্ষতা অর্জন করছে।
- ক. ppp-এর পূর্ণরূপ লেখ। ১
- খ. “কর্মসংস্থান সৃষ্টিতে কুটিরশিল্প ভালো ভূমিকা রাখে” – ব্যাখ্যা কর। ২
- গ. উদ্দীপকে উল্লিখিত কোম্পানিগুলোর শিল্প কৌশলের পরিচয় ব্যাখ্যা কর। ৩
- ঘ. স্বনির্ভরতা অর্জনে উক্ত কৌশলকে কি ভূমি যথার্থ মনে কর? মতামতসহ বিশ্লেষণ কর। ৪

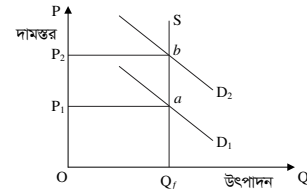
- ৪। পাট বাংলাদেশের একটি গুরুত্বপূর্ণ অর্থকরী ফসল। উৎপাদন খরচ বৃদ্ধি, মূল্য সমস্যা, মূলধন ও উদ্যোক্তার অভাব, পণ্য বহুমুখীকরণের অভাব, বিকল্প দ্রব্যের উপস্থিতি, প্রতিকূল বাণিজ্য শর্ত ইত্যাদি সমস্যা এ শিল্পে থাকলেও সাম্প্রতিক সময়ে বিশ্বের জলবায়ুর পরিবর্তনজনিত কারণে কৃত্রিম আঁশ ও সিনথেটিক দ্রব্য পরিবেশ দূষণের কারণ হওয়ায় পাটের প্রতি বিশ্বব্যাপী আগ্রহ সৃষ্টি হয়েছে। পাট পরিবেশবান্ধব এবং সবুজ পাট থেকে কাগজ ও রেয়ন তৈরির মণ্ড উদ্ভাবন করা হয়েছে, যার চাহিদা সমগ্র বিশ্বে রয়েছে। পলিথিন ব্যাগের বিকল্প হিসেবে পাটের তৈরি ব্যাগের চাহিদা ক্রমশ বাড়ছে। তাই পাটের ভবিষ্যৎ উজ্জ্বল।
- ক. শিল্প কী? ১
- খ. ‘ফার্ম ও শিল্প এক নয়’ – ব্যাখ্যা কর। ২
- গ. উদ্দীপকে উল্লিখিত শিল্পের সমস্যাগুলো ব্যাখ্যা কর। ৩
- ঘ. ‘পাটের ভবিষ্যৎ সম্ভাবনা উজ্জ্বল’ – মতামতসহ বিশ্লেষণ কর। ৪

- ৫। চিত্রটি লক্ষ কর এবং সংশ্লিষ্ট প্রশ্নগুলোর উত্তর দাও :



- ক. জনসংখ্যার ঘনত্ব কী? ১
- খ. “শিক্ষা ও প্রশিক্ষণ মানবসম্পদ উন্নয়নে সহায়তা করে” – ব্যাখ্যা কর। ২
- গ. উদ্দীপক অনুসারে ‘নিম্ন জনসংখ্যা’ ও ‘অধিক জনসংখ্যা’ স্তর ব্যাখ্যা কর। ৩
- ঘ. “উদ্দীপক থেকে কামা জনসংখ্যার স্তর বোঝা যায়” – যুক্তিসহ বিশ্লেষণ কর। ৪
- ৬। যুব উন্নয়ন অধিদপ্তর থেকে প্রশিক্ষণ নিয়ে রাজু স্থানীয় বাজারে একটি কম্পিউটার প্রশিক্ষণ কেন্দ্র খুলল। এখানে কম্পিউটার সংক্রান্ত বেসিক প্রশিক্ষণ, আউটসোর্সিং-এর মাধ্যমে উপার্জন ইত্যাদি প্রশিক্ষণের ব্যবস্থা রয়েছে। স্থানীয় তরুণরা প্রশিক্ষণ নিয়ে তাদের বেকারত্ব দূর করছে এবং ভালো আয় করছে। রাজুর চাকরি খোঁজার আর চিন্তা নেই।

- ক. মানবসম্পদ উন্নয়ন কী? ১
- খ. “জনসংখ্যা বৃদ্ধি খাদ্য সমস্যা সৃষ্টি করে” – ব্যাখ্যা কর। ২
- গ. রাজুর প্রচেষ্টা অর্থনীতিতে কী নামে পরিচিত – ব্যাখ্যা কর। ৩
- ঘ. “বাংলাদেশে কর্মসংস্থানের জন্য এরকম প্রচেষ্টার প্রয়োজন রয়েছে” – মতামতসহ বিশ্লেষণ কর। ৪
- ৭। নিম্ন আয়ের চাকরিজীবী অসীম বাজারে গিয়ে নিত্যপ্রয়োজনীয় দ্রব্যের দাম বৃদ্ধি দেখে চিন্তিত হয়ে পড়লেন। প্রয়োজনীয় অনেক কিছুই কেনা তার জন্য সম্ভব হলো না। অন্যদিকে তার প্রতিবেশী সলিম নিজের জমিতে চাষ করেন। দ্রব্যমূল্য বৃদ্ধিতে তিনি তত চিন্তিত নন।
- ক. মুদ্রাস্ফীতি কাকে বলে? ১
- খ. মজুদদারি ক্ষতিকর কেন? ২
- গ. উদ্দীপকে তোমার পাঠ্যবইয়ের কোন বিষয়কে নির্দেশ করা হয়েছে? ব্যাখ্যা কর। ৩
- ঘ. সলিম দাম বৃদ্ধিতে তত চিন্তিত নন কেন? যুক্তিসহ ব্যাখ্যা কর। ৪
- ৮। বাংলাদেশ বিভিন্ন দেশে জুতা, সিরামিক সামগ্রী, কাঁচা পাট, হিমায়িত খাদ্য, হস্তশিল্পজাত দ্রব্য, চামড়া ও চামড়াজাত দ্রব্য, তৈরি পোশাক, শাকসবজি, ফলমূল, কাগজ, নিউজপ্লেট ইত্যাদি রপ্তানি করে। সাম্প্রতিককালে বাংলাদেশের অপ্রচলিত পণ্য রপ্তানি ক্রমশ বাড়ছে। সরকার রপ্তানি বৃদ্ধির জন্য কর অবকাশ, বিশেষ সুবিধা, রপ্তানি ঋণ, ইপিজেড স্থাপন, বাণিজ্য মেলায় আয়োজন ও অংশগ্রহণ ইত্যাদি বিভিন্ন ব্যবস্থা নিয়েছে।
- ক. অভ্যন্তরীণ বাণিজ্য কাকে বলে? ১
- খ. আন্তর্জাতিক বাণিজ্য কেন হয়? ২
- গ. উদ্দীপক থেকে বাংলাদেশের প্রচলিত ও অপ্রচলিত রপ্তানি পণ্যের পৃথক তালিকা প্রস্তুত কর। ৩
- ঘ. রপ্তানি বৃদ্ধিতে বাংলাদেশ সরকার গৃহীত পদক্ষেপগুলো কতটুকু কার্যকর বলে তুমি মনে কর? মতামতসহ বিশ্লেষণ কর। ৪
- ৯। চিত্রটি লক্ষ কর –



- ক. উল্লেখ্য মুদ্রাস্ফীতি কী? ১
- খ. “অনুৎপাদনশীল খাতে ব্যয় বৃদ্ধি বাংলাদেশে মুদ্রাস্ফীতি ঘটায়” – ব্যাখ্যা কর। ২
- গ. চিত্রে কী ধরনের মুদ্রাস্ফীতি প্রকাশ পেয়েছে ব্যাখ্যা কর। ৩
- ঘ. উদ্দীপকে নির্দেশিত মুদ্রাস্ফীতি রোধে কী কী ব্যবস্থা গ্রহণ করা যেতে পারে? মতামত দাও। ৪
- ১০। শিক্ষা, স্বাস্থ্য, কর্মসংস্থান, পরিবহণ ও যোগাযোগ ব্যবস্থার ব্যয় এবং দুস্থ ও বয়স্ক ভাতাসহ অন্যান্য ভাতা বৃদ্ধির কারণে বাংলাদেশ সরকারের ব্যয় ক্রমশ বাড়ছে। এসব ব্যয় নির্বাহের জন্য সরকার অভ্যন্তরীণ ও বৈদেশিক উৎস থেকে ঋণ গ্রহণ করে থাকে।
- ক. পরোক্ষ কর কাকে বলে? ১
- খ. “বৈদেশিক সাহায্যের চেয়ে বৈদেশিক বাণিজ্য উত্তম” – ব্যাখ্যা কর। ২
- গ. উদ্দীপকের আলোকে সরকারি ব্যয়ের উদ্দেশ্য বিশ্লেষণ কর। ৩
- ঘ. উদ্দীপকে উল্লিখিত সরকারি ঋণের দুটি উৎসের মধ্যে কোনটি উত্তম? যুক্তিসহ ব্যাখ্যা কর। ৪
- ১১। ব্যক্তি তার আয় অনুসারে ব্যয় করে এবং সরকার ব্যয় অনুসারে আয় নির্ধারণ করে। বাংলাদেশ সরকার আয়কর, মূল্য সংযোজন কর, আমদানি শুল্ক, রপ্তানি শুল্ক, আবগারি শুল্ক, সম্পূরক শুল্কসহ বিভিন্নভাবে আয় করে। আবার যানবাহন ফি, ভূমি রাজস্ব, সুদ, জরিমানা, টোল, ডাক, রেজিস্ট্রেশন ইত্যাদি উৎস থেকেও আয় করে। করের ভিত্তি সম্প্রসারণ, অনুৎপাদনশীল খাতে ব্যয় পরিহার, দুর্নীতিমুক্ত প্রশাসন গড়ার মাধ্যমে সরকার তার আয় আরও বাড়াতে পারে।
- ক. ফি কাকে বলে? ১
- খ. আয়করকে প্রত্যক্ষ কর বলা হয় কেন? ২
- গ. উদ্দীপকে উল্লিখিত সরকার আয়ের উৎসগুলোর শ্রেণিবিভাগ কর। ৩
- ঘ. সরকার তার আয় বৃদ্ধিতে উদ্দীপকে উল্লিখিত উপায়গুলোসহ আর কী কী ব্যবস্থা গ্রহণ করতে পারে বলে তুমি মনে কর? আলোচনা কর। ৪

## দিনাজপুর বোর্ড ২০২২

## অর্থনীতি দ্বিতীয় পত্র সৃজনশীল প্রশ্ন

পূর্ণমান : ৭০

সময় : ২ ঘণ্টা ৩০ মিনিট

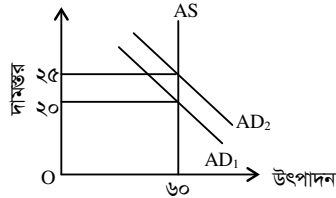
**দ্রষ্টব্য :** ডান পাশের সংখ্যা প্রশ্নের পূর্ণমান জ্ঞাপক। নিচের উদ্দীপকগুলো পড় এবং সংশ্লিষ্ট প্রশ্নগুলোর উত্তর দাও। যেকোনো সাতটি প্রশ্নের উত্তর দাও।

- ১। আনু মিয়া তার উৎপাদিত ধান এ বছর স্থানীয় একটি বাজারে নিয়ে বিক্রি করার আগ্রহ পাচ্ছেন না। কেননা বিগত বছরগুলোতে বেশিরভাগ সময়ে পরিবহণ সমস্যা, দালাল ও ফড়িয়াদের দৌরাড্রাসহ বিভিন্ন সমস্যার সম্মুখীন হয়েছেন। উপরন্তু ন্যায্য দাম পাওয়া নিয়ে রয়েছে অনিশ্চয়তা, তবে আশার বাণী হচ্ছে ইদানীং সরকারের কিছু কিছু ইতিবাচক পদক্ষেপের কথা শোনা যাচ্ছে।
- ক. কৃষির উপখাত কয়টি? ১
- খ. সহজ শর্তে ঋণ প্রাপ্তি কৃষি উন্নয়নে সহায়ক— ব্যাখ্যা কর। ২
- গ. উদ্দীপকে বর্ণিত কৃষিক্ষেত্রের যে সমস্যার কথা প্রকাশ করা হয়েছে তার বর্ণনা দাও। ৩
- ঘ. উপরিউক্ত সমস্যা সমাধানে কী কী পদক্ষেপ গ্রহণ করা উচিত বলে তুমি মনে কর? ৪

দ্রব্য	পরিমাণ (Q <sub>০</sub> )	ভিত্তি বছর দাম (P <sub>০</sub> )	বর্তমান বছর দাম (P <sub>১</sub> )
X	5	20	40
Y	5	30	60

- ২।
- ক. মুদ্রাস্ফীতি কাকে বলে? ১
- খ. সহনীয় পর্যায়ে মুদ্রাস্ফীতি কীভাবে অর্থনীতির জন্য সহায়ক? ব্যাখ্যা কর। ২
- গ. উদ্দীপকের ভিত্তিতে ভোক্তার দাম সূচক নির্ণয় কর। ৩
- ঘ. প্রাপ্ত ফলাফল থেকে দামস্তরের বৃদ্ধি জনজীবনে কী প্রভাব ফেলবে বলে তুমি মনে কর? ব্যাখ্যা দাও। ৪

৩।



- ক. সূচক সংখ্যা কী? ১
- খ. মুদ্রাস্ফীতি ঘটানোর জন্য অতিরিক্ত সরকারি ব্যয় কতখানি দায়ী? ব্যাখ্যা কর। ২
- গ. উদ্দীপকের আলোকে মুদ্রাস্ফীতির হার নির্ণয় কর। ৩
- ঘ. উদ্দীপকে দামস্তর ২০ থেকে ২৫ হওয়ার কারণ ও প্রতিকার উল্লেখ কর। ৪
- ৪। 'A' ও 'B' দুটি দেশ। 'A' দেশ দীর্ঘদিন ধরে 'B' দেশ থেকে সাহায্য গ্রহণ করে আসছে। এখন 'A' দেশের কর্তৃপক্ষ অনুধাবন করতে পারছে তারা দাতা দেশ 'B' এর উপর নির্ভরশীল হওয়ার পাশাপাশি দর কষাকষির ক্ষমতা লোপ পাচ্ছে। প্রতীয়মান হচ্ছে আরও নানাবিধ সমস্যা।
- ক. বিশ্বায়ন কী? ১
- খ. আন্তর্জাতিক বাণিজ্য উৎপাদন বৃদ্ধি করে— ব্যাখ্যা কর। ২
- গ. উদ্দীপকে উল্লিখিত সমস্যাসমূহ ব্যাখ্যা কর। ৩
- ঘ. উপরিউক্ত সমস্যা ছাড়া আরও কী কী সমস্যা হতে পারে বলে তুমি মনে কর, বর্ণনা দাও। ৪
- ৫। কোভিড-১৯ মহামারির কারণে বাংলাদেশে গত ২০১৯-২০ অর্থবছরে রপ্তানি আয় পূর্ববর্তী বছরের তুলনায় হ্রাস পেয়ে দাঁড়ায় ৩৩,৬৭৪.০৯ মিলিয়ন মার্কিন ডলারে। কিন্তু জুলাই ২০ মে ২০২১ সময়ে রপ্তানি আয় বেড়ে দাঁড়ায় ৩৫,১৮০.৮১ মিলিয়ন মার্কিন ডলার। এর মধ্যে কৃষিপণ্য রাসায়নিক দ্রব্য, চামড়া ও চামড়াজাত দ্রব্য, পাট ও পাটজাত দ্রব্য, নিটওয়্যার, তৈরি পোশাক প্রভৃতি রপ্তানি পণ্যের ইতিবাচক প্রবৃদ্ধি ঘটেছে।
- ক. অভ্যন্তরীণ বাণিজ্য কাকে বলে? ১
- খ. একেবারে বাণিজ্য না হওয়ার চেয়ে কিছুটা বাণিজ্য হওয়াও ভালো— ব্যাখ্যা কর। ২
- গ. উদ্দীপকে বর্ণিত দ্রব্যগুলোকে প্রচলিত ও অপ্রচলিত এ দুভাগে ভাগ কর। ৩
- ঘ. বাংলাদেশের রপ্তানির গতিধারা উদ্দীপকের আলোকে ব্যাখ্যা কর। ৪

- ৬। জনসংখ্যা নিয়ে বিভিন্ন তত্ত্ব প্রচলিত আছে। তন্মধ্যে দুটি তত্ত্ব বহুল প্রচলিত। একটিতে জনসংখ্যার আধিক্য ও খাদ্য উৎপাদন সম্পর্কে আলোকপাত করা হয়েছে। অন্যটিতে গুরুত্ব দেওয়া হয়েছে মাথাপিছু আয় ও সংশ্লিষ্ট জনসংখ্যার ওপর।
- ক. জনসংখ্যার ঘনত্ব কী? ১
- খ. প্রাকৃতিক ব্যবস্থা (Positive checks) কীভাবে জনসংখ্যা নিয়ন্ত্রণ করে? ২
- গ. উদ্দীপকে উল্লিখিত দ্বিতীয় তত্ত্বটির মূল বক্তব্য ব্যাখ্যা কর। ৩
- ঘ. উদ্দীপকে উল্লিখিত প্রথম তত্ত্বটি বাংলাদেশের সাথে সামঞ্জস্যপূর্ণ কিনা? মতামত দাও। ৪
- ৭। 'ক' দেশে কোনো এক বছরে ২০ লক্ষ জীবিত শিশু জন্মগ্রহণ করে। মৃত্যুবরণ করে ১০ লক্ষ লোক। উক্ত বছরের মধ্যসময়ে মোট লোকসংখ্যা ছিল ১০ কোটি। সম্পদ সীমিত হওয়ার কারণে বেকারত্বসহ নানাবিধ সমস্যা দেখা দিচ্ছে।
- ক. আত্মকর্মসংস্থান কী? ১
- খ. নিট অভিবাসন ধারণাটি ব্যাখ্যা কর। ২
- গ. 'ক' দেশের জন্মহার নির্ণয় কর। ৩
- ঘ. উদ্দীপকে বর্ণিত সমস্যা সমাধানে তোমার সুপারিশসমূহ উল্লেখ কর। ৪
- ৮। আমাদের দেশে স্বল্প পুঁজি ও পরিবারের সদস্যদের নিয়ে গঠিত শিল্পের উৎপাদিত দ্রব্য আকর্ষণীয় ও তুলনামূলকভাবে সস্তা। কিন্তু যারা উৎপাদন করে তারা গরিব ও কষ্টে জীবনযাপন করে। উপরন্তু বৃহৎ শিল্পের সাথে প্রতিযোগিতায় টিকে থাকাও কষ্টসাধ্য হয়ে গেছে।
- ক. শিল্প কাঠামো কী? ১
- খ. 'পাট শিল্প আন্তর্জাতিক বাজার হারাচ্ছে'— ব্যাখ্যা কর। ২
- গ. উদ্দীপকে কোন ধরনের শিল্পের কথা উল্লেখ আছে বুঝিয়ে লেখ। ৩
- ঘ. উল্লিখিত শিল্পের সমস্যাসমূহ সমাধানে কী কী পদক্ষেপ গ্রহণ করা যেতে পারে? ৪
- ৯। 'X' নামক দেশের সরকার জনগণের কল্যাণার্থে পরিবহণ খাত এবং অবকাঠামোগত উন্নয়নের জন্য প্রতিবছরই পরিকল্পনা গ্রহণ করে। কিন্তু সম্পদের সীমাবদ্ধতার কারণে যথাসময়ে পরিকল্পনা বাস্তবায়ন করা সম্ভব হচ্ছিল না। তাই এ বছর সরকারি-বেসরকারি অংশীদারি অর্থায়নে প্রকল্প বাস্তবায়নের সিদ্ধান্ত নেয়া হয়েছে।
- ক. ক্ষুদ্র শিল্প কাকে বলে? ১
- খ. আমদানি বিকল্প শিল্প কেন প্রয়োজন? ব্যাখ্যা কর। ২
- গ. উদ্দীপকে কোন কৌশলের প্রতি ইঙ্গিত করা হয়েছে— ব্যাখ্যা দাও। ৩
- ঘ. তুমি কি মনে কর বাংলাদেশে এ কৌশল প্রয়োগ ইতিবাচক ভূমিকা রাখছে ব্যাখ্যা কর। ৪
- ১০। বর্তমান বিশ্বে প্রায় সব দেশেরই সরকারি ব্যয় ক্রমাগতভাবে বৃদ্ধি পাচ্ছে। এই ব্যয়ভার মেটানোর জন্য 'B' দেশের সরকার আয়কর, ভ্যাট ও বিভিন্ন ধরনের ফি এর হার বৃদ্ধি করার সিদ্ধান্ত নিয়েছে। এতেও ব্যয় সংকুলান না হলে কেন্দ্রীয় ব্যাংক ও বাণিজ্যিক ব্যাংক থেকে ঋণ গ্রহণ করার সুযোগ রয়েছে।
- ক. কর বলতে কী বোঝ? ১
- খ. পরোক্ষ কর তুলনামূলকভাবে জনপ্রিয় কেন? ২
- গ. প্রদত্ত উদ্দীপকে সরকারের অর্থ সংগ্রহের উৎসের ধরন উল্লেখ কর। ৩
- ঘ. উদ্দীপকে উল্লিখিত উৎস থেকে ঋণ গ্রহণ করা অর্থনীতির জন্য কতখানি যুক্তিযুক্ত? ব্যাখ্যা কর। ৪
- ১১। বন্যা, ঘূর্ণিঝড় প্রভৃতির মতো প্রাকৃতিক দুর্যোগের কারণে বাংলাদেশের উপকূলীয় অঞ্চল প্রায় বছরই প্লাবিত হয়। এতে জমির লবণাক্ততা বাড়ে এবং উৎপাদন ক্ষমতা কমে। বর্তমানে কৃষি বিভাগ ও অন্যান্য সংস্থা বিভিন্ন প্রযুক্তির উদ্ভাবন ও প্রয়োগের মাধ্যমে এ সমস্যা থেকে উত্তরণের চেষ্টা করছে।
- ক. কৃষিকাজ কী? ১
- খ. শিল্পের কাঁচামালের জন্য কৃষির গুরুত্ব অপরিহার্য— ব্যাখ্যা কর। ২
- গ. বাংলাদেশের কৃষির ওপর প্রাকৃতিক দুর্যোগের প্রভাব উদ্দীপকের আলোকে ব্যাখ্যা কর। ৩
- ঘ. উদ্দীপকে উল্লিখিত সমস্যা সমাধানে তুমি কী কী সুপারিশ করবে? ৪

## ময়মনসিংহ বোর্ড ২০২২

### অর্থনীতি দ্বিতীয় পত্র সৃজনশীল প্রশ্ন

সময় : ২ ঘণ্টা ৩০ মিনিট

পূর্ণমান : ৭০

**দ্রষ্টব্য :** ডান পাশের সংখ্যা প্রশ্নের পূর্ণমান জ্ঞাপক। নিচের উদ্দীপকগুলো পড় এবং সংশ্লিষ্ট প্রশ্নগুলোর উত্তর দাও। যেকোনো সাতটি প্রশ্নের উত্তর দাও।।

- ১। সাদেক আলী একজন সাধারণ কৃষক। তিনি গতানুগতিক উৎপাদন পদ্ধতি ব্যবহার করে ফসল উৎপাদন করেন। উৎপাদিত ফসল দিয়ে তিনি পারিবারিক প্রয়োজন পূরণ করে থাকেন। অন্যদিকে হাসান সরকার একজন প্রতিষ্ঠিত কৃষক। তিনি আধুনিক উৎপাদন পদ্ধতি ব্যবহার করে ফসল উৎপাদন করেন। উৎপাদিত ফসল বিক্রয় করে তিনি ভালোই মুনাফা অর্জন করে থাকেন।

- ক. কৃষি খামার কী? ১  
খ. “শস্য বহুমুখীকরণ কৃষি উৎপাদনে ঝুঁকি কমায়”— ব্যাখ্যা কর। ২  
গ. সাদেক আলীর উৎপাদনের সাথে সংগতিপূর্ণ কৃষি খামারের স্বরূপ ব্যাখ্যা কর। ৩  
ঘ. সাদেক আলী ও হাসান সরকারের কৃষি খামারের মধ্যে তুলনামূলক বিশ্লেষণ কর। ৪

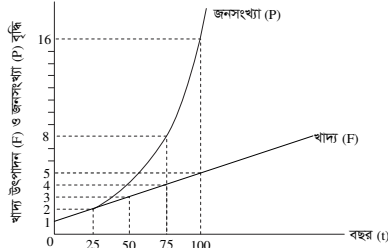
- ২। জনাব আজম তার নিজস্ব কৃষি জমিতে চাষাবাদ করার জন্য ঋণ গ্রহণ করেন। আত্মীয়স্বজন, গ্রাম্য মহাজন ও বন্ধু-বান্ধবদের কাছ থেকে তিনি যে ঋণ পেয়েছেন তা পর্যাপ্ত নয়। গ্রামে কৃষি ঋণের যোগানের অপরিপূর্ণতা ও ঋণদান প্রতিষ্ঠানের স্বল্পতার কারণে তিনি ইতোপূর্বে অনন্যোপায় হয়েই এ ঋণ গ্রহণ করেন। সম্প্রতি সরকার কৃষি উন্নয়নে উপকরণ বিতরণ, বীজ সহায়তা, প্রকৃত কৃষকদের মধ্যে খাস জমি বন্টন এবং সেচ সুবিধা সম্প্রসারণের উদ্যোগ গ্রহণ করেছে।

- ক. কৃষি ঋণ কী? ১  
খ. কৃষি পরিবেশের ওপর নির্ভরশীল—ব্যাখ্যা কর। ২  
গ. উদ্দীপকে উল্লিখিত যে উৎস হতে জনাব আজম ঋণ গ্রহণ করেছেন তা ব্যাখ্যা কর। ৩  
ঘ. উদ্দীপকের আলোকে বাংলাদেশের কৃষি উন্নয়নে সরকারের গৃহীত কর্মসূচির মূল্যায়ন কর। ৪

- ৩। মিসেস ফারজানা একজন নারী উদ্যোক্তা। তিনি স্ব-অর্থায়নে ঘরোয়া পরিবেশে বাঁশ ও বেতের দ্বারা বিভিন্ন দ্রব্যসামগ্রী তৈরি করেন। তাকে এ কাজে তার স্বামী সহযোগিতা করেন। ইদানীং তার উৎপাদিত পণ্যের চাহিদা বেড়েছে। কিন্তু তার পুঁজি স্বল্প। ঋণের জন্য তিনি একটি ঋণদানকারী প্রতিষ্ঠানের সাথে যোগাযোগ করেন। প্রতিষ্ঠানটি তাকে সহজ শর্তে ঋণ দেয়। ঋণের অর্থ দ্বারা উৎপাদন বাড়িয়ে তিনি বেশ ভালো মুনাফা অর্জন করছেন।

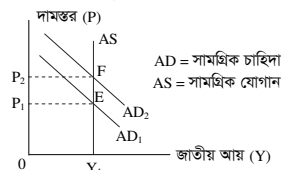
- ক. শিল্প কী? ১  
খ. ফার্ম কি শিল্প হতে পারে? ২  
গ. উদ্দীপকে উল্লিখিত মিসেস ফারজানার উৎপাদনকে কোন ধরনের শিল্প বলা হয়? ব্যাখ্যা কর। ৩  
ঘ. বাংলাদেশের অর্থনীতিতে উদ্দীপকে উল্লিখিত শিল্পের গুরুত্ব বিশ্লেষণ কর। ৪

- ৪। নিচের চিত্রটি লক্ষ কর এবং প্রশ্নগুলোর উত্তর দাও :



- ক. অভিবাসন কী? ১  
খ. অধিক জনসংখ্যা কীভাবে বৈদেশিক নির্ভরশীলতা বৃদ্ধি করে? ২  
গ. উদ্দীপকের চিত্রের সাথে সামঞ্জস্যপূর্ণ তথ্যটি ব্যাখ্যা কর। ৩  
ঘ. উদ্দীপকের তথ্যের আলোকে বাংলাদেশের জনসংখ্যা পরিস্থিতি মূল্যায়ন কর। ৪

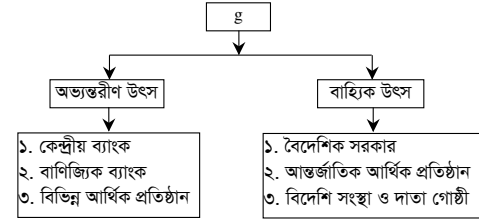
- ৫। নিচের চিত্রটি লক্ষ কর এবং প্রশ্নগুলোর উত্তর দাও :



- চিত্রে প্রদর্শিত পরিস্থিতি নিয়ন্ত্রণে সরকার ব্যাংক হার, নগদ রিজার্ভ অনুপাত, সরকারি ব্যয় ও করহার পরিবর্তনের উদ্যোগ গ্রহণ করেছে।

- ক. সূচক সংখ্যা কী? ১  
খ. “মুদ্রাস্ফীতি সর্বদা খারাপ নয়”— ব্যাখ্যা কর। ২  
গ. উদ্দীপকের চিত্রে কোন ধরনের মুদ্রাস্ফীতি দেখানো হয়েছে ব্যাখ্যা কর। ৩  
ঘ. চিত্রে প্রদর্শিত মুদ্রাস্ফীতি নিয়ন্ত্রণে উদ্দীপকে উল্লিখিত সরকারের পদক্ষেপগুলো মূল্যায়ন কর। ৪

- ৬। নিচের টেবিলটি লক্ষ কর এবং প্রশ্নগুলোর উত্তর দাও :



- ক. ফি কী? ১  
খ. আয়করকে প্রত্যক্ষ কর বলা হয় কেন? ২  
গ. উদ্দীপকে উল্লিখিত 'g' চিহ্নিত স্থানের প্রাসঙ্গিক বিষয়টি উল্লেখ কর এবং ব্যাখ্যা কর। ৩  
ঘ. উদ্দীপকে উল্লিখিত দুই ধরনের উৎসের তুলনামূলক সুবিধা ও অসুবিধাগুলো বিশ্লেষণ কর। ৪

- ৭। বাংলাদেশে ১৯৭৬ সালে রপ্তানি শুরু করা শিল্পটিকে মোট রপ্তানি আয়ের ৮-৬% অর্জিত হয় এবং প্রায় ৪৪ লক্ষ শ্রমিক কর্মরত রয়েছে। বর্তমানে শিল্পটি প্রতিকূল কর্মপরিবেশ, বিশ্ব বাজারে প্রবল প্রতিযোগিতা, কাঁচামালের সংকট, শ্রমিক অসন্তোষ প্রভৃতি সমস্যা দ্বারা জর্জরিত। এ সকল সমস্যার সমাধানে সরকার বিভিন্ন পদক্ষেপ গ্রহণ করেছে।

- ক. রপ্তানিমুখী শিল্প কী? ১  
খ. আমদানি বিকল্প শিল্প কীভাবে দেশকে স্বনির্ভর হতে সাহায্য করে ব্যাখ্যা কর। ২  
গ. উদ্দীপকে উল্লিখিত শিল্পটি চিহ্নিত কর এবং এর সমস্যাসমূহ তুলে ধর। ৩  
ঘ. সরকারের পদক্ষেপসমূহ কী হতে পারে? উদ্দীপকের আলোকে তোমার মতামত দাও। ৪

- ৮। 'X' একটি জনবহুল দেশ। এই বিপুল জনসংখ্যা দেশটির খাদ্য, জনস্বাস্থ্য, কর্মসংস্থান ও পরিবেশের ওপর বিরূপ প্রতিক্রিয়া সৃষ্টি করেছে। এ সমস্যা সমাধানে সম্প্রতি দেশটির সরকার পরিবার পরিকল্পনা কর্মসূচি জোরদারকরণ, বাধ্যতামূলক প্রাথমিক শিক্ষা চালুকরণ, সবার জন্য চিকিৎসাসেবা নিশ্চিতকরণ এবং মানবসম্পদ উন্নয়নের মতো কিছু কর্মসূচি গ্রহণ করেছে।

- ক. জনসংখ্যার ঘনত্ব কী? ১  
খ. শিক্ষা ও প্রশিক্ষণ কীভাবে মানবসম্পদ উন্নয়নে সহায়তা করে? ২  
গ. 'X' দেশের সমস্যাগুলো উদ্দীপকের আলোকে ব্যাখ্যা কর। ৩  
ঘ. 'X' দেশের সরকারের গৃহীত কর্মসূচিগুলো বাংলাদেশের প্রেক্ষিতে বিশ্লেষণ কর। ৪

- ৯। 'A' দেশের দামস্তর ক্রমাগত বাড়ছে। দেশটিতে ২০১৯ ও ২০২০ সালের ভোক্তার দাম সূচক যথাক্রমে ১২৫ ও ১৫০। ফলস্বরূপ দেশটির কৃষক, সীমিত আয়ের জনগণ, উৎপাদক, ব্যবসায়ী, ঋণদাতা ও ঋণগ্রহীতার ওপর বিভিন্ন প্রভাব পরিলক্ষিত হয়।

- ক. ভোক্তার দাম সূচক কী? ১  
খ. সরকারি ব্যয় কীভাবে মুদ্রাস্ফীতি সৃষ্টি করে? ব্যাখ্যা কর। ২  
গ. উদ্দীপকের আলোকে 'A' দেশের মুদ্রাস্ফীতির হার পরিমাপ কর। ৩  
ঘ. উদ্দীপকে উল্লিখিত বিভিন্ন শ্রেণিতে ব্যক্তির ওপর মুদ্রাস্ফীতির প্রভাব আলোচনা কর। ৪

- ১০। রহিম সাহেব সুন্দরবন থেকে মধু সংগ্রহ করে দেশের বিভিন্ন স্থানে বিক্রি করেন। অন্যদিকে নিজাম সাহেব সিরামিক ফ্যাক্টরির মালিক। তিনি দেশীয় বাজারের পাশাপাশি ইউরোপের বিভিন্ন দেশে পণ্য বিক্রয় করেন। নিজাম সাহেবের অর্জিত আয় দেশের অর্থনীতিতে উল্লেখযোগ্য অবদান রাখছে।

- ক. বিশ্বায়ন কী? ১  
খ. বিদ্যুৎ ও গ্যাসের দাম কীভাবে রপ্তানি বাণিজ্য সম্প্রসারণে বাধা সৃষ্টি করে? ২  
গ. রহিম সাহেব ও নিজাম সাহেবের বাণিজ্যের ধরন চিহ্নিত কর এবং ব্যাখ্যা কর। ৩  
ঘ. নিজাম সাহেবের বাণিজ্য দেশের সম্পদ ব্যবহার, উৎপাদন, বাজার সম্প্রসারণ এবং মূলধনের গতিশীলতার ওপর কী প্রভাব ফেলে? বিশ্লেষণ কর। ৪

- ১১। বর্তমান সময়ে সরকার মানবসম্পদ উন্নয়ন, কর্মসংস্থান সৃষ্টি, সামাজিক নিরাপত্তা এবং পরিবহন ও যোগাযোগ ব্যবস্থার উন্নয়নে বিপুল পরিমাণ অর্থ ব্যয় করে। এসব খাতে বরাদ্দকৃত অর্থ সংগ্রহের জন্য সরকার মূল্য সংযোজন কর, আমদানি শুল্ক, রপ্তানি শুল্ক এবং আবগারি শুল্কের ওপর নির্ভরশীল।

- ক. সরকারি আয় কী? ১  
খ. কর ও ফি একই কিনা ব্যাখ্যা কর। ২  
গ. উদ্দীপকের আলোকে সরকারি ব্যয়ের উদ্দেশ্যসমূহ চিহ্নিত কর এবং ব্যাখ্যা কর। ৩  
ঘ. উদ্দীপকে বর্ণিত সরকারি আয়ের খাতসমূহ যথেষ্ট কিনা মন্তব্য কর। ৪

## ঢাকা বোর্ড ২০২৩

বিষয় কোড 1110

সময় : ৩০ মিনিট

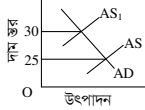
## অর্থনীতি দ্বিতীয় পত্র বহুনির্বাচনী অভীক্ষা

পূর্ণমান : ৩০

[বিশেষ দৃষ্টব্য : সরবরাহকৃত বহুনির্বাচনী অভীক্ষার উত্তরপত্রে প্রশ্নের ক্রমিক নম্বরের বিপরীতে প্রদত্ত বর্ণসংবলিত বৃত্তসমূহ হতে সঠিক/সর্বোৎকৃষ্ট উত্তরের বৃত্তটি বল পয়েন্ট কলম দ্বারা সম্পূর্ণ ভরাট কর। প্রতিটি প্রশ্নের মান ১। প্রশ্নপত্রে কোনো প্রকার দাগ/চিহ্ন দেওয়া যাবে না।]

১. ম্যালথাসের জনসংখ্যা তত্ত্ব অনুসারে যে সময়ে খাদ্য উৎপাদন ৫ গুণ বৃদ্ধি পায় সে সময়ে জনসংখ্যা বৃদ্ধি পাবে—  
 (ক) ৪ গুণ (খ) ৫ গুণ (গ) ৮ গুণ (ঘ) ১৬ গুণ

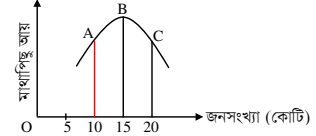
■ চিত্রের আলোকে ২ ও ৩নং প্রশ্নের উত্তর দাও :



২. উদ্দীপকে মুদ্রাস্ফীতির হার কত?  
 (ক) ২০% (খ) ২৫% (গ) ৩০% (ঘ) ৩৫%
৩. চিত্রে যে ধরনের মুদ্রাস্ফীতি দেখানো হয়েছে—  
 (ক) চাহিদা বৃদ্ধিজনিত (খ) ব্যয় বৃদ্ধিজনিত  
 (গ) ঘাটতি প্ররোচিত (ঘ) অবদমিত
৪. অধিকাংশ ক্ষেত্রে মুদ্রাস্ফীতি নিয়ন্ত্রণের জন্য যে পদ্ধতি অনুসরণ করা হয়—  
 (ক) আর্থিক নীতি  
 (খ) রাজস্বনীতি  
 (গ) আমদানি বৃদ্ধি  
 (ঘ) সর্বোচ্চ দাম নির্ধারণ
৫. মুদ্রাস্ফীতির ফলে কে লাভবান হয়?  
 (ক) ঋণদাতা (খ) উৎপাদনকারী  
 (গ) ভোক্তা (ঘ) শ্রমিক
- উদ্দীপকটি পড়ে ৬ ও ৭নং প্রশ্নের উত্তর দাও :  
 মাজেদা বেগম স্বামী-সন্তান হারা। তার রোজগারের কোনো পথ নেই। ইউপি সদস্য তাকে সরকারি সহায়তার কার্ড করে দেয়, যা থেকে প্রতি মাসে তিনি আর্থিক অনুদান পান।
৬. উদ্দীপকে বর্ণিত সরকারি ব্যয় দ্বারা কোন উদ্দেশ্য অর্জিত হবে?  
 (ক) কর্মসংস্থান বৃদ্ধি (খ) আইন শৃঙ্খলা রক্ষা  
 (গ) সামাজিক নিরাপত্তা (ঘ) জাতীয় আয় বৃদ্ধি
৭. মাজেদা কেমনে প্রদত্ত সরকারের সাহায্যটি হতে পারে—  
 i. বয়স্ক ভাতা  
 ii. বিধবা ভাতা  
 iii. স্বামী পরিত্যক্ত ভাতা
- নিচের কোনটি সঠিক?  
 (ক) i ও ii (খ) i ও iii (গ) ii ও iii (ঘ) i, ii ও iii
৮. বিশ্বায়ন বলতে মূলত বোঝায়—  
 (ক) ভৌগোলিক বিশ্বায়ন  
 (খ) অর্থনৈতিক বিশ্বায়ন  
 (গ) রাজনৈতিক বিশ্বায়ন  
 (ঘ) তথ্যগত বিশ্বায়ন
৯.  $B_T = (X - M) > 0$  দ্বারা কী নির্দেশ করে?  
 (ক) লেনদেন ভারসাম্য  
 (খ) বাণিজ্যের ভারসাম্য  
 (গ) অনুকূল বাণিজ্যের ভারসাম্য  
 (ঘ) প্রতিকূল বাণিজ্যের ভারসাম্য
১০. সরকারের অভ্যন্তরীণ ঋণের উৎস হলো—  
 i. বন্ড বিক্রি  
 ii. বাণিজ্যিক ব্যাংক  
 iii. IMF
- নিচের কোনটি সঠিক?  
 (ক) i ও ii (খ) i ও iii (গ) ii ও iii (ঘ) i, ii ও iii
১১. ১৯৯১ সাল থেকে পণ্য ও সেবার মূল্যের ওপর আরোপিত করকে বলে—  
 (ক) বিক্রয় কর  
 (খ) মূল্য সংযোজন কর  
 (গ) আবগারি শুল্ক  
 (ঘ) পণ্য কর

১২. বর্তমানে দেশে বাৎসরিক তিন লক্ষ বা বেশি আয়ের জনগণের ওপর আরোপিত কর হলো—  
 (ক) আয়কর  
 (খ) সম্পত্তি কর  
 (গ) আমোদ-প্রমোদ কর  
 (ঘ) সম্পূরক কর
১৩. শিল্পনীতি, ২০১৬ অনুসারে শিল্পকে কয়টি শাখায় শ্রেণিবিন্যাস করা হয়েছে?  
 (ক) ৯ (খ) ১২ (গ) ১৫ (ঘ) ১৮
১৪. নিচের কোন শিল্পটি শুধুমাত্র সরকারি বিনিয়োগের জন্য নির্ধারিত?  
 (ক) হাইটেক শিল্প (খ) সৃজনশীল শিল্প  
 (গ) সংরক্ষিত শিল্প (ঘ) ভারি শিল্প
- উদ্দীপকটি পড়ে ১৫ ও ১৬নং প্রশ্নের উত্তর দাও :  
 তৈরি পোশাক শিল্পের অপরিহার্য আনুষঙ্গিক উপকরণ সূতা, বোতাম, জিপার, লেবেল ইত্যাদি পূর্বে সম্পূর্ণভাবে আমদানি করা হতো। বর্তমানে শতভাগ দেশেই উৎপাদিত হচ্ছে এবং জাতীয় অর্থনীতিতে অবদান রাখছে।
১৫. উদ্দীপকে উল্লিখিত উপকরণগুলো কোন ধরনের শিল্পের অন্তর্গত?  
 (ক) ক্ষুদ্র শিল্প  
 (খ) কুটির শিল্প  
 (গ) আমদানি বিকল্প শিল্প  
 (ঘ) রপ্তানিমুখী শিল্প
১৬. উদ্দীপকে উল্লিখিত শিল্প অবদান রাখছে—  
 i. কর্মসংস্থান বৃদ্ধিতে  
 ii. বৈদেশিক মুদ্রা সাশ্রয়ে  
 iii. রপ্তানি বৃদ্ধিতে
- নিচের কোনটি সঠিক?  
 (ক) i ও ii (খ) i ও iii (গ) ii ও iii (ঘ) i, ii ও iii
১৭. কাম্য জনসংখ্যার সূত্রটি প্রদান করেন—  
 (ক) ম্যালথাস (খ) কে. ই. বোল্ডিং  
 (গ) ডালটন (ঘ) এডাম স্মিথ
১৮. জনসংখ্যার ঘনত্ব নির্ণয়ের সূত্র :  
 (ক)  $DP = TP + TA$  (খ)  $DP = TP \times TA$   
 (গ)  $DP = \frac{TA}{TP}$  (ঘ)  $DP = \frac{TP}{TA}$
১৯. দেশের জনগণ পরিবার পরিকল্পনা গ্রহণের ফলে—  
 i. দেশে জন্মহার বাড়বে  
 ii. জীবনযাত্রার মান বাড়বে  
 iii. সামাজিক অবক্ষয় কমবে
- নিচের কোনটি সঠিক?  
 (ক) i ও ii (খ) i ও iii (গ) ii ও iii (ঘ) i, ii ও iii
২০. আন্তর্জাতিক বাণিজ্যে বিধিনিষেধ থাকলে তাকে বলা হয়—  
 (ক) সংরক্ষিত বাণিজ্য  
 (খ) অবাধ বাণিজ্য  
 (গ) আমদানি বাণিজ্য  
 (ঘ) রপ্তানি বাণিজ্য
২১. রপ্তানি বৃদ্ধিতে যে সব পদক্ষেপ নেওয়া যেতে পারে—  
 i. রপ্তানি নীতি প্রণয়ন  
 ii. বিদেশে বাণিজ্য প্রতিনিধি প্রেরণ  
 iii. আন্তর্জাতিক বাণিজ্য মেলায় অংশগ্রহণ
- নিচের কোনটি সঠিক?  
 (ক) i ও ii (খ) i ও iii (গ) ii ও iii (ঘ) i, ii ও iii
২২. দেশীয় উৎপাদিত পণ্য ও সেবার ওপর আরোপিত করকে বলে—  
 (ক) আবগারি শুল্ক  
 (খ) আয়কর  
 (গ) বিক্রয় কর  
 (ঘ) সম্পূরক শুল্ক

■ উদ্দীপকটি পড়ে ২৩ ও ২৪নং প্রশ্নের উত্তর দাও :



২৩. উপরের চিত্রটি জনসংখ্যার কোন তত্ত্বের সাথে সম্পর্কিত?  
 (ক) ম্যালথাসের জনসংখ্যা তত্ত্ব  
 (খ) জনমিতিক তত্ত্ব  
 (গ) কাম্য জনসংখ্যা তত্ত্ব  
 (ঘ) মানবসম্পদ উন্নয়ন তত্ত্ব
২৪. উল্লিখিত চিত্রে কাঙ্ক্ষিত জনসংখ্যার স্তর কত?  
 (ক) ২০ কোটি (খ) ১৫ কোটি  
 (গ) ১০ কোটি (ঘ) ৫ কোটি
২৫. Bio-technology শব্দের অর্থ—  
 (ক) কৃষি প্রযুক্তি  
 (খ) জৈব প্রযুক্তি  
 (গ) অজৈব প্রযুক্তি  
 (ঘ) আধুনিক প্রযুক্তি
২৬. পরিবেশ দূষণের প্রাথমিক সমস্যা কী?  
 (ক) উষ্ণতা বৃদ্ধি  
 (খ) খাদ্য সংকট  
 (গ) উদ্বাস্ত সমস্যা  
 (ঘ) স্বাস্থ্য সমস্যা
- উদ্দীপকটি পড়ে ২৭ ও ২৮নং প্রশ্নের উত্তর দাও :  
 পলাশ তার কৃষি খামারের কোনো জমি পতিত রাখে না। বাজারে কৃষি পণ্যের চাহিদা অনুসারে সে ভিন্ন ভিন্ন সময় ভিন্ন ভিন্ন ফসল চাষ করে। এতে সে খুব লাভবান হয়।
২৭. পলাশের চাষ পদ্ধতি হলো—  
 (ক) মিশ্র চাষ  
 (খ) শস্য বহুমুখীকরণ  
 (গ) বাণিজ্যিক চাষ  
 (ঘ) আত্মতোষণকারী চাষ
২৮. উক্ত চাষ পদ্ধতির উদ্দেশ্য হলো—  
 i. উৎপাদন খরচ কমানো  
 ii. মাটির পুষ্টিগুণ ঠিক রাখা  
 iii. নিবিড় পদ্ধতিতে চাষাবাদ করা
- নিচের কোনটি সঠিক?  
 (ক) i ও ii (খ) i ও iii (গ) ii ও iii (ঘ) i, ii ও iii
- উদ্দীপকটি পড়ে ২৯ ও ৩০নং প্রশ্নের উত্তর দাও :  
 পিয়াস সাত সদস্যের পরিবার নিয়ে গ্রামে বাস করেন। তিনি কিছু হাঁস-মুরগি ও একটি গাভী পালন করে কোনো রকম জীবিকা নির্বাহ করে। রূপকথা ডেইরি ফার্মের মালিক মি. নিলয় উন্নত জাতের দশটি গাভী নিয়ে আধুনিক প্রযুক্তিতে একটি খামার পরিচালনা করেন।
২৯. উদ্দীপকে বর্ণিত পিয়াসের খামারটি কোন ধরনের?  
 (ক) জীবন নির্বাহী  
 (খ) বৃহদায়তন  
 (গ) বাণিজ্যিক  
 (ঘ) ক্ষুদ্রায়তন
৩০. মি. নিলয়-এর খামারটিতে বিদ্যমান—  
 i. দক্ষ ব্যবস্থাপনা  
 ii. আধুনিক প্রযুক্তি  
 iii. অধিক উৎপাদন
- নিচের কোনটি সঠিক?  
 (ক) i ও ii (খ) i ও iii (গ) ii ও iii (ঘ) i, ii ও iii

## রাজশাহী বোর্ড ২০২৩

### অর্থনীতি দ্বিতীয় পত্র ● বহুনির্বাচনি অভীক্ষা

সময় : ৩০ মিনিট

পূর্ণমান : ৩০

[বিশেষ দ্রষ্টব্য : সরবরাহকৃত বহুনির্বাচনি অভীক্ষার উত্তরপত্রে প্রশ্নের ক্রমিক নম্বরের বিপরীতে প্রদত্ত বর্ণসংবলিত বৃত্তসমূহ হতে সঠিক/সর্বোৎকৃষ্ট উত্তরের বৃত্তটি বলা পয়েন্ট কলম দ্বারা সম্পূর্ণ ভরাট কর। প্রতিটি প্রশ্নের মান ১। প্রশ্নপত্রে কোনো প্রকার দাগ/চিহ্ন দেওয়া যাবে না।]

১. "Inflation is such a situation when too much money chases too few goods" সংজ্ঞাটিকে প্রদান করেছেন?

- (ক) অর্থনীতিবিদ ড্রাউথার  
(খ) অধ্যাপক কুলবর্ণ  
(গ) অধ্যাপক পিণ্ডু  
(ঘ) অধ্যাপক হট্টে

■ উদ্দীপকটি পড়ে ২ ও ৩নং প্রশ্নের উত্তর দাও :

ছকিনা বেগম একজন ভূমিহীন বয়স্ক এবং গরিব মহিলা, কিন্তু সরকারি রাজস্বে তার একটা অবদান রয়েছে। একইভাবে সরকারেরও তাকে সাহায্য করার দায়িত্ব রয়েছে।

২. ছকিনা বেগম কীভাবে সরকারি রাজস্বে অবদান রাখছেন?

- (ক) পরোক্ষ কর পরিশোধ করে  
(খ) প্রত্যক্ষ কর পরিশোধ করে  
(গ) খাজনা পরিশোধ করে  
(ঘ) জরিমানা প্রদান করে

৩. সরকার ছকিনা বেগমকে সাহায্য করতে পারে—

- i. সামাজিক নিরাপত্তা বেষ্টনীর বাইরে রেখে  
ii. VGF কার্ড প্রদান করে  
iii. বয়স্ক ভাতা প্রদান করে  
নিচের কোনটি সঠিক?

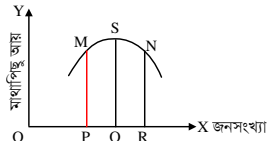
- (ক) i (খ) ii (গ) iii (ঘ) ii ও iii

৪. সরকারি ঋণের উদ্দেশ্য হলো—

- i. করহার কমানো  
ii. নতুন কর্মসংস্থান সৃষ্টি  
iii. অবকাঠামো নির্মাণ  
নিচের কোনটি সঠিক?

- (ক) i ও ii (খ) i ও iii (গ) ii ও iii (ঘ) i, ii ও iii

■ চিত্রটি লক্ষ কর এবং ৫ ও ৬নং প্রশ্নের উত্তর দাও :



৫. উল্লিখিত চিত্রটি জনসংখ্যার কোন তত্ত্বের সাথে সম্পর্কিত?

- (ক) কাম্য জনসংখ্যা তত্ত্ব  
(খ) ম্যালথাসের জনসংখ্যা তত্ত্ব  
(গ) মানবসম্পদ উন্নয়ন তত্ত্ব  
(ঘ) জনমিতিক তত্ত্ব

৬. উল্লিখিত চিত্রে কাম্য জনসংখ্যার স্তর কত?

- (ক) OP (খ) OR (গ) OQ (ঘ) PR

■ উদ্দীপকটি পড়ে ৭ ও ৮নং প্রশ্নের উত্তর দাও :  
করিম তার বাড়ির পাশে হস্তচালিত বুনন কারখানায় ৪ লাখ টাকা বিনিয়োগ করলেন। তিনি এবং তার পরিবার এক কাজ চালিয়ে যাচ্ছেন।

৭. করিমের উদ্যোগটি কোন শিল্পের অন্তর্গত?

- (ক) ক্ষুদ্র শিল্প (খ) মাইক্রো শিল্প  
(গ) কুটির শিল্প (ঘ) মাঝারি শিল্প

৮. উদ্দীপকে উল্লিখিত শিল্পের বৈশিষ্ট্য হলো—

- i. বাজার ছোট  
ii. শ্রমিক সংখ্যা ২০ জনের অধিক  
iii. লাভজনক  
নিচের কোনটি সঠিক?

- (ক) i ও ii (খ) i ও iii (গ) ii ও iii (ঘ) i, ii ও iii

৯. মালিকানার ভিত্তিতে কৃষি খামার কত প্রকার?

- (ক) ২ (খ) ৩ (গ) ৪ (ঘ) ৫

১০. নিচের কোন উৎস থেকে বাংলাদেশের কৃষকরা বেশি ঋণ গ্রহণ করে?

- (ক) বাংলাদেশ কৃষি ব্যাংক  
(খ) আত্মীয়স্বজন  
(গ) ধনী কৃষক  
(ঘ) এনজিও

১১. শিল্পনীতি-২০১৬ অনুসারে বাংলাদেশে শিল্পসমূহকে কত ভাগে ভাগ করা হয়েছে?

- (ক) ১২ (খ) ১৩ (গ) ১৪ (ঘ) ১৫

১২. বাংলাদেশের সবচেয়ে বেশি বৈদেশিক মুদ্রা অর্জনকারী পণ্য কোনটি?

- (ক) পাট (খ) চা  
(গ) তৈরি পোশাক (ঘ) চামড়া

১৩. নিচের কোনটি রপ্তানিমুখী শিল্প নয়?

- (ক) পাট (খ) বস্ত্র  
(গ) গাড়ি (ঘ) তৈরি পোশাক

■ উদ্দীপকটি পড়ে ১৪ ও ১৫নং প্রশ্নের উত্তর দাও :

একরাম সাহেবের সামান্য পরিমাণ জমি আছে। এতে চাষ করে তিনি যে উৎপাদন করেন তা দ্বারা কোনোভাবে পারিবারিক চাহিদা মেটাতে পারেন।

১৪. একরাম সাহেবের খামারটি কী ধরনের?

- (ক) বিশেষায়িত (খ) বাণিজ্যিক  
(গ) জীবননির্বাহী (ঘ) সমবায়

১৫. একরাম সাহেবের খামারে—

- (ক) চাষাবাদ পদ্ধতি আধুনিক  
(খ) পারিবারিক ভোগই একমাত্র উদ্দেশ্য  
(গ) বৈদেশিক মুদ্রা অর্জনের সুযোগ আছে  
(ঘ) আঞ্চলিক চাহিদা পূরণ হয়

১৬. মাশরুম হলো এক ধরনের—

- i. ছত্রাক  
ii. সবজি  
iii. ওষুধ  
নিচের কোনটি সঠিক?

- (ক) i ও ii (খ) i ও iii  
(গ) ii ও iii (ঘ) i, ii ও iii

১৭. আমদানি বিকল্প শিল্পের বৈশিষ্ট্য হচ্ছে—

- i. বৈদেশিক মুদ্রা সাশ্রয় করে  
ii. দেশীয় শিল্প রক্ষা করে  
iii. কর্মসংস্থান বৃদ্ধি করে  
নিচের কোনটি সঠিক?

- (ক) i ও ii (খ) i ও iii  
(গ) ii ও iii (ঘ) i, ii ও iii

■ উদ্দীপকটি পড়ে ১৮ ও ১৯নং প্রশ্নের উত্তর দাও :

একটি দেশের আয়তন ১,১০,০০০ বর্গ কিলোমিটার। দেশটির জনসংখ্যা হচ্ছে ১১ কোটি। জনসংখ্যার অত্যধিক ঘনত্বের কারণে দেশটির সম্পদের ওপর বড় ধরনের চাপ সৃষ্টি হয়েছে।

১৮. দেশটির জনসংখ্যার ঘনত্ব প্রতি বর্গকিলোমিটারে কত?

- (ক) ১০০ (খ) ১০০০  
(গ) ১১১০ (ঘ) ১১১১

১৯. উদ্দীপকে বর্ণিত সমস্যার কারণে দেশটিকে মোকাবিলা করতে হতে পারে—

- i. খাদ্য ঘাটতি  
ii. বেকারত্ব বৃদ্ধি  
iii. দষণ বৃদ্ধি  
নিচের কোনটি সঠিক?

- (ক) i ও ii (খ) i ও iii (গ) ii ও iii (ঘ) i, ii ও iii

■ উদ্দীপকটি পড়ে ২০ ও ২১নং প্রশ্নের উত্তর দাও :

বিগত বৎসর একটি দেশে দামস্তর ছিল ১০০ টাকা, বর্তমান বৎসরে সামগ্রিক চাহিদা বৃদ্ধি পাওয়ায় দামস্তর বেড়ে দাঁড়িয়েছে ১১২ টাকা। বর্তমানে দেশটির সরকার মুদ্রাস্ফীতি নিয়ন্ত্রণের জন্য বিভিন্ন পদক্ষেপ গ্রহণ করেছে।

২০. দেশটিতে মুদ্রাস্ফীতির হার কত?

- (ক) ১০% (খ) ১২% (গ) ১৪% (ঘ) ১৫%

২১. দেশটিতে মুদ্রাস্ফীতি নিয়ন্ত্রণে সরকারের পদক্ষেপ হতে পারে—

- i. কর হার বৃদ্ধি  
ii. উৎপাদন বৃদ্ধি  
iii. অর্থের যোগান বৃদ্ধি  
নিচের কোনটি সঠিক?

- (ক) i ও ii (খ) i ও iii (গ) ii ও iii (ঘ) i, ii ও iii

২২. কোন শ্রেণি মুদ্রাস্ফীতির ফলে লাভবান হয়?

- (ক) ভোক্তা (খ) ঋণদাতা  
(গ) শ্রমিক (ঘ) করদাতা

২৩. নিচের কোনটির কারণে মুদ্রাস্ফীতি সৃষ্টি হয়?

- (ক) উৎপাদন বৃদ্ধি (খ) অর্থ সরবরাহ বৃদ্ধি  
(গ) কর হার বৃদ্ধি (ঘ) সুদের হার বৃদ্ধি

২৪. মুদ্রাস্ফীতি নিয়ন্ত্রণের জন্য সরকার নিচের কোন পদক্ষেপটি গ্রহণ করতে পারে?

- (ক) অর্থ সরবরাহ হ্রাস (খ) করহার হ্রাস  
(গ) সুদের হার হ্রাস (ঘ) ভর্তুকি হ্রাস

২৫. নিচের কোনটি বাংলাদেশের প্রচলিত রপ্তানি পণ্য?

- (ক) তৈরি পোশাক (খ) সার  
(গ) চা (ঘ) শাকসবজি

২৬. বিশ্বায়নের সুফল হচ্ছে—

- i. বিদেশি দ্রব্যের ভোগ হ্রাস পায়  
ii. উৎপাদন বৃদ্ধি পায়  
iii. উপকরণের গতিশীলতা বৃদ্ধি পায়  
নিচের কোনটি সঠিক?

- (ক) i ও ii (খ) i ও iii (গ) ii ও iii (ঘ) i, ii ও iii

২৭. নিচের কোন দেশটি বাংলাদেশের বড় রপ্তানি বাজার?

- (ক) যুক্তরাষ্ট্র (খ) ফক্তরাজ্য  
(গ) ইউরোপীয় ইউনিয়ন (ঘ) ভারত

২৮. কোনো সুযোগের প্রত্যাশা করে সরকারকে যা প্রদান করতে হয়, তাকে বলে—

- (ক) কর (খ) ফি  
(গ) লেভি (ঘ) খাজনা

২৯. নিচের কোনটি সরকারি ঋণের অভ্যন্তরীণ উৎস?

- (ক) JAICA (খ) UNDP  
(গ) IBRD (ঘ) Treasury Bond

৩০. সরকারি আয়ের সবচেয়ে বড় উৎস কোনটি?

- (ক) ভূমি রাজস্ব (খ) বাণিজ্য শুল্ক  
(গ) আয়কর (ঘ) মলা সংযোজন কর

## যশোর বোর্ড ২০২৩

সময় : ৩০ মিনিট

### অর্থনীতি দ্বিতীয় পত্র ● বহুনির্বাচনি অভীক্ষা

পূর্ণমান : ৩০

[বিশেষ দ্রষ্টব্য : সরবরাহকৃত বহুনির্বাচনি অভীক্ষার উত্তরপত্রে প্রশ্নের ক্রমিক নম্বরের বিপরীতে প্রদত্ত বর্ণসংবলিত বৃত্তসমূহ হতে সঠিক/সর্বোৎকৃষ্ট উত্তরের বৃত্তটি বল পয়েন্ট কলম দ্বারা সম্পূর্ণ ভরাট কর। প্রতিটি প্রশ্নের মান ১। প্রশ্নপত্রে কোনো প্রকার দাগ/চিহ্ন দেওয়া যাবে না।]

১. বাংলাদেশে সর্বশেষ আদমশুমারি কত সালে পরিচালিত হয়?

- (ক) ১৯৯১ (খ) ২০০১  
(গ) ২০১১ (ঘ) ২০২১

[বি. দ্র. : বাংলাদেশে সর্বশেষ ২০২২ সালে জনশুমারি ও গৃহগণনা পরিচালিত হয়েছে।]

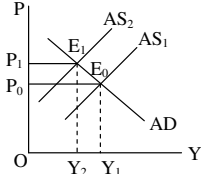
২. মনে করি, ২০২২ সালে বাংলাদেশে ২০ লক্ষ জীবিত শিশু জন্মগ্রহণ করে। উক্ত বছরের মধ্যসময়ে মোট জনসংখ্যা ১৬ কোটি হলে CBR কত?

- (ক) ১২.৫ (খ) ১১.৫  
(গ) ১৪.৫ (ঘ) ১৮.৫

৩. জনসংখ্যা পরিমাণে ব্যবহৃত পদ্ধতি—

- (ক) ৩টি (খ) ৪টি (গ) ৫টি (ঘ) ৬টি

■ চিত্রটি দেখে ৪ ও ৫নং প্রশ্নের উত্তর দাও :



৪. উদ্দীপকের চিত্রে কী ধরনের মুদ্রাস্ফীতি নির্দেশ করে?

- (ক) চাহিদা বৃদ্ধিজনিত  
(খ) ব্যয় বৃদ্ধিজনিত  
(গ) যোগান বৃদ্ধিজনিত  
(ঘ) ঘাটতি ব্যয়জনিত

৫. উদ্দীপকে নির্দেশিত মুদ্রাস্ফীতির কারণ—

- i. শ্রমিকের মজুরি বৃদ্ধি  
ii. উপকরণের মূল্য বৃদ্ধি  
iii. সরকারি ব্যয় বৃদ্ধি

নিচের কোনটি সঠিক?

- (ক) i ও ii (খ) ii ও iii (গ) i ও iii (ঘ) i, ii ও iii

৬. প্রকৃত মুদ্রাস্ফীতি কখন দেখা দেয়?

- (ক) পূর্ণ নিয়োগ স্তরে  
(খ) পূর্ণ নিয়োগের পর  
(গ) পূর্ণ নিয়োগের পূর্বে  
(ঘ) অপূর্ণ নিয়োগ স্তরে

৭. চাহিদা বৃদ্ধিজনিত মুদ্রাস্ফীতির প্রধান কারণ কোনটি?

- (ক) যুদ্ধ ব্যয় নির্বাহ  
(খ) অর্থের যোগান বৃদ্ধি  
(গ) মজুরি বৃদ্ধি  
(ঘ) বৈদেশিক বাণিজ্যের উদ্বৃত্ত

৮. বাংলাদেশের প্রধান রপ্তানি দ্রব্য কোনটি?

- (ক) তৈরি পোশাক  
(খ) পাট ও পাটজাত দ্রব্য  
(গ) চামড়া ও চামড়াজাত দ্রব্য  
(ঘ) হিমায়িত খাদ্য

৯. ট্যান্ড্র হলিডে সুবিধা পান কারা?

- (ক) রপ্তানিকারক (খ) আমদানিকারক  
(গ) ভোক্তা শ্রেণি (ঘ) ব্যবসায়ী শ্রেণি

১০. বাংলাদেশে মুদ্রাস্ফীতির কারণ—

- i. অর্থের যোগান বৃদ্ধি  
ii. জনগণের হাতে নগদ অর্থ প্রাপ্তি  
iii. উৎপাদন-হ্রাস

নিচের কোনটি সঠিক?

- (ক) i ও ii (খ) ii ও iii (গ) i ও iii (ঘ) i, ii ও iii

■ উদ্দীপকটি পড়ে ১১ ও ১২নং প্রশ্নের উত্তর দাও :  
যাট বছরের গৃহহীন নারী করিমুন নেছাকে সরকার থাকার জন্য একটি ঘর করে দিয়েছেন। তার পক্ষে কাজ করা সম্ভব নয় বলে তার জীবনধারণের জন্য প্রয়োজনীয় সহায়তাও দিয়েছেন।

১১. করিমুন নেছাকে সরকার কীভাবে সাহায্য করেছেন?

- (ক) চাকরি দিয়ে  
(খ) ব্যাংক ঋণ দিয়ে  
(গ) বয়স্কভাতা দিয়ে  
(ঘ) মাতৃত্ব ভাতা দিয়ে

১২. সরকারি কার্যক্রমে সরকারের কোন উদ্দেশ্য অর্জিত হয়েছে?

- (ক) পূর্ণ নিয়োগ  
(খ) শান্তি-শৃঙ্খলা  
(গ) সামাজিক নিরাপত্তা  
(ঘ) রাজনৈতিক উদ্দেশ্য

১৩. আয় কর—

- i. নিশ্চিত  
ii. প্রগতিশীল  
iii. অস্থিতিস্থাপক

নিচের কোনটি সঠিক?

- (ক) i ও ii (খ) ii ও iii (গ) i ও iii (ঘ) i, ii ও iii

১৪. পরোক্ষ করের উদাহরণ—

- i. ভ্যাট  
ii. সম্পদ কর  
iii. বাণিজ্য শুল্ক

নিচের কোনটি সঠিক?

- (ক) i ও ii (খ) ii ও iii (গ) i ও iii (ঘ) i, ii ও iii

১৫. ধরি, ২০২০ সালে দামস্তর ১২০ এবং ২০১৮ সালে দামস্তর ছিল ১১০। তাহলে মুদ্রাস্ফীতির হার কত?

- (ক) ৯% (খ) ১০%  
(গ) ১১% (ঘ) ১২%

[\* সঠিক উত্তর ৯.০৯%]

১৬. কৃষির কোন উপখণ্ডের অবদান জিডিপিতে সর্বোচ্চ?

- (ক) শস্য ও শাকসবজি  
(খ) বনজসম্পদ  
(গ) প্রাণী সম্পদ  
(ঘ) মৎস্য সম্পদ

১৭. বিজ্ঞানী ড. মকসুদুল আলম জীবন রহস্য উন্মোচন করেন—

- (ক) চা গাছের  
(খ) পাট গাছের  
(গ) রাবার গাছের  
(ঘ) কলা গাছের

১৮. কোন ফসল উৎপাদনে কৃষি জমির প্রয়োজন হয় না?

- (ক) তুলা (খ) গম  
(গ) ডাল (ঘ) মাশরুম

১৯. নিচের কোনটি বাংলাদেশের প্রধান অর্থকরী ফসল?

- (ক) তৈলবীজ (খ) গম  
(গ) পাট (ঘ) চা

■ উদ্দীপকটি পড়ে ২০ ও ২১নং প্রশ্নের উত্তর দাও :  
বাংলাদেশের কিছু এলাকায় বর্ষাকালে ভারী বর্ষণের কারণে ধানক্ষেতে কিছু পানি জমে থাকে। কৃষকরা তখন ধান ক্ষেতে কৈ, শিং, মাগুর ও চিংড়ি চাষ করেন।

২০. উদ্দীপকে উল্লিখিত খামারের ধরন কী?

- (ক) বিশেষায়িত খামার (খ) যৌথ খামার  
(গ) বহুমুখী খামার (ঘ) মিশ্র খামার

২১. উদ্দীপকে উল্লিখিত খামারের ক্ষেত্রে নিচের কোনটি প্রযোজ্য?

- (ক) উৎপাদন খরচ বাড়ে  
(খ) কৃষকের আয় বাড়ে  
(গ) উৎপাদনের পরিমাণ কমে  
(ঘ) উৎপাদনের ঝুঁকি বৃদ্ধি পায়

২২. জলবায়ু পরিবর্তনের ফলে—

- i. বৈশ্বিক উষ্ণতাহ্রাস পায়  
ii. উৎপাদন-হ্রাস পায়  
iii. জীববৈচিত্র্য ধ্বংস হয়

নিচের কোনটি সঠিক?

- (ক) i ও ii (খ) ii ও iii (গ) i ও iii (ঘ) i, ii ও iii

২৩. বাংলাদেশে উৎপন্ন খাদ্যশস্য হলো—

- (ক) পাট (খ) তুলা  
(গ) ধান (ঘ) চা

২৪. শিল্পনীতি-২০১৬ অনুসারে উচ্চ অগ্রাধিকার শিল্প হলো—

- i. পাট ও পাটজাত শিল্প  
ii. পর্যটন শিল্প  
iii. ওষুধ শিল্প

নিচের কোনটি সঠিক?

- (ক) i ও ii (খ) ii ও iii (গ) i ও iii (ঘ) i, ii ও iii

■ উদ্দীপকটি পড়ে ২৫ ও ২৬নং প্রশ্নের উত্তর দাও :  
রাসেল একটি উৎপাদন প্রতিষ্ঠানে কাজ করেন। উক্ত প্রতিষ্ঠানের উৎপাদিত পণ্যের শিল্পটির মাধ্যমে সর্বোচ্চ রপ্তানি আয় অর্জিত হয়। এটি দেশের উন্নয়নে গুরুত্বপূর্ণ ভূমিকা পালন করে।

২৫. উদ্দীপকের শিল্পটি হচ্ছে—

- (ক) চা শিল্প (খ) তৈরি পোশাক শিল্প  
(গ) পাট শিল্প (ঘ) চামড়া শিল্প

২৬. উদ্দীপকের শিল্পটি কেন অর্থনীতির জন্য গুরুত্বপূর্ণ?

- i. কর্মসংস্থান বৃদ্ধিতে সহায়তা করে  
ii. পিছিয়ে পড়া জনগোষ্ঠীকে আয়ের পথ দেখান  
iii. আমদানি-হ্রাসে ভূমিকা রাখে

নিচের কোনটি সঠিক?

- (ক) i ও ii (খ) ii ও iii (গ) i ও iii (ঘ) i, ii ও iii

২৭. অপসোনিং ওষুধ কোম্পানি একটি—

- (ক) শিল্প (খ) ফার্ম  
(গ) প্রাক্ট (ঘ) ইউনিট

২৮. বাংলাদেশে কোন ধরনের শিল্পে কর্মসংস্থান বেশি?

- (ক) বৃহৎ শিল্পে (খ) মাঝারি শিল্পে  
(গ) হাইটেক শিল্পে (ঘ) কুটির শিল্পে

২৯.  $M = \frac{A - O}{O}$  -এর মান ঋণাত্মক হলে তাকে কী বলে?

- (ক) কাম্য জনসংখ্যা  
(খ) নিম্ন জনসংখ্যা  
(গ) অতিরিক্ত জনসংখ্যা  
(ঘ) সুখম জনসংখ্যা

৩০. জন্মগ্রহণ ছাড়াও দেশের জনসংখ্যা বৃদ্ধির কারণ—

- (ক) অভ্যন্তরীণ স্থানান্তর  
(খ) বহিরাগমন  
(গ) বহির্গমন  
(ঘ) মৃত্যু

## কুমিল্লা বোর্ড ২০২৩

## অর্থনীতি দ্বিতীয় পত্র ● বহুনির্বাচনি অভীক্ষা

পূর্ণমান : ৩০

সময় : ৩০ মিনিট

[বিশেষ দ্রষ্টব্য : সরবরাহকৃত বহুনির্বাচনি অভীক্ষার উত্তরপত্রে প্রশ্নের ক্রমিক নম্বরের বিপরীতে প্রদত্ত বর্ণসংবলিত বৃত্তসমূহ হতে সঠিক/সর্বোৎকৃষ্ট উত্তরের বৃত্তটি বল পয়েন্ট কলম দ্বারা সম্পূর্ণ ভরাট কর। প্রতিটি প্রশ্নের মান ১। প্রশ্নপত্রে কোনো প্রকার দাগ/চিহ্ন দেওয়া যাবে না।]

১. দেশের অভ্যন্তরে উৎপাদিত ও ব্যবহৃত দ্রব্যের ওপর আরোপিত কর—

- (ক) আমদানি শুল্ক  
(খ) মূল্য সংযোজন কর  
(গ) আবগারি শুল্ক  
(ঘ) সম্পূরক শুল্ক

■ উদ্দীপকটি পড়ে ২ ও ৩নং প্রশ্নের উত্তর দাও :

'Y' দেশ বর্তমানে হিমায়িত খাদ্য, হস্তশিল্পজাত দ্রব্য, সিরামিক দ্রব্য এবং ইঞ্জিনিয়ারিং দ্রব্য রপ্তানি করে প্রচুর বৈদেশিক মুদ্রা অর্জন করে। বর্তমান সরকার রপ্তানি সম্প্রসারণের লক্ষ্যে বিভিন্ন উদ্যোগ গ্রহণ করেছে।

২. উদ্দীপকে উল্লিখিত দ্রব্যগুলোর ধরন কোনটি?

- (ক) প্রচলিত (খ) অপ্রচলিত  
(গ) কৃষিজাত (ঘ) মূলধনী

৩. 'Y' দেশের সরকারের গৃহীত পদক্ষেপসমূহ—

- i. শুল্কমুক্ত ও ট্যান্ড হলিডে  
ii. আন্তর্জাতিক প্রদর্শনীতে যোগদান না করা  
iii. বাজার সার্ভে ও রপ্তানি ঋণ প্রদান করা

নিচের কোনটি সঠিক?

- (ক) i ও ii (খ) i ও iii (গ) ii ও iii (ঘ) i, ii ও iii

৪. কোনটি উৎপাদনশীল ঋণ?

- (ক) কৃষি (খ) ভোক্তা  
(গ) যুদ্ধ (ঘ) নিষ্ক্রিয়

৫. রাজস্ব ব্যয়ের উদ্দেশ্য হলো—

- i. অভ্যন্তরীণ শান্তি-শৃঙ্খলা রক্ষা  
ii. অর্থনৈতিক কল্যাণ  
iii. সামাজিক সুরক্ষা

নিচের কোনটি সঠিক?

- (ক) i ও ii (খ) i ও iii (গ) ii ও iii (ঘ) i, ii ও iii

■ উদ্দীপকটি পড়ে ৬ ও ৭নং প্রশ্নের উত্তর দাও :

?	১. অভ্যন্তরীণ উৎস
	২. বাহ্যিক উৎস

৬. উদ্দীপকে প্রশ্নবোধক ? চিহ্নিত স্থানে কোনটি প্রযোজ্য?

- (ক) কর (খ) ব্যয়  
(গ) ঋণ (ঘ) ভোগ

৭. উদ্দীপকের ১নং উৎসটি অধিক ভালো কারণ—

- i. জাতীয় আয় ও নিয়োগ বৃদ্ধি পায়  
ii. পরিশোধিত সুদ দেশের বাইরে যায়  
iii. সার্বভৌমত্ব হুমকির মুখে পড়ে না

নিচের কোনটি সঠিক?

- (ক) i ও ii (খ) i ও iii (গ) ii ও iii (ঘ) i, ii ও iii

৮. জনসংখ্যার স্বাভাবিক বৃদ্ধির হার নির্ণয়ের সূত্র—

$$(ক) NGRP = \frac{BR - DR}{1000} \times 100$$

$$(খ) NGRP = \frac{DR - BR}{1000} \times 100$$

$$(গ) NGRP = \frac{DR - BR}{1000} \times 1000$$

$$(ঘ) NGRP = \frac{BR - DR}{1000} \times 1000$$

■ উদ্দীপকটি পড়ে ৯ ও ১০নং প্রশ্নের উত্তর দাও :

নাহিন সাহেব চাকরি হতে অবসর গেছেন। কিডনি জটিলতার জন্য তার নিয়মিত ডায়ালাইসিস প্রয়োজন হয়। হাসপাতাল কর্তৃপক্ষ ডায়ালাইসিসের খরচ বৃদ্ধি করেছে। এতে তিনি চিন্তিত।

৯. ডায়ালাইসিসের খরচ বৃদ্ধিকে বলা হয়—

- (ক) মন্দ্রাস্কীতি (খ) মন্দ্রা সংকোচন  
(গ) অস্থিতিশীল বাজার (ঘ) ব্যয়-হ্রাস

১০. নাহিন সাহেবের চিন্তিত হওয়ার কারণ—

- i. জীবনযাত্রার মান বাড়বে  
ii. ক্রয়ক্ষমতা কমবে

iii. সঞ্চয়-হ্রাস পাবে

নিচের কোনটি সঠিক?

- (ক) i ও ii (খ) i ও iii (গ) ii ও iii (ঘ) i, ii ও iii

১১. মন্দ্রাস্কীতি নিয়ন্ত্রণের উপায় হলো—

i. ব্যাংক হার বৃদ্ধি

ii. ঋণপত্র বিক্রয়

iii. সরকারি ব্যয় বৃদ্ধি

নিচের কোনটি সঠিক?

- (ক) i ও ii (খ) i ও iii (গ) ii ও iii (ঘ) i, ii ও iii

১২. বিশ্বায়ন বলতে বোঝায়—

- (ক) বৈদেশিক বাণিজ্য (খ) বৈশ্বিক উন্নয়ন  
(গ) বিশ্বগ্রাম (ঘ) গ্রিন ক্লাব

১৩. আন্তর্জাতিক বাণিজ্যের ক্ষেত্রে কোনটি আবশ্যিক?

(ক) দুটি দেশ ও অলিখিত চুক্তি

(খ) দুটি দেশ ও অভিন্ন বাণিজ্যনীতি

(গ) দুটি দেশ ও একই মুদ্রা ব্যবস্থা

(ঘ) দুটি দেশ ও পৃথক মুদ্রা ব্যবস্থা

১৪. আন্তর্জাতিক বাণিজ্যে পরিবর্তনের ধারা হলো—

i. অপ্রচলিত পণ্যের রপ্তানি বৃদ্ধি

ii. বাণিজ্য কেন্দ্রীভূতকরণ

iii. রপ্তানি বৈচিত্র্যকরণ

নিচের কোনটি সঠিক?

- (ক) i ও ii (খ) i ও iii (গ) ii ও iii (ঘ) i, ii ও iii

১৫. জ্ঞান ও পুঁজিনির্ভর উচ্চ প্রযুক্তিভিত্তিক পরিবেশ বান্ধব গবেষণা নির্ভর শিল্প হলো—

(ক) কুটির শিল্প (খ) সৃজনশীল শিল্প

(গ) মাইক্রো শিল্প (ঘ) হাইটেক শিল্প

১৬. আমদানি বিকল্প শিল্পায়নের সুবিধা হলো—

i. দেশীয় শিল্পের সংরক্ষণ হয়

ii. অভ্যন্তরীণ বাজার প্রসারণ হয়

iii. আমদানির পরিমাণ বৃদ্ধি পায়

নিচের কোনটি সঠিক?

- (ক) i ও ii (খ) i ও iii (গ) ii ও iii (ঘ) i, ii ও iii

■ উদ্দীপকটি পড়ে ১৭ ও ১৮নং প্রশ্নের উত্তর দাও :

রহমান সাহেবের কারখানায় ৩০০ জনের অধিক শ্রমিক কাজ করে। কারখানার উৎপাদিত পণ্যগুলো অভ্যন্তরীণ চাহিদা পূরণ করার পাশাপাশি রপ্তানিও করা হয়।

১৭. কারখানাটি কোন ধরনের শিল্পের অন্তর্গত?

(ক) কুটির (খ) ক্ষুদ্র

(গ) মাঝারি (ঘ) বৃহৎ

১৮. কারখানাটি স্থাপনের ফলে—

i. কর্মসংস্থান বাড়বে

ii. বৈদেশিক মুদ্রার রিজার্ভ কমবে

iii. বাণিজ্য ভারসাম্যের উন্নতি হচ্ছে

নিচের কোনটি সঠিক?

- (ক) i ও ii (খ) i ও iii (গ) ii ও iii (ঘ) i, ii ও iii

১৯. মন্দ্রাস্কীতির প্রধান কারণ কী?

(ক) মুদ্রার যোগান বৃদ্ধি (খ) মুদ্রার চাহিদা বৃদ্ধি

(গ) সঞ্চয় বৃদ্ধি (ঘ) উৎপাদন বৃদ্ধি

২০. মন্দ্রাস্কীতিতে সীমিত আয়ের জনগণের ওপর কী প্রভাব পড়ে?

- (ক) ভোগ বৃদ্ধি পায় (খ) ক্রয় ক্ষমতা বৃদ্ধি পায়  
(গ) ক্ষতিগ্রস্ত হয় (ঘ) লাভবান হয়

২১. জনসংখ্যা কাঠামোর বয়োগলিষ্ট দিকগুলো হলো—

i. প্রথম বিবাহে গড় বয়স

ii. পরিবার পরিকল্পনা কর্মসূচি

iii. ভাষাভিত্তিক জনসংখ্যা বণ্টন

নিচের কোনটি সঠিক?

- (ক) i ও ii (খ) i ও iii (গ) ii ও iii (ঘ) i, ii ও iii

২২. জনসংখ্যার নির্ধারক কোনটি?

- (ক) মুদ্রাস্কীতি (খ) উৎপাদন  
(গ) নিট অভিবাসন (ঘ) মূলধন গঠন

২৩. বাংলাদেশের প্রাচীন পেশা কোনটি?

- (ক) মৎস্য শিকার (খ) পশুসম্পদ  
(গ) কৃষিকাজ (ঘ) ব্যবসায়

২৪. HYV Technology-এর পূর্ণরূপ কী?

(ক) High Yielding Variety Technology

(খ) High Yielding Variety Technology

(গ) High Yielding Variety Technology

(ঘ) High Yielding Variety Technology

২৫. ক্রান্তীয় চিরহরিৎ বনভূমির জেলা কোনটি?

(ক) ময়মনসিংহ (খ) সাতক্ষীরা

(গ) নওগাঁ (ঘ) খাগড়াছড়ি

২৬. শস্য বহুমুখীকরণের ফলে—

i. মাটির উর্বরতা বৃদ্ধি করে

ii. খাদ্য সংকটের ঝুঁকি-হ্রাস করে

iii. শ্রমিকদের দক্ষতা-হ্রাস পায়

নিচের কোনটি সঠিক?

- (ক) i ও ii (খ) ii ও iii (গ) i ও iii (ঘ) i, ii ও iii

■ উদ্দীপকটি পড়ে ২৭ ও ২৮নং প্রশ্নের উত্তর দাও :

সাতক্ষীরা জেলার বেলাল সাহেব ধান চাষ করতে সমস্যায় পড়ত। কিন্তু বর্তমানে 'X' প্রযুক্তিতে উদ্ভাবিত লবণাক্ত সহিষ্ণু ধান চাষ করে সফলতা পেয়েছে।

২৭. 'X' প্রযুক্তি হলো—

(ক) পারমাণবিক কৃষি প্রযুক্তি

(খ) জৈব প্রযুক্তি

(গ) তথ্য ও যোগাযোগ প্রযুক্তি

(ঘ) সার-সেচ-বীজ প্রযুক্তি

২৮. কৃষিতে 'X' প্রযুক্তি ব্যবহারের ফলে—

i. প্রতিকূল আবহাওয়া প্রতিরোধী শস্য উৎপাদন হয়

ii. বায়োফার্মিং শস্য উৎপাদন হয়

iii. প্রাকৃতিক দুর্যোগের পূর্বাভাস জানা যায়

নিচের কোনটি সঠিক?

- (ক) i ও ii (খ) i ও iii (গ) ii ও iii (ঘ) i, ii ও iii

২৯. বাংলাদেশের বেশির ভাগ শিল্পে কোন ধরনের পণ্য উৎপাদিত হয়?

(ক) মূলধনী দ্রব্য (খ) ভোগ্য পণ্য

(গ) শিল্পের কাঁচামাল (ঘ) রপ্তানি পণ্য

৩০. বাংলাদেশের পাহাড়ি অঞ্চলে চা উৎপাদিত হওয়ার মূল কারণ কোনটি?

(ক) উন্নত যোগাযোগ ব্যবস্থা

(খ) শ্রমিক সত্তা

(গ) পর্যাপ্ত বৃষ্টিপাত

(ঘ) সহজ সংরক্ষণের সুবিধা

## চট্টগ্রাম বোর্ড ২০২৩

সময় : ৩০ মিনিট

### অর্থনীতি দ্বিতীয় পত্র ● বহুনির্বাচনী অভীক্ষা

পূর্ণমান : ৩০

[বিশেষ দ্রষ্টব্য : সরবরাহকৃত বহুনির্বাচনী অভীক্ষার উত্তরপত্রে প্রশ্নের ক্রমিক নম্বরের বিপরীতে প্রদত্ত বর্ণসংবলিত বৃত্তসমূহ হতে সঠিক/সর্বোৎকৃষ্ট উত্তরের বৃত্তটি বল পয়েন্ট কলম দ্বারা সম্পূর্ণ ভরাট কর। প্রতিটি প্রশ্নের মান ১। প্রশ্নপত্রে কোনো প্রকার দাগ/চিহ্ন দেওয়া যাবে না।]

১. কোনো দেশে জনসংখ্যা বৃদ্ধির প্রভাব হচ্ছে—

- (ক) কর্মসংস্থান বৃদ্ধি  
(খ) জীবনযাত্রার মান বৃদ্ধি  
(গ) কৃষি জমির ওপর চাপ বৃদ্ধি  
(ঘ) মাথাপিছু আয় বৃদ্ধি

২. “জনসংখ্যা বৃদ্ধি পায় জ্যামিতিক হারে।”— এটি কোন অর্থনীতিবিদ বলেছেন?

- (ক) মার্শাল (খ) স্যামুয়েলসন  
(গ) ম্যালথাস (ঘ) ডালটন

উদ্দীপকটি পড়ে ৩ ও ৪নং প্রশ্নের উত্তর দাও :

P' দেশের সরকার তার জনগণের উন্নত শিক্ষা ও প্রশিক্ষণের ব্যবস্থা করেছে। জনগণের সূচিক্রমসূচী নিশ্চিত করার মাধ্যমে তাদের শক্তিশালী ও দক্ষ হিসেবে গড়ে তোলার ব্যবস্থা করেছে।

৩. 'P' দেশের সরকার কর্তৃক গৃহীত ব্যবস্থা বাস্তবায়িত হলে—

- (ক) আয়ের সুখম বন্টন হবে  
(খ) জেডার বৈষম্য দূর হবে  
(গ) সামাজিক নিরাপত্তা বিস্তৃত হবে  
(ঘ) মানবসম্পদ উন্নয়ন হবে

৪. 'P' দেশের গৃহীত কর্মসূচির ফলে—

- i. দেশের উৎপাদন বাড়বে  
ii. মাথাপিছু আয় বৃদ্ধি পাবে  
iii. জনসংখ্যা বৃদ্ধি পাবে

নিচের কোনটি সঠিক?

- (ক) i ও ii (খ) i ও iii (গ) ii ও iii (ঘ) i, ii ও iii

৫. জনাব শাহেদ পড়ালেখা শেষ করে চাকরি না খুঁজে একটি গরুর খামার প্রতিষ্ঠা করেন। জনাব শাহেদের এ প্রচেষ্টাকে কী বলে?

- (ক) বিনিয়োগ বৃদ্ধি (খ) দক্ষতা বৃদ্ধি  
(গ) আত্মকর্মসংস্থান (ঘ) সৃজনশীলতা

৬. “মুদ্রাস্ফীতি এরূপ একটি পরিস্থিতি যখন অর্থের মূল্য ক্রমাগত হ্রাস পায়, অর্থাৎ দ্রব্যের দাম ক্রমেই বৃদ্ধি পায়।”— এটি কার উক্তি?

- (ক) ক্রাউথার (খ) জে. এম. কেইস  
(গ) এ. সি. পিগু (ঘ) ডালটন

৭. নগদ রিজার্ভ অনুপাত পরিবর্তন করে মুদ্রাস্ফীতি নিয়ন্ত্রণ করে কে?

- (ক) বাণিজ্যিক ব্যাংক (খ) বিশেষায়িত ব্যাংক  
(গ) কেন্দ্রীয় ব্যাংক (ঘ) সরকার

৮. মুদ্রাস্ফীতি হলে কে লাভবান হয়?

- (ক) নিম্ন আয়ের লোক (খ) সরকার  
(গ) উৎপাদনকারী (ঘ) ঋণদাতা

উদ্দীপকটি পড়ে ৯ ও ১০নং প্রশ্নের উত্তর দাও :

বিশ্বব্যাপী জ্বালানী তেলে দাম বৃদ্ধির কারণে R' দেশের সকল ভোগ্যপণ্যের দাম ক্রমাগত বৃদ্ধি পেতে থাকে। উদ্ভূত পরিস্থিতি মোকাবিলায় সরকার কতিপয় রাজস্ব নীতি গ্রহণ করেছে।

৯. উদ্দীপকে 'R' দেশে কোন ধরনের মুদ্রাস্ফীতি হয়েছে?

- (ক) চাহিদাজনিত  
(খ) ব্যয় বৃদ্ধিজনিত  
(গ) অর্থের যোগান বৃদ্ধিজনিত  
(ঘ) উৎপাদন ঘাটতিজনিত

১০. উদ্দীপকের আলোকে মুদ্রাস্ফীতি নিয়ন্ত্রণে কোনটি কার্যকর করা হয়েছে?

- (ক) নগদ রিজার্ভ অনুপাত বৃদ্ধি  
(খ) ব্যাংক হার বৃদ্ধি  
(গ) খোলাবাজার নীতি  
(ঘ) সরকারি ব্যয় হ্রাস

১১. বিশ্বায়নের ফলে—

- i. শিশু শিল্পের সংরক্ষণ হয়  
ii. উপকরণের গতিশীলতা বৃদ্ধি পায়  
iii. কর্মসংস্থান বৃদ্ধি পায়

নিচের কোনটি সঠিক?

- (ক) i ও ii (খ) i ও iii (গ) ii ও iii (ঘ) i, ii ও iii

১২. বাংলাদেশের রপ্তানি আয়ে নিচের কোন পণ্যের অবদান সবচেয়ে বেশি?

- (ক) তৈরি পোশাক (খ) পাটজাত দ্রব্য  
(গ) চামড়া (ঘ) হস্তশিল্পজাত দ্রব্য

১৩. বাংলাদেশের রপ্তানি বাণিজ্যের উন্নয়নকল্পে কোন সংস্থাটি কাজ করে যাচ্ছে?

- (ক) জাতীয় রপ্তানি কাউন্সিল  
(খ) রপ্তানি উন্নয়ন কর্পোরেশন  
(গ) রপ্তানি উন্নয়ন ফোরাম  
(ঘ) রপ্তানি উন্নয়ন ব্যুরো

উদ্দীপকটি পড়ে ১৪ ও ১৫নং প্রশ্নের উত্তর দাও :

জনাব আখতার একজন সরকারি কর্মকর্তা। প্রতি মাসে তার বেতন থেকে নির্দিষ্ট পরিমাণ অর্থ কর হিসেবে সরকারি কোষাগারে জমা দিতে হয়। তিনি যখন কেনাকাটা করতে বাজারে যান, তিনি খেয়াল করেন একটি নির্দিষ্ট পরিমাণ অর্থ পণ্যমূল্যের অতিরিক্ত কেটে নেওয়া হয়েছে।

১৪. জনাব আখতার প্রতি মাসে সরকারকে যে কর প্রদান করেন তাকে কী বলে?

- (ক) আয়কর (খ) ফনাফা কর  
(গ) সম্পদ কর (ঘ) সরকারি কর

১৫. জনাব আখতার পণ্যমূল্যের অতিরিক্ত যে পরিমাণ টাকা বিক্রয়তাকে প্রদান করেন, সেটি—

- i. জনপ্রিয় কর পদ্ধতি  
ii. করভার সরানো যায়  
iii. করের ভিত্তি বিস্তৃত

নিচের কোনটি সঠিক?

- (ক) i ও ii (খ) i ও iii (গ) ii ও iii (ঘ) i, ii ও iii

১৬. নিচের কোনটি প্রদানের মাধ্যমে সরকারের কাছে প্রত্যক্ষ কোনো সুবিধা আশা করা যায় না?

- (ক) ফি (খ) ঋণ (গ) কর (ঘ) টোল

উদ্দীপকটি পড়ে ১৭ ও ১৮নং প্রশ্নের উত্তর দাও :

'ক' দেশের সরকার তার দেশের কার্যক্রম পরিচালনার জন্য সরকারি কর্মচারীদের বেতন দেয় এবং দেশের বিভিন্ন অবকাঠামো নির্মাণ করে।

উদ্দীপকে 'ক' দেশের সরকারের ব্যয়ের দ্বিতীয় খাতকে কী বলে?

- (ক) হস্তান্তর ব্যয় (খ) রাজস্ব ব্যয়  
(গ) কেন্দ্রীয় ব্যয় (ঘ) উন্নয়ন ব্যয়

১৮. উদ্দীপকে প্রথম ব্যয়টির উদ্দেশ্য হলো—

- i. অর্থনৈতিক উন্নয়ন  
ii. অভ্যন্তরীণ শান্তি-শৃঙ্খলা রক্ষা  
iii. প্রশাসনিক কার্যক্রম পরিচালনা

নিচের কোনটি সঠিক?

- (ক) i ও ii (খ) i ও iii (গ) ii ও iii (ঘ) i, ii ও iii

১৯. বাংলাদেশের কৃষিক্ষেত্রে জনসংখ্যা বৃদ্ধির কারণ কোনটি?

- (ক) অর্থনৈতিক উন্নয়ন (খ) উচ্চ জন্মহার  
(গ) জীবনযাত্রার মান উন্নয়ন (ঘ) শিক্ষার প্রসার

২০. একটি দেশে জনসংখ্যার পরিমাণকে প্রভাবিত করে—

- i. পরিবার পরিকল্পনা  
ii. বাণিজ্যিক উদ্ভূত  
iii. মৃত্যুহার

নিচের কোনটি সঠিক?

- (ক) i ও ii (খ) i ও iii (গ) ii ও iii (ঘ) i, ii ও iii

২১. বাংলাদেশের কৃষিক্ষেত্রে উপানুষ্ঠানিক উৎস কোনটি?

- (ক) সোনালী ব্যাংক  
(খ) বাংলাদেশ ব্যাংক  
(গ) রাজশাহী কৃষি উন্নয়ন ব্যাংক  
(ঘ) গ্রামীণ ব্যাংক

২২. পারমাণবিক কৃষি প্রযুক্তির মাধ্যমে সম্ভব—

- i. উদ্ভিদ ও প্রাণীর রোগ নির্ণয়  
ii. শস্য বীজ সংরক্ষণের স্থায়ীত্ব বাড়ানো  
iii. জৈব সার প্রস্তুত

নিচের কোনটি সঠিক?

- (ক) i ও ii (খ) i ও iii (গ) ii ও iii (ঘ) i, ii ও iii

উদ্দীপকটি পড়ে ২৩ ও ২৪নং প্রশ্নের উত্তর দাও :

জনাব সাইদুর একজন ধনী কৃষক। তিনি অনেক টাকা বিনিয়োগ করে বিশাল এলাকায় যান্ত্রিক উপায়ে ও দক্ষ ব্যবস্থাপনার মাধ্যমে একটি বৃহৎ খামার পরিচালনা করেন। অন্যদিকে, তার বন্ধু মতি মিয়া একজন গরিব কৃষক। সে তার পরিবারের পাঁচ জন সদস্য নিয়ে একেও জমিতে চাষাবাদ করেন। তারা সবাই মিলে যা উৎপাদন করেন তা দিয়ে কোনোমতে তাদের জীবনযাত্রার ব্যয় নির্বাহ করেন।

২৩. উদ্দীপকে বর্ণিত জনাব সাইদুরের খামারটির বৈশিষ্ট্য হলো—

- i. বাণিজ্যিক উদ্দেশ্যে পরিচালিত  
ii. অধিক উৎপাদন  
iii. পরিবারের সদস্যদের দ্বারা পরিচালিত

নিচের কোনটি সঠিক?

- (ক) i ও ii (খ) i ও iii (গ) ii ও iii (ঘ) i, ii ও iii

২৪. উদ্দীপকে মতি মিয়ার খামারটি কোন ধরনের?

- (ক) বাণিজ্যিক (খ) জীবননির্বাহী  
(গ) ক্ষুদ্রায়তন (ঘ) বৃহদায়তন

২৫. ‘ক্রটিপূর্ণ ওজন ব্যবস্থা’ কৃষিতে কোন ধরনের সমস্যা সৃষ্টি করে?

- (ক) উৎপাদনের সমস্যা  
(খ) কৃষিক্ষেত্রে সমস্যা  
(গ) কৃষি উপকরণ বিতরণে সমস্যা  
(ঘ) কৃষি বিপণনের সমস্যা

২৬. জনাব আব্দুল করিম একটি শিল্প কারখানা স্থাপন করলেন। যেখানে শিল্পনীতি ২০১৬ অনুযায়ী তার বিনিয়োগ সীমা ১০ লক্ষ টাকা থেকে ২ কোটি টাকা এবং শ্রমিক নিয়োগের পরিমাণ ১৬ থেকে ৫০ জন। জনাব আব্দুল করিমের শিল্প কারখানাটি কোন ধরনের?

- (ক) সেবা শিল্পের ক্ষেত্রে বৃহৎ শিল্প  
(খ) ম্যানুফ্যাকচারিং ক্ষেত্রে মাঝারি শিল্প  
(গ) সেবা শিল্পের ক্ষেত্রে ক্ষুদ্র শিল্প  
(ঘ) অর্থাধিকার শিল্প

উদ্দীপকটি পড়ে ২৭ ও ২৮নং প্রশ্নের উত্তর দাও :

জনাব হাশেম একজন শিল্পপতি ও উদ্যোক্তা। তিনি দেখলেন তার দেশ বিদেশ থেকে প্রচুর মোটর সাইকেল আমদানি করে। তাই তিনি সিদ্ধান্ত নিলেন দেশে একটি মোটর সাইকেল কারখানা স্থাপন করবেন।

২৭. জনাব হাশেম যে শিল্পটি স্থাপন করবেন বলে সিদ্ধান্ত নিলেন সেটি কোন ধরনের শিল্পের অন্তর্গত?

- (ক) রপ্তানিমুখী শিল্প  
(খ) অর্থাধিকার শিল্প  
(গ) আমদানি বিকল্প শিল্প  
(ঘ) সংরক্ষিত শিল্প

২৮. উদ্দীপকের শিল্পের প্রভাবে দেশের অর্থনীতিতে—

- i. আমদানি হ্রাস পায়  
ii. রপ্তানি বৃদ্ধি পায়  
iii. আত্মনির্ভরশীলতা বৃদ্ধি পায়

নিচের কোনটি সঠিক?

- (ক) i ও ii (খ) i ও iii (গ) ii ও iii (ঘ) i, ii ও iii

২৯. পোশাক শিল্পের দ্রুত বিকাশের জন্য কোনটি পরিভ্যাগ করা উচিত?

- (ক) শ্রমিকের দক্ষতা বৃদ্ধি  
(খ) তৈরি পোশাক আমদানি  
(গ) পরিপূরক শিল্পের বিকাশ  
(ঘ) মূলধনী দ্রব্য আমদানি

৩০. বৃহদায়তন শিল্প বিকাশের ফলে—

- (ক) শ্রমিক ও মালিকের মধ্যে সুসম্পর্ক থাকে  
(খ) উন্নত উৎপাদন কৌশল ব্যবহার হয়  
(গ) আয় বৈষম্য হ্রাস পায়  
(ঘ) একচেটিয়া কারবার রোধ হয়

## সিলেট বোর্ড ২০২৩

## অর্থনীতি দ্বিতীয় পত্র ● বহুনির্বাচনি অভীক্ষা

পূর্ণমান : ৩০

সময় : ৩০ মিনিট

[বিশেষ দ্রষ্টব্য : সরবরাহকৃত বহুনির্বাচনি অভীক্ষার উত্তরপত্রে প্রশ্নের ক্রমিক নম্বরের বিপরীতে প্রদত্ত বর্ণসংবলিত বৃত্তসমূহ হতে সঠিক/সর্বোৎকৃষ্ট উত্তরের বৃত্তটি বল পয়েন্ট কলম দ্বারা সম্পূর্ণ ভরাট কর। প্রতিটি প্রশ্নের মান ১। প্রশ্নপত্রে কোনো প্রকার দাগ/চিহ্ন দেওয়া যাবে না।]

১. কোনটি অভ্যন্তরীণ ও আন্তর্জাতিক বাণিজ্যের মধ্যে পার্থক্য নির্ধারণিত?

- (ক) মুদ্রা  
(খ) লেনদেন  
(গ) বাজারজাতকরণ  
(ঘ) দ্রব্যমূল্য

■ উদ্দীপকটি পড়ে ২ ও ৩নং প্রশ্নের উত্তর দাও :  
'ক' দেশের মোট জনসংখ্যা x এবং আয়তন y।  
দেশটির জনসংখ্যার ঘনত্ব  $z = 1,200$  জন।

২. 'ক' দেশের জনসংখ্যার ঘনত্ব নির্ণয়ের সূত্র কোনটি?

- (ক)  $DP = \frac{y}{x}$  (খ)  $DP = \frac{x}{y}$   
(গ)  $DP = xy$  (ঘ)  $DP = \frac{xy}{z}$

৩. 'ক' দেশের জনসংখ্যা সম্পর্কিত বক্তব্যসমূহ—

- i.  $DP = z$   
ii.  $z = 1,200$  জন হলে দেশটিকে অতিজনসংখ্যার দেশ বলা যায়  
iii. 'ক' দেশের সাথে বাংলাদেশের তুলনা করা যায়  
নিচের কোনটি সঠিক?

- (ক) i ও ii (খ) i ও iii (গ) ii ও iii (ঘ) i, ii ও iii

৪. কোনটি রপ্তানির মাধ্যমে রেমিট্যান্স পাওয়া যায়?

- (ক) তৈরি পোশাক (খ) চা  
(গ) চামড়া (ঘ) জনশক্তি

৫. কোনটি পরোক্ষ কর?

- (ক) মূল্য সংযোজন কর  
(খ) রেজিস্ট্রেশন ফি  
(গ) আয়কর  
(ঘ) ভূমি রাজস্ব

৬. সরকারি ব্যয়ের মুখ্য উদ্দেশ্য কোনটি?

- (ক) নগরায়ণ (খ) সম্পদ আবিষ্কার  
(গ) দেশরক্ষা (ঘ) বৈষম্য বৃদ্ধি

৭. বাংলাদেশে কোন ধরনের খামারের আধিক্য রয়েছে?

- (ক) জীবনির্বাচনী (খ) বহুমুখী  
(গ) যৌথ (ঘ) সমবায়

৮. কোনটি সরকারের রাজস্ব ব্যয়?

- (ক) রাস্তাঘাট তৈরি  
(খ) সেতু নির্মাণ  
(গ) সরকারি কর্মচারীর বেতন  
(ঘ) কৃষি সরঞ্জাম

৯. প্রত্যক্ষ করের উত্তম উদাহরণ কোনটি?

- (ক) আয়কর (খ) সম্পদকর  
(গ) ভূমি কর (ঘ) কর্পোরেশন কর

১০. আন্তর্জাতিক বাণিজ্যের সুফলসমূহ—

- i. উৎপাদন দক্ষতা বৃদ্ধি পায়  
ii. পরনির্ভরশীলতা বৃদ্ধি পায়  
iii. মূলধনের গতিশীলতা বৃদ্ধি পায়

নিচের কোনটি সঠিক?

- (ক) i ও ii (খ) i ও iii (গ) ii ও iii (ঘ) i, ii ও iii

■ উদ্দীপকটি পড়ে ১১ ও ১২নং প্রশ্নের উত্তর দাও :

'ক' দেশ 'খ' দেশকে পারস্পরিক চুক্তির ভিত্তিতে সাহায্য দেয়। এ বছর 'খ' দেশকে গুডো দুধ, গুয়ুধ এবং পরিবহণ বিমান তৈরির উদ্দেশ্যে বিশেষজ্ঞ শিক্ষক ও প্রশিক্ষণ সহায়তা দেওয়া হয়েছে।

১১. 'ক' দেশ কর্তৃক 'খ' দেশকে দেয় সহায়তা কোনটির সাথে সম্পর্কিত?

- (ক) আন্তর্জাতিক বাণিজ্য  
(খ) বৈদেশিক বিনিয়োগ  
(গ) বৈদেশিক সাহায্য  
(ঘ) বৈদেশিক অর্থায়ন

১২. উদ্দীপকে উল্লিখিত সাহায্যসমূহ—

- i. পণ্য  
ii. সামরিক  
iii. কারিগরি

নিচের কোনটি সঠিক?

- (ক) i ও ii (খ) i ও iii (গ) ii ও iii (ঘ) i, ii ও iii

১৩. কোনটি জলবায়ু পরিবর্তনের কারণ?

- (ক) তাপমাত্রা বৃদ্ধি  
(খ) মাটির লবণাক্ততা বৃদ্ধি  
(গ) সমুদ্রপৃষ্ঠের উচ্চতা বৃদ্ধি  
(ঘ) বন্যপ্রাণী নিধন

১৪. বাংলাদেশে নারী উন্নয়ন কর্মসূচি কোনটিকে প্রভাবিত করে?

- (ক) নগরায়ণ (খ) স্থানীয় সরকার  
(গ) জনসংখ্যা (ঘ) অবকাঠামো

১৫. শিল্পনীতি-২০১৬ অনুযায়ী ক্ষুদ্র শিল্পে সর্বোচ্চ শ্রমিক সংখ্যা কত?

- (ক) ৪০ (খ) ৫০ (গ) ৬০ (ঘ) ৭০

১৬. কোনটির সাথে কৃষির সরাসরি সম্পর্ক রয়েছে?

- (ক) সফতা উৎপাদন  
(খ) শ্রম ব্যবস্থাপনা  
(গ) সমবায় গঠন  
(ঘ) দারিদ্র্য বিমোচন

১৭. কৃষির অবকাঠামোতে আলোচিত বিষয়সমূহ—

- i. ভূমি বন্টন  
ii. জমি জনসংখ্যা অনুপাত  
iii. কৃষি পরিকল্পনা

নিচের কোনটি সঠিক?

- (ক) i ও ii (খ) i ও iii (গ) ii ও iii (ঘ) i, ii ও iii

১৮. মালিকানার ভিত্তিতে কৃষি খামার কত প্রকার?

- (ক) দুই (খ) তিন (গ) চার (ঘ) পাঁচ

১৯. বাংলাদেশের জিডিপিতে কৃষির কোন উপখাতের অবদান সর্বোচ্চ?

- (ক) শস্য ও শাকসবজি  
(খ) প্রাণিজসম্পদ  
(গ) বনজ সম্পদ  
(ঘ) মৎস্য সম্পদ

২০. PPP-এর পূর্ণরূপ কী?

- (ক) Public Public Partnership  
(খ) Private Public Partnership  
(গ) Public Private Partnership  
(ঘ) Private Private Partnership

■ উদ্দীপকটি পড়ে ২১ ও ২২নং প্রশ্নের উত্তর দাও :

আহমেদ, কালাম ও আনিস তাদের জমি ও অন্যান্য উপকরণসমূহ একত্রিকরণ করে একটি খামার প্রতিষ্ঠা করেন। খামারে প্রত্যেকের এক একর জমি রয়েছে যেখানে যুগপৎ চাষাবাদ ও পশু পালন করা হয়।

২১. উৎপাদন ধরন বিবেচনায় খামারটি কোন ধরনের?

- (ক) বিশেষায়িত (খ) বহুমুখী  
(গ) মিশ্র (ঘ) বাণিজ্যিক

২২. উদ্দীপকে উল্লিখিত খামার সম্পর্কে বক্তব্যসমূহ—

- i. এটি একটি আদর্শ খামার  
ii. এটি একটি ব্যক্তি মালিকানাধীন খামার  
iii. এটি একটি যৌথ খামার

নিচের কোনটি সঠিক?

- (ক) i ও ii (খ) i ও iii (গ) ii ও iii (ঘ) i, ii ও iii

২৩. ম্যালথাসের মতে, জনসংখ্যা বৃদ্ধি কী হারে ঘটে?

- (ক) স্বাভাবিক (খ) অস্বাভাবিক  
(গ) গাণিতিক (ঘ) জ্যামিতিক

২৪. মন্ত্রাঙ্গীতির বিপরীত অবস্থা কোনটি?

- (ক) মুদ্রা নিয়ন্ত্রণ (খ) মন্ত্রাসংকোচন  
(গ) মুদ্রাহ্রাস (ঘ) মন্ত্রা সরবরাহ

■ উদ্দীপকটি পড়ে ২৫ ও ২৬নং প্রশ্নের উত্তর দাও :

জরিদা বেগম ৫ জন শ্রমিক নিয়ে তিন লক্ষ টাকার পুঁজি বিনিয়োগ করে বাঁশ বেতের পণ্য উৎপাদন করেন। মুনাফা ভালো হওয়ায় ব্যাংক তাকে বিনিয়োগের জন্য দশ লক্ষ টাকা দেওয়ার প্রতিশ্রুতি দিয়েছে।

২৫. উদ্দীপকে উল্লিখিত শিল্পটি কোন ধরনের?

- (ক) ক্ষুদ্র (খ) অতিক্ষুদ্র  
(গ) কুটির (ঘ) মাঝারি

২৬. উদ্দীপকে উল্লিখিত শিল্প সম্পর্কিত বক্তব্যসমূহ—

- i. ব্যাংকের টাকা বিনিয়োগকৃত হলে এটি ক্ষুদ্র শিল্পে পরিণত হবে  
ii. শ্রমিক সংখ্যা ২০ জন হলে এটি অতিক্ষুদ্র শিল্পে উন্নীত হবে  
iii. শিল্পটিতে দেশের কাঁচামাল ব্যবহৃত হয়

নিচের কোনটি সঠিক?

- (ক) i ও ii (খ) i ও iii (গ) ii ও iii (ঘ) i, ii ও iii

২৭. নিচের কোনটি মুদ্রাঙ্গীতির গুরুত্বপূর্ণ নির্ধারক?

- (ক) মন্ত্রার অবমূল্যায়ন  
(খ) মুদ্রার চাহিদা  
(গ) মন্ত্রার নিয়ন্ত্রণ  
(ঘ) মন্ত্রার যোগান

২৮. ২০১৫ সালে একটি দেশের দামস্তর ২০ টাকা ছিল। ২০২০ সালে দামস্তর ৪০ টাকা হলে মুদ্রাঙ্গীতির হার কত?

- (ক) ১০% (খ) ২০% (গ) ৫০% (ঘ) ১০০%

২৯. মন্ত্রাঙ্গীতি নির্ণয়ে ব্যবহৃত হয়—

- i. স্চক সংখ্যা  
ii. দ্রব্যমূল্য  
iii. ভিত্তি বছর

নিচের কোনটি সঠিক?

- (ক) i ও ii (খ) i ও iii (গ) ii ও iii (ঘ) i, ii ও iii

৩০. উৎপাদন উপকরণের দাম বৃদ্ধি পেলে কোন ধরনের মুদ্রাঙ্গীতি ঘটে?

- (ক) ব্যয় প্ররোচিত  
(খ) চাহিদা প্ররোচিত  
(গ) অর্থ বৃদ্ধিজনিত  
(ঘ) মন্ত্রাঙ্গীতি বৃদ্ধিজনিত

## বরিশাল বোর্ড ২০২৩

## অর্থনীতি দ্বিতীয় পত্র ● বহুনির্বাচনি অভীক্ষা

পূর্ণমান : ৩০

সময় : ৩০ মিনিট

[বিশেষ দ্রষ্টব্য : সরবরাহকৃত বহুনির্বাচনি অভীক্ষার উত্তরপত্রে প্রশ্নের ক্রমিক নম্বরের বিপরীতে প্রদত্ত বর্ণসংবলিত বৃত্তসমূহ হতে সঠিক/সর্বোৎকৃষ্ট উত্তরের বৃত্তটি বল পয়েন্ট কলম দ্বারা সম্পূর্ণ ভরাট কর। প্রতিটি প্রশ্নের মান ১। প্রশ্নপত্রে কোনো প্রকার দাগ/চিহ্ন দেওয়া যাবে না।]

১. বাংলাদেশের কৃষি কয়টি উপখাত নিয়ে গঠিত?  
 (ক) ১ (খ) ২ (গ) ৩ (ঘ) ৪
২. কোনটি বাংলাদেশের কৃষির বৈশিষ্ট্য?  
 (ক) উৎপাদন পদ্ধতি মূলধন নির্বিড়  
 (খ) প্রকৃতির ওপর নির্ভরশীল  
 (গ) মধ্যস্বত্বভোগী অনুপস্থিত  
 (ঘ) নিষ্কটক বিপণন ব্যবস্থা
৩. উৎপাদনের প্রকৃতি অনুসারে কৃষি খামারকে কয় শ্রেণিতে ভাগ করা যায়?  
 (ক) ২ (খ) ৩ (গ) ৪ (ঘ) ৫
৪. জীবনধারণোপযোগী কৃষি খামারের প্রধান উদ্দেশ্য হলো—  
 i. পরিবারের চাহিদা মেটানো  
 ii. সমাজের চাহিদা মেটানো  
 iii. রপ্তানি চাহিদা মেটানো  
 নিচের কোনটি সঠিক?  
 (ক) i (খ) ii (গ) ii ও iii (ঘ) i, ii ও iii
- উদ্দীপকটি পড়ে ৫ ও ৬নং প্রশ্নের উত্তর দাও :  
 আবহমানকাল থেকে ভূ-পৃষ্ঠে উদ্ভিদ ও প্রাণিজগতের জন্ম ও বৃদ্ধি অনেকটা স্বাভাবিক ও প্রকৃতিগত। মানুষ এই প্রক্রিয়ায় অংশগ্রহণ করে নিজেদের চাহিদা মেটাচ্ছে।
৫. উল্লিখিত কর্মপ্রক্রিয়াকে কী নামে অভিহিত করা যায়?  
 (ক) শিল্প (খ) ব্যবসায়  
 (গ) কৃষি (ঘ) আমদানি-রপ্তানি
৬. মানুষের উল্লিখিত কর্মকাণ্ডের মূল নিয়ামক হিসেবে কাজ করে—  
 i. ভূ-প্রকৃতি  
 ii. জলবায়ু  
 iii. যন্ত্রপাতি  
 নিচের কোনটি সঠিক?  
 (ক) i ও ii (খ) i ও iii (গ) ii ও iii (ঘ) i, ii ও iii
৭. জ্ঞান ও পুঁজিনির্ভর উচ্চ প্রযুক্তিভিত্তিক শিল্প কোন ধরনের শিল্প নামে অভিহিত?  
 (ক) ক্ষুদ্র (খ) মাঝারি  
 (গ) অগ্রাধিকার (ঘ) হাইটেক
৮. EPZ কী?  
 (ক) Export Production Zone  
 (খ) Export Promotion Zone  
 (গ) Export Processing Zone  
 (ঘ) Expand Production
- উদ্দীপকটি পড়ে ৯ ও ১০নং প্রশ্নের উত্তর দাও :  
 মি. সৈকত একজন বড় ব্যবসায়ী। তিনি দেখলেন দীর্ঘদিন ধরে মোবাইল ফোন এবং এর যন্ত্রাংশ আমদানি করা হচ্ছে। তাই তিনি দেশেই মোবাইল ফোন তৈরির একটা কারখানা স্থাপন করেন।
৯. মি. সৈকতের স্থাপিত কারখানা কোন ধরনের শিল্পের অন্তর্গত?  
 (ক) অগ্রাধিকার  
 (খ) আমদানি বিকল্প শিল্প  
 (গ) কুটির  
 (ঘ) রপ্তানিমুখী

১০. মি. সৈকতের উদ্যোগ কার্যকর হলে—  
 i. বৈদেশিক মুদ্রার সাশ্রয় হবে  
 ii. বেকারত্ব হ্রাস পাবে  
 iii. বাণিজ্য ঘাটতি বাড়বে  
 নিচের কোনটি সঠিক?  
 (ক) i ও ii (খ) i ও iii (গ) ii ও iii (ঘ) i, ii ও iii
১১. শিল্পনীতি ২০১৬ অনুযায়ী বাংলাদেশের শিল্পসমূহকে কয়ভাগে ভাগ করা হয়েছে?  
 (ক) ৮ (খ) ১০ (গ) ১২ (ঘ) ২০
১২.  $M = \frac{A - O}{O}$  সূত্রটি অর্থনীতির কোন ধারণার সাথে সামঞ্জস্যপূর্ণ?  
 (ক) দেশান্তর  
 (খ) অভিবাসন  
 (গ) ম্যালথাসীয় তত্ত্ব  
 (ঘ) কাম্য জনসংখ্যা তত্ত্ব
১৩. CPI-এর পূর্ণরূপ কী?  
 (ক) Cost and Price Indicator  
 (খ) Customer Price Index  
 (গ) Cost Price Interest  
 (ঘ) Consumer's Price Index
১৪. ভিত্তি বছরের দামস্তর ২০ টাকা। চলতি বছরের দামস্তর ৩০ টাকা। মুদ্রাস্ফীতির হার কত?  
 (ক) ৩০% (খ) ৪০%  
 (গ) ৫০% (ঘ) ৬০%
- উদ্দীপকটি পড়ে ১৫ ও ১৬নং প্রশ্নের উত্তর দাও :  
 কোনো দেশের প্রকৃত জনসংখ্যা ২৫ কোটি ও কাম্য জনসংখ্যা ২০ কোটি।
১৫. দেশটির জনসংখ্যায় অসামঞ্জস্যের পরিমাণ কত?  
 (ক) - ০.২৫ (খ) ০.৩০  
 (গ) ০.২৫ (ঘ) - ০.৩০
১৬. উক্ত পরিস্থিতিতে সরকারের উচিত—  
 i. জনগণকে সচেতন করা  
 ii. যোগাযোগ ব্যবস্থার উন্নতি করা  
 iii. পরিবার পরিকল্পনা কর্মসূচি জোরদার করা  
 নিচের কোনটি সঠিক?  
 (ক) i ও ii (খ) i ও iii (গ) ii ও iii (ঘ) i, ii ও iii
১৭. নিচের কোনটি দ্বারা জন্মহার পরিমাপ করা হয়?  
 (ক) CBR (খ) CDR  
 (গ) CRR (ঘ) CRB
- উদ্দীপকটি পড়ে ১৮ ও ১৯নং প্রশ্নের উত্তর দাও :  
 সরকারি কর্মচারীদের বেতন বৃদ্ধির সাথে দ্রব্যমূল্যের উর্ধ্বগতি পরিলক্ষিত হয়।
১৮. দ্রব্যমূল্যের এ আচরণকে অর্থনীতিতে কী বলা হয়?  
 (ক) মুদ্রার অবমূল্যায়ন (খ) মুদ্রাস্ফীতি  
 (গ) মুদ্রা সংকোচন (ঘ) বাজেট ঘাটতি
১৯. বর্ধিত সমস্যা সমাধানে সরকারের পদক্ষেপ হবে—  
 i. আয়কর হার বৃদ্ধি করা  
 ii. রিজার্ভ অনুপাত বাড়ানো  
 iii. ঋণপত্র বিক্রয় করা  
 নিচের কোনটি সঠিক?  
 (ক) i ও ii (খ) ii ও iii (গ) i ও iii (ঘ) i, ii ও iii
২০. আমদানি ব্যয় অপেক্ষা রপ্তানি আয় বেশি হলে বাণিজ্যের পরিস্থিতি কেমন?  
 (ক) অনুকূল (খ) প্রতিকূল  
 (গ) ঘাটতি (ঘ) ভারসাম্য

২১. রপ্তানি বৃদ্ধিতে ইতিবাচক প্রভাব ফেলতে পারে—  
 i. ভর্তুকি বৃদ্ধি  
 ii. শুল্ক বৃদ্ধি  
 iii. শুল্ক হ্রাস  
 নিচের কোনটি সঠিক?  
 (ক) i ও ii (খ) i ও iii (গ) ii ও iii (ঘ) i, ii ও iii
- উদ্দীপকটি পড়ে ২২ ও ২৩নং প্রশ্নের উত্তর দাও :  
 বাংলাদেশ 'X' নামক দেশে তৈরি পোশাক রপ্তানি করে। পক্ষান্তরে, ওই দেশ থেকে তেল আমদানি করে।
২২. দুদেশের মধ্যে বিদ্যমান কার্যক্রম কী নামে অভিহিত?  
 (ক) আমদানি বাণিজ্য  
 (খ) আন্তর্জাতিক বাণিজ্য  
 (গ) অভ্যন্তরীণ বাণিজ্য  
 (ঘ) রপ্তানি বাণিজ্য
২৩. উল্লিখিত বাণিজ্যের ফলে—  
 i. দেশীয় বাজার সম্প্রসারিত হয়  
 ii. অনুৎপাদিত দ্রব্য ভোগ করা যায়  
 iii. দুই দেশের সম্পর্ক মজবুত হয়  
 নিচের কোনটি সঠিক?  
 (ক) i ও ii (খ) i ও iii (গ) ii ও iii (ঘ) i, ii ও iii
২৪. কোনটি রাজস্ব বহির্ভূত আয়?  
 (ক) জরিমানা (খ) আয়কর  
 (গ) সম্পদ কর (ঘ) আবগারি শুল্ক
২৫. VAT-এর পূর্ণরূপ কী?  
 (ক) Value and Tax  
 (খ) Value as Tax  
 (গ) Value Added Tax  
 (ঘ) Value and Taxation
২৬. প্রত্যক্ষ কোনো সুবিধার বিনিময়ে সরকারকে প্রদত্ত অর্থকে কী বলে?  
 (ক) দান (খ) ফি  
 (গ) কর (ঘ) অনুদান
২৭. যে ঋণ জাতীয় উৎপাদন বা সম্পদ বৃদ্ধিতে সহায়তা করে না তা কোন ধরনের ঋণ?  
 (ক) নিষ্ক্রিয় (খ) সক্রিয়  
 (গ) বন্ধকী (ঘ) মৃতভার
২৮. বেকারত্বের অভিশাপ থেকে মুক্তিতে কোনটি অধিকতর সহায়ক?  
 (ক) আত্মকর্মসংস্থান  
 (খ) সু-স্বাস্থ্য  
 (গ) চাকরি খোঁজা  
 (ঘ) মেধা
২৯. মাইক্রো শিল্পে নিয়োজিত শ্রমিকের সংখ্যা কত?  
 (ক) ১০ থেকে ১৬ বা তার চেয়ে কম  
 (খ) ৫১ থেকে ১২০  
 (গ) ১৬ থেকে ৩০ বা তার চেয়ে কম  
 (ঘ) ১৬ থেকে ৫০
৩০. পরোক্ষ করের ভার অন্যের ওপর চাপানোর সুযোগ থাকে—  
 i. আংশিক  
 ii. পুরোপুরি  
 iii. শূন্য  
 নিচের কোনটি সঠিক?  
 (ক) i ও ii (খ) i ও iii  
 (গ) ii ও iii (ঘ) i, ii ও iii

## দিনাজপুর বোর্ড ২০২৩

সময় : ৩০ মিনিট

## অর্থনীতি দ্বিতীয় পত্র ● বহুনির্বাচনি অভীক্ষা

পূর্ণমান : ৩০

[বিশেষ দ্রষ্টব্য : সরবরাহকৃত বহুনির্বাচনি অভীক্ষার উত্তরপত্রে প্রশ্নের ক্রমিক নম্বরের বিপরীতে প্রদত্ত বর্ণসংবলিত বৃত্তসমূহ হতে সঠিক/সর্বোৎকৃষ্ট উত্তরের বৃত্তটি বল পয়েন্ট কলম দ্বারা সম্পূর্ণ ভরাট কর। প্রতিটি প্রশ্নের মান ১। প্রশ্নপত্রে কোনো প্রকার দাগ/চিহ্ন দেওয়া যাবে না।]

১. জনসংখ্যার ঘনত্ব নির্ণয়ের সূত্র হলো—

$$\text{(ক) } DP = \frac{TR}{TP} \quad \text{(খ) } DP = \frac{TD}{TR}$$

$$\text{(গ) } DP = \frac{TP}{TA} \quad \text{(ঘ) } DP = \frac{TD}{TA}$$

■ উদ্দীপকটি পড়ে ২ ও ৩নং প্রশ্নের উত্তর দাও :

একটি দেশ থেকে যেমন মানুষ বিদেশে যায় তেমনি বিদেশ থেকেও মানুষ ওই দেশে আসে। ফলে ওই দেশে জনসংখ্যার পরিবর্তন দেখা দেয়।

২. উদ্দীপকে যে বিষয়টি আলোকপাত করা হয়েছে তা হলো—

(ক) নিট জাতীয় আয় (খ) নিট অভিবাসন

(গ) নিট জন্মহার (ঘ) নিট মৃত্যুহার

৩. উদ্দীপকে উল্লিখিত দেশের জনসংখ্যা বৃদ্ধি পাবে যদি—

i. নিট অভিবাসন ধনাত্মক হয়

ii. নিট অভিবাসন ঋণাত্মক হয়

iii. নিট অভিবাসন শূন্য হয়

নিচের কোনটি সঠিক?

(ক) i (খ) ii (গ) iii (ঘ) i, ii ও iii

৪. বাংলাদেশে প্রথম আদমশুমারি করা হয় কত সালে?

(ক) ১৯৭২ (খ) ১৯৭৪

(গ) ১৯৮১ (ঘ) ১৯৯১

৫. চিত্তবিনোদন ও উন্নত শিক্ষার কারণে জন্মহার—

(ক) হ্রাস পায় (খ) বৃদ্ধি পায়

(গ) স্থির থাকে (ঘ) দ্বিগুণ হয়

■ উদ্দীপকটি পড়ে ৬ ও ৭নং প্রশ্নের উত্তর দাও :  
বর্তমান বৈশ্বিক পরিস্থিতিতে পৃথিবীর প্রায় সকল দেশেই দামস্তরের উর্ধ্বগতি পরিলক্ষিত হচ্ছে।

৬. উদ্দীপকে কোন বিষয়টি তুলে ধরা হয়েছে?

(ক) মুদ্রার যোগান হ্রাস

(খ) অর্থের মূল্য বৃদ্ধি

(গ) মুদ্রাস্ফীতি

(ঘ) মুদ্রাসংকোচন

৭. উদ্দীপকে উল্লিখিত পরিস্থিতিতে কে লাভবান হয়?

i. শ্রমিক শ্রেণি

ii. ব্যবসায়ী শ্রেণি

iii. ঋণগ্রহীতা

নিচের কোনটি সঠিক?

(ক) i ও ii (খ) i ও iii (গ) ii ও iii (ঘ) i, ii ও iii

৮. ভোক্তার দাম সূচক নির্ণয়ে কোন বিষয়টি বিবেচনা করা হয়?

(ক) পাইকারি দাম (খ) খুচরা দাম

(গ) উপকরণ দাম (ঘ) যোগান দাম

৯. মুদ্রাস্ফীতি কীভাবে নিয়ন্ত্রণ করা যায়?

(ক) ব্যাংক হার বাড়িয়ে

(খ) ব্যাংক হার কমিয়ে

(গ) ব্যাংক হার স্থির রেখে

(ঘ) উৎপাদন কমিয়ে

১০. মুদ্রাস্ফীতির কারণ কী?

(ক) অর্থের যোগান বৃদ্ধি

(খ) অর্থের যোগান হ্রাস

(গ) উৎপাদন বৃদ্ধি

(ঘ) সরকারি ব্যয় হ্রাস

১১. বাংলাদেশ কোন দেশে বেশি জনশক্তি রপ্তানি করে?

(ক) আমেরিকা (খ) ইংল্যান্ড

(গ) মালয়েশিয়া (ঘ) সৌদি আরব

১২. বাংলাদেশের রপ্তানি আয়ে কোনটির অবদান সবচেয়ে বেশি?

(ক) তৈরি পোশাক (খ) নিটওয়্যার

(গ) চা (ঘ) পাটজাত পণ্য

■ উদ্দীপকটি পড়ে ১৩ ও ১৪নং প্রশ্নের উত্তর দাও :

বর্তমান পৃথিবী একটি বৃহৎ গ্রামের মতো। ফলে মানুষ যেমন বিভিন্ন সুবিধা পাচ্ছে তেমনি কিছু অসুবিধার সম্মুখীন হচ্ছে।

১৩. উদ্দীপকে কোন বিষয়টি বোঝানো হয়েছে?

(ক) নগরায়ণ (খ) বিশ্বায়ন

(গ) শিল্পায়ন (ঘ) অর্থায়ন

১৪. উদ্দীপকে নির্দেশিত অসুবিধা হলো—

i. সাংস্কৃতিক আত্মহীনতা

ii. চোরচালান বৃদ্ধি

iii. বহুজাতিক কোম্পানির প্রাধান্য

নিচের কোনটি সঠিক?

(ক) i ও ii (খ) i ও iii (গ) ii ও iii (ঘ) i, ii ও iii

১৫. আন্তর্জাতিক বাণিজ্য সম্পন্ন হওয়ার জন্য আবশ্যিক হলো—

i. দুটি দেশ ও একটি পণ্য

ii. দুটি দেশ ও দুটি পণ্য

iii. দুটি দেশ ও একই মুদ্রাব্যবস্থা

নিচের কোনটি সঠিক?

(ক) i ও ii (খ) i ও iii (গ) ii ও iii (ঘ) i, ii ও iii

১৬. করের আপাত ভার ও চূড়ান্ত ভার ভিন্ন ভিন্ন ব্যক্তি বহন করলে তাকে কী বলা হয়?

(ক) প্রত্যক্ষ কর

(খ) পরোক্ষ কর

(গ) মূল্য সংযোজন কর

(ঘ) বিশেষ কর

১৭. দেশের অভ্যন্তরে উৎপাদিত দ্রব্যসামগ্রীর ওপর কোন ধরনের শুল্ক আরোপ করা হয়?

(ক) আমদানি শুল্ক (খ) বাণিজ্য শুল্ক

(গ) আবগারি শুল্ক (ঘ) সম্পূরক শুল্ক

■ উদ্দীপকটি পড়ে ১৮ ও ১৯নং প্রশ্নের উত্তর দাও :

সরকার মানুষের কল্যাণে অনেক ব্যয় করে যাচ্ছে। তাই মানুষের উচিত সরকারের আয় বৃদ্ধিতে সহায়তা করা।

১৮. মানুষ সরকারের আয় বৃদ্ধিতে কীভাবে সহায়তা করতে পারে?

(ক) কর প্রদানের মাধ্যমে

(খ) কর ফাঁকির মাধ্যমে

(গ) উৎপাদন ব্যয় বাড়িয়ে

(ঘ) সঞ্চয় বৃদ্ধির মাধ্যমে

১৯. সরকার কী ধরনের জনকল্যাণমূলক কাজ করতে পারে?

i. রাস্তাঘাট নির্মাণ

ii. তথ্য ও প্রযুক্তিগত উন্নয়ন

iii. শিক্ষার প্রসার

নিচের কোনটি সঠিক?

(ক) i ও ii (খ) i ও iii (গ) ii ও iii (ঘ) i, ii ও iii

২০. সরকারের আয়ের প্রধান খাত কোনটি?

(ক) কর রাজস্ব (খ) ফি ও জরিমানা

(গ) বৈদেশিক ঋণ (ঘ) বাণিজ্য শুল্ক

২১. বাংলাদেশের অর্থনীতির মূল খাত কোনটি?

(ক) শিল্প (খ) কৃষি

(গ) সেবা (ঘ) নির্মাণ

২২. শস্য বহুমুখীকরণের ফলে কোনটি ঘটে?

(ক) উৎপাদন বৃদ্ধি পায়

(খ) পুষ্টিকর খাদ্য উৎপাদন কমে

(গ) সরকারের ব্যয় বৃদ্ধি পায়

(ঘ) মাটির উর্বরতা বৃদ্ধি পায়

২৩. প্রান্তিক কৃষকের জমির পরিমাণ — একর।

(ক) ০.০৫ — ০.৪৯

(খ) ০.৫০ — ২.৪৯

(গ) ২.৫০ — ৭.৪৯

(ঘ) ৭.৪৯ — উর্ধ্ব

২৪. কৃষির উপখাতসমূহ হচ্ছে—

i. প্রাণী সম্পদ

ii. খনিজ সম্পদ

iii. মৎস্য সম্পদ

নিচের কোনটি সঠিক?

(ক) i ও ii (খ) i ও iii (গ) ii ও iii (ঘ) i, ii ও iii

২৫. BRRI-এর পূর্ণরূপ কী?

(ক) Bangladesh Rice Research Institute

(খ) Bangladesh Rice Recovery Institute

(গ) Bangladesh Rural Research Institute

(ঘ) Bangladesh Rural Recovery Institute

২৬. নিচের কোন দ্রব্যটি বুটির শিল্পের অন্তর্ভুক্ত?

(ক) বেতের চেয়ার

(খ) প্রাস্টিকের চেয়ার

(গ) লোহার চেয়ার

(ঘ) স্টীলের চেয়ার

■ উদ্দীপকটি পড়ে ২৭ ও ২৮নং প্রশ্নের উত্তর দাও :

সোনিয়া একটি শিল্প কারখানায় কাজ করে। কারখানাটিতে তার মতো আরও অনেক মেয়ে কাজ করে। এ শিল্পটি দেশের জন্য অত্যন্ত গুরুত্বপূর্ণ।

২৭. উদ্দীপকে কোন শিল্পকে বুঝানো হয়েছে?

(ক) পাট

(খ) পোশাক

(গ) চিনি

(ঘ) চামড়া

২৮. উদ্দীপকের শিল্পটিকে গুরুত্বপূর্ণ বলার কারণ হলো—

i. বৈদেশিক মুদ্রা অর্জন

ii. কর্মসংস্থান সৃষ্টি

iii. অর্থনৈতিক উন্নয়ন

নিচের কোনটি সঠিক?

(ক) i ও ii (খ) i ও iii (গ) ii ও iii (ঘ) i, ii ও iii

২৯. সরকারি ও বেসরকারি যৌথ উদ্যোগকে সংক্ষেপে বলা হয়—

(ক) PDP

(খ) PPC

(গ) PPP

(ঘ) PPM

৩০. মাইক্রোশিল্পে শ্রমিকের সংখ্যা হলো—

(ক) ৫ — ৯ জন

(খ) ১০ — ২৪ জন

(গ) ২৫ — ৯৯ জন

(ঘ) ১০০ — ১৫০ জন

## ময়মনসিংহ বোর্ড ২০২৩

সময় : ৩০ মিনিট

### অর্থনীতি দ্বিতীয় পত্র ● বহুনির্বাচনি অভীক্ষা

পূর্ণমান : ৩০

[বিশেষ দ্রষ্টব্য : সরবরাহকৃত বহুনির্বাচনি অভীক্ষার উত্তরপত্রে প্রশ্নের ক্রমিক নম্বরের বিপরীতে প্রদত্ত বর্ণসংবলিত বৃত্তসমূহ হতে সঠিক/সর্বোৎকৃষ্ট উত্তরের বৃত্তটি বল পয়েন্ট কলম দ্বারা সম্পূর্ণ ভরাট কর। প্রতিটি প্রশ্নের মান ১। প্রশ্নপত্রে কোনো প্রকার দাগ/চিহ্ন দেওয়া যাবে না।]

#### ১. বাংলাদেশে আদর্শ কৃষি খামারের আয়তন—

- (ক) ২ একর (খ) ৩ একর  
(গ) ৪ একর (ঘ) ৫ একর

#### ২. Bio-technology শব্দের অর্থ কী?

- (ক) কৃষি প্রযুক্তি (খ) পরমাণু প্রযুক্তি  
(গ) বহুমুখী প্রযুক্তি (ঘ) জৈব প্রযুক্তি

#### ৩. কোন ধরনের কৃষিজ উৎপাদনের ক্ষেত্রে কৃষি জমির প্রয়োজন হয় না?

- (ক) তুলা (খ) চা (গ) মাশরুম (ঘ) আখ

#### ৪. বাংলাদেশের কৃষিক্ষেত্রের উপাদাত্তানিক উৎস কোনটি?

- (ক) সমবায় ব্যাংক  
(খ) বাংলাদেশ কৃষি ব্যাংক  
(গ) ধনী কৃষক  
(ঘ) গ্রামীণ ব্যাংক

#### ৫. মাশরুম হলো—

- i. উষ্মি গুণসম্পন্ন ও পুষ্টিকর  
ii. ব্যয়বহুল  
iii. এইডস প্রতিরোধক

#### নিচের কোনটি সঠিক?

- (ক) i ও ii (খ) i ও iii (গ) ii ও iii (ঘ) i, ii ও iii

#### উদ্দীপকটি পড়ে ৬ ও ৭নং প্রশ্নের উত্তর দাও :

জনাব 'ক' একজন গরিব কৃষক। তার এলাকায় অনুন্নত পরিবহণ ও যোগাযোগ ব্যবস্থা, অপরিষ্কৃত গুদামঘর এবং মধ্যস্থত্ব ভোগীদের শোষণের কারণে ফসলের ন্যায্য মূল্য থেকে তিনি বঞ্চিত হন।

#### ৬. জনাব 'ক'-এর সমস্যাটি কোন ধরনের?

- (ক) কৃষি প্রযুক্তির ব্যবহার  
(খ) শস্য বহুমুখীকরণ  
(গ) কৃষি উপকরণ বিতরণ  
(ঘ) কৃষিপণ্য বিপণন

#### ৭. জনাব 'ক'-এর সমস্যাটির সূত্র সমাধান হলে—

- i. দালাল ও ফড়িয়ারা লাভবান হবে  
ii. জোজা যুক্তিসংগত দামে পণ্য ক্রয় করতে পারবে  
iii. জনাব 'ক' ফসলের উপযুক্ত দাম পাবেন

#### নিচের কোনটি সঠিক?

- (ক) i ও ii (খ) i ও iii (গ) ii ও iii (ঘ) i, ii ও iii

#### ৮.

→ মহিলাদের কর্মসংস্থান  
→ স্বল্প মূলধন  
→ দেশীয় কাঁচামালের সন্ধান  
উপরের বৈশিষ্ট্যগুলো কোন শিল্পের সাথে সংগতিপূর্ণ?

- (ক) মাঝারি শিল্প (খ) অগ্রাধিকার শিল্প  
(গ) কুটির শিল্প (ঘ) সংরক্ষিত শিল্প

#### ৯. PPP-এর পূর্ণরূপ কী?

- (ক) Public Private Procurement  
(খ) Public Private Property  
(গ) Public Private Privilege  
(ঘ) Public Private Partnership

#### ১০. বিশ্বব্যাপী পাটের চাহিদা হ্রাসের অন্যতম কারণ—

- (ক) পাট চাষ কষ্টকর  
(খ) পাটের নিম্নমান  
(গ) সিনথেটিক পণ্য উৎপাদন  
(ঘ) পাটের নিম্নমূল্য

#### ১১. বাংলাদেশের সর্বাধিক বৈদেশিক মুদ্রা অর্জনকারী শিল্প কোনটি?

- (ক) পাট শিল্প (খ) বস্ত্র শিল্প  
(গ) চামড়া শিল্প (ঘ) পোশাক শিল্প

#### উদ্দীপকটি পড়ে ১২ ও ১৩নং প্রশ্নের উত্তর দাও :

বর্তমানে বাংলাদেশে প্রচুর পরিমাণে মটরসাইকেল আমদানি করা হয়। সেটি বিবেচনায় রেখে ওয়ালটন কোম্পানির পরিচালকগণ দেশেই মটরসাইকেল তৈরির কারখানা স্থাপনের সিদ্ধান্ত নেন।

#### ১২. উদ্দীপকে ওয়ালটন কোম্পানিটি কোন শিল্পের অন্তর্গত?

- (ক) মাঝারি শিল্প  
(খ) সংরক্ষিত শিল্প  
(গ) রপ্তানিমুখী শিল্প  
(ঘ) আমদানি বিকল্প শিল্প

#### ১৩. উদ্দীপকে যে ধরনের শিল্পের কথা বলা হয়েছে তার প্রভাবে—

- i. আমদানি হ্রাস পাবে  
ii. বাণিজ্য ঘাটতি কমবে  
iii. বৈদেশিক নির্ভরশীলতা হ্রাস পাবে

#### নিচের কোনটি সঠিক?

- (ক) i ও ii (খ) i ও iii (গ) ii ও iii (ঘ) i, ii ও iii

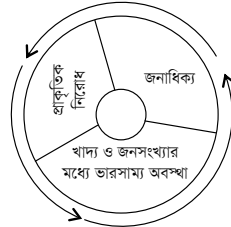
#### ১৪. জনসংখ্যার ঘনত্ব নির্ণয়ের সূত্র কোনটি?

- (ক)  $DP = \frac{TP}{TA}$  (খ)  $DP = \frac{TA}{TP}$   
(গ)  $DP = \frac{PT}{AT}$  (ঘ)  $DP = \frac{A-O}{O}$

#### ১৫. নিচের কোনটি জনসংখ্যার আকারকে সরাসরি বৃদ্ধি করে?

- (ক) মাতৃমৃত্যু হার (খ) অভিবাসন  
(গ) শিক্ষার হার (ঘ) উচ্চ জন্মহার

#### ১৬.



#### ছকটি কোন তত্ত্বের সাথে সম্পর্কিত?

- (ক) ডালটনের জনসংখ্যা তত্ত্ব  
(খ) কাম্য জনসংখ্যা তত্ত্ব  
(গ) ম্যালথাসের জনসংখ্যা তত্ত্ব  
(ঘ) ফিশারের তত্ত্ব

#### ১৭. মানবসম্পদ উন্নয়নের উপায়সমূহ হলো—

- i. শিক্ষা ও প্রশিক্ষণ  
ii. পরিবেশ উন্নয়ন  
iii. চিত্ত বিনোদন

#### নিচের কোনটি সঠিক?

- (ক) i ও ii (খ) i ও iii (গ) ii ও iii (ঘ) i, ii ও iii

#### ১৮. 'X' দেশের প্রকৃত জনসংখ্যা ১২ কোটি এবং কাম্য জনসংখ্যা ৯ কোটি। দেশটির জনসংখ্যার অসামঞ্জস্যের পরিমাণ কত?

- (ক) ০.৩৩ (খ) ০.৫০  
(গ) -০.৩৩ (ঘ) -০.৫০

#### ১৯. মুদ্রাস্ফীতির ফলে স্থির আয়ের লোকের ওপর কী রূপ প্রভাব পড়বে?

- (ক) লাভবান হবে  
(খ) ক্ষতিগ্রস্ত হবে  
(গ) ভোগ বৃদ্ধি পাবে  
(ঘ) জীবনমান উন্নত হবে

#### ২০. মুদ্রাস্ফীতির কারণ—

- (ক) সঞ্চয়পত্রের সুদের হার বৃদ্ধি  
(খ) ব্যাংক হার বৃদ্ধি  
(গ) অর্থের যোগান বৃদ্ধি  
(ঘ) লোনের সুদের হার বৃদ্ধি

#### উদ্দীপকটি পড়ে ২১ ও ২২নং প্রশ্নের উত্তর দাও :

জনাব 'ক' একজন সরকারি চাকরিজীবী। সরকার বেতন বৃদ্ধি করায় তার বেতন ১১,০০০ টাকা থেকে বৃদ্ধি পেয়ে ১৭,০০০ টাকা হলো। এ অবস্থায় চালের দাম প্রতি কেজি ২৪ টাকা থেকে বৃদ্ধি পেয়ে ৩০ টাকা হলো।

#### ২১. উদ্দীপকে মুদ্রাস্ফীতির হার কত?

- (ক) ২০% (খ) ২৫% (গ) ৩০% (ঘ) ৩৫%

#### ২২. উদ্দীপকে সৃষ্ট মুদ্রাস্ফীতি হলো—

- (ক) চাহিদা বৃদ্ধিজনিত  
(খ) যোগান বৃদ্ধিজনিত  
(গ) ব্যয় প্ররোচিত  
(ঘ) ঘাটতি ব্যয় বৃদ্ধিজনিত

#### ২৩. 'EPZ'-এর পূর্ণরূপ কী?

- (ক) Export Position Zone  
(খ) Export Processing Zone  
(গ) Expert Processing Zone  
(ঘ) Export Production Zone

#### ২৪. রপ্তানির চেয়ে আমদানি বৃদ্ধি পেলে নিচের কোনটি ঘটে?

- (ক) লেনদেন ভারসাম্য  
(খ) অনুকূল বাণিজ্য ভারসাম্য  
(গ) বাণিজ্য ভারসাম্য  
(ঘ) প্রতিকূল বাণিজ্য ভারসাম্য

#### উদ্দীপকটি পড়ে ২৫ ও ২৬নং প্রশ্নের উত্তর দাও :

বর্তমানে বাংলাদেশ বিশ্বের বিভিন্ন দেশে ইলেকট্রনিক সামগ্রী, সিরামিক সামগ্রী, ইঞ্জিনিয়ারিং দ্রব্যাদি রপ্তানি করে বৈদেশিক মুদ্রা অর্জন করছে।

#### ২৫. উদ্দীপকে উল্লিখিত রপ্তানি দ্রব্যগুলো কী ধরনের দ্রব্য?

- (ক) প্রচলিত (খ) অপ্রচলিত  
(গ) সেবা (ঘ) কৃষিপণ্য

#### ২৬. উক্ত দ্রব্যসামগ্রী রপ্তানি করে বাংলাদেশের—

- i. জাতীয় আয় বৃদ্ধি পায়  
ii. কর্মসংস্থান বৃদ্ধি পায়  
iii. বাণিজ্য ঘাটতি বৃদ্ধি পায়

#### নিচের কোনটি সঠিক?

- (ক) i ও ii (খ) i ও iii (গ) ii ও iii (ঘ) i, ii ও iii

#### ২৭. সরকারের অনুৎপাদনশীল ব্যয় কোনটি?

- (ক) সেবাখাতে ব্যয় (খ) শিল্পখাতে ব্যয়  
(গ) কৃষি খাতে ব্যয় (ঘ) যুদ্ধ খাতে ব্যয়

#### ২৮. করখাত ও করপাত একই ব্যক্তির ওপর পড়ে

#### এমন করের উদাহরণ হলো—

- (ক) আবগারি শুল্ক (খ) আয়কর  
(গ) আমদানি শুল্ক (ঘ) রপ্তানি শুল্ক

#### ২৯. পরোক্ষ করের উদাহরণ হলো—

- i. বাণিজ্য শুল্ক  
ii. আবগারি শুল্ক  
iii. আয়কর

#### নিচের কোনটি সঠিক?

- (ক) i ও ii (খ) i ও iii (গ) ii ও iii (ঘ) i, ii ও iii

#### ৩০. কোনটি সরকারি ঋণের অভ্যন্তরীণ উৎস?

- (ক) বিশ্বব্যাংক (খ) এডিবি  
(গ) আইএমএফ (ঘ) বাণিজ্যিক ব্যাংক

## ঢাকা বোর্ড ২০২২

সময় : ৩০ মিনিট

## অর্থনীতি দ্বিতীয় পত্র ● বহুনির্বাচনি অভীক্ষা (সেট গ)

পূর্ণমান : ৩০

[বিশেষ দৃষ্টব্য : সরবরাহকৃত বহুনির্বাচনি অভীক্ষার উত্তরপত্রে প্রশ্নের ক্রমিক নম্বরের বিপরীতে প্রদত্ত বর্ণসংবলিত বৃত্তসমূহ হতে সঠিক/ সর্বাধিক উত্তরের বৃত্তটি বলপয়েন্ট কলম দ্বারা সম্পূর্ণ ভরাট কর। প্রতিটি প্রশ্নের মান ১।]

১. একটি দেশে কোনো নির্দিষ্ট সময়ে বহিরাগমন ও বহির্গমনের পার্থক্যকে বলে—

- (ক) জনসংখ্যার ঘনত্ব  
(খ) নিট অভিবাসন  
(গ) শূন্য জনসংখ্যা বৃদ্ধি  
(ঘ) জনসংখ্যা বৃদ্ধির হার

২. “জনসংখ্যা অনিয়ন্ত্রিত অবস্থায় জ্যামিতিক হারে বৃদ্ধি পায় এবং জীবনধারণের উপকরণ খাদ্য বৃদ্ধি পায় গাণিতিক হারে”— বক্তব্যটি কার?

- (ক) Herbert Spencer  
(খ) Dalton  
(গ) Thomas Robert Malthus  
(ঘ) Professor Edwin Cannan

৩. মানব সম্পদ উন্নয়নের বিবেচ্য মৌলিক সূচক কোনগুলো?

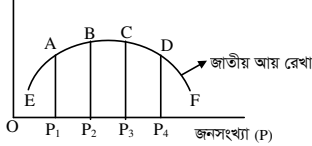
- i. আয়ুষ্কাল  
ii. শিক্ষা ও প্রশিক্ষণ  
iii. জীবনযাত্রার মান

নিচের কোনটি সঠিক?

- (ক) i ও ii (খ) i ও iii (গ) ii ও iii (ঘ) i, ii ও iii

■ নিচের উদ্দীপকের আলোকে এবং ৪ ও ৫নং প্রশ্নের উত্তর দাও :

জাতীয় আয় (Y)



৪. উদ্দীপক অনুসারে কাম্য জনসংখ্যা নির্দেশক বিন্দু কোনটি?

- (ক) A (খ) B (গ) C (ঘ) D

৫. 'D' বিন্দুতে অসামঞ্জস্যের (M) ধরন কীরূপ?

- (ক) '+' (খ) '-' (গ) 'o' (ঘ) 'x'

৬. সাধারণত দামস্তরের ক্রমবৃদ্ধির প্রবণতাকে কী বলে?

- (ক) মুদ্রাস্ফীতি (খ) মুদ্রাসংকোচন  
(গ) অর্থের যোগান (ঘ) অর্থের চাহিদা

৭. নিম্নের কোনটি মুদ্রাস্ফীতির প্রধান কারণ?

- (ক) সামগ্রিক চাহিদা বৃদ্ধি (খ) অর্থের যোগান বৃদ্ধি  
(গ) সরকারি ব্যয় বৃদ্ধি (ঘ) উৎপাদন খরচ বৃদ্ধি

৮. মুদ্রাস্ফীতি হলো—

- (ক) অর্থের মূল্য বাড়ে  
(খ) জনজীবনে অস্থিরতা কমে আসে  
(গ) রপ্তানির পরিমাণ কমে যায়  
(ঘ) সঞ্চয়কারী লাভবান হয়

■ নিচের উদ্দীপকের আলোকে ৯ ও ১০নং প্রশ্নের উত্তর দাও :

অর্থবছর	দামস্তর
২০১৯-২০২০	৫
২০২০-২০২১	৬

পরিস্থিতি বিবেচনায়, মুদ্রাস্ফীতি নিয়ন্ত্রণে কর্তৃপক্ষ দ্রব্য ও সেবার সর্বোচ্চ দাম বেঁধে দেয়ার সিদ্ধান্ত নেয়।

৯. উদ্দীপক অনুসারে ২০২০-২০২১ অর্থবছরে মুদ্রাস্ফীতির হার কত?

- (ক) ২০% (খ) ৩০% (গ) ৪০% (ঘ) ৫০%

১০. পরিস্থিতি নিয়ন্ত্রণে বর্ধিত পদক্ষেপ গ্রহণকারী কর্তৃপক্ষ কে?

- (ক) ক্রেতা (খ) বিক্রেতা (গ) উৎপাদক (ঘ) সরকার

১১. দুই বা ততোধিক স্বাধীন ও সার্বভৌম দেশের মধ্যে আইনগত প্রক্রিয়ায় দ্রব্য ও সেবার ক্রয়-বিক্রয় কার্যক্রম সম্পাদিত হলে তাকে কী বলে?

- (ক) বৈদেশিক বিনিয়োগ  
(খ) বৈদেশিক সাহায্য  
(গ) আন্তর্জাতিক বাণিজ্য  
(ঘ) বিশ্বায়ন

১২. বিশ্বায়নের অসুবিধা কোনটি?

- (ক) টেকসই উন্নয়ন  
(খ) ধনী-দরিদ্রের বৈষম্যের ব্যাপকতা  
(গ) নতুন প্রযুক্তির উদ্ভব  
(ঘ) প্রাকৃতিক পরিবেশের সুরক্ষা

১৩. বৈদেশিক সাহায্য অর্থবহ হয়, যখন তা—

- (ক) কঠিন শর্তযুক্ত হয়  
(খ) রাজনৈতিক পক্ষপাতদূষ্ট হয়  
(গ) দেশীয় উৎপাদন কাঠামো ভেঙে দেয়  
(ঘ) প্রয়োজনীয় ক্ষেত্রে সর্বাধিক স্বচ্ছতার সহিত ব্যবহৃত হয়

■ নিচের উদ্দীপকটি পড় এবং ১৪ ও ১৫নং প্রশ্নের উত্তর দাও :

সাম্প্রতিককালে বিমানবন্দর, গভীর সমুদ্রবন্দর, মহাসড়ক ও রেল লাইন, বহুমুখী সেতু প্রকল্প, বিদ্যুৎ কেন্দ্র নির্মাণ ইত্যাদি ক্ষেত্রে বৈদেশিক সাহায্য গ্রহণ করে আসলেও আত্মমর্যাদাসম্পন্ন জাতি হিসেবে প্রতিষ্ঠা লাভের জন্য বর্তমান বাংলাদেশ সরকার বৈদেশিক সাহায্যের ওপর নির্ভরশীলতা কমিয়ে বাণিজ্য বান্ধব স্বনির্ভর অর্থনীতি গড়ে তুলতে বদ্ধপরিকর।

১৪. উদ্দীপক অনুসারে বাংলাদেশের বৈদেশিক সাহায্য গ্রহণের ক্ষেত্রে কোনটি?

- (ক) জ্ঞান ও সাংস্কৃতিক সম্পর্কের উন্নয়ন  
(খ) মানব সম্পদ উন্নয়ন  
(গ) বেকার সমস্যা দূরীকরণ  
(ঘ) বৃহৎ অবকাঠামো বিনির্মাণ

১৫. উদ্দীপকের আলোকে বাংলাদেশ সরকারের দৃষ্টিভঙ্গি কী ধরনের?

- (ক) বাণিজ্য ও সাহায্য কোনোটিই নয়  
(খ) বাণিজ্য নয়, সাহায্য  
(গ) বাণিজ্য ও সাহায্য উভয়ই  
(ঘ) সাহায্য নয়, বাণিজ্য

১৬. সরকার কর্তৃক আরোপিত একটি নির্দিষ্ট পরিমাণ অর্থ যা বাধ্যতামূলক প্রদেয় এবং এর বিপরীতে কোনো সুবিধার দাবি উত্থাপন করা যায় না তা হলো—

- (ক) কর (খ) ফি (গ) খাজনা (ঘ) টোল

১৭. নিম্নের কোনটি কর বিহীন রাজস্ব?

- (ক) আমদানি শুল্ক  
(খ) VAT  
(গ) রপ্তানি শুল্ক  
(ঘ) রপ্তানি প্রতিনিষ্ঠানের বাণিজ্যিক আয়

১৮. সরকারি ব্যয় ব্যবস্থাপনায় বিবেচ্য বিষয় হলো—

- i. উৎপাদনশীল খাতে ব্যয় হ্রাস  
ii. অনুৎপাদনশীল খাতে ব্যয় নিয়ন্ত্রণ  
iii. স্বচ্ছতা ও জবাবদিহিতার মাধ্যমে ব্যয় বাস্তবায়ন

■ নিচের উদ্দীপকটি পড় এবং ১৯ ও ২০নং প্রশ্নের উত্তর দাও :

২০২১-২২ অর্থবছরে বাংলাদেশের জাতীয় বাজেটে মোট ব্যয় ধরা হয় ৬ লাখ ৩ হাজার ৬৮১ কোটি টাকা। এ বিশাল অর্থসংস্থানের প্রধান ও স্থায়ী উৎস হলো NBR নিয়ন্ত্রিত করসমূহ। এর পাশাপাশি কর বিহীন রাজস্বের বাইরে সরকার প্রয়োজনে ঋণ গ্রহণের মাধ্যমে অর্থসংস্থানের পরিকল্পনা গ্রহণ করেছে।

১৯. সরকারি ব্যয়ের অর্থসংস্থানের উল্লিখিত স্থায়ী উৎস নিম্নের কোনটির অবদান সবচেয়ে বেশি?

- (ক) আমদানি শুল্ক (খ) মূল্য সংযোজন কর  
(গ) আয়কর (ঘ) আবগারি শুল্ক

২০. সরকারি ব্যয়ের অর্থসংস্থানের শেফোজ উৎস হতে অর্থায়নের উদ্দেশ্য কী?

- i. সরকার ও জনপ্রশাসন পরিচালনা  
ii. আর্থসামাজিক অবকাঠামোর বিনির্মাণ  
iii. ঘাটতি বাজেটে অর্থায়ন

নিচের কোনটি সঠিক?

- (ক) i ও ii (খ) i ও iii (গ) ii ও iii (ঘ) i, ii ও iii

২১. কৃষিজোত বলতে বোঝায়—

- (ক) কৃষি উৎপাদনের জন্য আবাদযোগ্য জমি  
(খ) কৃষি জমিতে পরিচালিত উৎপাদন কার্যক্রম  
(গ) কৃষি পণ্যের ক্রয়-বিক্রয় কার্যক্রম  
(ঘ) একই জমিতে ভিন্ন ভিন্ন মৌসুমে ভিন্ন ভিন্ন ফসলের চাষাবাদ

২২. জীবন নির্বাহী খামারের ক্ষেত্রে কোনটি লক্ষণীয়?

- (ক) খামারের আয়তন বড় হয়  
(খ) পারিবারিক ভোগই একমাত্র উদ্দেশ্য  
(গ) চাষাবাদ পদ্ধতি আধুনিক  
(ঘ) কারিগরি দিকের কার্যকার প্রয়োগ

২৩. কৃষিপণ্য বিপণনের সঙ্গে সংশ্লিষ্ট কার্যক্রম হলো—

- i. অর্থায়ন  
ii. গুদামজাতকরণ  
iii. বাজার অনুসন্ধান

নিচের কোনটি সঠিক?

- (ক) i ও ii (খ) i ও iii (গ) ii ও iii (ঘ) i, ii ও iii

■ নিচের উদ্দীপকটি পড় এবং ২৪ ও ২৫নং প্রশ্নের উত্তর দাও :

মূলত জরুরি কৃষি উপকরণ ক্রয়, কৃষিপণ্যের বাজারজাতকরণ এবং সেচের খরচ যোগাতে কৃষকদের ঋণ গ্রহণ করতে হয়। অন্যান্য প্রতিষ্ঠানের পাশাপাশি কৃষি ও কৃষকের কথা চিন্তা করে বাংলাদেশ সরকারও এ খাতে নিরবচ্ছিন্ন ঋণ বিতরণ কার্যক্রম অব্যাহত রেখেছে।

২৪. নিম্নের কোনটি উল্লিখিত ঋণ ব্যবস্থার সবচেয়ে বড় উৎস?

- (ক) এনজিও (খ) ধনী কৃষক  
(গ) আত্মীয়-স্বজন (ঘ) সমবায় সমিতি

২৫. বর্ধিত কর্তৃপক্ষসমূহের নিরবচ্ছিন্ন উদ্যোগের ফলে—

- (ক) খাদ্য নিরাপত্তা নিশ্চিত হবে  
(খ) প্রান্তিক ও ভূমিহীন কৃষক বাড়বে  
(গ) অর্থনৈতিক প্রবৃদ্ধি বাধাগ্রস্ত হবে  
(ঘ) মধ্যবিত্তভোগীদের দোরাত্ম্য বাড়বে

২৬. বাংলাদেশের শিল্পজাত পণ্য রপ্তানির একক বৃহত্তম খাত কোনটি?

- (ক) পাট (খ) চা  
(গ) চামড়া (ঘ) তৈরি পোশাক

২৭. স্পর্শকাতরতা ও সংবেদনশীলতা বিবেচনায় নিম্নের কোন শিল্প গুণমাত্র সরকারি বিনিয়োগের জন্য নির্ধারিত?

- (ক) হাইটেক শিল্প  
(খ) সংরক্ষিত শিল্প  
(গ) অর্থায়নকারী শিল্প  
(ঘ) মাইক্রো শিল্প

২৮. আমদানি বিকল্প শিল্পায়নের মাধ্যমে—

- (ক) অভ্যন্তরীণ বাজার সংকুচিত হয়  
(খ) বৈদেশিক মুদ্রার রিজার্ভ হ্রাস পায়  
(গ) আমদানি ব্যয় কমে আসে

২৯. দেশীয় উৎপাদকদের উৎপাদন সক্ষমতা ফুগু হয়

■ নিচের উদ্দীপকটি পড় এবং ২৯ ও ৩০নং প্রশ্নের উত্তর দাও :

সরকারি ও বেসরকারি যৌথ উদ্যোগের অর্থনৈতিক কর্মকাণ্ড বিশৃঙ্খলে এখন বহুল স্বীকৃত উন্নয়ন কৌশল। বাংলাদেশ সরকারও এ কৌশলের আওতায় বিবিধ খাতে বেশকিছু মেগা প্রকল্প বাস্তবায়নের যৌক্তিক উদ্যোগ হাতে নিয়েছে।

উদ্দীপকে বর্ণিত উন্নয়ন কৌশল কী নামে পরিচিত?

- (ক) FDI (খ) PPP (গ) GSP (ঘ) SDG

উদ্দীপকে উল্লিখিত সরকারের উদ্যোগ যৌক্তিক, কেননা এর মাধ্যমে—

- i. ব্যাপক পুঁজির সরবরাহ সম্ভব হয়  
ii. স্বচ্ছতা ও জবাবদিহিতা নিশ্চিত হয়  
iii. প্রকল্প ব্যয় ন্যূনতম হয়

নিচের কোনটি সঠিক?

- (ক) i ও ii (খ) i ও iii (গ) ii ও iii (ঘ) i, ii ও iii

## রাজশাহী বোর্ড ২০২২

### অর্থনীতি দ্বিতীয় পত্র ● বহুনির্বাচনি অভীক্ষা (সেট গ)

পূর্ণমান : ৩০

সময় : ৩০ মিনিট

[বিশেষ দ্রষ্টব্য : সরবরাহকৃত বহুনির্বাচনি অভীক্ষার উত্তরপত্রে প্রশ্নের ক্রমিক নম্বরের বিপরীতে প্রদত্ত বর্ণসংবলিত বৃত্তসমূহ হতে সঠিক/ সর্বোৎকৃষ্ট উত্তরের বৃত্তটি বলপয়েন্ট কলম দ্বারা সম্পূর্ণ ভরাট কর। প্রতিটি প্রশ্নের মান ১।]

১. বাংলাদেশের অধিকাংশ খামারের ধরন কেমন?

- (ক) জীবন নির্বাহী খামার  
(খ) সমবায় খামার  
(গ) বহুমুখী খামার  
(ঘ) যৌথ মূলধনী খামার

২. বাংলাদেশের কৃষির সবচেয়ে বড় উপখাত কোনটি?

- (ক) মৎস্য খাত (খ) শস্য খাত  
(গ) পশুসম্পদ খাত (ঘ) বনজ খাত

৩. HYV Technology বলতে কী বোঝায়?

- (ক) তথ্যপ্রযুক্তি (খ) উফশী প্রযুক্তি  
(গ) পরমাণু প্রযুক্তি (ঘ) জৈব প্রযুক্তি

৪. জলবায়ু পরিবর্তনের ফলে—

- i. বৈশ্বিক উষ্ণতা হ্রাস পায়  
ii. বৈশ্বিক উষ্ণতা বৃদ্ধি পায়  
iii. বৈশ্বিক উষ্ণতার উপর প্রভাব ধনাত্মক

নিচের কোনটি সঠিক?

- (ক) i ও ii (খ) ii ও iii (গ) i ও iii (ঘ) i, ii ও iii

■ উদ্দীপকটি পড় এবং নিচের ৫ ও ৬নং প্রশ্নের উত্তর দাও :  
মি. 'ক' ও মি. 'খ' নিজস্ব বাড়িতে পোস্তি ও ডেইরি খামার করে পরিবারের পুষ্টি চাহিদা পূরণ এবং অর্থ উপার্জনের পথ সৃষ্টি করেছেন।

৫. পোস্তি ও ডেইরি কৃষির কোন উপখাত?

- (ক) শস্য (খ) মৎস্য  
(গ) বনজ (ঘ) পশুসম্পদ

৬. এ দুটি খামার থেকে সৃষ্টি হয়েছে—

- i. আয় উপার্জন  
ii. কর্মসংস্থান  
iii. যাতায়াত

নিচের কোনটি সঠিক?

- (ক) i ও ii (খ) i ও iii (গ) ii ও iii (ঘ) i, ii ও iii

৭. বাংলাদেশের তৈরি পোশাক শিল্পে নিয়োজিত শ্রমিকের কত শতাংশ মহিলা শ্রমিক?

- (ক) ৮০% (খ) ৮৫% (গ) ৯৫% (ঘ) ৯০%

৮. EPZ-এর পূর্ণরূপ কী?

- (ক) Export Processing Zone  
(খ) Export Procuring Zone  
(গ) Export Producing Zone  
(ঘ) Export Private Zone

৯. রপ্তানিমুখী শিল্পনীতি গ্রহণের উদ্দেশ্য হলো—

- i. রপ্তানি আয় বৃদ্ধি  
ii. কর্মসংস্থান ও আয় বৃদ্ধি  
iii. পরনির্ভরশীলতা হ্রাস

নিচের কোনটি সঠিক?

- (ক) i ও ii (খ) i ও iii  
(গ) ii ও iii (ঘ) i, ii ও iii

■ উদ্দীপকটি পড় এবং নিচের ১০ ও ১১নং প্রশ্নের উত্তর দাও :

মাসুদ সাহেবের তৈরি পোশাক কারখানায় ১,০০০ শ্রমিক কাজ করে। এ কারখানার উৎপাদিত পণ্যগুলো বিদেশে রপ্তানি করা হয়।

১০. কারখানাটি কোন ধরনের শিল্পের অন্তর্গত?

- (ক) কৃটির (খ) ক্ষুদ্র  
(গ) মাঝারি (ঘ) বৃহৎ

১১. পোশাক কারখানাটি স্থাপনের ফলে—

- i. কর্মসংস্থান বাড়ছে  
ii. বৈদেশিক মুদ্রার রিজার্ভ কমছে  
iii. বাণিজ্য ভারসাম্যের উন্নতি হচ্ছে

নিচের কোনটি সঠিক?

- (ক) i ও ii (খ) i ও iii  
(গ) ii ও iii (ঘ) i, ii ও iii

১২.  $M = \frac{A-O}{O}$  এ সমীকরণে M = O হলে—

- (ক) শূন্য জনসংখ্যা নির্দেশ করে  
(খ) অধিক জনসংখ্যা নির্দেশ করে  
(গ) কাম্য জনসংখ্যা নির্দেশ করে  
(ঘ) নিম্ন জনসংখ্যা নির্দেশ করে

১৩. 'An Essay On the Principles of Population' গ্রন্থের লেখক কে?

- (ক) এডাম স্মিথ (খ) অধ্যাপক মার্শাল  
(গ) টমাস ম্যালথাস (ঘ) পি. এ. স্যামুয়েলসন

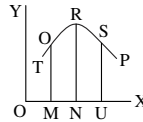
১৪. মানব সম্পদ উন্নয়ন বলতে বোঝায়—

- i. জনসংখ্যার স্বাস্থ্যগত উন্নয়ন  
ii. জনসংখ্যা হ্রাস  
iii. জনসংখ্যার গুণগত পরিবর্তন

নিচের কোনটি সঠিক?

- (ক) i ও ii (খ) ii ও iii (গ) i ও iii (ঘ) i, ii ও iii

■ চিত্রটি লক্ষ কর এবং ১৫ ও ১৬নং প্রশ্নের উত্তর দাও :



১৫. উদ্দীপকে OX অক্ষে কী নির্দেশ করে?

- (ক) সময়  
(খ) সময় ও মাথাপিছু আয়  
(গ) মাথাপিছু আয়  
(ঘ) জনসংখ্যার পরিমাণ

১৬. MN স্তরে—

- i. কাম্য অপেক্ষা বেশি জনসংখ্যা  
ii. কাম্য অপেক্ষা কম জনসংখ্যা  
iii. কাম্য অপেক্ষা কম মাথাপিছু আয়

নিচের কোনটি সঠিক?

- (ক) i ও ii (খ) i ও iii (গ) ii ও iii (ঘ) i, ii ও iii

১৭. সাধারণত দ্রব্যমূল্যের ক্রমাগত বৃদ্ধির প্রবণতাই হলো—

- (ক) মুদ্রাস্ফীতি  
(খ) মুদ্রা সংকোচন  
(গ) অর্থের চাহিদা বৃদ্ধি  
(ঘ) অর্থের যোগান বৃদ্ধি

১৮. CPI এর পূর্ণরূপ কী?

- (ক) Consumption Price Index  
(খ) Consumer Profit Index  
(গ) Consumer Price Index  
(ঘ) Consumption Production Index

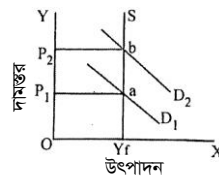
১৯. কোনটি মুদ্রাস্ফীতি নিয়ন্ত্রণের উপায়—

- i. করের হার বৃদ্ধি  
ii. ঋণপত্র বিক্রয়  
iii. ব্যাংক হার বৃদ্ধি

নিচের কোনটি সঠিক?

- (ক) i ও ii (খ) i ও iii (গ) ii ও iii (ঘ) i, ii ও iii

■ চিত্রটি লক্ষ কর এবং ২০ ও ২১নং প্রশ্নের উত্তর দাও :



২০. উদ্দীপকে P1, P2, ba কী নির্দেশ করে?

- (ক) মুদ্রাস্ফীতি (খ) মুদ্রাসংকোচন  
(গ) মোট আয় (ঘ) মোট ব্যয়

২১. SYF রেখাটি নির্দেশ করে—

- i. সামগ্রিক চাহিদা  
ii. সামগ্রিক যোগান  
iii. পূর্ণ নিয়োগ উৎপাদন

নিচের কোনটি সঠিক?

- (ক) i ও ii (খ) ii ও iii (গ) i ও iii (ঘ) i, ii ও iii

২২. দুই বা ততোধিক স্বাধীন সার্বভৌম দেশের মধ্যে সংঘটিত বাণিজ্যকে কী বলে?

- (ক) অভ্যন্তরীণ বাণিজ্য  
(খ) আন্তর্জাতিক বাণিজ্য  
(গ) আমদানি বাণিজ্য  
(ঘ) রপ্তানি বাণিজ্য

২৩. বাংলাদেশের প্রধান অ-প্রচলিত রপ্তানি দ্রব্য কোনটি?

- (ক) চা (খ) চামড়া/জাত দ্রব্য  
(গ) পাট/জাত দ্রব্য (ঘ) তৈরি পোশাক

২৪. দেশের রপ্তানি বৃদ্ধিতে যে ব্যবস্থা নেওয়া যেতে পারে—

- i. রপ্তানি আয়ের উপর কর রেয়াত  
ii. রপ্তানি ঋণ বৃদ্ধি  
iii. খাদদ্রব্য আমদানি

নিচের কোনটি সঠিক?

- (ক) i ও ii (খ) i ও iii (গ) ii ও iii (ঘ) i, ii ও iii

■ উদ্দীপকটি পড় এবং নিচের ২৫ ও ২৬নং প্রশ্নের উত্তর দাও :

'A' ও 'B' দুই বন্ধুই দেশের স্বনামধন্য ব্যবসায়ী। 'A' এর কারখানায় উৎপাদিত দ্রব্য দেশের অভ্যন্তরে বিভিন্ন জেলায় বিক্রয় হয়। অন্যদিকে 'B' এর কারখানার উৎপাদিত দ্রব্য ইউরোপের বিভিন্ন দেশে বিক্রয় হয়।

২৫. 'A' এর ব্যবসাকে বলা হয়—

- (ক) আন্তর্জাতিক বাণিজ্য  
(খ) অভ্যন্তরীণ বাণিজ্য  
(গ) খুচরা ব্যবসা  
(ঘ) পাইকারি ব্যবসা

২৬. 'B' এর ব্যবসার কারণে—

- i. বিদেশের বাজারে দেশের সম্মান বৃদ্ধি পায়  
ii. কূটনৈতিক সম্পর্ক জোরদার হয়  
iii. বৈদেশিক মুদ্রা অর্জিত হয়

নিচের কোনটি সঠিক?

- (ক) i ও ii (খ) i ও iii (গ) ii ও iii (ঘ) i, ii ও iii

২৭. প্রত্যক্ষ কর কোনটি?

- (ক) বাণিজ্য শুল্ক  
(খ) আবগারি শুল্ক  
(গ) আয় কর

(ঘ) মূল্য সংযোজন কর

২৮. সরকারি ঋণের বৈদেশিক উৎস কোনটি?

- (ক) বাংলাদেশ ব্যাংক  
(খ) কর্মসংস্থান ব্যাংক  
(গ) আই.এম.এফ.  
(ঘ) সোনালী ব্যাংক

২৯. VAT এর পূর্ণরূপ কোনটি?

- (ক) Value Added Tax  
(খ) Value Accept Tax  
(গ) Value As Tax  
(ঘ) Value And Tax

৩০. সরকারের ঋণ গ্রহণের কারণ—

- i. মুদ্রাস্ফীতি হ্রাস  
ii. উৎপাদন বৃদ্ধি  
iii. ঘাটতি বাজেটে অর্থায়ন

নিচের কোনটি সঠিক?

- (ক) i (খ) ii ও iii (গ) ii ও iii (ঘ) i, ii ও iii

## যশোর বোর্ড ২০২২

## অর্থনীতি দ্বিতীয় পত্র ● বহুনির্বাচনী অভীক্ষা (সেট খ)

পূর্ণমান : ৩০

সময় : ৩০ মিনিট

[বিশেষ দৃষ্টব্য : সরবরাহকৃত বহুনির্বাচনী অভীক্ষার উত্তরপত্রে প্রশ্নের ক্রমিক নম্বরের বিপরীতে প্রদত্ত বর্ণসংবলিত বৃত্তসমূহ হতে সঠিক/ সর্বোৎকৃষ্ট উত্তরের বৃত্তটি বলপয়েন্ট কলম দ্বারা সম্পূর্ণ ভরাট কর। প্রতিটি প্রশ্নের মান ১।]

১. শিল্পদ্রব্য উৎপাদনের উদ্দেশ্য বিবেচনায় শিল্পকে ভাগ করা হয়েছে—  
 (ক) ২ ভাগে (খ) ৩ ভাগে  
 (গ) ৪ ভাগে (ঘ) ৫ ভাগে
২. শিল্প প্রতিষ্ঠান ব্যক্তি মালিকানায ছেড়ে দেয়া হয় কত সালের শিল্প নীতির মাধ্যমে?  
 (ক) শিল্পনীতি ১৯৮২  
 (খ) শিল্পনীতি ১৯৮৬  
 (গ) শিল্পনীতি ১৯৯১  
 (ঘ) শিল্পনীতি ১৯৯৫
৩. শিল্পনীতি ২০১০ অনুসারে কুটিরশিল্পে শ্রমিক সংখ্যা কত জন?  
 (ক) সর্বোচ্চ ১০ জন  
 (খ) সর্বোচ্চ ২০ জন  
 (গ) সর্বোচ্চ ৩০ জন  
 (ঘ) সর্বোচ্চ ৪০ জন
৪. আধুনিককালে অর্থনৈতিক সমৃদ্ধি অর্জনে কোন খাতের ভূমিকা বেশি?  
 (ক) মৎস্য খাতের  
 (খ) কৃষি খাতের  
 (গ) শিল্প খাতের  
 (ঘ) স্বাস্থ্য খাতের
৫. আমদানি বিকল্প শিল্পের মাধ্যমে—  
 i. নিট রপ্তানি বৃদ্ধি পায়  
 ii. আমদানি বৃদ্ধি পায়  
 iii. দেশের কর্মসংস্থান বৃদ্ধি পায়  
 নিচের কোনটি সঠিক?  
 (ক) i ও ii (খ) ii ও iii  
 (গ) i ও iii (ঘ) i, ii ও iii
৬. জনসংখ্যা বৃদ্ধির হার নির্ণয়ের সূত্র কোনটি?  
 (ক)  $\frac{\text{জন্ম হার} - \text{মৃত্যু হার}}{১০০} \times ১০০০$   
 (খ)  $\frac{\text{জন্ম হার} - \text{মৃত্যু হার}}{১০০০} \times ১০০$   
 (গ)  $\frac{\text{জন্ম হার} - \text{মৃত্যু হার}}{১০০} \times ১০০$   
 (ঘ)  $\frac{\text{জন্ম হার} - \text{মৃত্যু হার}}{১০০০} \times ১০০০$
৭. বাংলাদেশে মোট কতটি চা বাগান আছে?  
 (ক) ১৬৫টি (খ) ১৭০টি  
 (গ) ১৬৭টি (ঘ) ১৬৯টি
৮. জনসংখ্যা বৃদ্ধির ফলে—  
 i. শ্রমের যোগান বৃদ্ধি পায়  
 ii. পণ্যের চাহিদা বৃদ্ধি পায়  
 iii. বাজার সংকুচিত হয়  
 নিচের কোনটি সঠিক?  
 (ক) i ও ii (খ) ii ও iii  
 (গ) i ও iii (ঘ) i, ii ও iii
৯. ২০১৮ সালের পরিসংখ্যান অনুযায়ী প্রতি বর্গ কি. মি. তে কতজন লোক বাস করে?  
 (ক) ৮০৪ জন (খ) ১০১৫ জন  
 (গ) ১০৯০ জন (ঘ) ১২৯০ জন
- নিচের উদ্দীপকের আলোকে ১০ ও ১১নং প্রশ্নের উত্তর দাও :  
 'ক' একটি উন্নয়নশীল দেশ। দেশের অর্থনৈতিক উন্নয়ন প্রক্রিয়া চালু রাখার জন্য দেশটি বিদ্যুৎ উৎপাদন কারখানা তৈরির উদ্যোগ গ্রহণ করে। উক্ত কারখানা তৈরির জন্য 'খ' দেশ থেকে আর্থিক ও কারিগরি সহায়তা গ্রহণ করে।
১০. উদ্দীপকে 'ক' দেশের গৃহীত সাহায্য—  
 (ক) প্রকল্প সাহায্য  
 (খ) পণ্য সাহায্য  
 (গ) সামরিক সাহায্য  
 (ঘ) অপ্রকল্প সাহায্য
১১. উক্ত সাহায্যের বৈশিষ্ট্য—  
 i. সম্পূর্ণ মানবিক কারণ  
 ii. দ্বিমুখী প্রক্রিয়া  
 iii. সুসম্পর্ক বজায় রাখা  
 নিচের কোনটি সঠিক?  
 (ক) i ও ii (খ) ii ও iii  
 (গ) i ও iii (ঘ) i, ii ও iii
- নিচের উদ্দীপকের আলোকে ১২ ও ১৩নং প্রশ্নের উত্তর দাও :  
 'X' দেশে ২০১৮ সালে ১২ লক্ষ জীবিত শিশু জন্মগ্রহণ করে এবং ১০ লক্ষ লোক মৃত্যুবরণ করে। ঐ বছরের মধ্যে সময়ের জনসংখ্যা ১০ কোটি।
১২. ২০১৮ সালে 'X' দেশে স্থূল জন্মহার প্রতি হাজারে কত ছিল?  
 (ক) ৮ (খ) ১০  
 (গ) ১২ (ঘ) ১৪
১৩. দেশটিতে ঐ সময়ে মৃত্যুবরণকারী সংখ্যা যদি হ্রাস পায় তবে স্থূল মৃত্যুহার—  
 (ক) স্থির থাকবে (খ) শূন্য হবে  
 (গ) কমবে (ঘ) বাড়বে
১৪. প্রকৃত মুদ্রাস্ফীতি কখন দেখা দেয়?  
 (ক) পূর্ণ নিয়োগের পূর্বে  
 (খ) পূর্ণ নিয়োগের পরে  
 (গ) পূর্ণ নিয়োগ শুরু  
 (ঘ) অপূর্ণ নিয়োগের পরে
১৫. "মুদ্রাস্ফীতি এমন একটি পরিস্থিতি, যখন অর্থের মূল্য ক্রমাগত হ্রাস পায় এবং দ্রব্যমূল্য বৃদ্ধি পায়"— সংজ্ঞাটি কোন অর্থনীতিবিদ দিয়েছেন?  
 (ক) অধ্যাপক লর্ড কেইল  
 (খ) অধ্যাপক পিণ্ড  
 (গ) অর্থনীতিবিদ ক্রাউথার  
 (ঘ) অর্থনীতিবিদ জি. অ্যাকলে
১৬.  $M = \frac{A-O}{O}$  সমীচরণে M = + (ধনাত্মক) হলে কী নির্দেশ করে?  
 (ক) কামা জনসংখ্যা  
 (খ) অধিক জনসংখ্যা  
 (গ) ঘাটতি জনসংখ্যা  
 (ঘ) শূন্য জনসংখ্যা
- নিচের উদ্দীপকের আলোকে ১৭ ও ১৮নং প্রশ্নের উত্তর দাও :  
 মিজান পড়াশোনা শেষ করে নিজ গ্রামে একটি কৃষি খামার স্থাপন করেন। উক্ত খামারে শাকসবজি উৎপাদনের পাশাপাশি হাঁস-মুরগি পালন করেন।
১৭. মিজানের খামার—  
 (ক) যৌথ খামার  
 (খ) বহুমুখী খামার  
 (গ) মিশ্র খামার  
 (ঘ) বিশেষায়িত খামার
১৮. উক্ত খামারে উদ্দেশ্য—  
 i. পরিবারের খাদ্য চাহিদা মেটানো  
 ii. কর্মসংস্থানের সুযোগ বৃদ্ধি  
 iii. সামাজিক বনয়ন  
 নিচের কোনটি সঠিক?  
 (ক) i ও ii (খ) ii ও iii  
 (গ) i ও iii (ঘ) i, ii ও iii
১৯. কোনটি অপ্রচলিত রপ্তানি পণ্য?  
 (ক) পাট (খ) চা  
 (গ) তৈরি পোশাক (ঘ) চামড়া
২০. বিশ্বায়নের ফলে যেসব সুযোগ সৃষ্টি হয়—  
 i. উপকরণের গতিশীলতা বৃদ্ধি পায়  
 ii. অধিক উৎপাদন  
 iii. দাম বৃদ্ধি  
 নিচের কোনটি সঠিক?  
 (ক) i ও ii (খ) i ও iii  
 (গ) ii ও iii (ঘ) i, ii ও iii
২১. মুসক কোন ধরনের কর?  
 (ক) পরোক্ষ কর  
 (খ) প্রত্যক্ষ কর  
 (গ) ভূমি কর  
 (ঘ) প্রমোদ কর
২২. সরকারি ঋণের উদ্দেশ্য—  
 i. জনকল্যাণে ব্যয়  
 ii. জরুরি অবস্থা মোকাবিলা  
 iii. বাজেট ঘাটতি পূরণ  
 নিচের কোনটি সঠিক?  
 (ক) i ও ii (খ) ii ও iii  
 (গ) i ও iii (ঘ) i, ii ও iii
২৩. কর বহির্ভূত রাজস্ব কোনটি?  
 (ক) পরোক্ষ কর  
 (খ) বাণিজ্যিক রাজস্ব  
 (গ) সম্পূর্ণক শুদ্ধ  
 (ঘ) টোল ও লেভি
২৪. সরকারি ঋণের বৈদেশিক উৎস কোনটি?  
 (ক) গ্রামীণ ব্যাংক  
 (খ) সোনালী ব্যাংক  
 (গ) বাংলাদেশ ব্যাংক  
 (ঘ) বিশ্ব ব্যাংক
২৫. কোন ফসলের জন্য কৃষি জমির প্রয়োজন হয় না?  
 (ক) তুলা (খ) ধান  
 (গ) চা (ঘ) মাশরুম
২৬. বাংলাদেশে অধিক পরিমাণে রয়েছে—  
 (ক) যৌথ খামার  
 (খ) বাণিজ্যিক খামার  
 (গ) জীবন নির্বাহী খামার  
 (ঘ) সমবায় খামার
২৭. মাশরুম গবেষণা কেন্দ্র রয়েছে—  
 (ক) ঢাকা (খ) গাজীপুর  
 (গ) সাতার (ঘ) টাঙ্গাইল
২৮. কৃষির উপখাতগুলো হলো—  
 i. প্রাণী সম্পদ  
 ii. শস্য  
 iii. বনজ সম্পদ  
 নিচের কোনটি সঠিক?  
 (ক) i ও ii (খ) i ও iii  
 (গ) ii ও iii (ঘ) i, ii ও iii
২৯. বাংলাদেশে কৃষি খাতে পরিবর্তনের যে সূচনা হয়েছে তার ফলে—  
 i. উৎপাদন বাড়ছে  
 ii. আধুনিক প্রযুক্তির ব্যবহার বাড়ছে  
 iii. শস্য বহুমুখীকরণ ঘটছে  
 নিচের কোনটি সঠিক?  
 (ক) i ও ii (খ) ii ও iii  
 (গ) i ও iii (ঘ) i, ii ও iii
৩০. দেশের মোট শ্রমজির কত ভাগ কৃষিকাজে নিয়োজিত?  
 (ক) ৪০.৬ (খ) ৪৫.১  
 (গ) ৫০.১ (ঘ) ৫৪.৯০

## কুমিল্লা বোর্ড ২০২২

সময় : ৩০ মিনিট

## অর্থনীতি দ্বিতীয় পত্র ● বহুনির্বাচনি অভীক্ষা (সেট গ)

পূর্ণমান : ৩০

[বিশেষ দ্রষ্টব্য : সরবরাহকৃত বহুনির্বাচনি অভীক্ষার উত্তরপত্রে প্রশ্নের ক্রমিক নম্বরের বিপরীতে প্রদত্ত বর্ণসংবলিত বৃত্তসমূহ হতে সঠিক/ সর্বোৎকৃষ্ট উত্তরের বৃত্তটি বলপয়েন্ট কলম দ্বারা সম্পূর্ণ ভরাট কর। প্রতিটি প্রশ্নের মান ১।]

১. বিশ্বায়ন ধারণাটির উদ্ভব ঘটে কোন দশকে?  
 (ক) ত্রিশ-এর দশকে  
 (খ) চল্লিশ-এর দশকে  
 (গ) পঞ্চাশ-এর দশকে  
 (ঘ) ষাট-এর দশকে
- উদ্দীপকটি পড় এবং ২ ও ৩নং প্রশ্নের উত্তর দাও :  
 বাংলাদেশের কৃষিপণ্যের বাজার ব্যবস্থা অনুন্নত, অসংগঠিত ও ক্রটিপূর্ণ হওয়ায় কৃষক ও ভোক্তা উভয়েই ক্ষতিগ্রস্ত হন।
২. উদ্দীপকে কৃষিপণ্যের কী নির্দেশ করা হয়েছে?  
 (ক) বিপণন ব্যবস্থা  
 (খ) উৎপাদন ব্যবস্থা  
 (গ) ক্রয় ব্যবস্থা  
 (ঘ) সংরক্ষণ ব্যবস্থা
৩. বাংলাদেশের কৃষক ও ভোক্তা উভয়েই ক্ষতিগ্রস্ত হওয়ার কারণ—  
 i. মধ্যস্থত্বভোগীদের উপস্থিতি  
 ii. সনাতন পদ্ধতির চাষাবাদ  
 iii. গুদামের অভাব  
 নিচের কোনটি সঠিক?  
 (ক) i ও ii (খ) i ও iii  
 (গ) ii ও iii (ঘ) i, ii ও iii
৪. দেশীয় কোন প্রতিষ্ঠান থেকে সরকার সবচেয়ে বেশি রাজস্ব আয় পেয়ে থাকে?  
 (ক) বিভিন্ন শিক্ষা বোর্ড  
 (খ) পানি উন্নয়ন বোর্ড  
 (গ) জাতীয় রাজস্ব বোর্ড  
 (ঘ) বিদ্যুৎ উন্নয়ন বোর্ড
৫. বিশ্বায়নের ইতিবাচক প্রভাব হলো—  
 i. পণ্য ও শ্রমের অবাধ প্রবাহ  
 ii. পুঁজির অবাধ প্রবাহ  
 iii. তথ্যের অবাধ প্রবাহ  
 নিচের কোনটি সঠিক?  
 (ক) i ও ii (খ) i ও iii  
 (গ) ii ও iii (ঘ) i, ii ও iii
৬. একটি দেশের দামস্তর ছিল ২০২০ সালে ৫০ টাকা এবং ২০২১ সালে ৫৩ টাকা। ঐ দেশের মুদ্রাস্ফীতির হার কত?  
 (ক) ৪% (খ) ৫%  
 (গ) ৬% (ঘ) ৭%
৭. জ্যামিতিক হার কোনটি?  
 (ক) ১, ২, ৪, ৮.....  
 (খ) ১, ৩, ৫, ৭.....  
 (গ) ১, ২, ৩, ৪.....  
 (ঘ) ২, ৪, ৬, ৮.....
৮. HYV এর পূর্ণরূপ কী?  
 (ক) High Yielding Vegetable  
 (খ) High Yielding Variety  
 (গ) High Yielding Vaccination  
 (ঘ) High Yielding Variation
৯. সরকারি অর্থব্যবস্থায়—  
 (ক) ব্যয় অনুযায়ী আয় করা হয়  
 (খ) আয় অনুযায়ী ব্যয় করা হয়  
 (গ) আয়-ব্যয়ের গোপনীয়তা রক্ষা করা হয়  
 (ঘ) আয় ব্যয় হিসাব করা হয় না
১০. আন্তর্জাতিক বাণিজ্যের তুলনামূলক খরচ তড়ের প্রবন্ধ—  
 (ক) অ্যাডাম স্মিথ  
 (খ) ডেভিড রিকার্ডো  
 (গ) আলফ্রেড মার্শাল  
 (ঘ) এল. রবিস
১১. নিচের কোনটি মুদ্রাস্ফীতির কারণ?  
 (ক) অর্থের যোগান হ্রাস  
 (খ) রপ্তানি হ্রাস  
 (গ) উৎপাদন হ্রাস  
 (ঘ) জনসংখ্যা হ্রাস
১২. নির্ভরশীল জনসংখ্যা বয়স—  
 (ক) ১৫ বছরের বেশি এবং ৬০ বছরের কম  
 (খ) ১৫ বছরের কম এবং ৬০ বছরের বেশি  
 (গ) ২০ বছরের কম এবং ৫০ বছরের বেশি  
 (ঘ) ২০ বছরের বেশি এবং ৫০ বছরের কম
- উদ্দীপকটি পড় এবং ১৩ ও ১৪নং প্রশ্নের উত্তর দাও :  
 দরিদ্র চাষি মোবারক আলী আফসোস করে বলেন যে, 'সোনালি আঁশ' এর সেই সোনালি দিন এখন আর নেই।
১৩. উদ্দীপকে কোন শিল্পের কথা বলা হয়েছে?  
 (ক) চা (খ) চামড়া  
 (গ) পাট (ঘ) তৈরি পোশাক
১৪. উদ্দীপকে উল্লিখিত শিল্পের সমস্যা হলো—  
 i. বিকল্প দ্রব্যের আবিষ্কার  
 ii. বাজার তথ্যের অভাব  
 iii. উৎপাদন ব্যয় হ্রাস  
 নিচের কোনটি সঠিক?  
 (ক) i ও ii (খ) i ও iii  
 (গ) ii ও iii (ঘ) i, ii ও iii
১৫. নিচের কোনটিকে 'সবজি মাংস' বলা হয়ে থাকে?  
 (ক) লাল শাক (খ) পালং শাক  
 (গ) মাশরুম (ঘ) ফুলকপি
১৬. সংরক্ষিত শিল্পের আওতায় পড়ে—  
 i. অস্ত্রশস্ত্র ও সামরিক সরঞ্জাম  
 ii. লৌহ ও ইস্পাত  
 iii. সিকিউরিটি প্রিন্টিং ও টাকশাল  
 নিচের কোনটি সঠিক?  
 (ক) i ও ii (খ) i ও iii  
 (গ) ii ও iii (ঘ) i, ii ও iii
১৭. মুদ্রাস্ফীতির ফলে লাভবান হয়—  
 (ক) স্বল্প আয়ের মানুষ  
 (খ) ঋণগ্রহীতা  
 (গ) ঋণদাতা  
 (ঘ) স্থির আয়ের মানুষ
- উদ্দীপকটি পড় এবং ১৮ ও ১৯নং প্রশ্নের উত্তর দাও :  
 দেশে যে হারে জনসংখ্যা বৃদ্ধি পাচ্ছে সে হারে কর্মসংস্থানের সুযোগ সৃষ্টি হচ্ছে না। তাই ব্যক্তি পর্যায়ে নিজেই নিজের কর্মসংস্থান সৃষ্টি করতে হবে।
- উদ্দীপকে যে কর্মসংস্থানের কথা বলা হয়েছে তাকে বলা হয়—  
 (ক) সরকারি কর্মসংস্থান  
 (খ) আত্মকর্মসংস্থান  
 (গ) বৈদেশিক কর্মসংস্থান  
 (ঘ) অভ্যন্তরীণ কর্মসংস্থান
১৮. উদ্দীপকে যে কর্মসংস্থানের কথা বলা হয়েছে তাকে বলা হয়—  
 (ক) সরকারি কর্মসংস্থান  
 (খ) আত্মকর্মসংস্থান  
 (গ) বৈদেশিক কর্মসংস্থান  
 (ঘ) অভ্যন্তরীণ কর্মসংস্থান
১৯. উদ্দীপক অনুযায়ী কর্মসংস্থান সৃষ্টি হলে—  
 i. উৎপাদন বাড়বে  
 ii. বেকারত্ব কমবে  
 iii. স্বনির্ভরতা অর্জিত হবে  
 নিচের কোনটি সঠিক?  
 (ক) i ও ii (খ) i ও iii  
 (গ) ii ও iii (ঘ) i, ii ও iii
২০. বাংলাদেশের প্রচলিত রপ্তানি পণ্য কোনটি?  
 (ক) তৈরি পোশাক (খ) জুতা  
 (গ) সার (ঘ) চা
২১. বাংলাদেশ সরকারের ব্যয়ের খাত হলো—  
 i. জনকল্যাণ সাধন করা  
 ii. সর্বভৌমত্ব রক্ষা করা  
 iii. শিক্ষার প্রসার করা  
 নিচের কোনটি সঠিক?  
 (ক) i ও ii (খ) i ও iii  
 (গ) ii ও iii (ঘ) i, ii ও iii
২২. যে খামারের উৎপাদিত পণ্য দিয়ে শুধুমাত্র পরিবারের ভরণপোষণ চলে, তাকে কী ধরনের খামার বলে?  
 (ক) বিশেষায়িত খামার  
 (খ) আদর্শ খামার  
 (গ) জীবননির্ভর খামার  
 (ঘ) বাণিজ্যিক খামার
২৩. মূল্য সংযোজন কর এক ধরনের—  
 (ক) প্রত্যক্ষ কর  
 (খ) পরোক্ষ কর  
 (গ) আয়কর  
 (ঘ) সম্পদ কর
২৪. দৃশ্যমান ও অদৃশ্যমান আমদানি-রপ্তানির হিসাবের বিবরণকে বলা হয়—  
 (ক) বাণিজ্যের ভারসাম্য (খ) লেনদেনের ভারসাম্য  
 (গ) বাজার ভারসাম্য (ঘ) উৎপাদকের ভারসাম্য
- উদ্দীপকটি পড় এবং ২৫ ও ২৬নং প্রশ্নের উত্তর দাও :  
 অর্থনীতিবিদগণ মনে করেন যে, চাহিদা বৃদ্ধি বা খরচ বৃদ্ধি যে কারণেই হোক না কেন মুদ্রাস্ফীতি নিয়ন্ত্রণে রাখা প্রয়োজন।
২৫. উদ্দীপকে কয় ধরনের মুদ্রাস্ফীতির কথা বলা হয়েছে?  
 (ক) ২ (খ) ৩ (গ) ৪ (ঘ) ৫
২৬. উদ্দীপকে উল্লিখিত মুদ্রাস্ফীতি নিয়ন্ত্রণের উপায় হতে পারে—  
 i. আর্থিক নীতি  
 ii. রাজস্ব নীতি  
 iii. প্রত্যক্ষ নিয়ন্ত্রণ নীতি  
 নিচের কোনটি সঠিক?  
 (ক) i ও ii (খ) i ও iii  
 (গ) ii ও iii (ঘ) i, ii ও iii
২৭. শূন্য জনসংখ্যা বৃদ্ধি হলো যদি একটি দেশের—  
 (ক) জন্মহার মৃত্যুহারের চেয়ে বেশি হয়  
 (খ) জন্মহার মৃত্যুহারের চেয়ে কম হয়  
 (গ) জন্মহার মৃত্যুহার উভয়েই শূন্য হয়  
 (ঘ) জন্মহার মৃত্যুহার উভয়েই সমান হয়
২৮. বিদেশ থেকে যেসব পণ্য আমদানি করা হয় সেসব পণ্য নিজের দেশে উৎপাদন করতে শিল্প স্থাপন করাকে বলা হয়—  
 (ক) পচাত্মুখী শিল্প  
 (খ) বৃহৎ শিল্প  
 (গ) রপ্তানিমুখী শিল্প  
 (ঘ) আমদানি বিকল্প শিল্প
২৯. ফসল উৎপাদনের ধরনের ভিত্তিতে কৃষি খামারের প্রকারভেদ হলো—  
 i. বিশেষায়িত খামার  
 ii. বহুমুখী খামার  
 iii. মিশ্র খামার  
 নিচের কোনটি সঠিক?  
 (ক) i ও ii (খ) ii ও iii  
 (গ) i ও iii (ঘ) i, ii ও iii
৩০. বাংলাদেশ ব্যাংক সরকারের কোন ধরনের ঋণের উৎস?  
 (ক) বাণিজ্যিক (খ) বৈদেশিক  
 (গ) অভ্যন্তরীণ (ঘ) বেসরকারি

## চট্টগ্রাম বোর্ড ২০২২

সময় : ৩০ মিনিট

### অর্থনীতি দ্বিতীয় পত্র ● বহুনির্বাচনি অভীক্ষা (সেট ঘ)

পূর্ণমান : ৩০

[বিশেষ দৃষ্টব্য : সরবরাহকৃত বহুনির্বাচনি অভীক্ষার উত্তরপত্রে প্রশ্নের ক্রমিক নম্বরের বিপরীতে প্রদত্ত বর্ণসংবলিত বৃত্তসমূহ হতে সঠিক/ সর্বোৎকৃষ্ট উত্তরের বৃত্তটি বলপয়েন্ট কলম দ্বারা সম্পূর্ণ ভরাট কর। প্রতিটি প্রশ্নের মান ১।]

১. কোনটি প্রত্যক্ষ করের উদাহরণ—
  - ক) VAT
  - খ) বিক্রয় কর
  - গ) সম্পদ কর
  - ঘ) আবগারি শুল্ক
- নিচের উদ্দীপকটি পড়ে ২ ও ৩নং প্রশ্নের উত্তর দাও :  
রাজেশের দেশের চাকরিজীবী জয়নব খানম প্রত্যেক অর্থবছর শেষে জাতীয় রাজস্ব বোর্ডে বাধ্যতামূলকভাবে কিছু টাকা জমা দেন। অন্যদিকে বাড়ির মালিক রুশো আহমেদ সিটি কর্পোরেশন অফিসে হোল্ডিং ট্যাক্স বাবদ টাকা জমা দেন।
২. উদ্দীপক অনুযায়ী জয়নব খানম নিচের কোনটি জমা দেন?
  - ক) আয়কর
  - খ) নবায়ন ফি
  - গ) মূল্য সংযোজন কর
  - ঘ) প্রমোদ কর
৩. উদ্দীপক অনুযায়ী রুশো আহমেদের অর্থ প্রদানের ক্ষেত্রে—
  - ক) বাধ্যতামূলক
  - খ) বিশেষ সুবিধাপ্রাপ্তি
  - গ) জরিমানা
  - ঘ) বাণিজ্যিক আয়ের অংশ
৪.  $\frac{P_1 - P_0}{P_0} \times 100$  [যেখানে  $P_0$  = পূর্ববর্তী বছরের দামস্ত,  $P_1$  = পরবর্তী বছরের দামস্ত] সূত্রটি অর্থনীতির কোন ধারণার সাথে সম্পৃক্ত?
  - ক) মুদ্রা সংকোচন
  - খ) অর্থের মূল্য
  - গ) মুদ্রাস্ফীতি
  - ঘ) দাম সূচক
৫. নিচের কোনটি ব্যয় বৃদ্ধিজনিত মুদ্রাস্ফীতির কারণ?
  - ক) নতুন নোট ছাপানো
  - খ) দ্রব্যের উৎপাদন হ্রাস
  - গ) বাণিজ্যিক ব্যাংকের ঋণ বৃদ্ধি
  - ঘ) শ্রমিকের মজুরি বৃদ্ধি
৬. মুদ্রাস্ফীতির সময় লাভবান হয় যে শ্রেণি—
  - ক) চাকরিজীবী
  - খ) ব্যবসায়ী
  - গ) শ্রমিক
  - ঘ) ঋণদাতা
৭. জাতীয় অর্থনীতিতে অবদানের ক্ষেত্রে বাংলাদেশের বৃহত্তম কৃষি উপখাত কোনটি?
  - ক) শস্য ও শাকসবজি
  - খ) পশু সম্পদ
  - গ) বনজ সম্পদ
  - ঘ) মৎস্য সম্পদ
৮. যে খামারের জমির পরিমাণ ২.৪৯ একর, তাকে কোন ধরনের খামার বলে?
  - ক) প্রান্তিক
  - খ) ক্ষুদ্রায়তন
  - গ) মাঝারি
  - ঘ) বৃহদায়তন
৯. কৃষিপণ্যের পাইকারি বাজার কোন পর্যায়ের বাজারকে নির্দেশ করে?
  - ক) গ্রাম্য
  - খ) প্রাথমিক
  - গ) মাধ্যমিক
  - ঘ) চূড়ান্ত
১০. কৃষিপণ্যের উৎপাদন পরিকল্পনার সাথে সরাসরি সম্পৃক্ত কোনটি?
  - ক) কৃষিজাত
  - খ) কৃষি উপখাত
  - গ) কৃষি কার্ঠামো
  - ঘ) কৃষি খামার
- নিচের উদ্দীপকটি পড়ে ১১ ও ১২নং প্রশ্নের উত্তর দাও :  
কৃষক শম্মু মিয়া বর্ষা মৌসুমে ধানের জমিতে কৈ মাছের চাষ করেন।
১১. উদ্দীপক অনুযায়ী কৃষক শম্মু মিয়ার খামারটি কোন ধরনের?
  - ক) বিশেষায়িত
  - খ) বহুমুখী
  - গ) মিশ্র
  - ঘ) যৌথ
১২. উদ্দীপক অনুযায়ী খামারের উৎপাদক শম্মু মিয়ার ক্ষেত্রে নিচের কোনটি প্রযোজ্য হবে?
  - i. উৎপাদন বৃদ্ধি
  - ii. খরচ বৃদ্ধি
  - iii. জীবনমান বৃদ্ধি
 নিচের কোনটি সঠিক?
  - ক) i
  - খ) ii
  - গ) i ও ii
  - ঘ) i ও iii
- নিচের উদ্দীপকটি পড়ে ১৩ ও ১৪নং প্রশ্নের উত্তর দাও :  
সখিনা বেগমের কোনো ফসলি জমি নেই। গত বছর থেকে তিনি পরিত্যক্ত মাটির ঘরে এমন একটি কৃষিপণ্যের উৎপাদন শুরু করেছেন যা বিক্রি করে তিনি অর্থ উপার্জন করতে পারছেন।
১৩. উদ্দীপক অনুযায়ী সখিনা বেগম কোনটির উৎপাদন করেছেন?
  - ক) চিংড়ি
  - খ) মাশরুম
  - গ) চারাগাছ
  - ঘ) বিনুক
১৪. উদ্দীপকে উল্লিখিত কৃষিপণ্য নিচের কোনটিকে সহায়তা করবে?
  - i. কর্মসংস্থান বৃদ্ধি
  - ii. উৎপাদন খরচ বৃদ্ধি
  - iii. দারিদ্র্য বিমোচন
 নিচের কোনটি সঠিক?
  - ক) i
  - খ) ii
  - গ) i ও ii
  - ঘ) i ও iii
১৫. সর্বশেষ বাংলাদেশের জাতীয় শিল্পনীতি কত সালে গ্রহণ করা হয়?
  - ক) ২০০৫
  - খ) ২০১০
  - গ) ২০১৬
  - ঘ) ২০২০
১৬. কুটিরশিল্প টিকিয়ে রাখা কোন প্রয়োজন?
  - ক) দেশজ কাঁচামালের সদ্যবহার
  - খ) সর্বাধিক রপ্তানি আয় অর্জন
  - গ) সহজ শর্তে ঋণের সুবিধা
  - ঘ) উৎপাদনে মূল্য সংযোজন বেশি
১৭. বাংলাদেশে কৃষির ছদ্মবেশী বেকারত্ব হ্রাস পেয়েছে কোন শিল্প গড়ে উঠার কারণে?
  - ক) হিমায়িত মাছ
  - খ) তৈরি পোশাক
  - গ) চামড়া শিল্প
  - ঘ) বস্ত্র শিল্প
- নিচের উদ্দীপকটি পড়ে ১৮ ও ১৯নং প্রশ্নের উত্তর দাও :  
'B' দেশে সম্প্রতি এমন একটি শিল্প গড়ে উঠেছে যেখান থেকে রপ্তানি আয়ের সিংহভাগ অর্জিত হয়। এ শিল্পে কর্মরত অধিকাংশ শ্রমিকই নারী। দেশের দারিদ্র্য বিমোচনে এ শিল্প ভূমিকা রাখলেও এ শিল্পের কিছু সমস্যা বিদ্যমান রয়েছে।
১৮. উদ্দীপকে কোন শিল্পের কথা বলা হয়েছে?
  - ক) তৈরি পোশাক
  - খ) ওয়ুব
  - গ) চামড়া
  - ঘ) কুটিরশিল্প
১৯. উদ্দীপকে উল্লিখিত শিল্পের ক্ষেত্রে প্রযোজ্য হবে—
  - i. বিশ্ব বাজারে তীব্র প্রতিযোগিতা
  - ii. কারখানার উন্নতমানের পরিবেশ
  - iii. শ্রমিকের নিম্ন মজুরি ও অসন্তোষ
 নিচের কোনটি সঠিক?
  - ক) i
  - খ) ii
  - গ) i ও ii
  - ঘ) i ও iii
২০. কোন ধরনের জনসংখ্যাকে অর্থনীতিতে মানবসম্পদ বলা হয়?
  - ক) শিশু
  - খ) পূর্ণবয়স্ক
  - গ) প্রবীণ
  - ঘ) উৎপাদনশীল
২১. বাংলাদেশ জনসংখ্যার দিক হতে বিশ্বে কততম?
  - ক) ৭ম
  - খ) ৮ম
  - গ) ৯ম
  - ঘ) ১০ম
২২. উচ্চ জন্মহার রোধে নিচের কোনটি সহায়ক?
  - ক) বাল্যবিবাহ প্রচলন
  - খ) নিম্ন মাথাপিছু আয়
  - গ) পর্যটন কেন্দ্র স্থাপন
  - ঘ) নিম্নমুখী শিক্ষার হার
- নিচের উদ্দীপকটি পড়ে ২৩ ও ২৪নং প্রশ্নের উত্তর দাও :  
'A' দেশের জনসংখ্যা ১৫ কোটি এবং আয়তন ১৫ হাজার বর্গকিলোমিটার। সম্প্রতি দেশটির সরকার মেয়েদের বিবাহের বয়স ১৮ থেকে ২০ বছরে উন্নীত করে আইন পাস করেছে।
২৩. উদ্দীপক অনুযায়ী 'A' দেশের জনসংখ্যার ঘনত্ব কত?
  - ক) ১,০০০
  - খ) ১০,০০০
  - গ) ১,০০,০০০
  - ঘ) ১০,০০,০০০
২৪. উদ্দীপক অনুযায়ী 'A' দেশের জনসংখ্যার প্রভাব কোন কোন ক্ষেত্রে পড়বে?
  - i. কর্মসংস্থানের ক্ষেত্রে
  - ii. জীবনযাত্রার মানের ক্ষেত্রে
  - iii. মুদ্রাস্ফীতির ক্ষেত্রে
 নিচের কোনটি সঠিক?
  - ক) i
  - খ) ii
  - গ) i ও ii
  - ঘ) i, ii ও iii
- নিচের উদ্দীপকটি পড়ে ২৫ ও ২৬নং প্রশ্নের উত্তর দাও :  
'C' দেশ বিগত শতাব্দী থেকে পাট, চা ও চামড়া রপ্তানি করে আসছে। কিন্তু গত দশক থেকে হস্তশিল্প, তৈরি পোশাক ও হিমায়িত মাছ ইত্যাদি রপ্তানি করছে।
২৫. উদ্দীপক অনুযায়ী প্রচলিত রপ্তানি দ্রব্য কোনটি?
  - ক) তৈরি পোশাক
  - খ) চামড়া
  - গ) হস্তশিল্প
  - ঘ) হিমায়িত মাছ
২৬. উদ্দীপক অনুযায়ী গত দশক থেকে নতুন পণ্য রপ্তানি দেশের অর্থনীতিতে যেভাবে সহায়তা করছে তা হলো—
  - i. অনুকূল বাণিজ্য ভারসাম্য অর্জন
  - ii. বৈদেশিক মুদ্রার রিজার্ভ বৃদ্ধি
  - iii. কর্মসংস্থান বৃদ্ধি
 নিচের কোনটি সঠিক?
  - ক) i
  - খ) ii
  - গ) i ও iii
  - ঘ) i, ii ও iii
২৭. বাংলাদেশ 'ওয়েজ আর্নার স্কিম' চালু হয় কত সালে?
  - ক) ১৯৭৫
  - খ) ১৯৭৩
  - গ) ১৯৭২
  - ঘ) ১৯৭১
২৮. 'VAT' এর পূর্ণরূপ কী?
  - ক) Value Added Tax
  - খ) Value and Tax
  - গ) Value of Actual Tax
  - ঘ) Value Aggregate Tax
২৯. কর রাজস্বের উৎস কোনটি?
  - ক) আয়কর
  - খ) নোট ছাপানো
  - গ) জরিমানা
  - ঘ) ফি
৩০. কোনোরূপ সুবিধা প্রত্যাশা ছাড়া সরকারকে যে অর্থ প্রদান করা হয় তাকে কী বলে?
  - ক) ফি
  - খ) সুদ
  - গ) কর
  - ঘ) ঋণ



## বরিশাল বোর্ড ২০২২

সময় : ৩০ মিনিট

## অর্থনীতি দ্বিতীয় পত্র ● বহুনির্বাচনী অভীক্ষা (সেট গ)

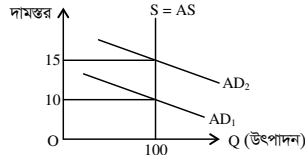
পূর্ণমান : ৩০

[বিশেষ দৃষ্টব্য : সরবরাহকৃত বহুনির্বাচনী অভীক্ষার উত্তরপত্রে প্রশ্নের ক্রমিক নম্বরের বিপরীতে প্রদত্ত বর্ণসংবলিত বৃত্তসমূহ হতে সঠিক/ সর্বোৎকৃষ্ট উত্তরের বৃত্তটি বলপয়েন্ট কলম দ্বারা সম্পূর্ণ ভরাট কর। প্রতিটি প্রশ্নের মান ১।]

১. গতিভিত্তিক মুদ্রাস্ফীতি কত প্রকার?

- ক) ২ খ) ৩ গ) ৪ ঘ) ৫

■ নিচের উদ্দীপকটি পড় এবং ২ ও ৩নং প্রশ্নের উত্তর দাও :



২. উদ্দীপকে মুদ্রাস্ফীতির হার—

- ক) ২০ খ) ৩০ গ) ৪০ ঘ) ৫০

৩. মুদ্রাস্ফীতি ঘটবে যদি—

- i. ভোগ বাড়ে  
ii. বিনিয়োগ বাড়ে  
iii. সুদের হার বাড়ে  
নিচের কোনটি সঠিক?  
ক) i ও ii খ) i ও iii গ) ii ও iii ঘ) i, ii ও iii

৪. বাণিজ্য কত প্রকার?

- ক) ২ খ) ৩ গ) ৪ ঘ) ৫

৫. কোনটি প্রাথমিক পণ্য?

- ক) ভোজ্যতেল খ) সতা  
গ) পেট্রোলিয়ামজাত ঘ) তুলা

৬. একই খামারে একাধিক শস্য উৎপাদন করা কে কী বলে?

- ক) শস্য বহুমুখীকরণ  
খ) নিবিড় চাষ পদ্ধতি  
গ) সমন্বিত চাষ পদ্ধতি  
ঘ) একাধিক চাষ পদ্ধতি

৭. বাংলাদেশের সর্ববৃহৎ কৃষির উপখাত কোনটি?

- ক) বনজ সম্পদ খ) প্রাণী সম্পদ  
গ) মৎস্য সম্পদ ঘ) শস্য ও শাক সবজি

৮. বাংলাদেশের কৃষিপণ্যের বাজারজাতকরণের সমস্যা হলো—

- i. ফড়িয়া ও দালালের দৌরাভ্য  
ii. কৃষকের দারিদ্র্যতা  
iii. ক্রটিপূর্ণ ওজন ও পরিমাপক

নিচের কোনটি সঠিক?

- ক) i ও ii খ) i ও iii গ) ii ও iii ঘ) i, ii ও iii

■ নিচের উদ্দীপকটি পড় এবং ৯ ও ১০নং প্রশ্নের উত্তর দাও :

রহমান একজন বেকার যুবক। সে বাড়িতে মাশরুম চাষ করে। মাশরুম অত্যন্ত পুষ্টিকর, সুবাসু ও ঔষধিগুণসম্পন্ন সবজি। তাছাড়া বিভিন্ন রোগ প্রতিরোধক ও নিরাময়ক হিসেবে কাজ করে। মাশরুম উৎপাদনের মাধ্যমে তার পুষ্টির অভাব পূরণ হয়েছে। আবার আয় উপার্জনের একটি পথও পেয়েছে।

৯. উদ্দীপকে বর্ণিত সবজিটির ক্ষেত্রে সঠিক নয় কোনটি?

- ক) আয় উপার্জনের পথ তৈরি  
খ) রাস্তাঘাট উন্নয়ন  
গ) পুষ্টির চাহিদা পূরণ  
ঘ) কর্মসংস্থান

১০. মাশরুম উৎপাদনে প্রয়োজন—

- i. আবাদি জমি  
ii. মূলধন  
iii. শ্রম

নিচের কোনটি সঠিক?

- ক) i ও ii খ) ii ও iii গ) i ও iii ঘ) i, ii ও iii

১১. সরকারি-বেসরকারি অংশীদারিত্ব কী নামে পরিচিত?

- ক) APP খ) BPP  
গ) PPP ঘ) CPP

১২. সিকিউরিটি প্রিন্টিং ও টার্কশাল কোন শিল্পের অন্তর্গত?

- ক) হাইটেক শিল্প খ) সংরক্ষিত শিল্প  
গ) অগ্রাধিকার শিল্প ঘ) নিয়ন্ত্রিত শিল্প

১৩. চা- শিল্পের জন্য প্রয়োজন—

- i. নিয়মিত বৃষ্টিপাত  
ii. দক্ষ শ্রমিক  
iii. পরিবর্তক দ্রব্যের উপস্থিতি

নিচের কোনটি সঠিক?

- ক) i ও ii খ) i ও iii গ) ii ও iii ঘ) i, ii ও iii

■ নিচের উদ্দীপকটি পড় এবং ১৪ ও ১৫নং প্রশ্নের উত্তর দাও :

শরীফা বেগম শীত মৌসুমে পরিবারের সদস্যদের নিয়ে স্বল্প পুঁজিতে চাদর ও টুপি তৈরি করেন। উৎপাদিত দ্রব্য সুন্দর হওয়ায় বাজারে যথেষ্ট পরিমাণে বিক্রি হচ্ছে। ফলে তার আয় উপার্জন বেশ ভালো।

১৪. উদ্দীপকের উৎপাদিত দ্রব্য কোন ধরনের শিল্পের?

- ক) বৃহৎ শিল্প খ) মাঝারি শিল্প  
গ) ক্ষুদ্র শিল্প ঘ) কুটিরশিল্প

১৫. উদ্দীপকে উল্লিখিত শিল্পটি অর্থনীতিতে অবদান রাখছে—

- i. কর্মসংস্থান বৃদ্ধিতে  
ii. জনসংখ্যা বৃদ্ধিতে  
iii. বৈদেশিক মুদ্রা সাশ্রয়ে

নিচের কোনটি সঠিক?

- ক) i ও ii খ) ii ও iii গ) i ও iii ঘ) i, ii ও iii

১৬. স্টেপল ফাইবার কোন শিল্পের কাঁচামাল?

- ক) সার খ) সিমেন্ট  
গ) পোশাক শিল্প ঘ) লৌহ

■ নিচের উদ্দীপকটি পড় এবং ১৭ ও ১৮নং প্রশ্নের উত্তর দাও :

মি. সাইফুর একজন চা ব্যবসায়ী। বর্তমানে পঞ্চগড়ে প্রচুর চা উৎপাদন হয়। উৎপাদিত চা ভালো মানের হওয়ায় বাজারে যথেষ্ট চাহিদা আছে। তাই তিনি সারাদেশে চা বাজারজাত করেন।

১৭. উদ্দীপকে কয় ধরনের বাণিজ্যের কথা উল্লেখ করা হয়েছে?

- ক) ১ খ) ২ গ) ৩ ঘ) ৪

১৮. উক্ত বাণিজ্যের সুবিধা হলো—

- i. উপকরণের গতিশীলতা বৃদ্ধি পায়  
ii. স্বনির্ভরতা বৃদ্ধি পায়  
iii. বৈদেশিক মুদ্রা অর্জন করে

নিচের কোনটি সঠিক?

- ক) i ও ii খ) i ও iii গ) ii ও iii ঘ) i, ii ও iii

১৯. দেশে উৎপাদিত দিয়াশলাই-এর উপর আরোপিত করকে বলা হয়—

- ক) প্রমোদ কর খ) আবগারি শুল্ক  
গ) বাণিজ্য শুল্ক ঘ) বিক্রয় কর

২০. NBR বহির্ভূত কর কোনটি?

- ক) আয় কর খ) ভূমি রাজস্ব  
গ) আবগারী শুল্ক ঘ) মূল্য সংযোজন কর

২১. সরকারকে ফি প্রদান—

- i. বাধ্যতামূলক নয়  
ii. সুবিধা ভোগ করা যায়  
iii. আইনগত বৈধতা আছে

নিচের কোনটি সঠিক?

- ক) i ও ii খ) i ও iii গ) ii ও iii ঘ) i, ii ও iii

■ নিচের উদ্দীপকটি পড় এবং ২২ ও ২৩নং প্রশ্নের উত্তর দাও :

মি. শরীফ একজন গাড়ি ব্যবসায়ী। তিনি রংপুর থেকে চট্টগ্রাম যাওয়ার পথে বঙ্গবন্ধু সেতু অতিক্রম করার সময় ৫০০ টাকা দিলেন। এরপর চট্টগ্রাম কাস্টম হাউজে গাড়ি আমদানির জন্য ৫০,০০০ টাকা দিলেন। পরবর্তীতে সরকার গাড়ি বিক্রোদাদের ওপর অতিরিক্ত কর ধার্য করেন।

২২. মি. শরীফ বঙ্গবন্ধু সেতু অতিক্রম করার সময় প্রদত্ত ৫০০ টাকা কী?

- ক) টোল খ) কর গ) ফি ঘ) ঋণ

২৩. উদ্দীপকে সরকার কর্তৃক অতিরিক্ত আরোপিত কর হচ্ছে—

- ক) যানবাহন কর খ) বিশেষ কর  
গ) সম্পূরক কর ঘ) আমদানি শুল্ক

২৪. ম্যালথাসের জনসংখ্যা তত্ত্বে প্রতিরোধ ব্যবস্থা কয়টি?

- ক) ১ খ) ২ গ) ৩ ঘ) ৪

২৫. প্রদত্ত সূত্র =  $\frac{\text{জন্মহার} - \text{মৃত্যুহার}}{১০০০} \times ১০০$  কী

নির্দেশ করে?

- ক) জনসংখ্যা বৃদ্ধি হার  
খ) স্বাভাবিক বৃদ্ধি হার  
গ) স্থূল মৃত্যুহার  
ঘ) স্থূল জন্মহার

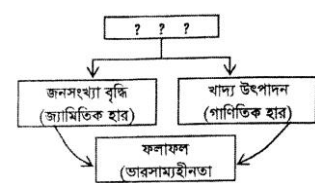
২৬. শূন্য জনসংখ্যা পরিমাপে প্রয়োজন—

- i. CBR ii. CDR iii. NGR

নিচের কোনটি সঠিক?

- ক) i ও ii খ) i ও iii গ) ii ও iii ঘ) i, ii ও iii

■ নিচের ছকটি লক্ষ কর এবং ২৭ ও ২৮নং প্রশ্নের উত্তর দাও :



২৭. উদ্দীপকে উল্লিখিত ছকটি জনসংখ্যার কোন তত্ত্বের সঙ্গে সামঞ্জস্যপূর্ণ?

- ক) কাম্য জনসংখ্যা তত্ত্ব  
খ) জনসংখ্যা সংক্রমণ তত্ত্ব  
গ) ম্যালথাসের জনসংখ্যা তত্ত্ব  
ঘ) জনসংখ্যা বিবর্তন তত্ত্ব

২৮. উদ্দীপকের জনসংখ্যা তত্ত্ব অনুসারে, কোনো প্রকার হস্তক্ষেপ না করা হলে কত বছর পরে জনসংখ্যা বেড়ে দ্বিগুণ হবে?

- ক) ১০ খ) ১৫ গ) ২০ ঘ) ২৫

২৯. “মুদ্রাস্ফীতি এরূপ একটি পরিস্থিতি যখন অর্ধের মূল্য ক্রমাগত হ্রাস পায় এবং দ্রব্যের দাম ক্রমেই বৃদ্ধি পায়।” সংজ্ঞাটি কে দিয়েছেন?

- ক) অধ্যাপক পিগু  
খ) অর্থনীতিবিদ ক্রাউথার  
গ) অর্থনীতিবিদ কুলবর্ন  
ঘ) অধ্যাপক লর্ড কেইনস

৩০. C.P.I-এর পূর্ণরূপ কী?

- ক) Customer Price Index  
খ) Consumer Price Index  
গ) Compact Price Index  
ঘ) Common Price Index

## দিনাজপুর বোর্ড ২০২২

সময় : ৩০ মিনিট

## অর্থনীতি দ্বিতীয় পত্র বহুনির্বাচনী অভীক্ষা (সেট ক)

পূর্ণমান : ৩০

[বিশেষ দ্রষ্টব্য : সরবরাহকৃত বহুনির্বাচনী অভীক্ষার উত্তরপত্রে প্রশ্নের ক্রমিক নম্বরের বিপরীতে প্রদত্ত বর্ণসংবলিত বৃত্তসমূহ হতে সঠিক/সর্বোৎকৃষ্ট উত্তরের বৃত্তটি বলপয়েন্ট কলম দ্বারা সম্পূর্ণ ভরাট কর। প্রতিটি প্রশ্নের মান ১।]

১. আত্মত্যাগ খামার হলো—  
 (ক) জীবননির্বাহী খামার  
 (খ) বাণিজ্যিক খামার  
 (গ) বহুমুখী খামার  
 (ঘ) বিশেষায়িত খামার
২. 'আত্মীয়-স্বজন বন্ধু-বান্ধবের নিকট থেকে ঋণ গ্রহণ'— কৃষিক্ষেত্রের কোন ধরনের উৎস?  
 (ক) উপানুষ্ঠানিক (খ) আনুষ্ঠানিক  
 (গ) অনানুষ্ঠানিক (ঘ) প্রাতিষ্ঠানিক
৩. বাংলাদেশ আদর্শ কৃষি খামারের জমির আয়তন বিবেচিত হয়—  
 (ক) ন্যূনতম ১ একর  
 (খ) ন্যূনতম ৩ একর  
 (গ) ন্যূনতম ৫ একর  
 (ঘ) ন্যূনতম ১০ একর
৪. মালিকানার ভিত্তিতে কৃষি খামার হতে পারে—  
 i. বহুমুখী  
 ii. ব্যক্তি মালিকানাধীন  
 iii. যৌথ  
 নিচের কোনটি সঠিক?  
 (ক) i ও ii (খ) i ও iii (গ) ii ও iii (ঘ) i, ii ও iii
- উদ্দীপকটি পড়ে ৫ ও ৬নং প্রশ্নের উত্তর দাও :  
 বেলায়েত হোসেন একজন কৃষক। তার পরিবারে স্ত্রী ও ২ ছেলে আছে। পৈতৃকসূত্রে প্রাপ্ত তার ১ বিঘা জমিতে পারিবারিক শ্রম ও পুঁজি প্রয়োগের মাধ্যমে ধান উৎপাদন করেন।
৫. উদ্দীপকে কোন ধরনের খামারের কথা বলা হয়েছে।  
 (ক) মিশ্র খামার  
 (খ) জীবন নির্বাহী খামার  
 (গ) সমবায় খামার  
 (ঘ) বাণিজ্যিক খামার
৬. উক্ত খামারের মূল উদ্দেশ্য হলো—  
 i. জীবনধারণ করা  
 ii. উদ্বৃত্ত সৃষ্টি করা  
 iii. মনোফা অর্জন করা  
 নিচের কোনটি সঠিক?  
 (ক) i (খ) i ও ii (গ) ii ও iii (ঘ) i, ii ও iii
৭. মন্দ্রাস্কীতির কারণ—  
 i. দামস্তর ক্রমাগত বৃদ্ধি পায়  
 ii. অর্থের মূল্য হ্রাস পায়  
 iii. সামগ্রিক চাহিদা হ্রাস পায়  
 নিচের কোনটি সঠিক?  
 (ক) i ও ii (খ) i ও iii (গ) ii ও iii (ঘ) i, ii ও iii
৮. কোন পণ্যের ভিত্তি বছরের দামস্তর ৪০ এবং চলতি বছরের দামস্তর ৪২ হলে, মুদ্রাস্ফীতি কত?  
 (ক) ৪২% (খ) ৪০% (গ) ১০% (ঘ) ৫%
৯. রাজস্বনীতির মাধ্যমে মুদ্রাস্ফীতি নিয়ন্ত্রণের উপায় হলো—  
 i. মজুরি নিয়ন্ত্রণ  
 ii. সরকারি ব্যয় হ্রাস বৃদ্ধি  
 iii. কর হারের পরিবর্তন  
 নিচের কোনটি সঠিক?  
 (ক) i ও ii (খ) i ও iii (গ) ii ও iii (ঘ) i, ii ও iii
- উদ্দীপকটি পড়ে ১০ ও ১১নং প্রশ্নের উত্তর দাও :  
 মল্যস্তর বেশি হওয়ায় বাজারে অল্প পরিমাণ দ্রব্যের পিছনে বেশি টাকা ধাবিত হয়।
১০. উদ্দীপকে বর্ণিত অবস্থাকে কী বলে?  
 (ক) মন্দ্রা সংকোচন (খ) মন্দ্রাস্ফীতি  
 (গ) অবমূল্যায়ন (ঘ) অবচয়ন
১১. বাজারে এ অবস্থা সৃষ্টির কারণ হলো—  
 i. অর্থের যোগান বৃদ্ধি  
 ii. উৎপাদন হ্রাস  
 iii. মন্দ্রার মূল্য বৃদ্ধি  
 নিচের কোনটি সঠিক?  
 (ক) i ও ii (খ) i ও iii (গ) ii ও iii (ঘ) i, ii ও iii
১২. মন্দ্রাস্ফীতির ফলে যে শ্রেণি লাভভান হয়—  
 i. ঋণদাতা  
 ii. উৎপাদনকারী  
 iii. ঋণগ্রহীতা  
 নিচের কোনটি সঠিক?  
 (ক) i ও ii (খ) i ও iii (গ) ii ও iii (ঘ) i, ii ও iii
১৩. কোনটি প্রচলিত রপ্তানি পণ্য?  
 (ক) হস্তশিল্পজাত দ্রব্য  
 (খ) শাকসবজি ও ফলমূল  
 (গ) তৈরি পোশাক  
 (ঘ) নিউজপ্রিন্ট
১৪. A দেশে ও B দেশের মধ্যে পারস্পরিক বাণিজ্যে গত অর্থবছরে A দেশের ১৪৩৯৩ মিলিয়ন ডলার এবং B দেশের ১৩৭৫৭ মিলিয়ন ডলার রপ্তানি আয় অর্জিত হলে, কোনটি সঠিক?  
 (ক) B দেশের উদ্বৃত্ত বাণিজ্য ৬৩৬ মিলিয়ন ডলার  
 (খ) A দেশের উদ্বৃত্ত বাণিজ্য ৬৩৬ মিলিয়ন ডলার  
 (গ) A দেশের ঘাটতি বাণিজ্য ৬৩৬ মিলিয়ন ডলার  
 (ঘ) A ও B দেশের ভারসাম্য বাণিজ্য চলছে
১৫. বিশ্বায়ন বলতে বোঝায়—  
 (ক) অবাধ তথ্য বাণিজ্য  
 (খ) অবাধ শ্রমশক্তির স্থানান্তর  
 (গ) অবাধ মত প্রকাশ  
 (ঘ) অবাধ তথ্য, যোগাযোগ ও বাণিজ্য প্রবাহ
- উদ্দীপকটি পড়ে ১৬ ও ১৭নং প্রশ্নের উত্তর দাও :  
 বাংলাদেশ কৃষিনির্ভর জনবহুল দেশ। এ দেশ থেকে বিভিন্ন দেশে কাঁচা পাট, চা, চামড়া, তৈরি পোশাক, হিমায়িত খাদ্য ইত্যাদি রপ্তানি হয়। এছাড়া মূলধনী যন্ত্রপাতি, শিল্পের কাঁচামাল আমদানি করে।
১৬. রপ্তানি আয়ের শীর্ষে কোন পণ্যটি?  
 (ক) কাঁচা পাট ও পাটজাত পণ্য  
 (খ) চামড়া ও চামড়া জাত পণ্য  
 (গ) তৈরি পোশাক  
 (ঘ) হিমায়িত খাদ্য
১৭. অপ্রচলিত পণ্য হলো—  
 i. হস্তশিল্প  
 ii. শাকসবজি  
 iii. ন্যাপথ্য  
 নিচের কোনটি সঠিক?  
 (ক) i ও ii (খ) i ও iii (গ) ii ও iii (ঘ) i, ii ও iii
১৮. কোনটি রাজস্ব আয়?  
 (ক) দেশের ব্যাংক থেকে ঋণ  
 (খ) বিদেশি অনুদান  
 (গ) বিশ্ব ব্যাংক থেকে ঋণ  
 (ঘ) মল্য সংযোজন কর
১৯. যার উপর ধার্য করা হয়, তিনি নিজেই যদি করের বোঝা বহন করে তবে তাকে বলে—  
 (ক) আয় কর  
 (খ) বিক্রয় কর  
 (গ) মল্য সংযোজন কর  
 (ঘ) প্রমোদ কর
২০. সরকারি ঋণের উদ্দেশ্য হলো—  
 i. জরুরি অবস্থা মোকাবিলা  
 ii. অর্থনৈতিক স্থিতিশীলতা অর্জন  
 iii. সমৃদ্ধ ও বিনিয়োগ বৃদ্ধি  
 নিচের কোনটি সঠিক?  
 (ক) i ও ii (খ) i ও iii (গ) ii ও iii (ঘ) i, ii ও iii
- উদ্দীপকটি পড়ে ২১ ও ২২নং প্রশ্নের উত্তর দাও :  
 খোকা সাহেব মাসিক দুই লক্ষ টাকা বেতনে চাকরি করেন এবং নিয়মিত কর প্রদান করেন। তিনি সম্প্রতি এক ঋণ জমি ক্রয় করেন এবং নিজের নামে রেজিস্ট্রেশন করেন।
২১. খোকা সাহেবের নিয়মিত প্রদেয় কর কোন ধরনের?  
 (ক) বিক্রয় কর (খ) আয়কর  
 (গ) মল্য সংযোজন কর (ঘ) প্রমোদ কর
২২. জমি রেজিস্ট্রেশনের জন্য দেয়া অর্ধেক কী বলা হয়?  
 (ক) অনুদান (খ) জরিমানা  
 (গ) ফি (ঘ) কর
২৩. শিল্পনীতি ২০১৬ অনুযায়ী 'পর্বটন শিল্প' নিম্নের কোন শিল্পের অন্তর্গত?  
 (ক) উচ্চ অগ্রাধিকার (খ) অগ্রাধিকার  
 (গ) নিয়ন্ত্রিত (ঘ) সংরক্ষিত
২৪. বাংলাদেশে শিল্পখাতে 'উপখাত' কয়টি?  
 (ক) ২ (খ) ৩ (গ) ৪ (ঘ) ৫
২৫. পাট উৎপাদনের বিধে বাংলাদেশের অবস্থান কততম?  
 (ক) ১ম (খ) ২য় (গ) ৩য় (ঘ) ৪র্থ
২৬. জনসংখ্যার নির্ধারকসমূহ হলো—  
 i. জন্মহার  
 ii. মৃত্যুহার  
 iii. আদম শুমারি  
 নিচের কোনটি সঠিক?  
 (ক) i ও ii (খ) i ও iii (গ) ii ও iii (ঘ) i, ii ও iii
- উদ্দীপকটি পড়ে ২৭ ও ২৮নং প্রশ্নের উত্তর দাও :  
 কলেজের নবীন বরণ অনুষ্ঠানে প্রধান অতিথির বক্তব্যে বিশ্ববিদ্যালয়ের ডিসি মহোদয় বলেন, "তোমাদেরকে প্রকৃত শিক্ষায় সুশিক্ষিত হতে হবে। শিক্ষার পাশাপাশি প্রশিক্ষণ, গবেষণা ইত্যাদি ক্ষেত্রেও সাফল্যের ধারাবাহিকতা রাখতে হবে।"
২৭. ডিসি মহোদয়ের বক্তব্য অনুসরণ করলে নিম্নের কোনটি ঘটবে?  
 (ক) শিক্ষার হার বাড়বে  
 (খ) কৃষির উন্নয়ন হবে  
 (গ) উন্নয়ন পরিকল্পনা বাস্তবায়ন হবে  
 (ঘ) মানব সম্পদ বৃদ্ধি পাবে
২৮. ডিসি মহোদয়ের বক্তব্যের উদ্দেশ্য হলো—  
 i. দক্ষ জনশক্তি তৈরি  
 ii. অর্থনৈতিক উন্নয়ন  
 iii. কৃষির উন্নয়ন সাধন  
 নিচের কোনটি সঠিক?  
 (ক) i ও ii (খ) i ও iii (গ) ii ও iii (ঘ) i, ii ও iii
২৯. বাংলাদেশে কোন পাহাড়ি অঞ্চলে 'চা' চাষ অধিক করা হয়?  
 (ক) শ্রমিক সত্তা (খ) মাটি উর্বর  
 (গ) উদ্যোক্তাদের ইচ্ছা (ঘ) অধিক বৃষ্টিপাত
৩০. বাংলাদেশে কোন ধরনের শিল্পে আত্মরক্ষাসংস্থানের সুযোগ সর্বাধিক?  
 (ক) হস্তশিল্প (খ) কুটিরশিল্প  
 (গ) ক্ষুদ্র শিল্প (ঘ) মাঝারি শিল্প

## ময়মনসিংহ বোর্ড ২০২২

### অর্থনীতি দ্বিতীয় পত্র ❖ বহুনির্বাচনি অভীক্ষা (সেট খ)

সময় : ৩০ মিনিট

পূর্ণমান : ৩০

[বিশেষ দ্রষ্টব্য : সরবরাহকৃত বহুনির্বাচনি অভীক্ষার উত্তরপত্রে প্রশ্নের ক্রমিক নম্বরের বিপরীতে প্রদত্ত বর্ণসংবলিত বৃত্তসমূহ হতে সঠিক/ সর্বোৎকৃষ্ট উত্তরের বৃত্তটি বলপয়েন্ট কলম দ্বারা সম্পূর্ণ ভরাট কর। প্রতিটি প্রশ্নের মান ১।]

১. শিল্পনীতি-২০১০ অনুযায়ী শিল্প কত প্রকার?  
 (ক) ৭ (খ) ৮ (গ) ৯ (ঘ) ১০
২. অগ্রাধিকার শিল্পে—  
 i. পৃষ্ঠপোষকতা দেওয়া হয়  
 ii. কর রেয়াত দেওয়া হয়  
 iii. নজরদারী করা হয়  
 নিচের কোনটি সঠিক?  
 (ক) i ও ii (খ) ii ও iii (গ) i ও iii (ঘ) i, ii ও iii
৩. ক্ষুদ্র শিল্পে সাধারণত—  
 i. যান্ত্রিক বিদ্যুৎ শক্তি ব্যবহার করা হয়  
 ii. ভাড়াটিয়া শ্রমিক ব্যবহার করা হয়  
 iii. দেশি-বিদেশি কাঁচামাল ব্যবহার করা হয়  
 নিচের কোনটি সঠিক?  
 (ক) i ও ii (খ) i ও iii (গ) ii ও iii (ঘ) i, ii ও iii
- নিচের উদ্দীপকটি পড় এবং ৪ ও ৫-এ প্রশ্নের উত্তর দাও :  
 মি. X একজন শিল্পপতি। তিনি বিভিন্ন বিষয় চিন্তা করে সাভারে একটি মোটর সাইকেল তৈরির কারখানা স্থাপন করলেন। অল্প দিনেই তিনি বেশ সুনাম অর্জন করলেন।
৪. মি. X-এর স্থাপিত কারখানাটি কোন শিল্পের অন্তর্গত?  
 (ক) ক্ষুদ্র শিল্প  
 (খ) মাঝারি শিল্প  
 (গ) আমদানি বিকল্প শিল্প  
 (ঘ) রপ্তানি উন্নয়ন শিল্প
৫. উল্লিখিত শিল্প স্থাপনের ফলে—  
 i. দেশে কর্মসংস্থানের সুযোগ হবে  
 ii. বাণিজ্যিক ভারসাম্য প্রতিষ্ঠা হবে  
 iii. বৈদেশিক মুদ্রা সাশ্রয় হবে  
 নিচের কোনটি সঠিক?  
 (ক) i ও ii (খ) i ও iii (গ) ii ও iii (ঘ) i, ii ও iii
৬. জনসংখ্যার কোন স্তরে জীবনযাত্রার মান সর্বোচ্চ হয়?  
 (ক) নিম্ন জনসংখ্যা  
 (খ) সর্বোচ্চ জনসংখ্যা  
 (গ) কাম্য জনসংখ্যা  
 (ঘ) দক্ষ জনসংখ্যা
৭. জনসংখ্যা বৃদ্ধির ফলে—  
 i. জনগণের আয় বৃদ্ধি পায়  
 ii. বেকারত্ব বৃদ্ধি পায়  
 iii. দারিদ্র্যতা বৃদ্ধি পায়  
 নিচের কোনটি সঠিক?  
 (ক) i ও ii (খ) i ও iii (গ) ii ও iii (ঘ) i, ii ও iii
- নিচের উদ্দীপকের আলোকে ৮ ও ৯-এ প্রশ্নের উত্তর দাও :  
 মি. শফিকের দেশের মোট জনসংখ্যা ১৬ কোটি। দেশটি হতে ১ কোটি লোক বিভিন্ন দেশে স্থায়ীভাবে গমন করে এবং ২ কোটি লোক দেশে আগমন করে।
৮. উদ্দীপকে নিট অভিবাসন হার—  
 (ক) ৬.০০ (খ) ৬.২৫  
 (গ) ৬.৫০ (ঘ) ৬.৭৫
৯. উদ্দীপকে নিট অভিবাসন ধনাত্মক হওয়ায়—  
 i. মাথাপিছু আয় বাড়বে  
 ii. খাদ্যের চাহিদা বাড়বে  
 iii. মুদ্রাস্ফীতি বাড়বে  
 নিচের কোনটি সঠিক?  
 (ক) i ও ii (খ) i ও iii  
 (গ) ii ও iii (ঘ) i, ii ও iii
১০. বাংলাদেশের প্রধান রপ্তানি পণ্য কোনটি?  
 (ক) পাট (খ) চা  
 (গ) চামড়া (ঘ) তৈরি পোশাক

১১. আন্তর্জাতিক বাণিজ্যের ফলে—  
 i. প্রযুক্তির উন্নয়ন হবে  
 ii. ভোগ বৃদ্ধি পায়  
 iii. দ্রব্য মূল্য বৃদ্ধি পায়  
 নিচের কোনটি সঠিক?  
 (ক) i ও ii (খ) i ও iii (গ) ii ও iii (ঘ) i, ii ও iii
১২. বাংলাদেশের আমদানিকৃত মূলধন জাতীয় দ্রব্য হলো—  
 i. কৃষি যন্ত্রপাতি  
 ii. বৈজ্ঞানিক যন্ত্রপাতি  
 iii. ভোজ্য তেল  
 নিচের কোনটি সঠিক?  
 (ক) i ও ii (খ) i ও iii (গ) ii ও iii (ঘ) i, ii ও iii
- নিচের উদ্দীপকটি পড় এবং ১৩ ও ১৪-এ প্রশ্নের উত্তর দাও :  
 বাংলাদেশ সরকার দ্রুত উন্নত দেশে পরিণত হওয়ার লক্ষ্যে শিল্প উদ্যোক্তাদের বিভিন্নভাবে সহায়তা করছে। ফলে দেশের শিল্প কাঠামো মজবুত হচ্ছে। দেশে রপ্তানি আয় বাড়ছে, আমদানি ব্যয় কমছে এবং জাতীয় আয় বাড়ছে।
১৩. উদ্দীপকে আমদানি ব্যয় হ্রাস পাচ্ছে যে শিল্পায়নের মাধ্যমে তা হচ্ছে—  
 (ক) আমদানি বিকল্প শিল্পায়ন  
 (খ) রপ্তানিমুখী শিল্পায়ন  
 (গ) প্রচলিত শিল্পায়ন  
 (ঘ) সংরক্ষিত শিল্পায়ন
১৪. সরকারের এই পদক্ষেপ গ্রহণের ফলে—  
 i. উৎপাদন বাড়বে  
 ii. ভোগ বাড়বে  
 iii. কর্মসংস্থান বাড়বে  
 নিচের কোনটি সঠিক?  
 (ক) i ও ii (খ) ii ও iii (গ) i ও iii (ঘ) i, ii ও iii
১৫. VAT-এর পূর্ণরূপ কী?  
 (ক) Value And Tax  
 (খ) Valuable Added Tax  
 (গ) Valuable Actual Tax  
 (ঘ) Value Added Tax
১৬. সরকারি ব্যয়ের উদ্দেশ্য হলো—  
 i. সামাজিক কল্যাণ  
 ii. অভ্যন্তরীণ শান্তি ও শৃঙ্খলা  
 iii. আয় বৈষম্য সৃষ্টি  
 নিচের কোনটি সঠিক?  
 (ক) i ও ii (খ) ii ও iii (গ) i ও iii (ঘ) i, ii ও iii
- নিচের উদ্দীপকটি পড় এবং ১৭ ও ১৮-এ প্রশ্নের উত্তর দাও :  
 মি. X একজন শিল্পপতি। তাকে প্রতিবছর প্রায় ৫ লক্ষ টাকা আয়কর দিতে হয়। তার উৎপাদিত পণ্য বিক্রির সময়ও কর দিতে হয়। এতেও সে অখুশি নয়।
১৭. উদ্দীপকে কর কয় প্রকার?  
 (ক) ২ (খ) ৩ (গ) ৪ (ঘ) ৫
১৮. মি. X অখুশি নয়, কারণ—  
 i. কর আয় বৈষম্য হ্রাস করে  
 ii. এই অর্থ দেশের কল্যাণে ব্যয় হয়  
 iii. কর দ্বারা দেশের সার্বিক উন্নয়ন হয়  
 নিচের কোনটি সঠিক?  
 (ক) i ও ii (খ) ii ও iii (গ) i ও iii (ঘ) i, ii ও iii
১৯. বাংলাদেশের কৃষিক্ষেত্রের উৎস কয়টি?  
 (ক) ২ (খ) ৩ (গ) ৪ (ঘ) ৫
২০. বাংলাদেশের কৃষিপণ্যের বাজার ব্যবস্থা কোন ধরনের?  
 (ক) আধুনিক (খ) উন্নত  
 (গ) ত্রুটিপূর্ণ (ঘ) ভোক্তাবান্ধব

২১. বাংলাদেশের কৃষির বৈশিষ্ট্য—  
 i. স্বল্প উৎপাদন  
 ii. অধিক মূলধন  
 iii. ত্রুটিপূর্ণ বাজার  
 নিচের কোনটি সঠিক?  
 (ক) i ও ii (খ) i ও iii (গ) ii ও iii (ঘ) i, ii ও iii
২২. শস্য বহুমুখীকরণের ফলে—  
 i. উৎপাদন বৃদ্ধি পাবে  
 ii. কৃষকের আয় বৃদ্ধি পাবে  
 iii. জমির উর্বরতা বৃদ্ধি পাবে  
 নিচের কোনটি সঠিক?  
 (ক) i ও ii (খ) i ও iii (গ) ii ও iii (ঘ) i, ii ও iii
- নিচের উদ্দীপকটি পড় এবং ২৩ ও ২৪-এ প্রশ্নের উত্তর দাও :  
 রফিকের বাবার অনেক জমি। রফিক পড়াশোনা শেষে বাবার কৃষিজোত দেখাশোনা শুরু করে। আবহাওয়া অনুকূলে হওয়ায় এ বছর রফিক অনেক টাকা মুনাফা করে।
২৩. রফিকের খামারটি কোন ধরনের?  
 (ক) জীবননির্ভর খামার  
 (খ) বাণিজ্যিক খামার  
 (গ) সমবায়ী খামার  
 (ঘ) বিশেষায়িত খামার
২৪. রফিকের খামারে—  
 i. আধুনিক যন্ত্রপাতি ব্যবহার করা যাবে  
 ii. প্রাতিষ্ঠানিক ঋণ গ্রহণ করা যাবে  
 iii. কর্মসংস্থান বাড়বে  
 নিচের কোনটি সঠিক?  
 (ক) i ও ii (খ) i ও iii (গ) ii ও iii (ঘ) i, ii ও iii
২৫. বাংলাদেশের সবচেয়ে বেশি বৈদেশিক মুদ্রা অর্জনকারী শিল্প কোনটি?  
 (ক) পাট শিল্প (খ) চামড়া শিল্প  
 (গ) তৈরি পোশাক (ঘ) কুটিরশিল্প
২৬. অধিক পরিমাণ মুদ্রা অল্প পরিমাণ দ্রব্যের পিছনে ধাবিত হওয়ার নাম মুদ্রাস্ফীতি— উক্তিটি কার?  
 (ক) কুলবর্ন (খ) ক্রাউথার  
 (গ) জি অ্যাকলে (ঘ) লর্ড কেইল
২৭. গতিভিত্তিক মুদ্রাস্ফীতি কয় প্রকার?  
 (ক) ২ (খ) ৩ (গ) ৪ (ঘ) ৫
২৮. মুদ্রাস্ফীতির ফলে লাভবান হয়—  
 i. ভোক্তা ii. উৎপাদক iii. বিক্রেতা  
 নিচের কোনটি সঠিক?  
 (ক) i ও ii (খ) ii ও iii (গ) i ও iii (ঘ) i, ii ও iii
- নিচের উদ্দীপকটি পড় এবং ২৯ ও ৩০-এ প্রশ্নের উত্তর দাও :  
 দামস্তর
- 
২৯. উদ্দীপকে মুদ্রাস্ফীতির হার—  
 (ক) ২০ (খ) ৩০ (গ) ৪০ (ঘ) ৫০
৩০. উদ্দীপকে মুদ্রাস্ফীতি ঘটবে যদি—  
 i. ভোগ বাড়ে  
 ii. বিনিয়োগ বাড়ে  
 iii. সুদের হার বাড়ে  
 নিচের কোনটি সঠিক?  
 (ক) i ও ii (খ) i ও iii (গ) ii ও iii (ঘ) i, ii ও iii

শীর্ষস্থানীয় কলেজসমূহের  
নির্বাচনি পরীক্ষার প্রশ্নপত্র

## নটর ডেম কলেজ, ঢাকা

বিষয় কোড **1 1 0**

সময়-২ ঘণ্টা ৩০ মিনিট

### অর্থনীতি দ্বিতীয় পত্র সৃজনশীল প্রশ্ন

পূর্ণমান-৭০

**দ্রষ্টব্য :** ডান পাশের সংখ্যা প্রশ্নের পূর্ণমান জ্ঞাপক। প্রদত্ত উদ্দীপকগুলো মনোযোগ সহকারে পড় এবং সংশ্লিষ্ট প্রশ্নগুলোর উত্তর দাও। যে কোনো সাতটি প্রশ্নের উত্তর দিতে হবে।

- ১ ▶ জনাব মতিন মিয়া ফসল সংরক্ষণের সুব্যবস্থার অভাবে ভরা মৌসুমেই সকল ফসল স্থানীয় বাজারে বিক্রি করেন। অনুন্নত পরিবহন, অপ্রতুল বাজার, মধ্যবর্তী ব্যবসায়ীদের দৌরাত্ম্যে মতিন মিয়ার মতো অন্যান্য কৃষকরাও ফসলের ন্যায্যমূল্য হতে বঞ্চিত হন। তিনি মনে করেন, আগে গুদামঘর নির্মাণ, ভৌত অবকাঠামো নির্মাণ, সঠিক বাজার তথ্যের সুব্যবস্থা করতে পারলে তাঁরা ফসলের ন্যায্যমূল্য হতে বঞ্চিত হতেন না।
- ক. শস্য বহুমুখীকরণ কী? ১
- খ. আত্মতোষণ খামার অপেক্ষা বাণিজ্যিক খামারের ধারণা পৃথক কেন? বুঝিয়ে লিখ। ২
- গ. উদ্দীপকে কৃষির কোন সমস্যার প্রতি ইঙ্গিত করা হয়েছে – ব্যাখ্যা কর। ৩
- ঘ. উপরে বর্ণিত সমস্যা সমাধানে উদ্দীপকে উল্লিখিত ব্যবস্থাসমূহ কি যথেষ্ট? মতামত দাও। ৪

- ২ ▶ সম্প্রতি 'A' দেশে মোট দেশজ উৎপাদনে ক্রমাগত শিল্পখাতের অবদান বৃদ্ধি পেলেও জলবায়ু পরিবর্তনের বিরূপ পরিস্থিতি মোকাবিলা করে কৃষি উৎপাদন বৃদ্ধির লক্ষ্যে কৃষিতে তেজস্ক্রিয় আইসোটোপ-এর ব্যবহার, জৈব প্রযুক্তি এবং তথ্য ও যোগাযোগ প্রযুক্তির প্রয়োগ বৃদ্ধি করেছেন। শস্য ও উদ্যান খাতে জিডিপি-এর খাতওয়ারি প্রবৃদ্ধির হার নিম্নরূপ-

বছর	২০২১-২২	২০২২-২৩	২০২৩-২৪
জিডিপি প্রবৃদ্ধির হার	৪.০১	৩.১৫	২.৮২

- ক. কৃষিজাত কী? ১
- খ. কৃষিঋণ কীভাবে কৃষির উন্নয়নে সহায়তা করে – ব্যাখ্যা কর। ২
- গ. উদ্দীপক হতে জিডিপি প্রবৃদ্ধির হারের চিত্র অঙ্কন কর। ৩
- ঘ. জলবায়ু পরিবর্তনের বিরূপ পরিস্থিতি মোকাবিলায় কৃষির উন্নয়নে উদ্দীপকে বর্ণিত A দেশের গৃহীত কার্যাবলির সাথে বাংলাদেশের সাদৃশ্য বিশ্লেষণ কর। ৪
- ৩ ▶ জামিল সাহেবের প্রতিষ্ঠানে স্থায়ী মূলধনের পরিমাণ প্রায় ৭২ কোটি টাকা এবং উক্ত প্রতিষ্ঠানে ৭৫০ জন শ্রমিক কর্মরত আছেন। অপরদিকে, মামুন সাহেব ৬ লক্ষ টাকা বিনিয়োগ করে ১২ জন জনবলের মাধ্যমে তার প্রতিষ্ঠান পরিচালনা করছেন যেখানে কাঁচামালের অভাব, অদক্ষ শ্রমিক, মূলধনের স্বল্পতা ইত্যাদি নানা সমস্যার কারণে তার প্রতিষ্ঠানে লাভজনক উৎপাদন করতে পারছেন না।
- ক. PPP-এর সংজ্ঞা দাও। ১
- খ. সংরক্ষিত ও নিয়ন্ত্রিত শিল্প ধারণা দুটি এক নয় কেন? ২
- গ. জামিল সাহেবের শিল্পের ধরন চিহ্নিত করে উক্ত শিল্পে শ্রমবিভাগ, উপজাত দ্রব্যের ব্যবহার এবং বিশেষীকরণের গুরুত্ব ব্যাখ্যা কর। ৩
- ঘ. মামুন সাহেবের শিল্পটির প্রকৃতি উল্লেখপূর্বক এ শিল্পের সমস্যা সমাধানে তোমার সুপারিশ উপস্থাপন কর। ৪

- ৪ ▶ পূর্বে 'Y' দেশটি A, B, C ইত্যাদি পণ্যগুলো বিদেশ থেকে আমদানি করলেও বর্তমানে এসব পণ্য দেশের ভেতরেই তৈরি করা হচ্ছে এবং অপেক্ষাকৃত কমমূল্যে সরবরাহ করা সম্ভব হচ্ছে। সাম্প্রতিককালে 'Y' দেশে সরকারি ও বেসরকারি অর্থায়নে যৌথভাবে উন্নয়ন প্রকল্প বাস্তবায়নের মাধ্যমে কাঙ্ক্ষিত অর্থনৈতিক উন্নতি সাধিত হচ্ছে।
- ক. বিশেষ উন্নয়নমূলক শিল্পখাত কী? ১
- খ. শিল্প উন্নয়ন কীভাবে কৃষির উন্নয়নে ভূমিকা রাখে? ২
- গ. বর্তমানে 'Y' দেশে উদ্দীপকে বর্ণিত A, B, C পণ্য সংশ্লিষ্ট শিল্পায়নের ৩টি গুরুত্ব আলোচনা কর। ৩
- ঘ. Y দেশে সাম্প্রতিককালের গৃহীত পদক্ষেপ কীভাবে উক্ত দেশে অর্থনৈতিক উন্নয়নকে প্রভাবিত করেছে। মতামত ব্যক্ত কর। ৪

- ৫ ▶ নিম্নে 'ক' দেশের জনসংখ্যার বিভিন্ন স্তরে মাথাপিছু আয়ের একটি তালিকা দেওয়া হলো। প্রদত্ত তালিকায় জনসংখ্যার তৃতীয় পর্যায়ে 'ক' দেশে জনগণের শিক্ষা, স্বাস্থ্য, কর্মসংস্থান, বাসস্থান, খাদ্য, বস্ত্র প্রভৃতির সুযোগ-সুবিধা পেয়েছে।

	প্রথম পর্যায়	দ্বিতীয় পর্যায়	তৃতীয় পর্যায়
জনসংখ্যা	১০ কোটি	২০ কোটি	৩০ কোটি
মাথাপিছু আয়	১৬০০ ডলার	২০০০ ডলার	১৪০০ ডলার

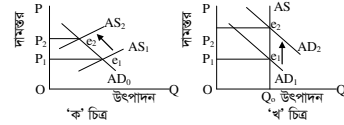
- ক. আত্মকর্মসংস্থান বলতে কী বোঝ? ১
- খ. শিক্ষা ও প্রশিক্ষণ কেন মানবসম্পদ উন্নয়নের প্রধান সূচক? ২
- গ. উদ্দীপকে জনসংখ্যার কোন তুলনিক ইঙ্গিত করে? চিত্রসহ ব্যাখ্যা কর। ৩
- ঘ. উদ্দীপকে 'ক' দেশের তৃতীয় পর্যায়ের জনসংখ্যা নিয়ন্ত্রণে 'জনসংখ্যার জৈবিক ও সামাজিক তত্ত্ব' ধারণার ব্যবস্থাকে তুমি সমর্থন কর কি না? মতামত ব্যক্ত কর। ৪
- ৬ ▶ 'Z' দেশে ২০২২ সালে ২৫ লক্ষ ৭৫ হাজার জীবিত শিশু জন্মগ্রহণ করে। উক্ত বছর ঐ দেশে ৬ লক্ষ ৬৫ হাজার লোক মৃত্যুবরণ করেন এবং উক্ত বছরের মধ্যবর্তী সময়ের জনসংখ্যা ছিল ১৬ কোটি। উল্লেখ্য 'Z' দেশের আয়তন ১,৪৭,৫৭০ বর্গকিলোমিটার।

- ক. নিট অভিবাসন কাকে বলে? ১
- খ. জনমিতিক লভ্যাংশ (Demographic dividend) কোনো দেশের অর্থনৈতিক উন্নয়নকে কীভাবে প্রভাবিত করে? ২
- গ. 'Z' দেশের ২০২২ সালের স্থূল জন্মহার, স্থূল মৃত্যুহার ও জনসংখ্যার ঘনত্ব নির্ণয় কর। ৩
- ঘ. উদ্দীপকের তথ্যসমূহ বাংলাদেশের সাথে কতটুকু সামঞ্জস্যপূর্ণ, তোমার মতামত ব্যক্ত কর। ৪
- ৭ ▶ 'B' দেশে গত কয়েক মাস যাবৎ ক্রমাগত দ্রব্যমূল্য বৃদ্ধি পাওয়ায় সরকারে অনুৎপাদনশীল খাতে ব্যয়-হ্রাসসহ ঋণ নিয়ন্ত্রণ, উৎপাদন বৃদ্ধির ইত্যাদি নানা পদক্ষেপ গ্রহণ করেছে। উক্ত দেশে দ্রব্যমূল্যের পরিবর্তন নিম্নরূপ-

ভোগদ্রব্যের নাম	২০২০		২০২৩
	পরিমাণ (কেজি)	দাম	দাম
চাল	৪০	৬০	৮০
আটা	৮	৩৫	৬৫
লবণ	৩	৩০	৪৫

- ক. ব্যাংক হার কী? ১
- খ. মুদ্রাস্ফীতিতে ঋণদাতা ও ঋণগ্রহীতার মধ্যে কে ক্ষতিগ্রস্ত হয়? বুঝিয়ে লিখ। ২
- গ. প্রদত্ত সূচি হতে B দেশের মুদ্রাস্ফীতির হার নির্ণয় কর। ৩
- ঘ. উদ্দীপকে উল্লিখিত পদক্ষেপগুলো ব্যতীত সরকার আর কীভাবে মুদ্রাস্ফীতি নিয়ন্ত্রণ করতে পারে? বিশ্লেষণ কর। ৪

- ৮ ▶ চিত্র দুটি লক্ষ কর :



- ক. সূচক সংখ্যা কী? ১
- খ. মুদ্রাস্ফীতি কেন সর্বদা খারাপ নয়? ব্যাখ্যা কর। ২
- গ. 'ক' চিত্রে কী ধরনের মুদ্রাস্ফীতি উপস্থাপিত হয়েছে? এরূপ মুদ্রাস্ফীতি সৃষ্টির ৩টি কারণ ব্যাখ্যা কর। ৩
- ঘ. 'ক' ও 'খ' চিত্রের মধ্যে কি কোনো পার্থক্য পেয়েছ? ধারণা দুটির মধ্যে কোনটিকে এবং কেন তুমি তুলনামূলকভাবে সমর্থন করবে? মতামত দাও। ৪
- ৯ ▶ বাংলাদেশ চা, হিমায়িত খাদ্য, চামড়াজাত পণ্য, তৈরি ও হেসিয়ারি পোশাক, বিটুমিন, কাঁচাপাট এবং জুতা ও প্রকৌশল দ্রব্য বিশ্ববাজারে রপ্তানি করছে। রপ্তানির পরিমাণ বৃদ্ধির জন্য বাংলাদেশ সরকার শুষ্ক রেয়াত, আমদানি নীতি উদারীকরণ, ট্যাক্স হালিডে ইত্যাদি নানা পদক্ষেপ গ্রহণ করেছে।

- ক. বিশ্বায়ন কী? ১
- খ. আন্তর্জাতিক বাণিজ্যের জন্য কেন পৃথক ব্যাংক ব্যবস্থা আবশ্যিক? ২
- গ. উদ্দীপক হতে বাংলাদেশের প্রচলিত ও অপ্রচলিত রপ্তানি পণ্যের তালিকা প্রস্তুত কর। ৩
- ঘ. রপ্তানি বাণিজ্য সম্প্রসারণে উদ্দীপকে উল্লিখিত সরকারি পদক্ষেপগুলো কতটা কার্যকর এবং যথার্থ বলে তুমি মনে কর? মতামত দাও। ৪
- ১০ ▶ বাংলাদেশ সরকার সাধারণত শিক্ষা, স্বাস্থ্য, সামাজিক নিরাপত্তা, যাতায়াত ইত্যাদি খাতে প্রচুর অর্থ ব্যয় করেন। উক্ত ব্যয় নির্বাহের জন্য সরকার আয়কর, ফি, জরিমানা, সম্পদ কর, দান কর, মূল্য সংযোজন কর, জামানত বাজেয়াপ্ত, আবগারি শুল্ক ও বিমান ভাড়া ইত্যাদি উৎস হতে আয় সংগ্রহ করেন।
- ক. মূলধনী ব্যয় বলতে কী বুঝ? ১
- খ. 'সম্পূরক শুল্ক' কেন একটি পরোক্ষ কর? ২
- গ. উদ্দীপক হতে কর রাজস্ব ও কর বহির্ভূত রাজস্বের একটি তালিকা তৈরি কর। ৩
- ঘ. উদ্দীপকে উল্লিখিত খাতসমূহ ছাড়াও সরকার আর কোন খাতে ব্যয় করতে পারে বলে তুমি মনে কর? মতামত দাও। ৪

- ১১ ▶ রসুলপুর গ্রামের দরিদ্র কৃষক শাহরিয়ার চাষাবাদের জন্য কৃষি ব্যাংক, এবি ব্যাংক হতে ঋণ নেওয়ার জটিলতা পরিহার করে গ্রামের ধনী কৃষক, প্রতিবেশী, মহাজন, স্বর্ণকারদের নিকট হতে সহজ পদ্ধতিতে ঋণ নিয়ে কৃষিকাজ পরিচালনা করেন। সরকার কৃষকদের ঋণ সমস্যা সমাধানে কৃষকদের নিকট খাস জমি বিতরণ, অত্যন্ত সহজ শর্তে পর্যাপ্ত কৃষি ঋণ বিতরণ, কৃষি উপকরণ বিতরণসমূহ নানামুখী পদক্ষেপ গ্রহণ করেছে।
- ক. জলবায়ু পরিবর্তনে অভিযোজন ধারণাটি কী? ১
- খ. আদম গুমারির অর্থনৈতিক তাৎপর্য লেখ। ২
- গ. উদ্দীপক হতে কৃষি ঋণের উৎসগুলোর শ্রেণিবিভাগ কর। ৩
- ঘ. কৃষি ঋণের সমস্যা সমাধানে উদ্দীপকে বর্ণিত সরকারের গৃহীত পদক্ষেপসমূহের যথার্থতা মূল্যায়ন কর। ৪

## রাজউক উত্তরা মডেল কলেজ, ঢাকা

### অর্থনীতি দ্বিতীয় পত্র ● সৃজনশীল প্রশ্ন

সময়—২ ঘণ্টা ৩০ মিনিট

পূর্ণমান—৭০

**দ্রষ্টব্য :** ডান পাশের সংখ্যা প্রশ্নের পূর্ণমান জ্ঞাপক। প্রদত্ত উদ্দীপকগুলো মনোযোগ সহকারে পড় এবং সংশ্লিষ্ট প্রশ্নগুলোর উত্তর দাও। যে কোনো সাতটি প্রশ্নের উত্তর দিতে হবে।

১▶ জনাব কামালের জমির পরিমাণ কম থাকায় তাতে সনাতন পদ্ধতিতে চাষ করে যতটুকু ফসল উৎপাদন হয় তা দিয়ে তার পরিবারের ভরণপোষণ চলে। কিন্তু জনাব জামালের জমির পরিমাণ বেশি হওয়ায় আধুনিক পদ্ধতিতে চাষাবাদ করে অধিক ফসল উৎপাদন করেন এবং বিভিন্ন বাজারে সরবরাহ করছেন। তিনি বিভিন্ন কারণে উৎপাদিত ফসলের ন্যায্যমূল্য থেকে বঞ্চিত হচ্ছেন।

- ক. কৃষি প্রযুক্তি কী? ১  
খ. কৃষিজাত ও কৃষি খামারের মধ্যে পার্থক্য লেখ। ২  
গ. উদ্দীপকের আলোকে জনাব জামাল ও কামালের খামারের মধ্যে তুলনা কর। ৩  
ঘ. “জনাব জামালের সমস্যার সমাধানে সরকারের উদ্যোগ জরুরি”— বিশ্লেষণ কর। ৪

২▶ জনাব রফিক তার ফসল উৎপাদনের ব্যয় নির্বাহের জন্য প্রথমে আত্মীয়স্বজনের কাছ থেকে টাকা ধার নেন, অধিক অর্থ প্রয়োজন হওয়ায় গ্রাম্য মহাজনের কাছ থেকে চড়া সুদে অর্থ ধার করেন। তার স্ত্রী এমন একধরনের ঊষধি গুণসম্পন্ন সবজির চাষ শুরু করলেন যার জন্য অধিক পুঁজি ও জায়গার প্রয়োজন হয় না।

- ক. কৃষি কাঠামো কী? ১  
খ. ভোগ্য ঋণ ও অনুৎপাদনশীল ঋণের পার্থক্য লেখ। ২  
গ. জনাব রফিকের গৃহীত ঋণের উৎসের প্রকৃতি ব্যাখ্যা কর। ৩  
ঘ. জনাব রফিকের স্ত্রীর অবদানকৃত ফসলের গুরুত্ব বিশ্লেষণ কর। ৪

৩▶ জনাব রাসেলের পরিবার স্থানীয় বাঁশ ও বেত দিয়ে নিজগৃহে বিভিন্ন দ্রব্য সামগ্রী তৈরি করে স্থানীয় বাজারে বিক্রয় করে মুনাফা অর্জন করে। এভাবে তারা নিজেদের স্বাবলম্বীর পাশাপাশি দেশের অর্থনৈতিক উন্নয়নে গুরুত্বপূর্ণ ভূমিকা পালন করেছে।

- ক. রপ্তানিমুখী শিল্প কাকে বলে? ১  
খ. শিল্পায়নে PPP-এর ভূমিকা ব্যাখ্যা কর। ২  
গ. জনাব রাসেলের উৎপাদিত পণ্য কোন ধরনের শিল্পের অন্তর্গত? ব্যাখ্যা কর। ৩  
ঘ. “বাংলাদেশের মতো উন্নয়নশীল ও জনবহুল দেশে উক্ত শিল্পের গুরুত্ব অপরিসীম”— বিশ্লেষণ কর। ৪

৪▶ এদেশে ১৯৭৬ সালে রপ্তানি শুরু করা শিল্পটিতে বর্তমানে মোট রপ্তানি আয়ের ৮৬% অর্জিত হয় এবং প্রায় ৪৪ লক্ষ শ্রমিক কর্মরত রয়েছে। উক্ত শিল্পের ওপর নির্ভর করে এদেশের অর্থনীতি গতিশীল হচ্ছে।

- ক. মাইক্রো শিল্প কাকে বলে? ১  
খ. বস্ত্র শিল্পের অনুন্নতির কারণ ব্যাখ্যা কর। ২  
গ. উদ্দীপকে উল্লিখিত শিল্পটি চিহ্নিত কর এবং বাংলাদেশের অর্থনীতিতে উক্ত শিল্পের গুরুত্ব ব্যাখ্যা কর। ৩  
ঘ. উদ্দীপকে বর্ণিত শিল্পের ভবিষ্যৎ সম্ভাবনা বিশ্লেষণ কর। ৪

৫▶ সূচিটি লক্ষ কর এবং সংশ্লিষ্ট প্রশ্নগুলোর উত্তর দাও:

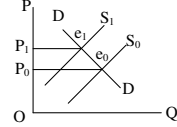
বছর	১৯০০	১৯২৫	১৯৫০	১৯৭৫
জনসংখ্যা	২	৪	৮	১৬
খাদ্য উৎপাদন	২	৩	৪	৫

- ক. নিট অভিবাসন কী? ১  
খ. নারী শিক্ষা জনসংখ্যা হ্রাসে কীভাবে সহায়তা করে? ২  
গ. উদ্দীপকের তথ্যসমূহ কোন তত্ত্বের সঙ্গে সামঞ্জস্যপূর্ণ? ব্যাখ্যা কর। ৩  
ঘ. উল্লিখিত তত্ত্বটি কি বাংলাদেশের জন্য প্রযোজ্য? ব্যাখ্যা কর। ৪

৬▶ একটি দেশে ২০২২ সালে জনসংখ্যা ছিল ১৮ কোটি। ওই সময়ে দেশটিতে মোট জীবিত জন্মগ্রহণকারী শিশুর সংখ্যা ছিল ৫০ লক্ষ এবং মৃত্যুবরণকারী লোকের সংখ্যা ছিল ৩০ লক্ষ। উক্ত সময়ে দেশটিতে বহিরাগমনকারীর সংখ্যা ও বহির্গমনকারীর সংখ্যা ছিল যথাক্রমে ৩০ লক্ষ ও ৫০ লক্ষ।

- ক. শূন্য জনসংখ্যা বৃদ্ধি কী? ১  
খ. আত্মকর্মসংস্থান কীভাবে দরিদ্রতা দূর করে? ২

- গ. উদ্দীপকের তথ্যের আলোকে দেশটির জনসংখ্যার স্বাভাবিক বৃদ্ধির হার নির্ণয় কর। ৩  
ঘ. দেশটির নিট অভিবাসন হারের ভিত্তিতে দেশটির আর্থসামাজিক অবস্থার ওপর কী প্রভাব পড়বে? বিশ্লেষণ কর। ৪  
৭▶ চিত্রটি লক্ষ কর এবং সংশ্লিষ্ট প্রশ্নগুলোর উত্তর দাও:



- ক. ব্যাংক হার কী? ১  
খ. “মুদ্রাস্ফীতি সবসময় খারাপ নয়”— ব্যাখ্যা কর। ২  
গ. উদ্দীপকে কোন ধরনের মুদ্রাস্ফীতি নির্দেশ করছে? তার কারণ ব্যাখ্যা কর। ৩  
ঘ. উদ্দীপকে সৃষ্ট মুদ্রাস্ফীতি নিয়ন্ত্রণের উপায় বিশ্লেষণ কর। ৪

৮▶ Z দেশের তিনটি ভোগ্য পণ্যের পরিমাণ ও দাম নিম্নরূপ:

ভোগ্য পণ্য	২০২০ সালের ভোগের পরিমাণ	২০২০ সালের দাম	২০২৪ সালের দাম
চাল	৩০	৫০	৮০
ডাল	৮	১২০	১৫০
তেল	৫	১৪০	১৬০

- ক. সূচক সংখ্যা কী? ১  
খ. সামাজিক নিরাপত্তা বৃদ্ধির ফলে কীভাবে মুদ্রাস্ফীতি দেখা দেয়? ২  
গ. 'Z' দেশের মুদ্রাস্ফীতির হার নির্ণয় কর। ৩  
ঘ. 'Z' দেশের পণ্যের দামের পরিস্থিতি সেদেশের কর্মসংস্থান ও বিনিয়োগের ওপর কীরূপ প্রভাব ফেলে? বিশ্লেষণ কর। ৪  
৯▶ জনাব সাজাদ লক্ষ করলেন যে, বাংলাদেশ থেকে পূর্বে পাট, পাটজাত দ্রব্য, চা ও চামড়াজাত দ্রব্য রপ্তানি হতো। কিন্তু বর্তমানে হিমায়িত খাদ্য, তৈরি পোশাক ও নীটওয়্যার ইত্যাদি অধিক রপ্তানি হচ্ছে। সরকার রপ্তানিকারকদের জন্য শুল্ক রেয়াত, বিদ্যুৎ জ্বালানি সরবরাহ, সহজ শর্তে ঋণ ও আয়কর সুবিধা ইত্যাদি বিভিন্ন পদক্ষেপ গ্রহণ করেছে।

- ক. ওয়েজ আর্নার স্কীম কী? ১  
খ. বিশ্বায়ন ধারণাটি ব্যাখ্যা কর। ২  
গ. উদ্দীপকে বাংলাদেশের আন্তর্জাতিক বাণিজ্যের ক্ষেত্রে যে পরিবর্তনের ধারা লক্ষ করা যায় তা ব্যাখ্যা কর। ৩  
ঘ. সরকার কর্তৃক গৃহীত পদক্ষেপসমূহ রপ্তানি সম্প্রসারণের জন্য যথেষ্ট— মূল্যায়ন কর। ৪

- ১০▶ 'X' দেশের আর্থসামাজিক অবস্থার উন্নয়ন, দারিদ্র্য বিমোচন, উৎপাদন ও কর্মসংস্থান বৃদ্ধি প্রকল্প বাস্তবায়নসহ নানাবিধ কারণে বিভিন্ন দেশের সাথে যেমন সরকার বাণিজ্যিক সম্পর্ক গড়ে তোলে আবার বিশাল অংকের ব্যয় নির্বাহের জন্য মাঝে মাঝে সরকারকে সাহায্যের ওপরও নির্ভর করতে হয়। এ ধরনের বৈদেশিক সাহায্য কখনো কখনো দেশটির স্বনির্ভরতা অর্জনের পথে বাধা হয়ে দাঁড়ায়।

- ক. আবগারি শুল্ক কী? ১  
খ. মূল্য সংযোজন করকে পরোক্ষ কর বলা হয় কেন? ২  
গ. 'X' দেশটি কেন বৈদেশিক সাহায্য গ্রহণ করে? উদ্দীপকের আলোকে ব্যাখ্যা কর। ৩  
ঘ. 'X' দেশের স্বনির্ভরতা অর্জনে আলোচ্য বিষয়দ্বয়ের মধ্যে কোনটি উত্তম? বিশ্লেষণ কর। ৪  
১১▶ সাম্প্রতিককালে সরকার শিক্ষা, প্রতিরক্ষা, দারিদ্র্য বিমোচন ও যোগাযোগ ব্যবস্থার উন্নয়নের ওপর গুরুত্ব দেওয়ায় এসব খাতে বরাদ্দ বেড়েছে। এসব ব্যয় নির্বাহের জন্য সরকার বাণিজ্যিক ব্যাংক, কেন্দ্রীয় ব্যাংক, এডিবি ও জাইকাসহ বিভিন্ন প্রতিষ্ঠান ও সংস্থা হতে ঋণ গ্রহণ করে।

- ক. পরোক্ষ কর কী? ১  
খ. সরকার আয় করে কেন? ২  
গ. উদ্দীপকে উল্লিখিত সরকারি ব্যয়ের গুরুত্বপূর্ণ খাতগুলো ব্যাখ্যা কর। ৩  
ঘ. উদ্দীপকে উল্লিখিত সরকারি ঋণের উৎসসমূহের মধ্যে তুলনামূলক বিশ্লেষণ কর। ৪

## আইডিয়াল স্কুল অ্যান্ড কলেজ, মতিঝিল, ঢাকা

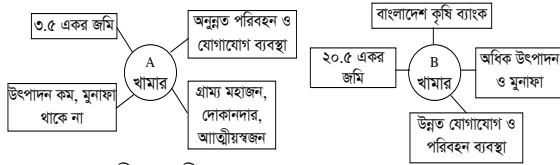
সময়—২ ঘণ্টা ৩০ মিনিট

### অর্থনীতি দ্বিতীয় পত্র ● সৃজনশীল প্রশ্ন

পূর্ণমান—৭০

**দ্রষ্টব্য :** ডান পাশের সংখ্যা প্রশ্নের পূর্ণমান জ্ঞাপক। প্রদত্ত উদ্দীপকগুলো মনোযোগ সহকারে পড় এবং সংশ্লিষ্ট প্রশ্নগুলোর উত্তর দাও। যে কোনো সাতটি প্রশ্নের উত্তর দিতে হবে।

- ১ ▶ অর্থনীতির শিক্ষক আনিস সাহেব দ্বাদশ শ্রেণির ক্লাসে এমন এক প্রযুক্তির কথা আলোচনা করেছেন, যা জীব কোষের উপাদানকে পরিমিত পরিবর্তন করে একটি নতুন সৃষ্টিকে নির্দেশ করে। উক্ত প্রযুক্তি দ্বারা জটিল রোগের প্রতিষেধক, প্রাকৃতিক দুর্যোগ প্রতিরোধী বীজ উদ্ভাবন, বায়োফুয়েল তৈরি, পানিকে আর্সেনিকমুক্তকরণ করা যায়।
- ক. কৃষি কী? ১  
খ. বাংলাদেশের কৃষিক্ষণ ব্যবস্থা অনানুষ্ঠানিক উৎসগুলোর ওপর বেশি নির্ভরশীল কেন? ২  
গ. উদ্দীপকে কোন প্রযুক্তির কথা বলা হয়েছে? ব্যাখ্যা কর। ৩  
ঘ. উক্ত প্রযুক্তির গুরুত্ব বাংলাদেশের কৃষিতে অপরিসীম— বিশ্লেষণ কর। ৪
- ২ ▶ নিচের উদ্দীপকে খামার 'A' ও 'B' এর সাথে সম্পৃক্ত বিষয়গুলো লক্ষ কর এবং সংশ্লিষ্ট প্রশ্নগুলোর উত্তর দাও :

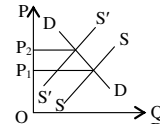


- ক. শস্যবহুমুখীকরণ কী? ১  
খ. ই-কৃষি খুলে দিয়েছে সম্ভাবনার নতুন জানালা— ব্যাখ্যা কর। ২  
গ. উদ্দীপকে 'A' খামারের প্রকৃতি ব্যাখ্যা কর। ৩  
ঘ. উদ্দীপকের 'A' ও 'B' খামারের তুলনামূলক বিশ্লেষণ কর। ৪
- ৩ ▶ বাংলাদেশে এমন একটি বৃহৎ কৃষিভিত্তিক শিল্প আছে, যা উৎপাদনে বাংলাদেশ বিশ্বে অষ্টম (৮ম)। বাংলাদেশের সিলেট, পঞ্চগড়, চট্টগ্রাম, দিনাজপুরে চাষ হয় শিল্পটির কাঁচামাল। কিন্তু শিল্পে নানাবিধ সমস্যা বিরাজমান। তার মধ্যে অনিয়মিত বৃষ্টিপাত, শ্রমিকের অভাব, সংরক্ষণের সমস্যা, পরিবর্তক দ্রব্যের উপস্থিতি ও জলবায়ু পরিবর্তন বিশেষভাবে উল্লেখযোগ্য।
- ক. PPP কী? ১  
খ. বাংলাদেশের চামড়া শিল্পের ভবিষ্যৎ সম্ভাবনা যথেষ্ট উজ্জ্বল— ব্যাখ্যা কর। ২  
গ. উদ্দীপকে উল্লিখিত শিল্পটি কী শিল্প? উক্ত শিল্পের সমস্যাবলি আলোচনা কর। ৩  
ঘ. উদ্দীপকের শিল্পের সমস্যা সমাধানের জন্য তুমি কী কী সুপারিশ করবে? মতামত দাও। ৪
- ৪ ▶ 'ক' দেশে বিগত দশ বছর পূর্বেও ফ্রিজ, টিভির মতো ইলেকট্রনিক্স দ্রব্য বাইরের দেশ থেকে ক্রয় করে এনে ব্যবহার করতে হতো। কিন্তু বর্তমানে এসব পণ্য দেশেই উৎপাদন হয় এবং ভোক্তারা সস্তায় কিনে ব্যবহার করতে পারছে। এর মাধ্যমে দেশীয় শিল্পের সংরক্ষণ, বৈদেশিক মুদ্রা সাশ্রয়, বাণিজ্য ঘাটতি হ্রাস পায়।
- ক. নিয়ন্ত্রিত শিল্প কী? ১  
খ. ক্ষুদ্র ও কুটির শিল্পের পার্থক্য লেখ। ২  
গ. উদ্দীপকের শিল্পটির গুরুত্ব ব্যাখ্যা কর। ৩  
ঘ. উদ্দীপকে উল্লিখিত শিল্পের সমস্যাসমূহ বিশ্লেষণপূর্বক এ নীতির যথার্থতা মূল্যায়ন কর। ৪
- ৫ ▶ বর্তমানে বাংলাদেশ সরকারের আয়ের উৎসগুলো হলো— আয়কর, আমদানি শুল্ক, ডাক বিভাগ, রেজিস্ট্রেশন, মূল্য সংযোজন কর, রেলওয়ে ইত্যাদি। দক্ষ মানবসম্পদ, স্থিতিশীল রাজনৈতিক পরিবেশ, দুর্নীতিমুক্ত প্রশাসন ও সামাজিক আন্দোলন ইত্যাদির মাধ্যমে সরকার আয় বৃদ্ধি করতে পারে।
- ক. প্রত্যক্ষ কর কী? ১  
খ. 'ফি বাধ্যতামূলক নয়'— ব্যাখ্যা কর। ২  
গ. উদ্দীপক হতে কর রাজস্ব ও কর বহির্ভূত রাজস্বের তালিকা তৈরি কর। ৩  
ঘ. উদ্দীপক হতে সরকার কীভাবে আয় বৃদ্ধি করতে পারবে বলে তুমি মনে কর? তোমার মতামত দাও। ৪
- ৬ ▶ 'X' দেশের কোটি মেঘা প্রকল্পে ৬০% অর্থ তালিকা 'ক' থেকে এবং ৪০% অর্থ তালিকা 'খ' থেকে সংগ্রহ করা হলো—

তালিকা-ক		তালিকা-খ
বাণিজ্যিক ব্যাংক	→ ? ←	বিদেশি ব্যক্তি
কেন্দ্রীয় ব্যাংক		বিদেশি সংস্থা
ব্যক্তিগত উৎস		আন্তর্জাতিক আর্থিক প্রতিষ্ঠান
অ-আর্থিক প্রতিষ্ঠান		বিদেশি সরকার

- ক. মৃতভার ঋণ কী? ১  
খ. বাংলাদেশ সরকারের ব্যয়ের প্রধান দুটি খাত ব্যাখ্যা কর। ২

- গ. উদ্দীপকে সরকারি অর্থব্যবস্থার কোন দিকটি নির্দেশ করছে? ব্যাখ্যা কর। ৩  
ঘ. উদ্দীপকের আলোকে কোন তালিকাটি বাংলাদেশের জন্য বেশি কল্যাণকর? সপক্ষে যুক্তি দাও। ৪
- ৭ ▶ অধ্যাপক জামান অর্থনীতির ক্লাসে জনসংখ্যা সম্পর্কিত একটি তত্ত্ব নিয়ে আলোচনা করছিলেন। তার বক্তব্য অনুসারে জনসংখ্যা যে হারে বৃদ্ধি পায় খাদ্য উৎপাদন তার চেয়ে কম হারে বৃদ্ধি পায়। ফলে দুর্ভিক্ষ, মহামারি প্রভৃতি প্রাকৃতিক নিরোধের মাধ্যমে জনসংখ্যা ও খাদ্যের মধ্যে সাময়িক ভারসাম্য আসে। তবে জনসংখ্যা সমস্যার স্থায়ী সমাধানের জন্য প্রতিরোধমূলক ব্যবস্থা গ্রহণ করাই কাম্য।
- ক. কাম্য জনসংখ্যা নির্ণয়ে অধ্যাপক ডালটনের সূত্রটি লেখ। ১  
খ. সুস্বাস্থ্য ও মানবসম্পদ উন্নয়ন পরিপূরক— ব্যাখ্যা কর। ২  
গ. অধ্যাপক জামান জনসংখ্যা সম্পর্কিত যে তত্ত্ব নিয়ে আলোচনা করছেন তা একটি চিত্রের মাধ্যমে ব্যাখ্যা কর। ৩  
ঘ. জনসংখ্যা সমস্যার স্থায়ী সমাধানের জন্য প্রতিরোধমূলক ব্যবস্থা গ্রহণ করাই কাম্য— উক্তিটি বিশ্লেষণ কর। ৪
- ৮ ▶ 'X' দেশের ২০২২ সালে ভোক্তার মূল্য সূচক ছিল ৫০০ এবং ২০২৩ সালে ভোক্তার মূল্য সূচক বৃদ্ধি পেয়ে ৫৮০ হয়। বাজারে পণ্যের দাম বাড়তে থাকে। এর ফলে দেশের কিছু শ্রেণি লাভবান হলেও নিম্নবিত্ত সীমিত আয়ের লোকেরা ভোক্তার সম্মুখীন হয়।
- ক. CPI-এর পূর্ণরূপ কী? ১  
খ. জ্বালানি তেলের দাম বৃদ্ধি কী ধরনের মুদ্রাস্ফীতি সৃষ্টি করে? ২  
গ. উদ্দীপকে 'X' দেশের মুদ্রাস্ফীতির হার নির্ণয় কর। ৩  
ঘ. মুদ্রাস্ফীতির ফলে সমাজের কিছু শ্রেণির লোক লাভবান হলেও অন্যরা ভোগান্তির শিকার হয়— বিষয়টি মূল্যায়ন কর। ৪
- ৯ ▶ নিচের চিত্রটি লক্ষ কর এবং প্রশ্নগুলোর উত্তর দাও:



- ক. মুদ্রা সংকোচন কী? ১  
খ. "মুদ্রাস্ফীতি সর্বদা খারাপ নয়"— ব্যাখ্যা কর। ২  
গ. উদ্দীপকের চিত্রে কোন ধরনের মুদ্রাস্ফীতি দেখানো হয়েছে? ব্যাখ্যা কর। ৩  
ঘ. চিত্রে প্রদর্শিত মুদ্রাস্ফীতি নিয়ন্ত্রণে সরকার কোন ধরনের পদক্ষেপ নিতে পারে বলে তুমি মনে কর। ৪
- ১০ ▶ 'X' দেশ বিভিন্ন দেশের সাথে এমন এক ধরনের বাণিজ্যে লিপ্ত যাতে করে উক্ত দেশের সম্পদের সৃষ্টি ব্যবহার সম্ভব হয়। এছাড়া দেশের ভোক্তারা অনুৎপাদিত দ্রব্য ভোগ, মূলধনী দ্রব্যের পর্যাপ্ততা সহ বিভিন্ন ধরনের সুবিধা ভোগ করে। তথাপি 'X' দেশে উক্ত বাণিজ্যে প্রচুর ঘাটতি বিদ্যমান, যা দূর করার জন্য রাষ্ট্র শুল্ক রেয়াত, ট্যাক্স হলিডে, বিদ্যুৎ গ্যাসের দাম হ্রাস সহ বিভিন্ন পদক্ষেপ গ্রহণ করে।
- ক. বিশ্বায়ন কী? ১  
খ. "বৈদেশিক সাহায্য দেশকে পরনির্ভরশীল করে তোলে"— ব্যাখ্যা কর। ২  
গ. 'X' দেশ যে ধরনের বাণিজ্যে লিপ্ত তার গুরুত্ব ব্যাখ্যা কর। ৩  
ঘ. উদ্দীপকে উল্লিখিত বাণিজ্য ঘাটতি দূর করার জন্য রাষ্ট্র কর্তৃক গৃহীত পদক্ষেপ কী পর্যাপ্ত? বিশ্লেষণ কর। ৪
- ১১ ▶ 'X' দেশের একজন অর্থনীতির শিক্ষক সম্প্রতি তার দেশের জনসংখ্যার বর্তমান পরিস্থিতি নিয়ে আলোচনা করেন। তিনি জানান বিগত এক বছরে তার দেশে ৩০ লক্ষ ৭৭ হাজার জীবিত শিশু জন্মগ্রহণ করে এবং ৮ লক্ষ ৬৭ হাজার লোক মৃত্যুবরণ করে। উক্ত বছরের মধ্যবর্তী সময়ে দেশের মোট জনসংখ্যা ছিল ১৭ কোটি। ফলে জনসংখ্যা দ্রুত বৃদ্ধি পাচ্ছে। তিনি বলেন, এই বর্ধিত জনসংখ্যার সকল মৌলিক চাহিদা সঠিকভাবে পূরণ করা গেলে এদেরকে এমনভাবে গড়ে তোলা যাবে, যা দেশের জন্য বোঝা না হয়ে সম্পদে পরিণত হবে।
- ক. আত্মকর্মসংস্থান কী? ১  
খ. অতিরিক্ত জনসংখ্যা বৃদ্ধির হার উন্নয়নের ওপর নেতিবাচক প্রভাব ফেলে— ব্যাখ্যা কর। ২  
গ. 'X' দেশের জনসংখ্যার স্বাভাবিক বৃদ্ধির হার নির্ণয় কর। ৩  
ঘ. কীভাবে অতিরিক্ত জনসংখ্যা বোঝা না হয়ে সম্পদে পরিণত হয়— বিশ্লেষণ কর। ৪

## হলি ক্রস কলেজ, ঢাকা

### অর্থনীতি দ্বিতীয় পত্র সৃজনশীল প্রশ্ন

পূর্ণমান-৭০

সময়-২ ঘণ্টা ৩০ মিনিট

**দ্রষ্টব্য :** ডান পাশের সংখ্যা প্রশ্নের পূর্ণমান জ্ঞাপক। প্রদত্ত উদ্দীপকগুলো মনোযোগ সহকারে পড় এবং সংশ্লিষ্ট প্রশ্নগুলোর উত্তর দাও। যে কোনো সাতটি প্রশ্নের উত্তর দিতে হবে।

- ১▶ জনাব করিম নিজের জমিতে চাষাবাদ করেন। জমিতে যে ফসল হয় তা পরিবহন ও ঋণের অভাব, অনুন্নত যোগাযোগ ব্যবস্থা, গুদামজাত করণে সমস্যা ইত্যাদি কারণে তিনি দূরবর্তী বাজারে বিক্রয় করতে পারেন না। ফলে সংসারে অভাব লেগেই থাকে। সরকার কৃষকদের এসব সমস্যা নিরসনে অবকাঠামোগত উন্নয়ন, কৃষিবিমা প্রচলন, ভর্তুকি ইত্যাদি পদক্ষেপ গ্রহণ করেছে।

- ক. শস্য বহুমুখী কাকে বলে? ১  
খ. কৃষিখামার ও কৃষিজোত কি একই? ২  
গ. উদ্দীপক অনুসারে কৃষকরা ন্যায্যমূল্য পায় না কেন? ব্যাখ্যা কর। ৩  
ঘ. উদ্দীপক অনুসারে কৃষকদের ন্যায্যমূল্য নিশ্চিতকরণে সরকারের গ্রহীত পদক্ষেপ কি তুমি যথার্থ বলে মনে কর? বিশ্লেষণ কর। ৪

- ২▶ সাদিয়া ও তার পরিবারের সদস্যরা মিলে নকশিকাঁথা তৈরি করে বাজারে বিক্রয় করে। সাদিয়াদের তৈরি নকশিকাঁথার চাহিদা দিন দিন বৃদ্ধি পাচ্ছে। তাই তারা একটি কারখানা তৈরি করে এবং মূলধনের পরিমাণ ৫ কোটি। এতে করে কর্মসংস্থান বৃদ্ধি, বৈদেশিক মুদ্রা অর্জন, কৃষকদের অতিরিক্ত আয় সৃষ্টি এবং দেশের অর্থনীতি সামনে এগিয়ে যাচ্ছে।

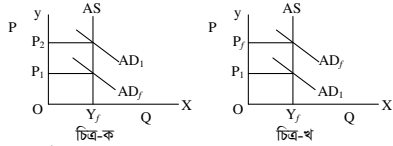
- ক. শিল্পনীতি কী? ১  
খ. আমদানি বিকল্প শিল্প কেন গুরুত্বপূর্ণ? ২  
গ. উদ্দীপক অনুসারে শিল্প দুটি কোন ধরনের? ব্যাখ্যা কর। ৩  
ঘ. দেশের অর্থনৈতিক উন্নয়নে উদ্দীপকে উল্লিখিত শিল্প দুটির গুরুত্ব অপরিসীম- বিশ্লেষণ কর। ৪

- ৩▶ নিচের চিত্রটি লক্ষ কর :



- ক. আত্মকর্মসংস্থান কী? ১  
খ. প্রশিক্ষণই দক্ষ মানবসম্পদ তৈরি করে-ব্যাখ্যা কর। ২  
গ. উদ্দীপকে কোন তত্ত্বটি নির্দেশ করেছে-ব্যাখ্যা কর। ৩  
ঘ. উদ্দীপকের তত্ত্বটি তোমার দেশের আর্থসামাজিক প্রেক্ষাপটে কতটুকু কার্যকর? বিশ্লেষণ কর। ৪

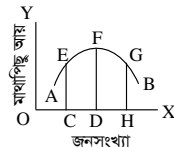
- ৪▶



- ক. ভিত্তি বছরের গড় মূল্য কত হয়? ১  
খ. মুদ্রাস্ফীতিতে ঋণ গ্রহীতা লাভবান হয় কেন? ২  
গ. উদ্দীপকের "ক" ও "খ" চিত্র কি একই ধরনের? ব্যাখ্যা কর। ৩  
ঘ. উদ্দীপকের "ক" চিত্র সৃষ্টি হওয়ার জন্য কী কী বিষয়সমূহ দায়ী বলে তুমি মনে কর? বিশ্লেষণ কর। ৪

- ৫▶ "X" দেশের মোট আয়তন ১,৪৭,৫৭০ বর্গকিলোমিটার। "X" দেশের মোট জন্মসংখ্যা ৮৭,০০,৫২০ জন এবং মোট মৃত্যুর সংখ্যা ৮০,০০০ জন। ওই দেশে বছরের মধ্যবর্তী সময়ের জনসংখ্যা ১৮,০০,০০,০০০ জন। অতিরিক্ত জনসংখ্যার কারণে খাদ্য, বস্ত্র, বাসস্থান, শিক্ষা ও চিকিৎসার সুযোগ-সুবিধা থেকে অনেকেই বঞ্চিত হচ্ছে।

- ক. নীট অভিবাসনের সূত্র লেখ। ১  
খ.



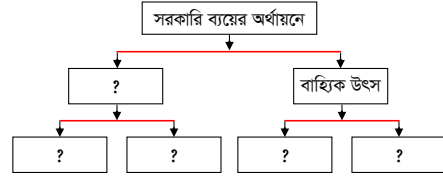
- চিত্রানুসারে, E, F, G কী নির্দেশ করে? ২  
গ. স্থূল জন্মহার ও স্থূল মৃত্যুহার নির্ণয় কর। ৩  
ঘ. অতিরিক্ত জনসংখ্যা মৌলিক চাহিদার ওপর কীধরনের প্রভাব পড়ে। বিশ্লেষণ কর। ৪

- ৬▶ 'Y' দেশের বৈদেশিক বাণিজ্যের পরিস্থিতি নিম্নরূপ :

অর্থবছর	রপ্তানি আয়	আমদানি ব্যয়
2020-21	35,350 কোটি মার্কিন ডলার	45,450 কোটি মার্কিন ডলার
2021-22	46,000 কোটি মার্কিন ডলার	58,865 কোটি মার্কিন ডলার

- ক. প্রযুক্তি কী? ১  
খ. অপ্রচলিত রপ্তানি পণ্য প্রচলিত রপ্তানি পণ্যের চেয়ে বেশি বৈদেশিক মুদ্রা অর্জন করে- ব্যাখ্যা কর। ২  
গ. উদ্দীপক অনুসারে 'Y'-দেশের বৈদেশিক বাণিজ্যের পরিস্থিতি স্তম্ভরেখার সাহায্যে ব্যাখ্যা কর। ৩  
ঘ. উদ্দীপকের উল্লিখিত পরিস্থিতি নিরসনের জন্য বাণিজ্য না সাহায্য কোনটি 'Y' দেশের জন্য অধিক কার্যকর হবে- বিশ্লেষণ কর। ৪

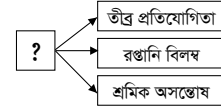
- ৭▶ নিচের চিত্রটি লক্ষ কর :



সরকার সার্বভৌমত্ব, শিক্ষা, স্বাস্থ্য প্রভৃতি খাতের জন্য ব্যয় করে।

- ক. করের চূড়ান্ততার কী? ১  
খ. বাহ্যিক খাত থেকে ঋণ গ্রহণ করা অসুবিধাজনক কেন? ২  
গ. উদ্দীপক অনুসারে "প্রশ্নাচিহ্নিত" ঘরগুলো পূরণ করে ব্যাখ্যা কর। ৩  
ঘ. উদ্দীপক অনুসারে কোন কোন খাতে ব্যয়ের জন্য সরকার অর্থায়ন করে? বিশ্লেষণ কর। ৪

- ৮▶ নিচের চিত্রটি লক্ষ কর:



- ক. হাইটেক শিল্প কী? ১  
খ. EPZ কেন স্থাপন করা প্রয়োজন? ২  
গ. উদ্দীপকের প্রশ্নাচিহ্নিত শিল্পটির সমস্যাগুলি ব্যাখ্যা কর। ৩  
ঘ. উদ্দীপকের প্রশ্নাচিহ্নিত শিল্পটি কীভাবে সমাধান করা যাবে? বিশ্লেষণ কর। ৪

- ৯▶ 'Z' দেশের 2020 এবং 2022 সালের বিভিন্ন ভোজ্য পণ্যের দাম ও পরিমাণ নিচে দেওয়া হলো-

দ্রব্য	২০২০ সাল		২০২২ সাল
	দাম (টাকা)	পরিমাণ (একক)	দাম (টাকা)
চাল	20 টাকা	30 একক	50 টাকা
ডাল	35 টাকা	10 একক	70 টাকা
তেল	50 টাকা	05 একক	100 টাকা
আটা	10 টাকা	15 একক	40 টাকা

দেশটির সরকার দ্রব্যমূল্য স্থিতিশীল রাখার জন্য ঋণের প্রবাহ নিয়ন্ত্রণ, পরোক্ষ কর-হ্রাস, সরকারি ব্যয়-হ্রাস ইত্যাদি পদক্ষেপ গ্রহণ করেছে।

- ক. কোন ধরনের মুদ্রাস্ফীতি দেশের জন্য মঙ্গলজনক? ১  
খ. কী কারণে ব্যয় বৃদ্ধিজনিত মুদ্রাস্ফীতি সৃষ্টি হয়? ২  
গ. উদ্দীপক থেকে 'Z' দেশের ভোজ্য মূল্যসূচক নির্ণয় কর। ৩  
ঘ. সরকারের গ্রহীত পদক্ষেপ দ্রব্যমূল্য স্থিতিশীল রাখার ক্ষেত্রে কতটুকু কার্যকর বলে তুমি মনে কর? বিশ্লেষণ কর। ৪

- ১০▶ জনাব হাসান একজন আমচাষি, এ বছর আম উৎপাদনের জন্য বন্ধ-বান্ধব, আত্মীয়স্বজন থেকে টাকা ঋণ করেছেন। এছাড়া নিকটস্থ কৃষি ব্যাংক থেকেও সামান্য পরিমাণে ঋণ নিয়েছেন। তিনি আম বাগানে একধরনের প্রযুক্তি প্রয়োগ করেছেন। যার ফলে উচ্চফলন হয়েছে একই সাথে পুষ্টিমান বজায় রয়েছে। এতে তিনি লাভবান হচ্ছেন।

- ক. উন্নত বীজ কী? ১  
খ. চিংড়িকে কেন সাদা সোনা বলা হয়? ২  
গ. উদ্দীপক অনুসারে কৃষি ঋণের উৎসগুলোর বিবরণ দাও। ৩  
ঘ. উদ্দীপকে যে প্রযুক্তি ব্যবহার করা হয়েছে, তা কৃষিক্ষেত্রে অত্যন্ত গুরুত্বপূর্ণ- বিশ্লেষণ কর। ৪

১নং বাণিজ্য		২নং বাণিজ্য	
১। পরিবহন ব্যয় মুখ্য নয়।	১। পরিবহন ব্যয় মুখ্য	২। পণ্যের বিমা হয় না	২। পণ্যের বিমা হয়

- ক. ওয়েজ আর্নিস স্কিম কী? ১  
খ. বাংলাদেশে কেন প্রাথমিক ও মাধ্যমিক দ্রব্য বেশি রপ্তানি করে? ২  
গ. উদ্দীপক অনুসারে ১নং বাণিজ্যের বৈশিষ্ট্য ব্যাখ্যা কর। ৩  
ঘ. উদ্দীপক অনুসারে ২নং বাণিজ্যের গুরুত্ব বিশ্লেষণ কর। ৪

## বগুড়া ক্যান্টনমেন্ট পাবলিক স্কুল ও কলেজ

### অর্থনীতি দ্বিতীয় পত্র ● সৃজনশীল প্রশ্ন

সময়—২ ঘণ্টা ৩০ মিনিট

পূর্ণমান—৭০

দ্রষ্টব্য : ডান পাশের সংখ্যা প্রশ্নের পূর্ণমান জ্ঞাপক। প্রদত্ত উদ্দীপকগুলো মনোযোগ সহকারে পড় এবং সংশ্লিষ্ট প্রশ্নগুলোর উত্তর দাও। যে কোনো সাতটি প্রশ্নের উত্তর দিতে হবে।

- ১ ▶ 'B' দেশ একটি অধিক ঘনবসতিপূর্ণ দেশ। 'B' দেশ একটি কৃষিপ্রধান দেশ। এদেশের ভূমিরূপ উর্বর ও সমতল। এ দেশের মানুষ কৃষির ওপর নির্ভরশীল কিন্তু কৃষি তেমন উন্নত নয়। এদেশের মানুষের জীবনযাত্রার ওপর প্রকৃতি ও খাদ্যাভ্যাস ব্যাপক প্রভাব রাখে। এখানে শিক্ষার হার কম হওয়ার কারণে জনসংখ্যা খুব দ্রুত বৃদ্ধি পায়। অধিক জনসংখ্যার কারণে এদেশে খাদ্য, বাসস্থান, কর্মসংস্থান, জীবনযাত্রার নিম্নমান ইত্যাদি সমস্যা লেগেই আছে। উদ্ভূত সমস্যা সমাধানে উক্ত দেশের সরকার শিক্ষা ও প্রশিক্ষণের ওপর গুরুত্ব আরোপ করেছে।

- ক. আত্মকর্মসংস্থান কী? ১  
খ. জনসংখ্যার ঘনত্বের ধারণা দাও। ২  
গ. উদ্দীপকের 'B' দেশের অধিক জনসংখ্যা বৃদ্ধির কারণগুলো আলোচনা কর। ৩  
ঘ. উদ্দীপকের 'B' দেশের অধিক জনসংখ্যার প্রভাবগুলো আলোচনা কর। ৪

- ২ ▶ নিচের উদ্দীপক হতে প্রশ্নগুলোর উত্তর দাও:

বছর	০	২৫	৫০	৭৫	১০০
খাদ্য উৎপাদন	১	২	৩	৪	৫
জনসংখ্যা বৃদ্ধি	১	২	৪	৮	১৬

- ক. মানবসম্পদ কী? ১  
খ. কাম্য জনসংখ্যার ধারণা দাও। ২  
গ. উদ্দীপকে জনসংখ্যার যেটুকু প্রকাশ পেয়েছে তার ব্যাখ্যা দাও। ৩  
ঘ. উদ্দীপকের তত্ত্বটির সীমাবদ্ধতাগুলো আলোচনা কর। ৪

- ৩ ▶ বাংলাদেশে আশির দশকে বিকাশ লাভ করে তৈরি পোশাক শিল্প ব্যাপক উন্নতি লাভ করেছে। তৈরি পোশাক শিল্প এদেশের ব্যাপক কর্মসংস্থান সৃষ্টি করেছে। এই শিল্প দেশের রপ্তানি বাণিজ্যে নেতৃত্ব প্রদান করে এবং প্রচুর বৈদেশিক মুদ্রা অর্জনে ভূমিকা রাখে। এরপরও এই শিল্প নানা সমস্যায় জর্জরিত। শ্রমিক অসন্তোষ, নিম্ন মজুরি, রাজনৈতিক অস্থিতিশীলতাসহ নানান সমস্যা এই শিল্পের অগ্রগতির পথে প্রতিবন্ধকতা সৃষ্টি করেছে। এখনই যথাযথ পদক্ষেপ গ্রহণ করা না হলে শিল্পটি হুমকির সম্মুখীন হবে।

- ক. পোশাক শিল্প কী? ১  
খ. বৃহৎ শিল্পের ধারণা দাও। ২  
গ. বাংলাদেশের তৈরি পোশাক শিল্পের সমস্যাগুলো উদ্দীপকের আলোকে ব্যাখ্যা কর। ৩  
ঘ. বাংলাদেশের তৈরি পোশাক শিল্পের সমস্যা সমাধানে কী কী পদক্ষেপ গ্রহণ করা যেতে পারে? ব্যাখ্যা কর। ৪

- ৪ ▶ বাংলাদেশে বিভিন্ন উপনিবেশিক শাসন ও শোষণের কারণে শিল্প তেমন বিকাশ লাভ করেনি। এদেশের অর্থনীতি গড়ে উঠেছে কৃষির ওপর ভিত্তি করে। তবে স্বাধীনতা পরবর্তী সময়ে শিল্প উন্নয়নে বিভিন্ন পদক্ষেপ গ্রহণের মাধ্যমে শিল্পের কিছুটা অগ্রগতি সাধিত হয়েছে। শিল্প উন্নয়নে আরও সময় উপযোগী ও যথাযথ পদক্ষেপ গ্রহণ করতে হবে।

- ক. শিল্প কী? ১  
খ. ক্ষুদ্র ও কুঠির শিল্পের ধারণা দাও। ২  
গ. উদ্দীপকের আলোকে বাংলাদেশের শিল্পের অনগ্রসরতার কারণ ব্যাখ্যা কর। ৩  
ঘ. বাংলাদেশে কীভাবে কৃষির পাশাপাশি শিল্পে উন্নতি লাভ করা যায়? ব্যাখ্যা কর। ৪

- ৫ ▶ বাংলাদেশের অধিকাংশ কৃষক প্রান্তিক চাষি এবং দরিদ্র। দরিদ্রতার কারণে তারা ফসল উৎপাদনের পরেই বিক্রি করে দেয়। এছাড়াও কৃষি পণ্যের বাজারে মধ্যসত্ত্বভোগী। পণ্যের পরিবহন সমস্যা, গুদামজাত করণ সমস্যা, বাজার তথ্যের অভাব, ক্রেতা পূর্ণ ওজন ব্যবস্থা প্রভৃতি কারণে কৃষক পণ্যের নায্যমূল্য থেকে বঞ্চিত হয়। কৃষকের জীবনমান উন্নয়ন তথা কৃষির উন্নয়নে কৃষিপণ্যের বিপণন সমস্যা সমাধান করা প্রয়োজন।

- ক. কৃষি পণ্যের বিপণন কী? ১  
খ. কৃষির উপখাত কয়টি ও কী কী? ২  
গ. উদ্দীপকের আলোকে বাংলাদেশের কৃষিপণ্যের বিপণন সমস্যাগুলো ব্যাখ্যা কর। ৩  
ঘ. বাংলাদেশের কৃষি পণ্যের বিপণন সমস্যা কীভাবে সমাধান করা যায়? আলোচনা কর। ৪

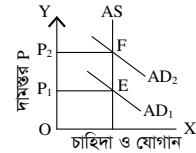
- ৬ ▶ বাংলাদেশের দরিদ্র কৃষক যথাযথ কৃষি ঋণের অভাবে ক্ষতির সম্মুখীন হয়। প্রাতিষ্ঠানিক কৃষিঋণের সমস্যার কারণে কৃষকরা অপ্রাতিষ্ঠানিক ঋণের দিকে বেশি অগ্রসর হয়। ফলে উচ্চ সুদে ঋণ কৃষকদের বাড়তি চাপ সৃষ্টি করে। কৃষকদের স্বল্প সুদে অধিক পরিমাণে ঋণ প্রদান করা সম্ভব হলে কৃষক ও কৃষির উন্নতি ত্বরান্বিত হতো।

- ক. কৃষিঋণ কী? ১  
খ. কৃষক কেন কৃষিঋণ গ্রহণ করে? ২  
গ. বাংলাদেশের কৃষি ঋণের সমস্যাগুলো আলোচনা কর। ৩  
ঘ. বাংলাদেশের কৃষি ঋণব্যবস্থা সহজ ও বিস্তৃত করার উপায়গুলো আলোচনা কর। ৪

- ৭ ▶ বগুড়ার ব্যবসায়ী জনাব রহমান বগুড়ার উৎপাদিত আলু দেশের বিভিন্ন অঞ্চলে বিক্রয় করে। তার এই বাণিজ্য করতে অন্য মুদ্রা ও ব্যাংক ব্যবস্থার প্রয়োজন হয় না। তিনি একই বাণিজ্য নীতিতে বাণিজ্য পরিচালনা করে। অন্যদিকে, জনাব আনোয়ার সাহেব বাংলাদেশের তৈরি পোশাক যুক্তরাষ্ট্রসহ ইউরোপের বিভিন্ন দেশে রপ্তানি করে। তার বাণিজ্য ভিন্ন ভিন্ন মুদ্রা ও ব্যাংক ব্যবস্থায় পরিচালিত হয়। তার বাণিজ্য ভিন্ন ভিন্ন বাণিজ্যনীতি অনুসরণ করে।

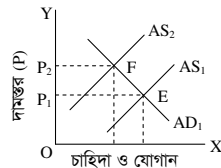
- ক. বাণিজ্য কী? ১  
খ. বাণিজ্য কেন সংঘটিত হয়? ২  
গ. জনাব রহমান ও জনাব আনোয়ার সাহেবের বাণিজ্যের ধারণা দাও। ৩  
ঘ. জনাব রহমান ও জনাব আনোয়ার সাহেবের বাণিজ্যের মধ্যে পার্থক্য আলোচনা কর। ৪

- ৮ ▶ নিচের উদ্দীপকের আলোকে প্রশ্নগুলোর উত্তর দাও:



- ক. মুদ্রাস্ফীতি কী? ১  
খ. একজন ঋণ গ্রহীতার ওপর মুদ্রাস্ফীতির প্রভাব ব্যাখ্যা কর। ২  
গ. উদ্দীপকে যে মুদ্রাস্ফীতির প্রকাশ পেয়েছে তার ব্যাখ্যা দাও। ৩  
ঘ. উদ্দীপকে প্রকাশিত মুদ্রাস্ফীতির কারণ ব্যাখ্যা কর। ৪

- ৯ ▶ নিচের উদ্দীপক হতে প্রশ্নগুলোর উত্তর দাও:



- ক. বিশ্বায়ন কী? ১  
খ. অর্থ সরবরাহ বৃদ্ধি মুদ্রাস্ফীতির মূল কারণ— ব্যাখ্যা কর। ২  
গ. উদ্দীপকে প্রকাশিত মুদ্রাস্ফীতির ব্যাখ্যা দাও। ৩  
ঘ. উদ্দীপকে প্রকাশিত মুদ্রাস্ফীতি নিয়ন্ত্রণের উপায়গুলো আলোচনা কর। ৪

- ১০ ▶ একজন শিক্ষার্থী দেশের বাজেট পর্যালোচনা থেকে সরকারের আয়ের উৎস ও ব্যয়ের খাত সম্পর্কে পূর্ণাঙ্গ ধারণা পেতে পারে। বাজেটে সরকারের আয়ের উৎস ও ব্যয়ের খাতের পূর্ণাঙ্গ বিবরণ থাকে। আয়ের খাতগুলো দ্বারা সরকার কোন কোন উৎস হতে কী উপায়ে অর্থ সংগ্রহ করে তা জানা যায়। অপরদিকে, ব্যয়ের খাতগুলো দ্বারা সরকার কোন খাতে কী উদ্দেশ্যে কত টাকা ব্যয় করে তার ধারণা পাওয়া যায়।

- ক. সরকারি অর্থব্যবস্থা কী? ১  
খ. মূল্য সংযোজন কর (VAT) বলতে কী বোঝায়? ২  
গ. উদ্দীপক হতে সরকারের আয়ের উৎসগুলো আলোচনা কর। ৩  
ঘ. উদ্দীপকের আলোকে সরকারের ব্যয়ের খাতগুলো বিবরণ দাও। ৪

- ১১ ▶ বর্তমান পৃথিবীর প্রায় সকল রাষ্ট্রই উন্নয়নমূলক রাষ্ট্র। উন্নয়নমূলক কর্মকাণ্ড পরিচালনা করতে গিয়ে কোনো রাষ্ট্রের একার পক্ষে ব্যয় নির্বাহ করা সম্ভব হয় না। তাই প্রতিটি উন্নয়নকামী দেশ উন্নত দেশের নিকট হতে ঋণ গ্রহণ করে। এই ঋণ কোনো আন্তর্জাতিক আর্থিক প্রতিষ্ঠান-এর নিকটও হতে পারে। আবার সরকার দেশের জনগণ ও বিভিন্ন আর্থিক ও বাণিজ্য প্রতিষ্ঠান হতেও ঋণ গ্রহণ করতে পারে।

- ক. সরকারি ঋণ কী? ১  
খ. সরকার কেন ঋণ গ্রহণ করে? ২  
গ. সরকারি ঋণের অভ্যন্তরীণ উৎসগুলো আলোচনা কর। ৩  
ঘ. সরকারি ঋণের আন্তর্জাতিক উৎসগুলো আলোচনা কর। ৪

## খুলনা পাবলিক কলেজ

### অর্থনীতি দ্বিতীয় পত্র • সৃজনশীল প্রশ্ন

সময়—২ ঘণ্টা ৩০ মিনিট

পূর্ণমান—৭০

**দ্রষ্টব্য :** ডান পাশের সংখ্যা প্রশ্নের পূর্ণমান জ্ঞাপক। প্রদত্ত উদ্দীপকগুলো মনোযোগ সহকারে পড় এবং সংশ্লিষ্ট প্রশ্নগুলোর উত্তর দাও। যে কোনো সাতটি প্রশ্নের উত্তর দিতে হবে।

- ১ ▶ বাংলাদেশের কৃষিখাত নিয়ে আমরা যথেষ্ট আশাবাদী। বিগত কয়েক দশক যাবৎ জিডিপিতে কৃষির অবদান বাড়ছে। মোট কৃষি উৎপাদনের পরিমাণ বৃদ্ধি পেয়েছে এবং এ খাত শ্রমশক্তি নিয়োগের জন্য এখনও একক বৃহত্তম খাত। শস্য উৎপাদনের বহুমুখীকরণ, জৈব প্রযুক্তির ব্যবহার ক্রমাগত বৃদ্ধি, উন্নত বীজ ও প্রতিকূল প্রাকৃতিক পরিবেশ সহিষ্ণু বীজ উদ্ভাবনের ফলেই এরূপ সাফল্য এসেছে। তবে বাজার ব্যবস্থার ক্রেতা-বিচ্যুতি ও যাতায়াত ব্যবস্থার দুর্বলতার ফলে এখনও কৃষকদের আর্থিক অবস্থার তেমন উল্লেখযোগ্য অগ্রগতি হয়নি।
- ক. কৃষি খামার বলতে কী বোঝ? ১
- খ. মার্শরুম চাষ, হাঁস-মুরগি প্রতিপালন গ্রামীণ কর্মসংস্থান বৃদ্ধিতে কীভাবে ভূমিকা রাখে? ২
- গ. উদ্দীপকে বর্ণিত কৃষি কর্মসূচির উপযোগিতা বিশ্লেষণ কর। ৩
- ঘ. উদ্দীপকে উল্লিখিত সমস্যার প্রেক্ষিতে কৃষকদের আর্থিক অবস্থার উন্নয়নে কী কী পদক্ষেপ নেওয়া যায়? আলোচনা কর। ৪
- ২ ▶ তুহিন তার খামারে কেবল পরিবারের ভরণপোষণের জন্য চাষাবাদ করে। তার যে দুটি কৃষিজোত আছে তা অতি ক্ষুদ্রায়তনের হওয়ায় সেখানে সে আধুনিক পদ্ধতিতে চাষাবাদ করতে পারে না। তার প্রতিবেশী কৃষকদের মধ্যে বেশিরভাগেরই কৃষিজোতের অবস্থা তারই মতো।
- ক. বাংলাদেশের কৃষি খামার কী? ১
- খ. কৃষিতে জৈব প্রযুক্তির গুরুত্ব বর্ণনা কর। ২
- গ. উদ্দীপকে কোন ধরনের কৃষি খামার সম্পর্কে বলা হয়েছে? আলোচনা কর। ৩
- ঘ. উদ্দীপকে বর্ণিত কৃষিজোত চাষাবাদের সমস্যা সম্পর্কে আলোচনা কর। ৪
- ৩ ▶ বিদ্যুৎ উৎপাদনে বর্তমান সরকার ইতোমধ্যে ব্যাপক সাফল্য অর্জন করেছে। সরকারি ও বেসরকারি যৌথ উদ্যোগে বর্তমান সরকার বৃহৎ বিদ্যুৎ কেন্দ্র স্থাপন করে দেশের বিদ্যুতের চাহিদা পূরণ করতে সমর্থ হয়েছে। ফলে নাগরিক জীবনে স্বস্তি এবং উৎপাদন ক্ষেত্রে কর্মচাঞ্চল্য দেখা দিয়েছে।
- ক. শিল্প কী? ১
- খ. ক্ষুদ্র ও কুটির শিল্প কীভাবে দেশের সুসম উন্নয়ন ঘটায়? ২
- গ. উদ্দীপকে বিদ্যুৎ কেন্দ্র স্থাপনে সরকারের শিল্পনীতির কোন দিকটির প্রতিফলন ঘটেছে? ব্যাখ্যা কর। ৩
- ঘ. উদ্দীপকে উল্লিখিত সরকারি নীতির যথার্থতা মূল্যায়ন কর। ৪
- ৪ ▶ বাংলাদেশে ইতোপূর্বে কোনো ফ্রিজ উৎপাদন করা হয়নি। সব ফ্রিজ বিদেশ থেকে আমদানি করা হতো। ওয়াশ্‌টন কোম্পানি প্রথম দেশি কাঁচামাল ব্যবহার করে ফ্রিজ উৎপাদন করে।
- ক. হাইটেক শিল্প কী? ১
- খ. বৃহৎ শিল্প কীভাবে বেকার সমস্যা সমাধান করতে পারে? ২
- গ. উদ্দীপকে ওয়াশ্‌টনের উৎপাদিত পণ্যের শিল্পকে অর্থনীতির ভাষায় কী ধরনের শিল্প বলা হয়? আলোচনা কর। ৩
- ঘ. বাংলাদেশে এই ধরনের শিল্প স্থাপনের প্রয়োজনীয়তা বিশ্লেষণ কর। ৪
- ৫ ▶ তিন দশক পূর্বে ‘ক’ দেশের জনগণ তাদের মৌলিক চাহিদা পূরণ করতে পারত না। এক্ষেত্রে তাদের দেশের সরকার ক্রমাগত নানামুখী পদক্ষেপ গ্রহণ যেমন— প্রাথমিক শিক্ষা বাধ্যতামূলক, মেয়েদের জন্য অবৈতনিক শিক্ষা চালুকরণ, গ্রামে গ্রামে বিদ্যুৎ পৌঁছানোর ব্যবস্থা, পাকা রাস্তা নির্মাণ, কারিগরি প্রশিক্ষণ ইনস্টিটিউট ও সেতু নির্মাণসহ বিভিন্ন উদ্যোগ গ্রহণ করে। বর্তমানে উক্ত দেশের জনগণের খুব কম অংশই দারিদ্র্যসীমার নিচে বসবাস করে।
- ক. মানবসম্পদ কী? ১
- খ. জনস্বাস্থ্য ও পুষ্টির সাথে মানবসম্পদ উন্নয়নের সম্পর্ক কী? ২
- গ. উদ্দীপকে উল্লিখিত মানবসম্পদ উন্নয়ন সূচকগুলোর প্রকৃতি নির্ণয় কর। ৩
- ঘ. উদ্দীপকে উল্লিখিত সরকারের গৃহীত পদক্ষেপের মধ্যে যেকোনো দুটি পদক্ষেপ কীভাবে আত্মকর্মসংস্থান সৃষ্টিতে ভূমিকা রাখতে পারে? যথাযথ যুক্তিসহ বিশ্লেষণ কর। ৪
- ৬ ▶ একটি দেশে জনসংখ্যার কাঠামো নিম্নরূপ—

২০১৪ সালের মধ্যবর্তী সময়ের জনসংখ্যা	২০১৪ সালের মোট জীবিত শিশুর সংখ্যা	২০১৪ সালের মোট মৃত্যু সংখ্যা
১৫,০০,০০,০০০	২৫,০০,০০০	২০,০০,০০০

- ক. কাম্য জনসংখ্যা কী? ১
- খ. ম্যালথাসের জনসংখ্যা তত্ত্বটি ব্যাখ্যা কর। ২
- গ. উদ্দীপক থেকে স্থূল জন্মহার ও স্থূল ও মৃত্যুহার নির্ণয় কর। ৩
- ঘ. দেশটির আয়তন ১,৪৭,৫৭০ বর্গ কিলোমিটার হলে জনসংখ্যার ঘনত্ব কত? ঘনত্ব বিবেচনা করে দেশটি জনবহুল হলে তার সমাধানের উপায় কী? ৪
- ৭ ▶ চিত্রটি লক্ষ কর এবং সংশ্লিষ্ট প্রশ্নগুলোর উত্তর দাও :
- উৎপাদন
- ক. সূচক সংখ্যা কী? ১
- খ. ‘অর্থের যোগান বৃদ্ধি মুদ্রাস্ফীতির জন্য দায়ী’— ব্যাখ্যা কর। ২
- গ. উদ্দীপকের আলোকে মুদ্রাস্ফীতির হার নির্ণয় কর। ৩
- ঘ. চিত্রে সামগ্রিক চাহিদা রেখা AD<sub>1</sub> হতে AD<sub>2</sub> তে স্থানান্তরের সম্ভাব্য কারণসমূহ বিশ্লেষণ কর। ৪
- ৮ ▶ ফয়জুল সাহেব স্কুলের শিক্ষক। বর্তমানে দ্রব্যমূল্য বৃদ্ধি পাওয়ায় তার সংসার চালাতে হিমশিম খেতে হচ্ছে। অপরদিকে, তার গ্রামের কৃষক রহিমুদ্দিন ও ব্যবসায়ী আজিজ আনন্দেরই আছে কারণ তারা তাদের পণ্য বেশি দামে বিক্রি করে লাভবান হচ্ছে।
- ক. CPI-এর পূর্ণরূপ লেখ। ১
- খ. পরোক্ষ কর মুদ্রাস্ফীতিকে প্রভাবিত করে— ব্যাখ্যা কর। ২
- গ. উদ্দীপকে যে বিষয়ের কথা বলা হয়েছে বিভিন্ন আয়ের মানুষের ওপর তার প্রভাব ব্যাখ্যা কর। ৩
- ঘ. উদ্দীপকের বিষয়টি প্রতিরোধে করণীয়সমূহ বিশ্লেষণ কর। ৪
- ৯ ▶ রিয়াজ সাহেব একজন খ্যাতিনামা ব্যবসায়ী। তিনি দ্রব্যসামগ্রী দেশের অভ্যন্তরে উৎপাদন করে বিদেশে রপ্তানি করেন। তিনি ব্যবসায় প্রসারের জন্য সরকারের কাছে শুল্ক রেয়াত, কাঁচামাল আমদানি নীতি উদারীকরণ, আয়কর সুবিধাসহ বিদ্যুতের দাম হ্রাসের ব্যবস্থার আবেদন জানান।
- ক. বিশ্বায়ন কাকে বলে? ১
- খ. প্রত্যক্ষ বৈদেশিক বিনিয়োগ উন্নয়নের জন্য অধিক গুরুত্বপূর্ণ— ব্যাখ্যা কর। ২
- গ. রিয়াজ সাহেবের বাণিজ্য কোন ধরনের? আলোচনা কর। ৩
- ঘ. রিয়াজ সাহেব যে বাণিজ্যের সাথে সম্পর্কিত তা সম্প্রসারণে উদ্দীপকে গৃহীত পদক্ষেপগুলোর ভূমিকা বিশ্লেষণ কর। ৪
- ১০ ▶ সরকার তার ব্যয় নির্বাহের জন্য কেন্দ্রীয় ব্যাংক, অ-আর্থিক প্রতিষ্ঠান, আন্তর্জাতিক আর্থিক প্রতিষ্ঠান প্রভৃতি খাত থেকে ঋণ গ্রহণ করে থাকে। সরকার মূলত আর্থসামাজিক অবকাঠামো নির্মাণ, ঘাটতি বাজেট পূরণ ও জরুরি অবস্থা মোকাবিলা করার উদ্দেশ্যে ঋণ গ্রহণ করে থাকে।
- ক. পরোক্ষ কর কী? ১
- খ. সরকারের আয়ের প্রধান খাতগুলো কী কী? ২
- গ. উদ্দীপকের আলোকে সরকারি ঋণের উৎসসমূহ ব্যাখ্যা কর। ৩
- ঘ. সরকারের ঋণ গ্রহণের উদ্দেশ্যাবলি পূরণে উদ্দীপকে উল্লিখিত প্রাপ্ত ঋণ কি যথেষ্ট— বিশ্লেষণ কর। ৪
- ১১ ▶ রহিম মিয়া একজন গ্রাম্য কৃষক। মোস্তফা সেই গ্রামের মহাজন। রহিম মিয়া মহাজনের কাছ থেকে ঋণ নিয়ে উৎপাদন কাজ পরিচালনা করে থাকে। ২০১৬ সালে রহিম মিয়া প্রতি মণ আলু ৬০০ টাকা দরে ও প্রতি মণ ধান ৪০০ টাকা দরে বিক্রি করেছিল। ২০১৭ সালে বাজারে দাম বাড়ায় প্রতি মণ আলু ৯০০ টাকা এবং প্রতি মণ ধান ৬০০ টাকা বিক্রি করে। বেশি দামে আলু এবং ধান বিক্রি করায় রহিম মিয়া খুশি হলে ও মোস্তফা খুশি নয়।
- ক. কৃষি উপকরণ কী? ১
- খ. মজুতদার ও চোরাচালান ক্ষতিকর কেন? ২
- গ. ২০১৬ সালের ভিত্তিতে ২০১৭ সালের মুদ্রাস্ফীতির হার উদ্দীপক থেকে নির্ণয় কর। ৩
- ঘ. মুদ্রাস্ফীতির ফলে রহিম মিয়া ও মোস্তফার মনোভাব ভিন্নরকম হওয়ার কারণ কী? বিশ্লেষণ কর। ৪

## কুমিল্লা ভিক্টোরিয়া সরকারি কলেজ

### অর্থনীতি দ্বিতীয় পত্র সৃজনশীল প্রশ্ন

সময়—২ ঘণ্টা ৩০ মিনিট

পূর্ণমান—৭০

দ্রষ্টব্য : ডান পাশের সংখ্যা প্রশ্নের পূর্ণমান জ্ঞাপক। প্রদত্ত উদ্দীপকগুলো মনোযোগ সহকারে পড় এবং সংশ্লিষ্ট প্রশ্নগুলোর উত্তর দাও। যে কোনো সাতটি প্রশ্নের উত্তর দিতে হবে।

- ১ ▶ জনাব তাকরিম তার উৎপাদিত সবজি এ বছর স্থানীয় একটি বাজারে নিয়ে বিক্রি করার আগ্রহ পাচ্ছেন না। কেননা বিগত বছরগুলোতে বেশিরভাগ সময়ে পরিবহন সমস্যা, দালাল ও ফড়িয়াদের দৌরাড্রাসমূহ বিভিন্ন সমস্যার সম্মুখীন হয়েছেন। উপরন্তু ন্যায্য দাম পাওয়া নিয়ে রয়েছে অনিশ্চয়তা, তবে আশার বাণী হচ্ছে সম্প্রতি সরকারের কিছু ইতিবাচক পদক্ষেপের কথা শোনা যাচ্ছে।

- ক. কৃষি ঋণ কী? ১  
খ. শস্যবহুমুখীকরণ কি খাদ্য ঘাটতি পূরণ করতে পারে? ২  
গ. উদ্দীপকে কৃষিক্ষেত্রে যে সমস্যার কথা বলা হয়েছে তা বর্ণনা কর। ৩  
ঘ. উপরিউক্ত সমস্যা সমাধানে কী কী পদক্ষেপ গ্রহণ করা উচিত বলে তুমি মনে কর? ৪

- ২ ▶ বাংলাদেশের কৃষির প্রাণিজ সম্পদ ও বনজ সম্পদ উপখাতের GDP-এর খাতভিত্তিক প্রবৃদ্ধির হার নিচে দেওয়া হলো—

	২০১৫-১৬	২০১৬-১৭	২০১৭-১৮	২০১৮-১৯
প্রাণিজ সম্পদ	৩.২০	৩.৩১	৩.৪০	৩.৫৪
বনজ সম্পদ	৫.১২	৫.৬০	৫.৫১	৮.৩৪

- ক. কৃষি বিপণন কী? ১  
খ. চিংড়িকে White Gold বলা হয় কেন? ২  
গ. উদ্দীপকে উল্লিখিত প্রাণিজ সম্পদের প্রবৃদ্ধির হার দণ্ডচিত্রের সাহায্যে দেখাও। ৩  
ঘ. উদ্দীপকে উল্লিখিত বাংলাদেশের GDP-তে দুটি খাতের অবদানের তুলনামূলক বিশ্লেষণ কর। ৪

- ৩ ▶ মি. আবরার একটি কারখানা পরিচালনা করেন। সেই কারখানাটি বৈদেশিক মুদ্রা অর্জনকারী শিল্পের অন্তর্ভুক্ত একটি প্রতিষ্ঠান। এ শিল্পে নিয়োজিত শ্রমিকের মধ্যে প্রায় ৮০ শতাংশই দরিদ্র ও অদক্ষ মহিলা। মোট রপ্তানি আয়ের প্রায় ৮৬ ভাগ এই শিল্প থেকে অর্জিত হয়। নানা বাধা-বিপত্তি অতিক্রম করে বিশ্ববাজারে এ শিল্পটি স্থান করে নিয়েছে।

- ক. হাইটেক শিল্প কী? ১  
খ. সংরক্ষিত ও নিয়ন্ত্রিত শিল্প কি একই? ব্যাখ্যা কর। ২  
গ. মি. আবরারের শিল্প প্রতিষ্ঠানটির ধরন কীরূপ? এ শিল্পের সমস্যাসমূহ ব্যাখ্যা কর। ৩  
ঘ. উদ্দীপকে বর্ণিত শিল্পটি বাংলাদেশের অধিক সম্ভাবনাময়ী শিল্প—ব্যাখ্যা কর। ৪

- ৪ ▶ মিস. তাকওয়া একজন নারী উদ্যোক্তা। আগে তিনি নিজে ঘরে বসে হাতে তৈরি বিভিন্ন পণ্য বাজারে বিক্রি করতেন। বর্তমানে তার পণ্যের চাহিদা বেড়ে যাওয়ায় তার স্বামীও তাকে সহযোগিতা করেন। তিনি অধিক উৎপাদনের জন্য অনধিক ১৫ জন মহিলা শ্রমিক নিয়োগ দিয়েছেন। তার প্রতিষ্ঠানটির মূলধন প্রায় ১০ লক্ষ টাকার নিচে। বর্তমানে তার পণ্যের চাহিদা দেশের সীমানা ছাড়িয়ে অন্যান্য দেশেও ব্যাপ্ত।

- ক. কুটির শিল্প কী? ১  
খ. স্বনির্ভরতা অর্জনে শিল্পায়ন জরুরি কেন? ২  
গ. মিস. তাকওয়ার প্রতিষ্ঠানটি কোন ধরনের শিল্প নির্দেশ করে? ব্যাখ্যা কর। ৩  
ঘ. বাংলাদেশের অর্থনৈতিক উন্নয়নে মিস. তাকওয়ার প্রতিষ্ঠিত শিল্পের গুরুত্ব ব্যাখ্যা কর। ৪

- ৫ ▶ 'A' একটি উন্নয়নশীল দেশ। উক্ত দেশটির জনসংখ্যা ও খাদ্য উৎপাদন বৃদ্ধির হার নিচে তালিকা দেওয়া হলো:

বছর	০	২৫	৫০	৭৫	১০০
জনসংখ্যা বৃদ্ধি	১	২	৪	৮	১৬
খাদ্য উৎপাদন বৃদ্ধি	১	২	৩	৪	৫

- ক. কাম্য জনসংখ্যা কী? ১  
খ. “স্বাস্থ্য সেবার সম্প্রসারণ মানবসম্পদ উন্নয়নে সহায়ক”—ব্যাখ্যা কর। ২  
গ. উদ্দীপকের তথ্যের সাথে অর্থনীতির কোন তত্ত্বটি সংগতিপূর্ণ? চিত্র একে ব্যাখ্যা কর। ৩  
ঘ. উদ্দীপকে উল্লিখিত পরিস্থিতিতে 'A' দেশের অর্থনীতি এবং সামাজিক ক্ষেত্রে কী প্রভাব পড়বে বলে তুমি মনে কর? ৪

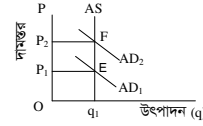
- ৬ ▶ ২০২৪ সালের মধ্য সময়ে 'ক' দেশের মোট জনসংখ্যা ১৭ কোটি, মোট আয়তন ১,৪৭,৫৭০ বর্গকিলোমিটার এবং মোট জীবিত জন্মসংখ্যা ২৫ লক্ষ। উক্ত বছরে ওই দেশে বহিরাগমন ৮০ হাজার এবং বহির্গমন ৪ লক্ষ।

- ক. শূন্য জনসংখ্যা বৃদ্ধি কী? ১  
খ. কীভাবে মৃত্যুহার পরিমাপ করা হয়? ২  
গ. 'ক' দেশের জনসংখ্যার ঘনত্ব ও অশোখিত জন্মহার নির্ণয় কর। ৩  
ঘ. 'ক' দেশের নীট অভিবাসন হারের ভিত্তিতে উক্ত দেশের আর্থসামাজিক অবস্থা সম্পর্কে তোমার মতামত দাও। ৪

- ৭ ▶ মিস. তানিয়া 'ক' দেশের নাগরিক। তার ওয়াশিং মেশিন এবং কম্পিউটার ক্রয় করা প্রয়োজন। বাজারে গিয়ে দেখেন ওয়াশিং মেশিন-এর দাম ২০২০ সালে ছিল ১০০০ ডলার, যা ২০২১ সালে দাঁড়ায় ১২০০ ডলারে এবং কম্পিউটারের দাম একই সময়ে ১১৫০ ডলার থেকে ১৩০০ ডলার হয়। তিনি আরও দেখেন বাজারে অন্যান্য পণ্যের দামও ক্রমাগত বেড়ে চলেছে। তাবিয়ার দেশে নিম্ন আয়ের লোকজন, শ্রমিক শ্রেণি ও সরকার—এ বিষয়ে উৎকণ্ঠায় থাকলেও উৎপাদক শ্রেণি বেশ খুশি আছেন।

- ক. মুদ্রাস্ফীতি কী? ১  
খ. সরকারি ব্যয় বৃদ্ধি মুদ্রাস্ফীতি ঘটায়—ব্যাখ্যা কর। ২  
গ. উদ্দীপকের আলোকে মুদ্রাস্ফীতির হার নির্ণয় কর। ৩  
ঘ. উদ্দীপকে বর্ণিত ক্ষেত্রসমূহে মুদ্রাস্ফীতির প্রভাব বিশ্লেষণ কর। ৪

- ৮ ▶ চিত্রটি লক্ষ কর এবং নিচের প্রশ্নগুলোর উত্তর দাও:



- ক. সূচক সংখ্যা কী? ১  
খ. ব্যাংক হার পরিবর্তনের মাধ্যমে কীভাবে মুদ্রাস্ফীতি লাঘব করা যায়। ২  
গ. চিত্রে কোন ধরনের মুদ্রাস্ফীতি সৃষ্টি হয়েছে? ব্যাখ্যা কর। ৩  
ঘ. উদ্দীপকে সৃষ্ট মুদ্রাস্ফীতি দূরীকরণে কী ধরনের পদক্ষেপ গ্রহণ করা যায়? বিশ্লেষণ কর। ৪

- ৯ ▶ তাহমিন অর্থনীতির ক্লাসে জানতে পারে বৈদেশিক বাণিজ্যের ফলে একটি দেশের বিনিয়োগ, কর্মসংস্থান ও উৎপাদন বৃদ্ধি পায়। সে আরও জানতে পারে বৈদেশি সাহায্য দীর্ঘমেয়াদে পরনির্ভরশীলতা বৃদ্ধি করে কিন্তু বৈদেশিক বাণিজ্য কোনো ক্ষতিকর প্রভাব সৃষ্টি করে না।

- ক. লেনদেন ভারসাম্য কী? ১  
খ. বাণিজ্য না হওয়ার চেয়ে কিছু বাণিজ্য হওয়া ভালো—ব্যাখ্যা কর। ২  
গ. একটি দেশের অর্থনৈতিক উন্নয়নে বৈদেশিক বাণিজ্য কীভাবে ভূমিকা পালন করে? উদ্দীপকের আলোকে ব্যাখ্যা কর। ৩  
ঘ. তুমি কি মনে কর, অর্থনৈতিক উন্নয়নে বৈদেশিক সাহায্যের চেয়ে বৈদেশিক বাণিজ্যই অধিক কার্যকর? উদ্দীপকের আলোকে ব্যাখ্যা কর। ৪

- ১০ ▶ আজিজ স্যার বাজেট বিষয়ক একটি সেমিনারে বক্তব্য রাখছিলেন, এমন সময় একজন শ্রোতা প্রশ্ন করলেন স্যার, রাষ্ট্র পরিচালনার এই বিশাল পরিমাণ অর্থ সরকার কোথা থেকে পায়? জবাবে স্যার বললেন, সরকার জনগণকে নানারকম সেবা দিয়ে ফি গ্রহণ করে, জনগণের বাড়তি আয়ের ওপর কর ধার্য করে, বিভিন্ন দ্রব্য ও সেবার ওপর VAT আরোপ করে। এছাড়াও বিভিন্ন বন্ধুপ্রতীম রাষ্ট্র থেকে সাহায্য এবং দেশীয় ও আন্তর্জাতিক বিভিন্ন প্রতিষ্ঠান থেকে ঋণ গ্রহণ করে। এসব করার পরও অর্থের সংকুলান না হলে সরকার নতুন নোট প্রচলন করে।

- ক. ফি কী? ১  
খ. মূল্য সংযোজন করকে পরোক্ষ কর বলা হয় কেন? ২  
গ. উদ্দীপক হতে সরকারি আয়ের উৎসের একটি তালিকা তৈরি করে। ৩  
ঘ. উদ্দীপকে উল্লিখিত ব্যয় নির্বাহের সর্বশেষ ব্যবস্থা গ্রহণের ফলে অর্থনীতির ওপর কী প্রভাব পড়বে? ব্যাখ্যা কর। ৪

- ১১ ▶ শিক্ষা, স্বাস্থ্য, পরিবহন ও যোগাযোগ বাবদ ব্যয় ও সামাজিক নিরাপত্তা খাতগুলোর আওতায় দুহুদের বিভিন্ন ভাতা বৃদ্ধির কারণে সরকারি ব্যয় দিনের পর দিন বৃদ্ধি পাচ্ছে। এসব ব্যয় নির্বাহের জন্য সরকার দেশের অভ্যন্তরে ব্যক্তিবর্গ ও বিভিন্ন ব্যাংক থেকে ঋণ গ্রহণ করছে। অন্যদিকে, IMFসহ বিভিন্ন সংস্থা ও রাষ্ট্র থেকে ঋণ গ্রহণ করছে।

- ক. আবগারি শুল্ক কী? ১  
খ. প্রত্যক্ষ কর ফাঁকি দেওয়ার প্রবণতা বেশি—ব্যাখ্যা কর। ২  
গ. উদ্দীপকের আলোকে সরকারি ব্যয়ের উদ্দেশ্যসমূহ ব্যাখ্যা কর। ৩  
ঘ. উদ্দীপকে যে দুই ধরনের সরকারি ঋণের কথা বলা হয়েছে তার তুলনামূলক বিশ্লেষণ কর। ৪

## চট্টগ্রাম ক্যান্টনমেন্ট পাবলিক কলেজ

### অর্থনীতি দ্বিতীয় পত্র সৃজনশীল প্রশ্ন

সময়—২ ঘণ্টা ৩০ মিনিট

পূর্ণমান—৭০

**দ্রষ্টব্য :** ডান পাশের সংখ্যা প্রশ্নের পূর্ণমান জ্ঞাপক। প্রদত্ত উদ্দীপকগুলো মনোযোগ সহকারে পড় এবং সংশ্লিষ্ট প্রশ্নগুলোর উত্তর দাও। যে কোনো সাতটি প্রশ্নের উত্তর দিতে হবে।

- ১ ▶ রাকিব ও সাকিব দুই প্রতিবেশী এবং তারা পেশায় কৃষক। রাকিবের জমির পরিমাণ খুবই কম। তিনি পারিবারিক শ্রমের মাধ্যমে চাষাবাদ করে উৎপাদিত ফসল দিয়ে কোনোভাবে পরিবারের ভরণ-পোষণ নির্বাহ করেন। অন্যদিকে সাকিবের জমির পরিমাণ খুবই বেশি। তিনি অত্যাধুনিক প্রযুক্তি ব্যবহার করেন এবং মজুরির বিনিময়ে শ্রমিক নিয়োগ করে চাষাবাদ করেন। তিনি পরিবারের প্রয়োজন মিটিয়ে উদ্বৃত্ত বিপুল পরিমাণ ফসল বাজারে বিক্রি করে মুনাফা অর্জন করেন।

- ক. জৈব প্রযুক্তি কী? ১  
খ. বৈশ্বিক উষ্ণতা ফসল উৎপাদন কমে যাওয়ার কারণ— ব্যাখ্যা করো। ২  
গ. উদ্দীপক অনুযায়ী সাকিবের খামারের প্রকৃতি উল্লেখ করে তার তিনটি বৈশিষ্ট্য লেখ। ৩

- ঘ. উদ্দীপক অনুযায়ী রাকিব ও সাকিবের খামারের তুলনামূলক বিশ্লেষণ করো। ৪  
২ ▶ গণি মিয়া একজন প্রান্তিক কৃষক। তিনি কৃষিক্ষেত্র গ্রহণের উদ্দেশ্যে একটি বাণিজ্যিক ব্যাংকে যান। কিন্তু ঋণ গ্রহণের প্রক্রিয়া জটিল হওয়ায় তিনি ব্যাংক হতে ঋণ গ্রহণ করতে পারেননি। পরবর্তীতে তিনি গ্রাম্য মহাজন, বন্ধু-বান্ধব ও আত্মীয়স্বজনদের নিকট হতে ঋণ গ্রহণ করে সার, বীজ, কীটনাশক ক্রয় করে চাষাবাদ করেন।

- ক. কৃষিপণ্যের বিপণন কী? ১  
খ. 'কৃষকের দারিদ্র্য কৃষিপণ্য বিপণনের অন্যতম সমস্যা'— ব্যাখ্যা করো। ২  
গ. উদ্দীপক অনুযায়ী কৃষিক্ষেত্রের শ্রেণিবিভাগ কর। ৩  
ঘ. উদ্দীপক অনুসারে বাংলাদেশের কৃষিক্ষেত্রের বিদ্যমান সমস্যাগুলো বিশ্লেষণ করো। ৪

- ৩ ▶ শফিকের অভাবের সংসার মোট সদস্য ৮ জন। শফিক খুবই সামান্য পারিবারিক সঞ্চয় এবং গ্রামের একটি NGO হতে অল্প কিছু ঋণ নিয়ে তাঁতের লুঙ্গি, গামছা, রুমাল, মাফলার তৈরি করেন। এ কাজে তাকে পরিবারের অন্য সদস্যরাও সহায়তা করে। এসব পণ্যের উৎপাদন খরচ কম হওয়ায় মাফিক NGO হতে আর কিছু ঋণ নিয়ে বেত ও বাঁশের পণ্য উৎপাদন শুরু করেন। এতে তার পরিবারের সদস্যদের কর্মসংস্থানের পাশাপাশি আর্থিক সচ্ছলতা অর্জিত হয়।

- ক. শিল্প কাকে বলে? ১  
খ. ক্ষুদ্র ও কুটির শিল্প কীভাবে আলাদা? ব্যাখ্যা করো। ২  
গ. উদ্দীপক অনুযায়ী শফিকের পরিবারের উদ্যোগে পরিচালিত শিল্পের প্রকৃতি উল্লেখপূর্বক বৈশিষ্ট্য লেখ। ৩  
ঘ. উদ্দীপকে বর্ণিত শিল্পটির নাম লেখ এবং উক্ত শিল্পে বিদ্যমান সমস্যাসমূহ বিশ্লেষণ করো। ৪

- ৪ ▶ মি. দিদার একটি শিল্পপ্রতিষ্ঠান পরিচালনা করেন। তার শিল্পের ৮০% শ্রমিকই নারী। তার শিল্প এবং একই রকম অন্যান্য প্রতিষ্ঠানের উৎপাদন আমাদের দেশের বৈদেশিক মুদ্রা অর্জনে সবচেয়ে বেশি অবদান রাখছে। তবে শিল্পটির কাঁচামালের অপ্রতুলতা, দক্ষ-শ্রমিকের অভাব, নিরবচ্ছিন্ন বিদ্যুৎ সরবরাহে অনিশ্চয়তা, শ্রমিক অসন্তোষ, সময়মতো বিদেশি ক্রেতাদের নিকট পণ্য পৌঁছাতে না পারা, ব্র্যান্ডিং সমস্যা ইত্যাদি চ্যালেঞ্জ হিসেবে দেখা দিয়েছে।

- ক. হাইটেক শিল্প কী? ১  
খ. আমদানি বিকল্প শিল্প কীভাবে দেশীয় অর্থনীতিকে সহায়তা করে— ব্যাখ্যা করো। ২  
গ. উদ্দীপকে বর্ণিত শিল্পটির নাম উল্লেখ করে শিল্পটির বিদ্যমান সমস্যাগুলো ব্যাখ্যা করো। ৩  
ঘ. উদ্দীপকে বর্ণিত শিল্পটির সমস্যা সমাধানের সম্ভাব্য উপায়গুলো বিশ্লেষণ করো। ৪

- ৫ ▶ 'ক' দেশের আয়তন ১,৪৭,০০০ বর্গ কি.মি। ২০২০ সালের মধ্যবর্তী সময়ে দেশটির জনসংখ্যা ছিল ১৮,০০,০০০ জন। উক্ত বছরে দেশটিতে মোট জীবিত জন্মসংখ্যা ৫০,০০,০০০ জন এবং মোট মৃত্যুসংখ্যা ৩০,০০,০০০ জন।

- ক. আত্মকর্মসংস্থান কী? ১  
খ. শিক্ষা ও প্রশিক্ষণ কীভাবে মানব সম্পদ উন্নয়নে সহায়ক— ব্যাখ্যা করো। ২  
গ. উদ্দীপকের তথ্য ব্যবহার করে স্থূল জন্মহার ও স্থূল মৃত্যুহার নির্ণয় কর। ৩  
ঘ. উদ্দীপকে দেশটির জনসংখ্যার ঘনত্ব নির্ণয় কর। দেশটি জনবহুল হলে তার সমাধানের উপায় বর্ণনা কর। ৪

- ৬ ▶ 'খ' দেশের জনসংখ্যা ও মাথাপিছু আয় সম্পর্কিত তথ্য নিম্নরূপ:

নির্দেশক বিন্দু	মোট জনসংখ্যা (কোটি)	মাথাপিছু আয় (ডলার)
A	৬	২০০০
B	১২	৩০০০
C	১৮	২০০০

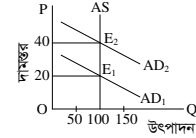
- ক. নিট অভিবাসন কী? ১  
খ. ভূপ্রকৃতি জনসংখ্যার একটি গুরুত্বপূর্ণ নির্ধারক— ব্যাখ্যা করো। ২  
গ. উদ্দীপকের তথ্যগুলো জনসংখ্যার কোন তত্ত্বের সাথে সামঞ্জস্যপূর্ণ? চিত্রের সাহায্যে ব্যাখ্যা করো। ৩  
ঘ. উদ্দীপকে কোন বিন্দুর সাথে তোমার দেশের জনসংখ্যা পরিস্থিতি সামঞ্জস্যপূর্ণ? বিশ্লেষণ করো। ৪

- ৭ ▶ 'গ' দেশের ভিত্তি বছরের দুটি দ্রব্যের দাম ও পরিমাণ এবং বর্তমান বছরের দামের তথ্য নিম্নরূপ:

ভোগ্য দ্রব্য	ভিত্তি বছরের পরিমাণ (Q <sub>০</sub> )	ভিত্তি বছরের দাম (P <sub>০</sub> )	বর্তমান বছরের দাম (P <sub>১</sub> )
চাল	৩০	৫০	৬০
আলু	১০	২০	৩০

- ক. সূচক সংখ্যা কী? ১  
খ. 'মুদ্রাস্ফীতি সবসময় খারাপ নয়'— ব্যাখ্যা করো। ২  
গ. উদ্দীপকের ভিত্তিতে মুদ্রাস্ফীতির হার নির্ণয় কর। ৩  
ঘ. মুদ্রাস্ফীতি নিয়ন্ত্রণে উদ্দীপকে গৃহীত নীতি দুটি মূল্যায়ন কর। ৪

- ৮ ▶ নিচের চিত্রটির প্রেক্ষিতে সংশ্লিষ্ট প্রশ্নগুলোর উত্তর দাও:



- ক. মুদ্রাস্ফীতি কী? ১  
খ. মুদ্রাস্ফীতির সময় ঋণগ্রহীতা লাভবান হয়— ব্যাখ্যা করো। ২  
গ. উদ্দীপকের E<sub>1</sub> থেকে E<sub>2</sub> তে মুদ্রাস্ফীতির পরিমাণ নির্ণয় কর। ৩  
ঘ. উদ্দীপকে সৃষ্ট মুদ্রাস্ফীতি নিয়ন্ত্রণে ২টি আর্থিক নীতি ও ২টি রাজস্ব নীতি সুপরিশ কর। ৪

- ৯ ▶ বাংলাদেশ বিভিন্ন দেশে জুতা, সিরামিক সামগ্রী, কাঁচা পাট, হিমায়িত খাদ্য, হস্তশিল্পজাত দ্রব্য, চামড়া ও চামড়া জাত দ্রব্য, তৈরি পোশাক, শাক-শবাজ, ফলমূল, কাগজ, নিউজপ্রিন্ট ইত্যাদি রপ্তানি করে। সাম্প্রতিককালে বাংলাদেশের অপ্রচলিত পণ্য রপ্তানি ক্রমশ বাড়ছে। সরকার রপ্তানি বৃদ্ধির জন্য কর অবকাশ, বিশেষ সুবিধা, রপ্তানি ঋণ, ইপিজেড স্থাপন, বাণিজ্য মেলায় আয়োজন ও অংশগ্রহণ এবং কূটনৈতিক উদ্যোগ গ্রহণসহ বিভিন্ন ব্যবস্থা নিয়েছে।

- ক. বিশ্বায়ন কী? ১  
খ. অভ্যন্তরীণ বাণিজ্য ও আন্তর্জাতিক বাণিজ্য কীভাবে আলাদা? ব্যাখ্যা করো। ২  
গ. উদ্দীপক থেকে বাংলাদেশের প্রচলিত ও অপ্রচলিত রপ্তানি দ্রব্যের পৃথক তালিকা প্রস্তুত কর। ৩  
ঘ. রপ্তানি বৃদ্ধিতে সরকারের গৃহীত পদক্ষেপসমূহ কতটুকু কার্যকর মূল্যায়ন কর। ৪

- ১০ ▶ বাংলাদেশ সরকার রাজস্ব আদায়ের জন্য আয়কর, বিক্রয় কর, মূল্য সংযোজন কর, আবগারি শুল্ক, আমদানি শুল্ক, টোল, ফি, জরিমানা, অনুদান ইত্যাদি বিভিন্ন খাত থেকে আয় করে থাকে। এছাড়াও বাজেট ঘাটতি মেটানোর জন্য সরকার বিভিন্ন অভ্যন্তরীণ ও বাহ্যিক উৎস থেকে ঋণ গ্রহণ করে থাকে।

- ক. কর কী? ১  
খ. কর ও ফি কীভাবে আলাদা? ব্যাখ্যা করো। ২  
গ. উদ্দীপক হতে কর রাজস্ব ও অকর রাজস্বের খাতগুলো চিহ্নিত কর। ৩  
ঘ. বাজেট ঘাটতি মেটানোর জন্য গৃহীত ঋণের উৎস দুটির মধ্যে কোনটি দেশের জন্য উত্তম? বিশ্লেষণ করো। ৪

- ১১ ▶ বাংলাদেশের রপ্তানি ও আমদানি পরিস্থিতি নিম্নরূপ:

আমদানি ব্যয় (মি. মার্কিন ডলার)	রপ্তানি আয় (মি. মার্কিন ডলার)
২০১০-১১	২০১১-১২
২০১০-১১	২০১১-২০১২
৩৩,৬৫৮	৩৫,৫১৬
২২,৯২৪	২৪,৩০২

- ক. বৈদেশিক অনুদান কী? ১  
খ. 'উদ্বৃত্ত পণ্য রপ্তানি বাণিজ্যের অন্যতম ভিত্তি'— ব্যাখ্যা করো। ২  
গ. বাংলাদেশের আমদানি-রপ্তানি বাণিজ্যের স্তম্ভচিত্র অঙ্কন কর। ৩  
ঘ. উদ্দীপকের আলোকে বাংলাদেশের আন্তর্জাতিক বাণিজ্যের গতিধারা বিশ্লেষণ করো। ৪

## জালালাবাদ ক্যান্টনমেন্ট পাবলিক স্কুল এন্ড কলেজ, সিলেট

সময়-২ ঘণ্টা ৩০ মিনিট

অর্থনীতি দ্বিতীয় পত্র সৃজনশীল প্রশ্ন

পূর্ণমান-৭০

দ্রষ্টব্য : ডান পাশের সংখ্যা প্রশ্নের পূর্ণমান জ্ঞাপক। প্রদত্ত উদ্দীপকগুলো মনোযোগ সহকারে পড় এবং সংশ্লিষ্ট প্রশ্নগুলোর উত্তর দাও। যে কোনো সাতটি প্রশ্নের উত্তর দিতে হবে।

- ১ ▶ রফিক তার বাড়ি বন্ধক রেখে স্থানীয় কৃষি ব্যাংক থেকে ঋণ নিয়ে বাড়িতে বাঁশ ও বেতের দ্বারা বিভিন্ন দ্রব্যসামগ্রী তৈরির কাজ শুরু করে। তাকে এ কাজে পরিবারের সদস্যরা সাহায্য করে। সে স্থানীয় বাজারে উৎপাদিত দ্রব্য বিক্রয় করে মুনাফা অর্জন করে। এতে ঋণ পরিশোধের পরেও তার পরিবারের সচলতা ফিরে আসে।

- ক. রণানিমুখী শিল্প কী? ১  
খ. আমদানি বিকল্প শিল্পের ২টি বৈশিষ্ট্য আলোচনা কর। ২  
গ. উদ্দীপকের রফিকের উৎপাদনকে কোন ধরনের শিল্প বলা হয়? ব্যাখ্যা কর। ৩  
ঘ. বাংলাদেশের অর্থনীতিতে উদ্দীপকে উল্লিখিত শিল্পের গুরুত্ব বিশ্লেষণ কর। ৪

- ২ ▶ রাহাতের দেশে যুগোপযোগী শিক্ষা ও প্রশিক্ষণের ব্যবস্থা না থাকায় অধিকাংশ জনগণের গুণগত মান অত্যন্ত নিম্ন। বেশিরভাগ মানুষই অস্বাস্থ্যকর পরিবেশে বসবাস করে। এ কারণে একদিকে যেমন স্বাস্থ্যহানি ঘটছে, অন্যদিকে তাদের নিম্ন মাথাপিছু আয় ও অশিক্ষা, জন্মহার বৃদ্ধিসহ নানা সমস্যার সৃষ্টি করেছে। বর্তমানে সরকার বাধ্যতামূলক প্রাথমিক শিক্ষা, স্বাস্থ্য সুবিধা বৃদ্ধি, নারী ক্ষমতায়নসহ বিভিন্ন পদক্ষেপ গ্রহণ করায় অবস্থার কিছুটা উন্নতি হচ্ছে।

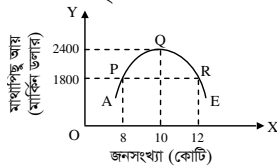
- ক. মানবসম্পদ উন্নয়ন কী? ১  
খ. শিক্ষা ও প্রশিক্ষণ কীভাবে মানবসম্পদ উন্নয়নে সহায়তা করে? ২  
গ. রাহাতের দেশটিতে জনসংখ্যার যে বৈশিষ্ট্য ফুটে উঠেছে উদ্দীপকের আলোকে তা ব্যাখ্যা কর। ৩  
ঘ. উদ্দীপকে উল্লিখিত মানবসম্পদ উন্নয়নে সরকারের গৃহীত পদক্ষেপসমূহের মূল্যায়ন কর। ৪

- ৩ ▶ জনসংখ্যা ও খাদ্য উৎপাদন বৃদ্ধিসংক্রান্ত নিচের ছকটি লক্ষ কর :

বছর	০	২৫	৫০	৭৫	১০০
জনসংখ্যা বৃদ্ধির হার	১০	২০	৪০	৮০	১৬০
খাদ্য উৎপাদন বৃদ্ধির হার	১০	২০	৩০	৪০	৫০

- ক. স্ব-কর্মসংস্থান বলতে কী বোঝায়? ১  
খ. ভূপ্রকৃতি দ্বারা জনসংখ্যা বৃদ্ধি কীভাবে প্রভাবিত হয়? ২  
গ. উদ্দীপকে প্রদর্শিত জনসংখ্যা ও খাদ্য উৎপাদন বৃদ্ধির হারের সম্পর্কটি জনসংখ্যা সম্পর্কিত কোন তথ্যের সাথে সামঞ্জস্যপূর্ণ? আলোচনা কর। ৩  
ঘ. উদ্দীপকে বর্ণিত জনসংখ্যা তত্ত্বটি বাংলাদেশের ক্ষেত্রে কতটুকু প্রাসঙ্গিক? আলোচনা কর। ৪

- ৪ ▶ জনসংখ্যা ও খাদ্য উৎপাদন বৃদ্ধিসংক্রান্ত নিচের ছকটি লক্ষ কর :



- ক. অশোভিত জন্মহার কী? ১  
খ. জনসংখ্যা বৃদ্ধি বৈদেশিক বাণিজ্যের ওপর কীভাবে প্রভাব ফেলে? ২  
গ. উদ্দীপকে উল্লিখিত জনসংখ্যা তত্ত্বটি ব্যাখ্যা কর। ৩  
ঘ. বাংলাদেশের জনসংখ্যা কাম্য কী? উদ্দীপকের তত্ত্বের আলোকে ব্যাখ্যা কর। ৪

- ৫ ▶ সোহাগ হোসেন একজন প্রান্তিক চাষি। তার জমিতে প্রতিবছর বারবার এক ফসল ফলানোর কারণে উৎপাদন কম হয়। ফলে তার পরিবারে অভাব-অনটন লেগেই থাকে। এমতাবস্থায় কৃষি ব্লক সুপারভাইজারের পরামর্শ নিয়ে আত্মীয়-স্বজন, বন্ধু-বান্ধব, গ্রাম্য-মহাজনের নিকট ঋণ না নিয়ে ব্যাংক থেকে কৃষিঋণ নেয় এবং একই জমিতে এখন তিন ফসল ফলায়। প্রথমে সরিষা, তারপর পাট অবশেষে ধান চাষ করে। এতে তার পরিবারে সচ্ছলতা ফিরে আসে।

- ক. শস্য বহুমুখীকরণ কাকে বলে? ১  
খ. কৃষি খামার ও কৃষি জোত কি একই? ২  
গ. উদ্দীপকে সোহাগ হোসেনের কৃষি উৎপাদন কার্যক্রম কোন ধরনের? ব্যাখ্যা কর। ৩  
ঘ. সোহাগ হোসেন ব্যাংক ছাড়া অন্য কোন উৎস থেকে ঋণ গ্রহণ করতে পারত কি? বিশ্লেষণ কর। ৪

- ৬ ▶ জামিল সাহেব ইংল্যান্ড থেকে বাংলাদেশে বেড়াতে এসেছে। সে সিলেটের আড়ু-এ বাজার করতে এসে বিভিন্ন ক্ষুদ্র ও কুটির শিল্পের পণ্যসমূহ দেখে মুগ্ধ হয়। পণ্যসমূহ দামে সস্তা কিন্তু আকর্ষণীয় ডিজাইনের। জামিল সাহেব জানতে পারে, যারা এগুলো উৎপাদন করে তারা খুব গরিব এবং কষ্টে জীবনযাপন করে। এত সে খুব কষ্ট অনুভব করে।

- ক. শিল্প কাকে বলে? ১  
খ. ক্ষুদ্র ও কুটির শিল্পের মধ্যে ২টি পার্থক্য লেখ। ২  
গ. উদ্দীপকের উল্লিখিত শিল্পের সমস্যাসমূহ লেখ। ৩  
ঘ. উদ্দীপকের উল্লিখিত শিল্পের উন্নয়নের মাধ্যমে বাংলাদেশের প্রচুর বৈদেশিক মুদ্রা অর্জন করতে পারে, বিশ্লেষণ কর। ৪

- ৭ ▶ নিচের ছকটি লক্ষ কর এবং প্রশ্নগুলোর উত্তর দাও :

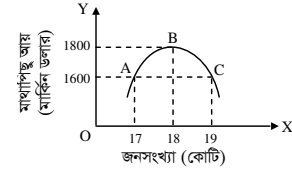
পণ্যের ধরন	২০২১-২২	২০২২-২৩	২০২৩-২৪
প্রাথমিক পণ্য	১৩০৫ কোটি টাকা	১২৪৭ কোটি টাকা	৮৯৮ কোটি টাকা
শিল্পজাত পণ্য	৩২৯৭৪ কোটি টাকা	৩৩৫৭৬ কোটি টাকা	২৩৬০৮ কোটি টাকা

- ক. অভ্যন্তরীণ বাণিজ্য কী? ১  
খ. দুটি দেশের মধ্যে বাণিজ্য হয় কেন? ব্যাখ্যা কর। ২  
গ. উদ্দীপকের আলোকে রণানি বাণিজ্যের লেখচিত্র অঙ্কন কর। ৩  
ঘ. উদ্দীপকের আলোকে রণানি বাণিজ্যের গতিধারার ওপর মন্তব্য কর। ৪

- ৮ ▶ বাংলাদেশ সরকার স্বাধীনতার পর থেকে বেশ কিছু গুরুত্বপূর্ণ কর্মসূচি হাতে নিয়েছে। সরকার খনিজ সম্পদ আহরণ করেছে। শিক্ষা, স্বাস্থ্য ও কৃষিখাতকে উন্নত করার প্রয়াস চলছে। কারিগরি জ্ঞান, প্রশিক্ষণ, পর্যাপ্ত ঋণ প্রদানসহ শিল্পায়নের উপযুক্ত পরিবেশ সৃষ্টিতে সরকার ত্রুমাগত ভূমিকা রেখে চলছে। এতে করে রণানি বৃদ্ধি পাচ্ছে।

- ক. আন্তর্জাতিক বাণিজ্য বলতে কী বোঝায়? ১  
খ. 'বৈদেশিক সাহায্যের তুলনায় বৈদেশিক বাণিজ্য উত্তম' - ব্যাখ্যা কর। ২  
গ. উদ্দীপকে উল্লিখিত কর্মসূচি দেশের রণানি বাণিজ্য সম্প্রসারণে কীভাবে ভূমিকা রাখছে? ব্যাখ্যা কর। ৩  
ঘ. দেশের রণানি বৃদ্ধিতে আর কী কী করা যেতে পারে? যুক্তিসহকারে উত্তর দাও। ৪

- ৯ ▶

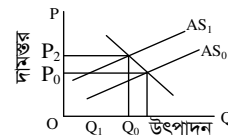


- ক. শূন্য জনসংখ্যা বৃদ্ধি কী? ১  
খ. জলবায়ু পরিবর্তনের মাধ্যমে জনসংখ্যা বৃদ্ধি কীভাবে প্রভাবিত হয়? ব্যাখ্যা কর। ২  
গ. উদ্দীপকের চিত্রটি জনসংখ্যার কোন তত্ত্বকে নির্দেশ করে? ব্যাখ্যা কর। ৩  
ঘ. উদ্দীপকের কাম্য জনসংখ্যা কত ও কেন? বাংলাদেশের জনসংখ্যা পরিস্থিতি কোন বিন্দুর সাথে সংগতিপূর্ণ? উদ্দীপকের আলোকে বিশ্লেষণ কর। ৪

- ১০ ▶ মি. রুমন একজন জনসংখ্যা গবেষক। দেশের জনাধিক্য সমস্যা নিয়ে বলতে গিয়ে তিনি বলেন, অধিক জনসংখ্যা একটি দেশের খাদ্য ঘাটতিসহ নানাবিধ আর্থসামাজিক সমস্যার সৃষ্টি করে। কিন্তু নিয়ন্ত্রিত জনসংখ্যাকে শিক্ষা, স্বাস্থ্য, প্রশিক্ষণ সুবিধা প্রদানের মাধ্যমে জনসম্পদে পরিণত করা গেলে তা দেশের অর্থনৈতিক উন্নয়নকে ত্বরান্বিত করে। তার মতে, জনসংখ্যা একটি দেশের জন্য শুধু অভিশাপই নয় বরং আশীর্বাদও বটে। প্রয়োজন শুধু জনসংখ্যার কার্যকর ব্যবস্থাপনা।

- ক. জনসংখ্যার ঘনত্ব কী? ১  
খ. "জনসংখ্যা বৃদ্ধি পরিবেশ দূষণ ঘটায়" - ব্যাখ্যা কর। ২  
গ. অধিক জনসংখ্যা কী কী আর্থসামাজিক সমস্যা সৃষ্টি করে? বাংলাদেশের প্রেক্ষাপটে ব্যাখ্যা কর। ৩  
ঘ. জনসংখ্যা শুধু অভিশাপ নয় বরং আশীর্বাদও বটে" - উদ্দীপকের আলোকে ব্যাখ্যা কর। ৪

- ১১ ▶



- ক. মুদ্রাস্ফীতি কী? ১  
খ. "সরকারি ব্যয় বৃদ্ধি পেলে মুদ্রাস্ফীতি ঘটে" কেন? ব্যাখ্যা কর। ২  
গ. উদ্দীপকে কোন ধরনের মুদ্রাস্ফীতি দেখানো হয়েছে? ব্যাখ্যা কর। ৩  
ঘ. চিত্রে সামগ্রিক যোগান রেখা AS0 থেকে AS1 রেখায় স্থানান্তরের সম্ভাব্য কারণসমূহ লেখ। ৪

## অমৃত লাল দে মহাবিদ্যালয়, বরিশাল

### অর্থনীতি দ্বিতীয় পত্র ❖ সৃজনশীল প্রশ্ন

পূর্ণমান-৭০

সময়-২ ঘণ্টা ৩০ মিনিট

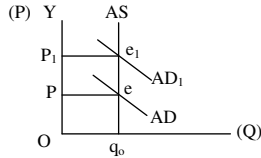
**দ্রষ্টব্য :** ডান পাশের সংখ্যা প্রশ্নের পূর্ণমান জ্ঞাপক। প্রদত্ত উদ্দীপকগুলো মনোযোগ সহকারে পড় এবং সংশ্লিষ্ট প্রশ্নগুলোর উত্তর দাও। যে কোনো সাতটি প্রশ্নের উত্তর দিতে হবে।

- ১ ▶ অর্থনীতির ক্লাসে স্যার বলেন, বাংলাদেশের কৃষি অনেকটাই প্রকৃতি নির্ভর। প্রাকৃতিক দুর্যোগ, তাপমাত্রা বৃদ্ধি, পানি স্তরের নিম্নমুখিতা, নদী-নালায় নাব্যতার অভাব ইত্যাদি কারণে এদেশে কৃষি উৎপাদন ব্যাহত হচ্ছে। এ সমস্যা সমাধানে সরকারি ও বেসরকারি পর্যায়ে জলবায়ু উপযোগী প্রযুক্তির উদ্ভাবন, জীববৈচিত্র্য সংরক্ষণ প্রকল্প, বনায়ন প্রকল্পের ন্যায় বেশকিছু পদক্ষেপ গ্রহণ ও বাস্তবায়ন করা হচ্ছে।
- ক. কৃষি খামার কী? ১
- খ. কৃষকরা প্রাতিষ্ঠানিক ঋণ কম পায় কেন? ২
- গ. উদ্দীপকে উল্লিখিত বিষয়গুলো কৃষিতে কীভাবে প্রভাবিত কর? ব্যাখ্যা কর। ৩
- ঘ. উল্লিখিত পদক্ষেপগুলো পরিবেশ দূষণে কীরূপ প্রভাব থেকে কৃষিকে রক্ষার জন্য কি যথেষ্ট? মতামত বিশ্লেষণ কর। ৪
- ২ ▶ বাংলাদেশে 'ক' শিল্পটির যাত্রা শুরু হয় ১৯৭৬ সালে। বর্তমানে শিল্পটিতে ৫০ লক্ষ শ্রমিক কর্মরত রয়েছে। অনগ্রসর নারীদের কর্মসংস্থান এবং রপ্তানি বাণিজ্যের উন্নয়নের ক্ষেত্রে 'ক' শিল্পটি গুরুত্বপূর্ণ ভূমিকা পালন করেছে। এই শিল্পটি বাংলাদেশের অর্থনীতিতে নতুন সম্ভাবনা সৃষ্টি করেছে।
- ক. মাইক্রো শিল্প কী? ১
- খ. আমদানি বিকল্প শিল্প দেশীয় শিল্পকে সংরক্ষণ করে— ব্যাখ্যা কর। ২
- গ. উদ্দীপকে 'ক' দ্বারা নির্দেশিত শিল্পের বর্তমান অবস্থা বাংলাদেশের প্রেক্ষিতে ব্যাখ্যা কর। ৩
- ঘ. “বাংলাদেশের অর্থনীতিতে ‘ক’ শিল্পের গুরুত্ব অপরিসীম”— বিশ্লেষণ কর। ৪
- ৩ ▶ 'X' একটি উন্নয়নশীল দেশ। নিচের ছকে 'X' দেশের জনসংখ্যা ও খাদ্য উৎপাদনের পরিমাণ উল্লেখ করা হলো :

বছর	১৯০০	১৯২৫	১৯৫০	২০০০
জনসংখ্যা	১	২	৪	১৬
খাদ্য উৎপাদন	১	২	৩	৫

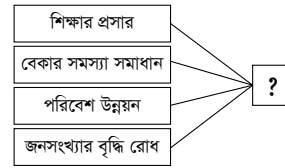
- ক. নিট অভিবাসন কী? ১
- খ. আত্মকর্মসংস্থান দারিদ্র্য দূরীকরণে সহায়ক— ব্যাখ্যা কর। ২
- গ. উদ্দীপকে 'X' দেশের সাথে অর্থনীতিতে আলোচ্য কোন তত্ত্বটি সামঞ্জস্যপূর্ণ? ব্যাখ্যা কর। ৩
- ঘ. উদ্দীপকের যে তত্ত্বটির কথা বলা হয়েছে তা বাংলাদেশের প্রেক্ষিতে কতটুকু কার্যকর? বিশ্লেষণ কর। ৪

- ৪ ▶ নিচের চিত্রটি লক্ষ কর এবং সংশ্লিষ্ট প্রশ্নগুলোর উত্তর দাও:



- ক. ভোক্তার মূল্যসূচক কী? ১
- খ. মুদ্রাস্ফীতির সাথে অর্থের মূল্যের কী ধরনের সম্পর্ক রয়েছে? ব্যাখ্যা কর। ২
- গ. উদ্দীপকে দাম P থেকে P<sub>1</sub>-তে পরিবর্তনের কারণগুলো ব্যাখ্যা কর। ৩
- ঘ. তুমি কি মনে কর, আর্থিক নীতি দামস্তর P<sub>1</sub> থেকে P-তে নিয়ন্ত্রণের জন্য যথেষ্ট? উত্তরের সপক্ষে যুক্তি দাও। ৪
- ৫ ▶ বিশ্বায়ন ধারণার সাথে আমাদের পরিচিত ঘটে নব্বই দশকের শেষদিকে। বিশ্বায়ন বলতে সারা বিশ্বে পণ্য ও পুঁজির আবাধ প্রবাহকে বোঝায়। এর ফলে একদিকে যেমন বৈশ্বিক অর্থনীতির বিভিন্ন খাতে ব্যবসায় সম্প্রসারণ ও বাজার গতিশীলতা বৃদ্ধি পায় অন্যদিকে এর নেতিবাচক প্রভাবে অর্থনৈতিক সাংস্কৃতিক আঘাসনসহ সমাজের নৈতিক অবক্ষয় সৃষ্টি হয়।
- ক. আন্তর্জাতিক বাণিজ্য কী? ১
- খ. “বৈদেশিক সাহায্য বাংলাদেশের জন্য আবশ্যিক”— ব্যাখ্যা কর। ২
- গ. বিশ্বায়নের ফলে আন্তর্জাতিক বাণিজ্যের গতিশীলতা বৃদ্ধি পেয়েছে— উদ্দীপকের আলোকে ব্যাখ্যা কর। ৩
- ঘ. উদ্দীপকের আলোকে বাংলাদেশের অর্থনীতিতে বিশ্বায়নের প্রভাব আলোচনা কর। ৪
- ৬ ▶ সরকারকে রাষ্ট্র পরিচালনার জন্য প্রত্যক্ষ ও পরোক্ষ কর, নানা রকম ফি প্রভৃতি উৎস থেকে অর্থ সংগ্রহ করতে হয় এবং রাষ্ট্রের বিভিন্ন উন্নয়নমূলক কার্যের জন্য বিপুল পরিমাণ অর্থ ব্যয় করতে হয়। এছাড়াও বর্তমানে সরকার দেশের অভ্যন্তরে জনসাধারণ, ব্যাংক অথবা অন্য কোনো দেশের সরকার, আন্তর্জাতিক বিভিন্ন প্রতিষ্ঠান থেকে ঋণ গ্রহণ করে থাকে।

- ক. কর কাকে বলে? ১
- খ. আয়করকে প্রত্যক্ষ কর বলা হয় কেন? ২
- গ. উদ্দীপকের আলোকে বাংলাদেশ সরকারের আয়ের উৎসবগুলোর বিবরণ দাও। ৩
- ঘ. সরকারের ঋণগ্রহণের মাধ্যমে ব্যয় নির্বাহের অসুবিধা সম্পর্কে তোমার মতামত দাও। ৪
- ৭ ▶ পিতার মৃত্যুর পর পৈত্রিক এক বিধা জমি, বাবার ঋণ এবং মা ও চার ভাই-বোন নিয়ে করিম মিয়ার কর্মজীবন শুরু হয়। কৃষিকাজে বীজ, সার ও অন্যান্য উপকরণ কেনার জন্য প্রায়ই তাকে ঋণ গ্রহণ করতে হয়, তার ওপর প্রাকৃতিক দুর্যোগ লেগেই আছে। বোনের বিয়ের জন্য তাকে অনেক টাকা ঋণ করতে হয়।
- ক. শস্য বহুমুখীকরণ কাকে বলে? ১
- খ. “বৈশ্বিক উষ্ণতা বৃদ্ধি কৃষির ওপর নেতিবাচক প্রভাব ফেলে”— ব্যাখ্যা কর। ২
- গ. উদ্দীপকের ভিত্তিতে করিম মিয়া যে ঋণগুলো নিয়েছে তা বর্ণনা কর। ৩
- ঘ. করিম মিয়ার মতো কৃষকরা সময়ের ভিত্তিতে যেসব কৃষি ঋণ সাধারণত গ্রহণ করে সেগুলোর ব্যাখ্যা কর। ৪
- ৮ ▶ সাফওয়ান এমন একটি শিল্প প্রতিষ্ঠান গড়ে তুলেছে, যার প্রয়োজনীয় কাঁচামাল বিদেশ থেকে আমদানি করতে হয় বলে মুনাফার পরিমাণ কম হয় এবং সঠিক সময়ে সে উৎপাদিত দ্রব্য শিপমেন্ট দিতে পারে না। ওই অসুবিধা দূরীকরণের জন্য সাফওয়ান ওই প্রতিষ্ঠানে ব্যবহৃত কাঁচামাল দেশের ভিতরে উৎপাদন করার সিদ্ধান্ত গ্রহণ করল।
- ক. মাঝারি শিল্প কী? ১
- খ. কর্মসংস্থান বৃদ্ধিতে PPP-এর ভূমিকা কী? ২
- গ. সাফওয়ানের প্রতিষ্ঠান যে শিল্পের অন্তর্ভুক্ত তার বৈশিষ্ট্য বর্ণনা কর। ৩
- ঘ. বাংলাদেশের অর্থনীতিতে সাফওয়ানের প্রতিষ্ঠানটির ভূমিকা মূল্যায়ন কর। ৪
- ৯ ▶ চিত্রটি লক্ষ কর :



- ক. কাম্য জনসংখ্যা কী? ১
- খ. “অধিক জনসংখ্যা বাংলাদেশের প্রধান সমস্যা”— কেন? ২
- গ. প্রদত্ত ছকের ‘?’ চিহ্নিত স্থানে কোন বিষয়টি নির্দেশিত হয়েছে? ব্যাখ্যা কর। ৩
- ঘ. উক্ত বিষয়টি বাংলাদেশের প্রেক্ষাপটে যথেষ্ট গুরুত্বপূর্ণ— বিশ্লেষণ কর। ৪
- ১০ ▶ বাংলাদেশ বাণিজ্য উদারীকরণের ফলে অফুরন্ত শ্রম বাজারকে কাজে লাগিয়ে কাঁচা পাট, চামড়া, নিটওয়্যার ও তৈরি পোশাক, হিমায়িত খাদ্য, সিরামিক দ্রব্য, জুতা, হস্তশিল্পজাত দ্রব্য, ইঞ্জিনিয়ারিং দ্রব্য ও মানবসম্পদ রপ্তানি করেছে। প্রতিবছরই রপ্তানি আয়ের সীমা পূর্বের রেকর্ড অতিক্রম করেছে। আবার খাদ্যশস্য, তৈলবীজ, অপরিশোধিত পেট্রোলিয়াম, সার ক্রিয়াকার, সূতা, স্টেশন ফাইবার, ঔষদ ও মূলধনী দ্রব্য আমদানি করেছে। এভাবে এ দেশের জনগণ উদ্বৃত্ত পণ্য রপ্তানি করে অনুৎপাদিত পণ্য ভোগের সুবিধা নিতে পারছে।
- ক. অভ্যন্তরীণ বাণিজ্য কী? ১
- খ. বৈদেশিক সাহায্য আমাদের পর নির্ভরশীল করে তোলে— ব্যাখ্যা কর। ২
- গ. উদ্দীপকের আলোকে আন্তর্জাতিক বাণিজ্যের সাথে সম্পর্কিত তালিকা প্রস্তুত কর। ৩
- ঘ. বাংলাদেশের অর্থনীতিতে বাণিজ্যের গুরুত্ব উদ্দীপকের আলোকে ব্যাখ্যা কর। ৪
- ১১ ▶ নিচের তথ্য থেকে সংশ্লিষ্ট প্রশ্নগুলোর উত্তর দাও:

ভোগ্য পণ্য	ভিত্তি বছর-২০২২		
	চলতি বছর-২০২৩	চলতি বছর-২০২৩	চলতি বছর-২০২৩
	পরিমাণ (একক)	দাম (প্রতি একক)	দাম (প্রতি একক)
A	40	60	70
B	15	35	40
C	5	100	120
D	10	80	100
E	7	90	110

- ক. ব্যাংক হার কী? ১
- খ. সরকারি ব্যয় কীভাবে মুদ্রাস্ফীতি সৃষ্টি করে? ২
- গ. উদ্দীপকের আলোকে ভোক্তার মূল্যসূচক (CPI) নির্ণয় কর। ৩
- ঘ. মুদ্রাস্ফীতির ফলে সমাজের বিভিন্ন শ্রেণি ও পেশাজীবী মানুষের ওপর কীরূপ প্রভাব পড়ে? বিশ্লেষণ কর। ৪

## রংপুর সরকারি কলেজ

সময়-২ ঘণ্টা ৩০ মিনিট

### অর্থনীতি দ্বিতীয় পত্র ❖ সৃজনশীল প্রশ্ন

পূর্ণমান-৭০

**দ্রষ্টব্য :** ডান পাশের সংখ্যা প্রশ্নের পূর্ণমান জ্ঞাপক। প্রদত্ত উদ্দীপকগুলো মনোযোগ সহকারে পড় এবং সংশ্লিষ্ট প্রশ্নগুলোর উত্তর দাও। যে কোনো সাতটি প্রশ্নের উত্তর দিতে হবে।

১▶ জনাব মানিক একজন প্রান্তিক কৃষক। সনাতন চাষ পদ্ধতি, অদক্ষ পরিদর্শন ব্যবস্থা এবং ব্যবস্থাপনার ত্রুটির কারণে যে ফসল উৎপাদন হয় তার সাহায্যে জীবিকা নির্বাহ কঠিন। ফলে কৃষিকাজের জন্য ফসলের বীজ, কীটনাশক ও সার ত্রুয়ের জন্য আত্মীয়স্বজন, বন্ধু-বান্ধব ও বিভিন্ন এনজিও এবং বিভিন্ন আর্থিক প্রতিষ্ঠান থেকে সুদে ঋণ নিতে হয়। যার ফলে তার আর্থিক অবস্থার উন্নতি হয় না।

- ক. জীবন নির্বাহী খামার কী? ১  
খ. “কৃষক দরিদ্র তাই ফসল বিপণনের সমস্যাও বেশি”— ব্যাখ্যা কর। ২  
গ. উদ্দীপকের আলোকে মানিকের কৃষি খামারের বৈশিষ্ট্য কী ধরনের? ব্যাখ্যা কর। ৩

২▶ বাংলাদেশের রপ্তানি আয়ের সিংহভাগ আসে ‘ক’ শিল্প থেকে। ‘ক’ শিল্প বর্তমানে বাংলাদেশের শিল্পক্ষেত্রে নতুন এক সম্ভাবনার দ্বার উন্মোচন করেছে। অনগ্রসর নারীদের কর্মসংস্থান এবং রপ্তানি বাণিজ্যের উন্নয়নের ক্ষেত্রে শিল্পটি প্রধান ভূমিকা পালন করেছে।

- ক. কুটির শিল্প কী? ১  
খ. শিল্পায়নের মাধ্যমে কীভাবে একটি দেশ স্বনির্ভরতা অর্জন করে? দেখাও? ২  
গ. উদ্দীপকের ‘ক’ দ্বারা কোন ধরনের শিল্পকে নির্দেশ করা হয়েছে? ব্যাখ্যা কর। ৩  
ঘ. তুমি কী মনে কর বাংলাদেশে ‘ক’ শিল্পের সমস্যা রয়েছে? উক্ত সমস্যা সমাধানে তোমার মতামত ব্যক্ত কর। ৪

৩▶ জনাব আবুল কাদের একজন শিক্ষক। তিনি ক্লাসে ছাত্র-ছাত্রীদের দক্ষ মানবসম্পদের গুরুত্ব ব্যাখ্যা করেন। তিনি বলেন, বাংলাদেশে প্রায় ১৬ কোটি লোক বাস করে। কিন্তু এসব লোকের বেশিরভাগই অশিক্ষিত ও নিরক্ষর। এরা সমাজের বোঝা হয়ে থাকছে। তবে এসব লোককে দক্ষ হিসেবে গড়ে তুলতে পারলে তারা সম্পদে পরিণত হবে এবং উন্নয়নে সহায়ক ভূমিকা পালন করতে পারবে।

- ক. মানবসম্পদ বলতে কী বোঝ? ১  
খ. প্রশিক্ষণ কীভাবে মানবসম্পদ তৈরি করে? ব্যাখ্যা কর। ২  
গ. জনাব আবুল কাদের মানবসম্পদ উন্নয়নের গুরুত্ব কীভাবে ব্যাখ্যা করেন? ৩  
ঘ. বাংলাদেশে মানবসম্পদ উন্নয়নে সরকারের গৃহীত পদক্ষেপগুলো তুমি কীভাবে মূল্যায়ন করবে? ৪

৪▶ B একটি উন্নয়নশীল দেশ। নিচে B দেশের জনসংখ্যা ও খাদ্য উৎপাদনের পরিমাণ দেখানো হলো—

সাল	১৯৭৫	২০০০	২০২৫
জনসংখ্যা	৮ কোটি	১৬ কোটি	৩২ কোটি
খাদ্য উৎপাদন	২ একক	৩ একক	৪ একক

- ক. জনসংখ্যার ঘনত্ব কাকে বলে? ১  
খ. মানবসম্পদ উন্নয়নের সাথে স্বাস্থ্য সেবার সম্পর্ক কী? ব্যাখ্যা কর। ২  
গ. উদ্দীপকের তথ্যসমূহ জনসংখ্যার কোন তত্ত্বের সাথে সামঞ্জস্যপূর্ণ? ব্যাখ্যা কর। ৩  
ঘ. উদ্দীপকে উল্লিখিত তত্ত্বটি কী বাংলাদেশের জন্য প্রযোজ্য? তোমার মতামতের সপক্ষে যুক্তি দাও। ৪

৫▶ ফারজানার স্বামী রিকশা চালিয়ে জীবিকা নির্বাহ করে। সড়ক দুর্ঘটনায় তার দুটি পা নষ্ট হয়ে যায়। ফারজানা স্বামী সন্তান নিয়ে দিশেহারা হয়ে পড়ে। এ অবস্থায় একটি NGO থেকে (তিন) হাজার টাকা ঋণ নিয়ে মুড়ি বাজার কাজ শুরু করে এবং স্থানীয় বাজারে মুড়ি বিক্রি করে সংসার চালাতে থাকে।

- ক. শিল্প কী? ১  
খ. শিল্পায়নের মাধ্যমে একটি দেশ কীভাবে স্বনির্ভরতা অর্জন করে? ২  
গ. ফারজানার মুড়ি বাজার কাজটি কোন ধরনের শিল্পের আওতাধীন? উক্ত শিল্পের বৈশিষ্ট্য আলোচনা কর। ৩  
ঘ. উদ্দীপকে উল্লিখিত শিল্প বিকশিত হলে এদেশের বেকারত্ব দূরীকরণে কতটুকু ভূমিকা রাখবে বলে তুমি মনে কর? ৪

৬▶ দেশের শিল্প কলকারখানা গড়ে তোলার লক্ষ্যে সরকার EPZ গঠন, শিল্প ঋণ প্রদান, বিদ্যুৎ সরবরাহ, কারিগরি জ্ঞান প্রসারসহ বিভিন্ন পদক্ষেপ গ্রহণ করেছে। ফলে তৈরি পোশাক, ঔষধ, প্লাস্টিক সামগ্রীসহ বহু পণ্য বিদেশে রপ্তানি হচ্ছে।

- ক. আন্তর্জাতিক বাণিজ্য কাকে বলে? ১  
খ. আন্তর্জাতিক বাণিজ্য সংঘটিত হয় কেন? ২

গ. উদ্দীপকে উল্লিখিত কর্মসূচি রপ্তানি বাণিজ্য সম্প্রসারণে কিরূপ ভূমিকা পালন করছে? ৩

ঘ. দেশের রপ্তানি বাণিজ্য সম্প্রসারণে আর কী কী পদক্ষেপ গ্রহণ করা যেতে পারে? বিশ্লেষণ কর। ৪

৭▶ রায়হানের পিতা একজন প্রান্তিক কৃষক। রায়হান এমএ পাস করে চাকরির পিছনে না ঘুরে অন্যের জমি বর্গা নিয়ে পেয়ারা চাষ করেন। এজন্য সে এনজিও থেকে ঋণ নিল। কৃষি কর্মকর্তরা পরামর্শ দেওয়ায় রায়হানের পেয়ারার ফলনও খুব ভালো হলো। কিন্তু অধিক পরিবহন ব্যয়, বাজার তথ্যের অভাব, দালাল, ফড়িয়া, সংরক্ষণের অভাব ইত্যাদি সমস্যার কারণে সে পেয়ারার ন্যায্য মূল্য পেলেন না।

- ক. কৃষিপণ্য কী? ১  
খ. কৃষি কি জাতীয় উন্নয়নে সহায়ক? ২  
গ. উদ্দীপকের আলোকে কৃষিপণ্য বাজারজাতকরণে কৃষকরা কী ধরনের সমস্যার সম্মুখীন হন? ব্যাখ্যা কর। ৩  
ঘ. উদ্দীপকের আলোকে কৃষিপণ্য বিপণনের সমস্যা সমাধানে সরকারের কী কী পদক্ষেপ গ্রহণ করা দরকার বলে তুমি মনে কর? ৪

৮▶ বাংলাদেশে দ্রুত অর্থনৈতিক উন্নয়ন ও অর্থনৈতিক সমস্যা দূরীকরণের জন্য বিভিন্ন দেশের সাথে যেমন বাণিজ্যিক সম্পর্ক গড়ে তুলছে তেমনি বিদেশি বিভিন্ন দাতাগোষ্ঠী ও সংস্থার কাছ থেকে সাহায্যও গ্রহণ করছে। বিভিন্ন প্রকল্প বাস্তবায়ন, অবকাঠামোগত উন্নয়ন, প্রাকৃতিক সম্পদের সৃষ্টি ব্যবহার, স্বনির্ভরতা অর্জন, দারিদ্র্য বিমোচন, কর্মসংস্থান বৃদ্ধি প্রভৃতি উদ্দেশ্যে এসব সাহায্য গ্রহণ করা হচ্ছে। এভাবে বাংলাদেশ অন্যের সাহায্য ও নিজের চেষ্টায় এগিয়ে যাচ্ছে।

- ক. বৈদেশিক সাহায্য কাকে বলে? ১  
খ. বৈদেশিক বাণিজ্য ও বৈদেশিক সাহায্যের মধ্যে কয়েকটি পার্থক্য লেখ। ২  
গ. বৈদেশিক বাণিজ্য, না বৈদেশিক সাহায্যে কোনটি তুমি অধিক গুরুত্ব দেবে? উদ্দীপকের আলোকে তোমার মতামত ব্যাখ্যা কর। ৩  
ঘ. বৈদেশিক সাহায্য সবসময় পরনির্ভরতা বাড়াই না— ব্যাখ্যা কর। ৪

৯▶ A দেশের ২০১৫ ও ২০২০ সালের ভোগ্যপণ্যের পরিমাণ ও দাম নিম্নরূপ—

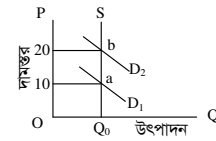
ভোগ্যপণ্য	২০১৫ সালের পরিমাণ	২০১৪ সালের দাম	২০২০ সালের দাম
চাল	১০	৪০	৫০
ডাল	২০	৮০	১০০
তেল	৩০	৬০	৮০

- ক. সূচক সংখ্যা কী? ১  
খ. মুদ্রাস্ফীতি সবসময় খারাপ নয়— ব্যাখ্যা কর। ২  
গ. উদ্দীপকের আলোকে ‘A’ দেশের ভোক্তার মূল্য সূচক নির্ণয় কর। ৩  
ঘ. ‘A’ দেশের মুদ্রাস্ফীতির হার নির্ণয়পূর্বক মানুষের ওপর এর প্রভাব বিশ্লেষণ কর। ৪

১০▶ শিক্ষা, স্বাস্থ্য ও কর্মসংস্থান, পরিবহন ও যোগাযোগ ব্যবস্থার ব্যয় এবং দুহু ও বয়স্ক ভাতাসহ অন্যান্য ভাতা বৃদ্ধির কারণে বাংলাদেশ সরকার ব্যয় ক্রমশ বাড়ছে। এসব ব্যয় নির্বাহের জন্য সরকার অভ্যন্তরীণ ও বৈদেশিক উৎস থেকে ঋণ গ্রহণ করে থাকে।

- ক. পরোক্ষ কর কাকে বলে? ১  
খ. “বৈদেশিক সাহায্যের চেয়ে বৈদেশিক বাণিজ্য উত্তম”— ব্যাখ্যা কর। ২  
গ. উদ্দীপকের আলোকে সরকারি ব্যয়ের উদ্দেশ্য বিশ্লেষণ কর। ৩  
ঘ. উদ্দীপকে উল্লিখিত সরকারি ঋণের দুটি উৎসের মধ্যে কোনটি উত্তম? যুক্তিসহ ব্যাখ্যা কর। ৪

১১▶



- ক. উল্লম্ব মুদ্রাস্ফীতি কী? ১  
খ. “অনুৎপাদনশীল খাতে ব্যয় বৃদ্ধি বাংলাদেশের মুদ্রাস্ফীতি ঘটায়”— ব্যাখ্যা কর। ২  
গ. উদ্দীপকে প্রদত্ত তথ্য হতে মুদ্রাস্ফীতির পরিমাণ নির্ণয় কর। ৩  
ঘ. উদ্দীপকে বৈদেশিক মুদ্রাস্ফীতি রোধে কী কী ব্যবস্থা গ্রহণ করা যেতে পারে বলে তুমি মনে কর? ৪

## শহীদ সৈয়দ নজরুল ইসলাম কলেজ, ময়মনসিংহ

সময়—২ ঘণ্টা ৩০ মিনিট

### অর্থনীতি দ্বিতীয় পত্র সৃজনশীল প্রশ্ন

পূর্ণমান—৭০

**দ্রষ্টব্য :** ডান পাশের সংখ্যা প্রশ্নের পূর্ণমান জ্ঞাপক। প্রদত্ত উদ্দীপকগুলো মনোযোগ সহকারে পড় এবং সংশ্লিষ্ট প্রশ্নগুলোর উত্তর দাও। যে কোনো সাতটি প্রশ্নের উত্তর দিতে হবে।

১ ▶ শরাফ উদ্দিন মিয়া একজন সাধারণ কৃষক। তিনি এ বছর তার জমিতে শুধু ফুলকপি উৎপাদন করেন। ফুলকপির আবাদ খুব ভালো হয়েছে। ফুলকপির দাম কম হওয়ায় এবং বাজার ব্যবস্থা অনুন্নত হওয়ায় গ্রামের হাটে বিক্রি করে দেন, ফলে এ বছর তার খরচ উঠবে না এই ভেবে তার মন খুব খারাপ। অপর দিকে তার প্রতিবেশী কাদের মিয়ার জমিতে ফুলকপির পাশাপাশি করলা, গাজর, পেঁয়াজ ইত্যাদি চাষ করেছেন। যা দেখে তিনি আফসোস করেছেন। কারণ এ বছর ঐ দ্রব্যের দাম বেশি।

- ক. কৃষিতে ভুক্তি কী? ১  
খ. জীবন নির্বাহী খামার ও বাণিজ্যিক খামার দুটি ভিন্ন ধারণা— ব্যাখ্যা করো। ২  
গ. উদ্দীপকে উল্লেখিত শরাফ উদ্দিন মিয়া কেন পণ্যের ন্যায্যমূল্য পান না? ব্যাখ্যা করো। ৩  
ঘ. শরাফ উদ্দিন মিয়া কোন পদ্ধতি অবলম্বন করলে লাভবান হতে পারতেন? ব্যাখ্যা করো। ৪

২ ▶ ২০১৯-২০২০ অর্থবছরে কৃষির উপখাতগুলো হলো শস্য ও শাকসবজি, পশুসম্পদ, বনজসম্পদ ও মৎস্য সম্পদের অবদানের হার (%) যথাক্রমে ১২.০, ২.৫, ২.০ এবং ৪.৫।

- ক. জৈব প্রযুক্তি কী? ১  
খ. কৃষিভিত্তিক শিল্প স্থাপনকে অধাধিকার দেওয়া জরুরি কেন? ২  
গ. ২০১৯-২০২০ অর্থবছর জিডিপিতে কৃষির উপখাতসমূহের অবদান লেখচিত্রের মাধ্যমে দেখাও। ৩  
ঘ. উদ্দীপকের তথ্যের ভিত্তিতে কৃষির উপখাতগুলোর অবদানের গতিধারা এবং অর্থনৈতিক তাৎপর্য বিশ্লেষণ করো। ৪

৩ ▶ মি. শাজাহান একজন ব্যবসায়ী। ব্যবসার পাশাপাশি তিনি একটি গার্মেন্টেস শিল্প পরিচালনা করেন। এই শিল্পটি খুব দ্রুত প্রসারিত হচ্ছে। এই শিল্পের উৎপাদিত দ্রব্য দেশের চাহিদা মিটিয়ে বিদেশেও রপ্তানি করে। সাম্প্রতিক এ শিল্পে অসংখ্য শ্রমিক কাজ করে। মোট রপ্তানি আয়ের সিংহ ভাগ এ শিল্প থেকেই আসে। বিশ্ববাজারে বাংলাদেশের এ শিল্পের খুব সুনাম রয়েছে।

- ক. PPP এর পূর্ণরূপ কী? ১  
খ. 'ফার্ম ও শিল্প এক নয়'—ব্যাখ্যা করো। ২  
গ. উদ্দীপকে উল্লেখিত শিল্পটি কী ধরনের শিল্প ব্যাখ্যা করো। ৩  
ঘ. উদ্দীপকে উল্লেখিত শিল্পটি বাংলাদেশে কর্মসংস্থানের পাশাপাশি বৈদেশিক মুদ্রা অর্জনের গুরুত্বপূর্ণ খাত—ব্যাখ্যা করো। ৪

৪ ▶ X দেশের কয়েক দশক পূর্ব হতে বর্তমান পর্যন্ত পাট ও পাটজাত দ্রব্য প্রধান রপ্তানি দ্রব্য। তবে প্রযুক্তিগত সীমাবদ্ধতা, গুণগত মানের অভাব, প্লাস্টিক ও সিনথেটিক জাতীয় সস্তা বিকল্প দ্রব্যের উপস্থিতির কারণে পাটজাত পণ্যের চাহিদা দিন দিন হ্রাস পাচ্ছে। বর্তমানে বিশ্ব সম্প্রদায় প্লাস্টিক ও সিনথেটিক পণ্যের ক্ষতিকর দিক সম্পর্কে সচেতন হচ্ছে। এদিকে সম্প্রতি উক্ত দেশের একজন বিজ্ঞানী পাটের জেনেটিক কোড উন্মোচন করেছেন।

- ক. হাইটেক শিল্প কী? ১  
খ. আমদানি বিকল্প শিল্প দেশীয় শিল্পের সংরক্ষণে ভূমিকা রাখে— ব্যাখ্যা করো। ২  
গ. উদ্দীপকে উল্লেখিত সমস্যাগুলো কীভাবে পাটশিল্পের ক্ষতি করেছে? ব্যাখ্যা করো। ৩  
ঘ. উদ্দীপকে উল্লেখিত বিশ্ববাসীর মনোভাব পাটশিল্পের হারানো ঐতিহ্য ফিরিয়ে আনতে কীভাবে ভূমিকা রাখতে পারে? তোমার উত্তরের সপক্ষে যুক্তি দাও। ৪

৫ ▶ একটি দেশের জনসংখ্যা ও মাথাপিছু আয় নিম্নরূপ—

নির্দেশক বিন্দু	মোট জনসংখ্যা (কোটি)	মাথাপিছু আয় (ডলার)
P	৪	১৪০০
Q	৫	১৮০০
R	৬	১৪০০

- ক. জনসংখ্যার ঘনত্ব কী? ১  
খ. নিট অভিবাসন কীভাবে জনসংখ্যা বৃদ্ধির হারকে প্রভাবিত করে। ২  
গ. উদ্দীপকের তথ্য অনুযায়ী তড়ের নাম উল্লেখপূর্বক চিত্রে উপস্থাপন কর। ৩  
ঘ. উদ্দীপকের তত্ত্ব ও ম্যালাথাসের তড়ের মধ্যে বাংলাদেশের জন্য কোনটি অধিক সামঞ্জস্যপূর্ণ মনে করে? ব্যাখ্যা কর। ৪

৬ ▶ সালাম সাহেব অন্যের জমিতে কৃষিকাজ করে। তার দুই মেয়ে শিমা ও স্নুমা গাজীপুরে একটি গার্মেন্টেস ফ্যাক্টরিতে চাকরিত ছিল। হঠাৎ তার বাবা অসুস্থ হয়ে পড়ায় তাদেরকে গ্রামে ফিরে আসতে হয়। পরবর্তীতে তারা জাতীয় মহিলা সংস্থা থেকে সেলাই শিখে দুই বোন নামে একটি টেইলার্সের দোকান দেন। বর্তমানে তাদের অধীনে প্রায় ২০ জন লোক কাজ করে।

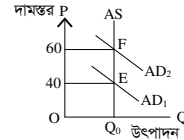
- ক. বিশ্বায়ন কী? ১  
খ. প্রশিক্ষণ ও মানবসম্পদ উন্নয়ন পরস্পর পরিপূরক ব্যাখ্যা করো। ২

- গ. উদ্দীপকে পাঠ্যপুস্তকের কোন ধারণাটি প্রতিফলিত হয়েছে? ব্যাখ্যা করো। ৩  
ঘ. উদ্দীপকে দুই বোনের উদ্যোগটি বেকার সমস্যা সমাধানে কীভাবে ভূমিকা রাখতে পারে? ব্যাখ্যা করো। ৪  
৭ ▶ একটি দেশের ২০২১ ও ২০২২ সালের বিভিন্ন ভোগ্য পণ্যের দাম এবং পরিমাণ নিম্নরূপ:

ভোগ্য দ্রব্য	পরিমাণ Q <sub>০</sub>	২০২১ সাল	
		ভিত্তি বছরের দাম (P <sub>০</sub> )	হিসাবি বছরের দাম (P <sub>১</sub> )
চাল	৩০	৬০	৭২
ডাল	১৫	৮০	১০০
আটা	৬০	৩০	৪৫
তেল	১০	৮০	১০০

- ক. মুদ্রা সংকোচন কাকে বলে? ১  
খ. 'মুদ্রাস্ফীতির ফলে ঋণগ্রহীতা কীভাবে সুবিধা ভোগ করে'— ব্যাখ্যা করো। ২  
গ. উদ্দীপকের আলোকে ভোক্তার মূল্যসূচকের মাধ্যমে মুদ্রাস্ফীতির হার নির্ণয় কর। ৩  
ঘ. প্রাপ্ত ফলাফল থেকে দামস্তরের বৃদ্ধি জনজীবনে কী প্রভাব ফেলবে বলে তুমি মনে করো? ব্যাখ্যা করো। ৪

৮ ▶ নিচের তথ্যগুলো লক্ষ কর:



- ক. GNP ডিফ্লেক্টর কী? ১  
খ. "মুদ্রাস্ফীতি সব সময় খারাপ নয়"— ব্যাখ্যা করো। ২  
গ. উদ্দীপকে কোন ধরনের মুদ্রাস্ফীতি নির্দেশিত হয়েছে— ব্যাখ্যা করো। ৩  
ঘ. উদ্দীপকে নির্দেশিত মুদ্রাস্ফীতির নিয়ন্ত্রণের উপায় বর্ণনা কর। ৪  
৯ ▶ মি. জামিল তার বন্ধু সোহান এর কাছ থেকে জানতে পারে একটি দেশের অর্থনৈতিক উন্নয়নে বৈদেশিক বাণিজ্য, ন্যাকি বৈদেশিক সাহায্য বেশি ভূমিকা রাখে। বৈদেশিক বাণিজ্যের ফলে একটি দেশের বিনিয়োগ, কর্মসংস্থান ও উৎপাদন বৃদ্ধি পায়। সে এ বিষয়ে তার বন্ধুর সাথে একমত হয় যে, বৈদেশিক সাহায্য দীর্ঘ মেয়াদে পরনির্ভরশীলতা বৃদ্ধি করে কিন্তু বৈদেশিক বাণিজ্য এরূপ ক্ষতিকর প্রভাব সৃষ্টি করে না।

- ক. আন্তর্জাতিক বাণিজ্য কী? ১  
খ. দুটি দেশের মধ্যে কেন বাণিজ্য সংঘটিত হয়? ২  
গ. উদ্দীপকের আলোকে একটি দেশের অর্থনৈতিক উন্নয়নে বৈদেশিক বাণিজ্য কীভাবে ভূমিকা রাখে? ব্যাখ্যা করো। ৩  
ঘ. উদ্দীপকের আলোকে তুমি কি মনে করো অর্থনৈতিক উন্নয়নে বৈদেশিক সাহায্যের চেয়ে বৈদেশিক বাণিজ্যই অধিক কার্যকর? ব্যাখ্যা করো। ৪

১০ ▶ বর্তমানে বাংলাদেশে রপ্তানি বাণিজ্যের পরিবর্তন সাধিত হয়েছে। অতীতে আমাদের রপ্তানি বাণিজ্যে শুধু পাট, চা, চামড়া প্রভৃতি কতিপয় কৃষিপণ্য নিয়ে গঠিত ছিল। কিন্তু বর্তমানে রপ্তানি বাণিজ্যে এসব দ্রব্যের পাশাপাশি মাছ, তৈরি পোশাক, ফল, ফুল ও হস্তশিল্পজাত দ্রব্যসহ আরও অনেক পণ্য সংযোজিত হচ্ছে। বর্তমান সরকার রপ্তানি আয় বৃদ্ধির লক্ষ্যে রপ্তানি উন্নয়ন তহবিল গঠন, বিদেশে বাণিজ্য অফিস খোলা, রপ্তানি শুল্ক হ্রাসকরণসহ বিভিন্ন পদক্ষেপ গ্রহণ করেছে।

- ক. সংরক্ষিত বাণিজ্য কী? ১  
খ. কেন অধিক রপ্তানিমুখী শিল্প স্থাপন করা প্রয়োজন? ২  
গ. উদ্দীপকের আলোকে বাংলাদেশের রপ্তানি পণ্যের শ্রেণিবিভাগ কর। ৩  
ঘ. তুমি কি মনে কর, রপ্তানি বৃদ্ধির জন্য বাংলাদেশ সরকারের গৃহীত পদক্ষেপগুলোই যথেষ্ট? মূল্যায়ন কর। ৪

১১ ▶ খাদিজা তার বাবা মায়ের সাথে দিনাজপুর স্বপ্নপুরী বেড়াতে যায়। যাওয়ার সময় সে লক্ষ করল সেতু অতিক্রম করার সময় তার বাবাকে টোল প্রদান করতে হচ্ছে। হোটেল খাওয়া, খাওয়া বিলের নির্ধারিত বিলের সাথে অতিরিক্ত কিছু অর্থ প্রদান করতে হচ্ছে। তখন খাদিজা বিষয়টি সম্পর্কে তার বাবার কাছে জানতে চাইলে তিনি বলেন, এটি সরকারের আয়ের একটি উৎস। এছাড়াও তার বাবা বছরের একটি নির্দিষ্ট সময়ে আয়কর ও গাড়ি ব্যবহারের জন্য কর প্রদান করতে দেখছে এবং দিন দিন এই করের পরিমাণ বৃদ্ধি পাচ্ছে। সাম্প্রতিক সময়ে সরকারের বিভিন্ন উন্নয়ন ব্যয় বৃদ্ধির কথাও তিনি উল্লেখ করেন।

- ক. ফি কী? ১  
খ. VAT কে পরোক্ষ কর বলা হয় কেন? ২  
গ. উদ্দীপকে অনুসারে সরকারের আয়ের বিভিন্ন খাতগুলো উল্লেখ করো। ৩  
ঘ. সাম্প্রতিক সময়ে সরকারের ব্যয় বৃদ্ধির কারণগুলো বিশ্লেষণ করো। ৪

## রাজউক উত্তরা মডেল কলেজ, ঢাকা

### অর্থনীতি দ্বিতীয় পত্র ❖ বহুনির্বাচনি অভীক্ষা

সময় : ৩০ মিনিট

পূর্ণমান : ৩০

[বি. দ্র. : সরবরাহকৃত বহুনির্বাচনি অভীক্ষার উত্তরপত্রে প্রশ্নের ক্রমিক নম্বরের বিপরীতে প্রদত্ত বর্ণসংবলিত বৃত্তসমূহ হতে সঠিক/ সর্বোৎকৃষ্ট উত্তরের বৃত্তটি বল পয়েন্ট কলাম দ্বারা সম্পূর্ণ ভরাট কর।]

১. বাংলাদেশের আমদানিকৃত দ্রব্যের মধ্যে নিচের কোনটি মূলধনী দ্রব্য?

- (ক) অপরিশোধিত পেট্রোলিয়াম  
(খ) মোটরগাড়ি  
(গ) সার  
(ঘ) ক্রিংকার

২. বাংলাদেশি পণ্যের সর্বোচ্চ আমদানি ও রপ্তানিকারক দেশগুলো হলো যথাক্রমে—

- (ক) আমেরিকা ও ভারত  
(খ) আমেরিকা ও চীন  
(গ) ভারত ও আমেরিকা  
(ঘ) চীন ও আমেরিকা

■ উদ্দীপকটি পড়ে ৩ ও ৪ নং প্রশ্নের উত্তর দাও :

'A' দেশে ২০২১ সালের ৪৫ লক্ষ জীবিত শিশু জন্মগ্রহণ করে এবং ৩০ লক্ষ লোক মৃত্যুবরণ করে। উক্ত সময়ে দেশের জনসংখ্যা ছিল ১৫ কোটি। দেশটির আয়তন ১.৫০ লক্ষ বর্গ কিলোমিটার।

৩. 'A' দেশে স্থূল জন্মহার কত?

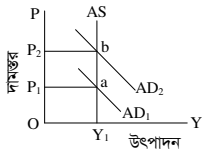
- (ক) ১৫ (খ) ৩০ (গ) ৪৫ (ঘ) ৫০

৪. উক্ত দেশের ক্ষেত্রে লক্ষ করা যায়—

- i. স্বাভাবিক বৃদ্ধির হার ০.১%  
ii. দেশটির স্থূল মুদ্রাহার ১৫ জন  
iii. জনসংখ্যার ঘনত্ব ১০০০ জন প্রতি বর্গ নিচের কোনটি সঠিক?

- (ক) i ও ii (খ) ii ও iii (গ) i ও iii (ঘ) i, ii ও iii

■ চিত্রটি লক্ষ করে ৫ ও ৬ নং প্রশ্নের উত্তর দাও :



৫. চিত্রে প্রদর্শিত মুদ্রাস্ফীতিটি কোন ধরনের?

- (ক) চাহিদা বৃদ্ধিজনিত (খ) ঘাটতি প্ররোচিত  
(গ) ব্যয়জনিত (ঘ) অতিরিক্ত

৬. উক্ত অবস্থা নিয়ন্ত্রণে কার্যক্রম হলো—

- i. মুদ্রা বাতিল  
ii. অনুৎপাদনশীল খাতে ব্যয় বৃদ্ধি  
iii. ঋণ নিয়ন্ত্রণ  
নিচের কোনটি সঠিক?

- (ক) i ও ii (খ) ii ও iii (গ) i ও iii (ঘ) i, ii ও iii

৭. কোনটি ব্যয় বৃদ্ধিজনিত মুদ্রাস্ফীতির কারণ?

- (ক) নতুন মুদ্রা ছাপানো (খ) ব্যাংক ঋণ বৃদ্ধি  
(গ) দ্রব্যের উৎপাদন হ্রাস  
(ঘ) শ্রমিকের মজুরি বৃদ্ধি

৮. বাংলাদেশে ওয়েজ আর্নির স্কিম চালু হয় কত সালে?

- (ক) ১৯৭১ (খ) ১৯৭৩  
(গ) ১৯৭৪ (ঘ) ১৯৭৫

৯. পূর্ণ নিয়োগ স্তরের পরে সামগ্রিক যোগান স্থির থেকে সামগ্রিক চাহিদা বৃদ্ধি পাওয়ার অবস্থাকে কী বলে?

- (ক) প্রকৃত মুদ্রাস্ফীতি  
(খ) চাহিদা বৃদ্ধি জনিত মুদ্রাস্ফীতি  
(গ) ব্যয় বৃদ্ধিজনিত মুদ্রাস্ফীতি  
(ঘ) উন্মুক্ত মুদ্রাস্ফীতি

১০. বাংলাদেশে আন্তর্জাতিক বাণিজ্যে পরিবর্তনের ধারা হলো—

- i. বেসরকারি খাতে বাণিজ্য  
ii. দুর্বল মুদ্রা এলাকার সাথে বাণিজ্য  
iii. অপটজাত দ্রব্যের রপ্তানি বৃদ্ধি  
নিচের কোনটি সঠিক?

- (ক) i ও ii (খ) ii ও iii (গ) i ও iii (ঘ) i, ii ও iii

১১. নিচের কোনটি অপ্রকল্প সাহায্য নয়?

- (ক) চাল (খ) গম  
(গ) চা (ঘ) ডাল

১২. সরকারি ঋণের উদ্দেশ্য হলো—

- i. জরুরি অবস্থা মোকাবিলা  
ii. সুখম বাজেটে অর্থায়ন  
iii. সম্বল ও বিনিয়োগ বৃদ্ধি  
নিচের কোনটি সঠিক?

- (ক) i ও ii (খ) ii ও iii (গ) i ও iii (ঘ) i, ii ও iii

১৩. স্থানীয় ব্যয়ের অন্তর্ভুক্ত কোনটি?

- (ক) সাধারণ প্রশাসন  
(খ) প্রতিরক্ষা  
(গ) বিচার বিভাগ  
(ঘ) কালভার্ট নির্মাণ

১৪. বাংলাদেশে বর্তমানে আমদানি ঋণের কাঠামোতে কয় ধরনের স্তর রয়েছে?

- (ক) তিন (খ) ছয় (গ) নয় (ঘ) বারো

১৫. নিচের কোনটি নিষ্ক্রিয় ঋণ?

- (ক) শিক্ষা প্রতিষ্ঠান  
(খ) রাস্তাঘাট উন্নয়ন  
(গ) যুদ্ধ ঋণ  
(ঘ) শিল্প স্থাপন

১৬. ব্রি-৬২ কোন জাতের বীজ?

- (ক) ধান (খ) গম (গ) ভুট্টা (ঘ) আখ

১৭. প্রান্তিক কৃষকের জমির পরিমাণ কত?

- (ক) ০.০৫ - ০.৪৯ একর  
(খ) ০.৫০ - ২.৪৯ একর  
(গ) ২.৫০ - ৭.৪৯ একর  
(ঘ) ০.০৫ - ২.৪৯ একর

■ উদ্দীপকটি পড়ে ১৮ ও ১৯ নং প্রশ্নের উত্তর দাও :

জনাব তাহের একজন ট্যানারির মালিক। তিনি তার প্রতিষ্ঠানের কাঁচামালের বেশিরভাগ অংশ পেয়ে থাকেন একটি বিশেষ ধর্মীয় অনুষ্ঠানের মাধ্যমে।

১৮. উদ্দীপকে জনাব তাহের যে শিল্পের সাথে সম্পৃক্ত সেটি কোন শিল্প?

- (ক) চা (খ) চামড়া  
(গ) তৈরি পোশাক (ঘ) পাট

১৯. উক্ত শিল্পের বিদ্যমান সমস্যাগুলো হলো—

- i. সরকারি উৎসাহের অভাব  
ii. পর্যাপ্ত ঋণ সরবরাহ  
iii. সংকীর্ণ বাজার  
নিচের কোনটি সঠিক?

- (ক) i ও ii (খ) ii ও iii (গ) i ও iii (ঘ) i, ii ও iii

২০. চা উৎপাদনকারী দেশ হিসেবে বাংলাদেশের অবস্থান বিশ্বে কত তম?

- (ক) তৃতীয় (খ) পঞ্চম  
(গ) সপ্তম (ঘ) নবম

২১. পারমাণবিক কৃষি প্রযুক্তির মাধ্যমে নির্ণয় করা যায়—

- i. গবাদি পশুর রোগ-ব্যাধি  
ii. আবহাওয়ার পূর্বাভাস  
iii. শস্য চাষের জন্য পানি ব্যবহারের মাত্রা  
নিচের কোনটি সঠিক?

- (ক) i ও ii (খ) ii ও iii (গ) i ও iii (ঘ) i, ii ও iii

২২. স্যাটেলাইট চ্যানেল কোন শিল্পের অন্তর্গত?

- (ক) অগ্রাধিকার (খ) সংরক্ষিত  
(গ) উচ্চ অগ্রাধিকার (ঘ) নিয়ন্ত্রিত

২৩. বর্তমানে বাংলাদেশে কয়টি মার্শক্রম বাণিজ্যিকভাবে চাষ করা হচ্ছে?

- (ক) তিনটি (খ) চারটি (গ) পাঁচটি (ঘ) ছয়টি

২৪. সবচেয়ে জনপ্রিয় চিংড়ি কোনটি?

- (ক) গলদা চিংড়ি (খ) বাগদা চিংড়ি  
(গ) রাশনা চিংড়ি (ঘ) চাপড়া চিংড়ি

২৫. জন্ম নিবন্ধনে ব্যর্থতার জন্য কত সালে ইংল্যান্ডে জরিমানা বিধান চালু হয়?

- (ক) ১৮৩৬ (খ) ১৮৭৪  
(গ) ১৯২৬ (ঘ) ১৯৪৬

■ উদ্দীপকটি পড়ে ২৬ ও ২৭ নং প্রশ্নের উত্তর দাও :  
জনাব 'ক' একজন কৃষক। তিনি তার জমিতে উৎপাদন বৃদ্ধির লক্ষ্যে এবং পুষ্টিকর খাদ্যের নিশ্চয়তার জন্য এলাকার কৃষি কর্মকর্তার পরামর্শে ঋতুভেদে ধান, আলু এবং ডাল উৎপাদন করেন।

২৬. জনাব 'ক'-এর জমিতে কী ধরনের চাষাবাদ লক্ষ করা যায়?

- (ক) উচ্চ ফলনশীল চাষ  
(খ) মিশ্র চাষ  
(গ) শস্য বহুমুখীকরণ  
(ঘ) বাণিজ্যিক চাষ

২৭. উক্ত চাষ পদ্ধতির ফলে দেশের অর্থনীতিতে লক্ষ করা যায়—

- i. কৃষিনির্ভর শিল্পের বিকাশ  
ii. মাটির উর্বরতা হ্রাস  
iii. পারস্পরিক চাহিদা সৃষ্টি  
নিচের কোনটি সঠিক?

- (ক) i ও ii (খ) ii ও iii (গ) i ও iii (ঘ) i, ii ও iii

২৮. জনসংখ্যার ঘনত্বের ভারতম্য হয়ে থাকে—

- i. ধর্মীয় কারণে  
ii. ভূমির উর্বরতার কারণে  
iii. জলবায়ুর কারণে  
নিচের কোনটি সঠিক?

- (ক) i ও ii (খ) ii ও iii (গ) i ও iii (ঘ) i, ii ও iii

২৯. PPP-এর বৈশিষ্ট্য হলো—

- i. যৌথভাবে বিনিয়োগ ঝুঁকি বহন  
ii. দীর্ঘমেয়াদে প্রকল্প বাস্তবায়ন  
iii. অর্থনৈতিক প্রবৃদ্ধির হার বৃদ্ধি করা  
নিচের কোনটি সঠিক?

- (ক) i ও ii (খ) ii ও iii (গ) i ও iii (ঘ) i, ii ও iii

৩০. কোন পণ্যের ভিত্তি বছরের দামস্তর ৪০ টাকা এবং চলতি বছরের দামস্তর ৫০ টাকা হলে, মুদ্রাস্ফীতির হার কত?

- (ক) ১০% (খ) ২৫%  
(গ) ৪০% (ঘ) ৫০%

## ভিকারননিসা নূন স্কুল এন্ড কলেজ, ঢাকা

### অর্থনীতি দ্বিতীয় পত্র ❖ বহুনির্বাচনি অভীক্ষা

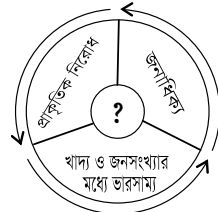
সময় : ৩০ মিনিট

পূর্ণমান : ৩০

[বি. দ্র. : সরবরাহকৃত বহুনির্বাচনি অভীক্ষার উত্তরপত্রে প্রশ্নের ক্রমিক নম্বরের বিপরীতে প্রদত্ত বর্ণসংবলিত বৃত্তসমূহ হতে সঠিক/ সর্বোৎকৃষ্ট উত্তরের বৃত্তটি বল পয়েন্ট কলাম দ্বারা সম্পূর্ণ ভরাট কর।]

১. রহমান সাহেব গরু, কাঠের লাঙল ও জোয়াল দিয়ে জমি চাষ করেন। রহমান সাহেবের চাষ পদ্ধতিটি—  
 (ক) শ্রমনিবিড় (খ) মূলধন নিবিড়  
 (গ) সনাতন (ঘ) আধুনিক
২.  $M = \frac{A-O}{O}$  এর মান ধনাত্মক হলে তাকে কী বলে?  
 (ক) কাম্য জনসংখ্যা  
 (খ) অধিক জনসংখ্যা  
 (গ) নিম্ন জনসংখ্যা  
 (ঘ) অসম জনসংখ্যা
৩. কুটির শিল্পের উৎপাদিত পণ্য হচ্ছে—  
 i. ইউরিয়া সার  
 ii. শাড়ি  
 iii. বেত শিল্প  
 নিচের কোনটি সঠিক?  
 (ক) i ও ii (খ) ii ও iii (গ) i ও iii (ঘ) i, ii ও iii
৪. বাংলাদেশের অর্থনীতির মূল চালিকাশক্তি কোনটি?  
 (ক) কৃষি (খ) শিল্প  
 (গ) সেবা (ঘ) বাণিজ্য
- উদ্দীপকটি পড়ে ৫ ও ৬নং প্রশ্নের উত্তর দাও :  
 মতিন সাহেব নিজ গ্রামে কৃষি খামার স্থাপন করে শাকসবজি ও হাঁস-মুরগি পালন করেন।
৫. মতিন সাহেবের খামারটি—  
 (ক) বিশেষায়িত খামার  
 (খ) যৌথ খামার  
 (গ) মিশ্র খামার  
 (ঘ) বহুমুখী খামার
৬. মতিন সাহেবের খামারের উদ্দেশ্য—  
 i. পরিবারের সদস্যদের খাদ্য চাহিদা পূরণ  
 ii. কর্মসংস্থান সৃষ্টি  
 iii. বনায়ন  
 নিচের কোনটি সঠিক?  
 (ক) i ও ii (খ) i ও iii (গ) ii ও iii (ঘ) i, ii ও iii
৭. মুদ্রাস্ফীতির কারণ—  
 i. অর্থের যোগান বৃদ্ধি  
 ii. দ্রব্য ভোগের চাহিদা বৃদ্ধি  
 iii. দ্রব্যের উৎপাদন বৃদ্ধি  
 নিচের কোনটি সঠিক?  
 (ক) i ও ii (খ) i ও iii (গ) ii ও iii (ঘ) i, ii ও iii
৮. বাংলাদেশের মুদ্রাস্ফীতি নিয়ন্ত্রণের জন্য প্রয়োজন—  
 (ক) খাদ্য উৎপাদন বৃদ্ধি  
 (খ) ঋণের প্রবাহ বৃদ্ধি  
 (গ) পরোক্ষ কর বৃদ্ধি  
 (ঘ) অনুৎপাদনশীল খাতে ব্যয় বৃদ্ধি
৯. কাম্য জনসংখ্যার কাছাকাছি বিরাজমান থাকলে কোনো দেশে জনসংখ্যার অসামঞ্জস্যতা—  
 (ক) প্রায় ০০ (খ) প্রায় ০  
 (গ) প্রায় ১ (ঘ) প্রায় ৩.১৪১৬
১০. ডেইরি ও পোল্ট্রি কৃষি কোন উপখাতের মধ্যে পড়ে?  
 (ক) শস্য (খ) পশু  
 (গ) মৎস্য (ঘ) বনজ

১১. বঙ্গবন্ধু সেতু পার হওয়ার সময় যে ৫০০ টাকা দিতে হয়, তাকে কী বলে?  
 (ক) টোল (খ) ফি  
 (গ) বিক্রয় কর (ঘ) আবগারি শুল্ক
১২. কোনটি বাংলাদেশ সরকারের কর বহির্ভূত আয়ের খাত?  
 (ক) ভূমি রাজস্ব  
 (খ) যানবাহন কর  
 (গ) মাদক শুল্ক  
 (ঘ) প্রতিরক্ষা বাবদ প্রাপ্তি
১৩. বাংলাদেশে সর্বশেষ শিল্পনীতি কত সালে হয়?  
 (ক) ২০০৫ (খ) ২০১০  
 (গ) ২০১৬ (ঘ) ২০২২
১৪. নিচের কোনটি সংরক্ষিত শিল্প?  
 (ক) চামড়া (খ) ওষুধ  
 (গ) পোশাক (ঘ) অস্ত্র
১৫. সরকারি অর্থব্যবস্থায়—  
 (ক) আয় অনুযায়ী আয় করা হয়  
 (খ) ব্যয় অনুযায়ী আয় করা হয়  
 (গ) আয়-ব্যয়ের গোপনীয়তা রক্ষা করা হয়  
 (ঘ) ঋণের ভার প্রত্যক্ষ প্রকৃতির
১৬. R&D নির্ভর শিল্প কোনটি?  
 (ক) হাইটেক (খ) নিয়ন্ত্রিত  
 (গ) সংরক্ষিত (ঘ) অপ্রাধিকার
১৭. নিচের কোন ক্ষেত্রে উৎপাদক লাভবান হয়?  
 (ক) হামাগুড়ি মুদ্রাস্ফীতি  
 (খ) উল্লসফন মুদ্রাস্ফীতি  
 (গ) ধাবমান মুদ্রাস্ফীতি  
 (ঘ) মুদ্রা সংকোচন
- উদ্দীপকটি পড়ে ১৮ ও ১৯নং প্রশ্নের উত্তর দাও :



১৮. চিত্রটি কোন তত্ত্বের সাথে সম্পর্কিত?  
 (ক) ডাল্টনের জনসংখ্যা তত্ত্ব  
 (খ) ফিশারের তত্ত্ব  
 (গ) কাম্য জনসংখ্যা তত্ত্ব  
 (ঘ) ম্যালথাসের জনসংখ্যা তত্ত্ব
১৯. চিত্রের তত্ত্ব অনুসারে জনসংখ্যা ও খাদ্য উৎপাদন যথাক্রমে বৃদ্ধি পায়—  
 (ক) গাণিতিক হারে, গাণিতিক হারে  
 (খ) গাণিতিক হারে, জ্যামিতিক হারে  
 (গ) জ্যামিতিক হারে, গাণিতিক হারে  
 (ঘ) জ্যামিতিক হারে, জ্যামিতিক হারে
২০. Biotechnology শব্দটি কত সালে সর্বপ্রথম ব্যবহৃত হয়?  
 (ক) ১৯১৮ (খ) ১৯১৯  
 (গ) ১৯২০ (ঘ) ১৯২১

২১. শস্য বহুমুখীকরণের ফলে—  
 i. মাটির উর্বরতা বৃদ্ধি পায়  
 ii. খাদ্য সংকটের ঝুঁকি হ্রাস পায়  
 iii. শ্রমিকদের দক্ষতা হ্রাস পায়  
 নিচের কোনটি সঠিক?  
 (ক) i ও ii (খ) i ও iii (গ) ii ও iii (ঘ) i, ii ও iii
২২. উৎপাদন উপকরণের মূল্য বৃদ্ধি পেলে কী ঘটে?  
 (ক) চাহিদা বৃদ্ধিজনিত মুদ্রাস্ফীতি  
 (খ) ব্যয় বৃদ্ধিজনিত মুদ্রাস্ফীতি  
 (গ) মুদ্রা সংকোচন  
 (ঘ) উল্লসফন মুদ্রাস্ফীতি
২৩. জনসংখ্যার নির্ধারক নয় কোনটি?  
 (ক) জন্মহার  
 (খ) মৃত্যুহার  
 (গ) শিক্ষার হার  
 (ঘ) নীট অভিবাসন হার
২৪. BSTI-এর কাজ কী?  
 (ক) পণ্যের মান নিয়ন্ত্রণ করা  
 (খ) ন্যায্যমূল্যে পণ্য বিক্রয় করা  
 (গ) যানবাহনের লাইসেন্স দেওয়া  
 (ঘ) দারিদ্র্য বিমোচন করা
২৫. A দেশের জনসংখ্যা স্বাভাবিক বৃদ্ধির হার ১০% এবং নিট অভিবাসন হার ২০ জন প্রতি হাজার। দেশটির জনসংখ্যা বৃদ্ধির হার—  
 (ক) ১০% (খ) ১২%  
 (গ) ৩০% (ঘ) ২০%
২৬. আত্মভোষণ খামার হলো—  
 (ক) জীবন নির্বাহী খামার  
 (খ) বাণিজ্যিক খামার  
 (গ) বহুমুখী খামার  
 (ঘ) বিশেষায়িত খামার
২৭. কোনটি পরোক্ষ কর?  
 (ক) আয়কর (খ) ভূমি রাজস্ব  
 (গ) সম্পদ কর (ঘ) আবগারি শুল্ক
২৮. HYV Technology-এর পূর্ণরূপ কী?  
 (ক) High Young Variety Technology  
 (খ) High Young Variety Technology  
 (গ) High Yielding Variety Technology  
 (ঘ) High Yielding Variety Technology
- উদ্দীপকটি পড়ে ২৯ ও ৩০নং প্রশ্নের উত্তর দাও :  
 আজিজ সাহেব তার কারখানায় আলুকে চিপসে রূপান্তরিত করে তা প্যাকেটজাত করে বিক্রি করেন।
২৯. আলুকে চিপসে রূপান্তরিত করা হলো—  
 (ক) কৃষি  
 (খ) শিল্প  
 (গ) আলুর আধুনিকায়ন  
 (ঘ) শস্য বহুমুখীকরণ
৩০. আজিজ সাহেবের কার্যক্রমে রয়েছে—  
 i. নতুন দ্রব্য উৎপাদন  
 ii. অর্থনৈতিক উন্নতি  
 iii. কাঁচামালের সঞ্চয়  
 নিচের কোনটি সঠিক?  
 (ক) i ও ii (খ) ii ও iii (গ) i ও iii (ঘ) i, ii ও iii

## ঢাকা কলেজ, ঢাকা

## অর্থনীতি দ্বিতীয় পত্র ❖ বহুনির্বাচনী অভীক্ষা

পূর্ণমান : ৩০

সময় : ৩০ মিনিট

[বি. দ্র. : সরবরাহকৃত বহুনির্বাচনী অভীক্ষার উত্তরপত্রে প্রশ্নের ক্রমিক নম্বরের বিপরীতে প্রদত্ত বর্ণসংবলিত বৃত্তসমূহ হতে সঠিক/ সর্বোৎকৃষ্ট উত্তরের বৃত্তটি বল পয়েন্ট কলাম দ্বারা সম্পূর্ণ ভরাট কর।]

১. পৃথিবীর প্রাচীনতম শিল্প কোনটি?

- (ক) কৃষি (খ) বস্ত্র  
(গ) মৎস্য (ঘ) খনিজ

২. কৃষিপণ্যের উৎপাদন পরিকল্পনার সাথে সরাসরি সম্পৃক্ত কোনটি?

- (ক) কৃষি জোত (খ) কৃষি উপখাত  
(গ) কৃষি কাঠামো (ঘ) কৃষি খামার

৩. কৃষির কোন উপ-খতের অবদান জিডিপিতে সবচেয়ে কম?

- (ক) শস্য ও শাকসবজি (খ) পশু সম্পদ  
(গ) বনজ সম্পদ (ঘ) মৎস্য সম্পদ

৪. চাষাবাদ পদ্ধতির দিক হতে বাংলাদেশে নিচের কোন ধরনের খামার বেশি দেখা যায়?

- (ক) বিশেষায়িত খামার (খ) বহুমুখী খামার  
(গ) মিশ্র খামার (ঘ) সমবায় খামার

■ উদ্দীপকটি পড়ে ৫ ও ৬ নং প্রশ্নের উত্তর দাও :  
কৃষক করিম মিয়া সারা বছর জমিতে ধান চাষ করেন। এতে জমি ও উৎপাদনের উপর কিছু প্রভাব লক্ষ করা যায়।

৫. উদ্দীপক অনুযায়ী, করিম মিয়ার খামারটি কোন ধরনের?

- (ক) বিশেষায়িত (খ) বহুমুখী  
(গ) মিশ্র (ঘ) যৌথ

৬. উদ্দীপক অনুযায়ী, খামারের উৎপাদনের ক্ষেত্রে নিচের কোনটি প্রযোজ্য?

- i. উৎপাদন বৃদ্ধি  
ii. উর্বরতা বৃদ্ধি  
iii. জীবনমান বৃদ্ধি

নিচের কোনটি সঠিক?

- (ক) i (খ) ii (গ) i ও ii (ঘ) i ও iii

৭. 'White gold' বলা হয় কোনটিকে?

- (ক) ইলিশ (খ) চিংড়ি  
(গ) পাট (ঘ) মাশরুম

৮. PPP-এর পূর্ণরূপ কী?

- (ক) Public Private Partnership  
(খ) Private Public Partnership  
(গ) Partnership Public Private  
(ঘ) Partnership Private Public

৯. সর্বশেষে বাংলাদেশের জাতীয় শিল্পনীতি কত সালে গ্রহণ করা হয়?

- (ক) ২০১০ (খ) ২০১২  
(গ) ২০১৬ (ঘ) ২০২২

■ উদ্দীপকটি পড়ে ১০ ও ১১ নং প্রশ্নের উত্তর দাও :  
'ক' দেশে এমন একটি শিল্প রয়েছে; যেখান থেকে রপ্তানি আয়ের সিংহভাগ অর্জিত হয় এবং এ শিল্পে অধিকাংশ নারী শ্রমিক কর্মরত। তবে উল্লিখিত শিল্পটির বিদ্যমান সমস্যাগুলো এখনো কাটিয়ে উঠতে পারেনি।

১০. উদ্দীপকে কোন শিল্পের কথা বলা হয়েছে?

- (ক) পাট শিল্প (খ) তৈরি পোশাক  
(গ) ঔষধ (ঘ) চামড়া

১১. উদ্দীপকে উল্লিখিত শিল্পের ক্ষেত্রে প্রযোজ্য হবে—

- i. কারখানার উন্নত মানের পরিবেশ  
ii. শ্রমিকের নিম্ন মজুরি ও শ্রমিক অসন্তোষ  
iii. বিশ্ব বাজারে তীব্র প্রতিযোগিতা

নিচের কোনটি সঠিক?

- (ক) i (খ) ii (গ) i ও ii (ঘ) ii ও iii

১২. বাংলাদেশের পোশাক শিল্পের উন্নয়নের উপায় হলো—

- i. সুদের হার বৃদ্ধি  
ii. কাঁচামালের উৎপাদন বৃদ্ধি  
iii. শ্রমিকদের প্রশিক্ষণ

নিচের কোনটি সঠিক?

- (ক) i ও ii (খ) i ও iii (গ) ii ও iii (ঘ) i, ii ও iii

১৩. দেশের অর্থনীতিতে অভাবনীয় পরিবর্তন সাধন করেছে কোনটি?

- i. রেমিট্যান্স  
ii. কাঁচামালের সহজলভ্যতা  
iii. তৈরি পোশাক শিল্প

নিচের কোনটি সঠিক?

- (ক) i ও ii (খ) i ও iii (গ) ii ও iii (ঘ) i, ii ও iii

■ উদ্দীপকটি পড়ে ১৪ ও ১৫ নং প্রশ্নের উত্তর দাও :

X দেশের বর্তমান জনসংখ্যা ২৫ কোটি। কিন্তু বিশেষজ্ঞদের মতে, উক্ত দেশের প্রাকৃতিক সম্পদ অনুযায়ী জনসংখ্যা ২০ কোটি থাকার কথা।

১৪. উদ্দীপক অনুযায়ী, X দেশের প্রকৃত ও কাম্য জনসংখ্যার মধ্যে অসামঞ্জস্যের পরিমাণ কত কোটি?

- (ক) ০.২৫ (খ) ০.৩৩  
(গ) ০.৫০ (ঘ) ১.৫

১৫. উদ্দীপক অনুযায়ী X দেশের ক্ষেত্রে—

- i. মাথাপিছু আয় কম  
ii. জনবহুল  
iii. জনবিরল

নিচের কোনটি সঠিক?

- (ক) i (খ) ii (গ) i ও ii (ঘ) i ও iii

১৬. অর্থনীতিবিদ গুনার মিরডাল মানবসম্পদ উন্নয়নের কয়টি সূচকের কথা বলেছেন?

- (ক) ৩টি (খ) ৫টি (গ) ৮টি (ঘ) ১০টি

■ উদ্দীপকটি পড়ে ১৭ ও ১৮ নং প্রশ্নের উত্তর দাও :

কোনো একটি দেশের ২০২০-২০২১ অর্থবছরে দামস্তর ২০০। ২০২১-২০২২ অর্থবছরে দামস্তর ২৫০।

১৭. উদ্দীপক অনুযায়ী মুদ্রাস্ফীতির হার কত?

- (ক) ২০ (খ) ২৫ (গ) ৫০ (ঘ) ১০০

১৮. উদ্দীপক অনুযায়ী মুদ্রাস্ফীতির ইতিবাচক প্রভাব নিচের কোন শ্রেণির উপর পড়বে?

- i. চাকুরিজীবী  
ii. উৎপাদক শ্রেণি  
iii. ঋণগ্রহীতা

নিচের কোনটি সঠিক?

- (ক) i (খ) ii (গ) i ও iii (ঘ) ii ও iii

১৯. নিচের কোনটি ব্যয় বৃদ্ধিজনিত মুদ্রাস্ফীতির কারণ?

- (ক) নতুন নোট ছাপানো  
(খ) দ্রব্যের উৎপাদন হ্রাস  
(গ) বাণিজ্যিক ব্যাংকের ঋণ বৃদ্ধি  
(ঘ) শ্রমিকের মজুরি বৃদ্ধি

২০. বাংলাদেশে কত সালে 'ওয়েজ ওনার্স স্কীম' এর প্রচলন ঘটে?

- (ক) ১৯৭২ (খ) ১৯৭৩  
(গ) ১৯৭৪ (ঘ) ১৯৭৫

■ উদ্দীপকটি পড়ে ২২ ও ২৩ নং প্রশ্নের উত্তর দাও :  
Y দেশ বিগত শতাব্দীর থেকে কাঁচাপাট, চা ও চামড়া ইত্যাদি রপ্তানি করে আসছে। কিন্তু গত দশক থেকে শাক-সবজি তৈরি পোশাক, ও হিমায়িত মাছ ইত্যাদি রপ্তানি করছে।

২১. উদ্দীপক অনুযায়ী প্রচলিত রপ্তানি দ্রব্য কোনটি?

- (ক) তৈরি পোশাক (খ) কাঁচাপাট  
(গ) হস্তশিল্প (ঘ) হিমায়িত মাছ

২২. উদ্দীপক অনুযায়ী, গত দশক থেকে নতুন পণ্য রপ্তানি দেশের অর্থনীতিতে প্রভাব ফেলেছে—

- i. প্রতিকূল বাণিজ্য ভারসাম্য বৃদ্ধি  
ii. বৈদেশিক মুদ্রার রিজার্ভ বৃদ্ধিতে  
iii. বৈদেশিক মুদ্রার শাসয়

নিচের কোনটি সঠিক?

- (ক) i (খ) ii (গ) i ও ii (ঘ) ii ও iii

২৩. কর রাজস্বের উৎস কোনটি?

- (ক) নোট ছাপানো (খ) অনুদান  
(গ) ফি (ঘ) ভূমি রাজস্ব

■ উদ্দীপকটি পড়ে ২৪ ও ২৫ নং প্রশ্নের উত্তর দাও :  
নেহার চাকরিজীবী বাবা প্রত্যেক অর্থবছর শেষে জাতীয় রাজস্ব বোর্ডে বাধ্যতামূলক কিছু টাকা জমা দেন। অন্যদিকে, তাদের বাড়ির মালিক সিটি কর্পোরেশন অফিসে জমির খাজনা বাবদ কিছু টাকা জমা দেন।

২৪. উদ্দীপক অনুযায়ী, নেহার বাবা নিচের কোনটি জমা দেন?

- (ক) আয়কর (খ) নবায়ন ফি  
(গ) মূল্যসংযোজন কর (ঘ) প্রমোদ কর

২৫. উদ্দীপক অনুযায়ী বাড়ির মালিক অর্থ জমাদানের ক্ষেত্রে প্রদান করেন—

- (ক) বাধ্যতামূলকভাবে  
(খ) বিশেষ সুবিধার জন্য  
(গ) জরিমানা হিসেবে  
(ঘ) বাণিজ্যিক আয়ের অংশ হিসেবে

২৬. মুদ্রাস্ফীতির প্রধান কারণ কী?

- (ক) মুদ্রা সরবরাহ বৃদ্ধি (খ) আমদানি বৃদ্ধি  
(গ) আয়-হ্রাস (ঘ) সঞ্চয় বৃদ্ধি

২৭. সরকারের আয় সংগ্রহের উদ্দেশ্য হলো—

- i. রাষ্ট্র পরিচালনা  
ii. জনকল্যাণ  
iii. মুনাফা অর্জন

নিচের কোনটি সঠিক?

- (ক) i (খ) ii (গ) i ও ii (ঘ) ii ও iii

২৮. বাহ্যিক ঋণের উৎস কোনটি?

- (ক) সোনালী ব্যাংক (খ) বিআরডিবি  
(গ) বাংলাদেশ ব্যাংক (ঘ) জাইকা

২৯. NBR-এর পূর্ণরূপ কী?

- (ক) Nominal Board of Revenue  
(খ) National Board of Revenue  
(গ) National Bank of Reserve  
(ঘ) National Bank of Revenue

৩০. সরকারের ব্যয় বৃদ্ধি পেলে কী হবে?

- (ক) সামাজিক কল্যাণ হ্রাস পাবে  
(খ) দ্রব্য মূল্য হ্রাস পাবে  
(গ) সামগ্রিক চাহিদা বৃদ্ধি পাবে  
(ঘ) বেকার সমস্যা বৃদ্ধি পাবে

ঢাকা রেসিডেনসিয়াল মডেল কলেজ  
অর্থনীতি দ্বিতীয় পত্র ❖ বহুনির্বাচনী অভীক্ষা

পূর্ণমান : ৩০

সময় : ৩০ মিনিট

[বি. দ্র. : সরবরাহকৃত বহুনির্বাচনী অভীক্ষার উত্তরপত্রে প্রশ্নের ক্রমিক নম্বরের বিপরীতে প্রদত্ত বর্ণসংবলিত বৃত্তসমূহ হতে সঠিক/ সর্বোৎকৃষ্ট উত্তরের বৃত্তটি বল পয়েন্ট কলাম দ্বারা সম্পূর্ণ ভরাট কর।]

১. বাংলাদেশের অর্থনীতিতে কোন খাতের অবদান ক্রমান্বয়ে হ্রাস পাচ্ছে?

- (ক) কৃষি (খ) শিল্প  
(গ) সেবা (ঘ) তৈরি পোশাক

২. বর্তমানে GDP-তে কৃষির কোন উপখাতের অবদান বেশি?

- (ক) প্রাণিজ সম্পদ  
(খ) বনজ সম্পদ  
(গ) শস্য ও শাকসবজি  
(ঘ) মৎস্য

■ উদ্দীপকটি পড়ে ৩ ও ৪ নং প্রশ্নের উত্তর দাও :  
কবির একজন কৃষক। তার নিজস্ব জমির পরিমাণ ২ একরের কম। ঐ জমিতে তার পরিবারের সকল সদস্য কাজ করে ভরণপোষণের ব্যবস্থা করেন।

৩. কবিরের কৃষি খামারটি কোন ধরনের?

- (ক) ক্ষুদ্র (খ) বাণিজ্যিক  
(গ) সমবায়ী (ঘ) বিশেষায়িত

৪. উদ্দীপকে উল্লিখিত খামারটির বৈশিষ্ট্য হলো—

- i. জীবননির্বাহী  
ii. মুনাফামুখী  
iii. ছদ্মবেশি বেকারসম্পন্ন

নিচের কোনটি সঠিক?

- (ক) i (খ) i ও ii (গ) i ও iii (ঘ) i, ii ও iii

৫. বৈশ্বিক উষ্ণায়নের প্রভাব নয় কোনটি?

- (ক) ভূমিকম্প  
(খ) সাইক্লোন  
(গ) সমুদ্রপৃষ্ঠের উচ্চতা বৃদ্ধি  
(ঘ) লবণাক্ততা বৃদ্ধি

৬. বাংলাদেশের কৃষি খণ্ডের উপানুষ্ঠানিক উৎস কোনটি?

- (ক) কৃষি ব্যাংক  
(খ) সমবায় ব্যাংক  
(গ) রাজশাহী কৃষি উন্নয়ন ব্যাংক  
(ঘ) গ্রামীণ ব্যাংক

৭. শিল্পনীতি ২০১০ অনুযায়ী বাংলাদেশে শিল্পকে কয় ভাগে ভাগ করা হয়?

- (ক) ৩ (খ) ৬ (গ) ৯ (ঘ) ১২

৮. কুটির শিল্পের উৎপাদিত পণ্য হলো—

- i. তাঁত  
ii. সাবান  
iii. মৃৎ

নিচের কোনটি সঠিক?

- (ক) i (খ) i ও ii (গ) ii ও iii (ঘ) i, ii ও iii

৯. শিল্পনীতি ২০২১৬-এর আলোকে কোনটি অগ্রাধিকার শিল্প?

- i. ঔষধ শিল্প  
ii. জাহাজ নির্মাণ শিল্প  
iii. পর্যটন শিল্প

নিচের কোনটি সঠিক?

- (ক) i (খ) i ও ii (গ) ii ও iii (ঘ) i, ii ও iii

১০. বাংলাদেশের বিজ্ঞানী ড. মাকসুদুল আলম কীসের জীবন রহস্য উন্মোচন করেন?

- (ক) ধান (খ) গম  
(গ) তুলা (ঘ) পাট

১১. বাংলাদেশের দ্বিতীয় চা নিলাম কেন্দ্র কোন জেলায় চালু হয়েছে?

- (ক) ঢাকা (খ) চট্টগ্রাম  
(গ) হবিগঞ্জ (ঘ) মৌলভীবাজার

১২. বৈদেশিক মুদ্রা সাশ্রয়কারী শিল্পকে কী ধরনের শিল্প বলে?

- (ক) আমদানি বিকল্প শিল্প  
(খ) ক্ষুদ্র ও কুটিরশিল্প  
(গ) বৃহৎ শিল্প  
(ঘ) রপ্তানিমুখী শিল্প

১৩. 'ক' একটি দেশ যেখানে ১৫ কোটি লোকের বাস। দেশটির আয়তন ১ লক্ষ ৫০ হাজার বর্গ কি.মি। দেশটির জনসংখ্যার ঘনত্ব কত?

- (ক) ১০০ জন (খ) ১০০০ জন  
(গ) ১০,০০০ জন (ঘ) ১,০০,০০০ জন

১৪. নিচের কোনটি জনসংখ্যার আকারকে প্রভাবিত করে না?

- (ক) অভিবাসন (খ) জন্মহার  
(গ) মৃত্যুহার (ঘ) শিক্ষার হার

■ উদ্দীপকটি পড়ে ১৫ ও ১৬ নং প্রশ্নের উত্তর দাও :  
২০২০ সালে 'ক' দেশের স্থূল জন্মহার ও মৃত্যুহার যথাক্রমে ১৮.৯ এবং ৫.২।

১৫. 'ক' দেশের জনসংখ্যার স্বাভাবিক বৃদ্ধির হার কত?

- (ক) ১.১৭ (খ) ১.২৭  
(গ) ১.৩৭ (ঘ) ১.৪৭

১৬. ZPG = 0 হতে হলে—

- i. CBR এর মান ১৮.৯-এর পরিবর্তে ৫.২ হবে  
ii. CDR এর মান ৫.২ এর পরিবর্তে ১৮.৯ হবে  
iii. CBR ও CDR-এর মান অপরিবর্তিত থাকবে

নিচের কোনটি সঠিক?

- (ক) i (খ) i ও ii  
(গ) i ও iii (ঘ) i, ii ও iii

১৭. An Essay on the Principles of Population - গ্রন্থের লেখক কে?

- (ক) অ্যাডাম স্মিথ (খ) অধ্যাপক মার্শাল  
(গ) টমাস ম্যালথাস (ঘ) পি.এ.স্যামুয়েলসন

১৮. "অধিক পরিমাণ মুদ্রা অল্প পরিমাণ দ্রব্যের পিছনে ধাবিত হওয়ার নাম মুদ্রাস্ফীতি"— উক্তিটি কার?

- (ক) কুলবর্ন (খ) ক্রাউথার  
(গ) জি. অ্যাকলে (ঘ) পিণ্ড

১৯. ২০১৬ সালে চালের কেজি ছিলো ৫০ টাকা। ২০১৭ সালে দাম বৃদ্ধি পেয়ে হয় ৬০ টাকা।

২০১৭ সালে মুদ্রাস্ফীতির হার—

- (ক) ১০% (খ) ১৫%  
(গ) ২০% (ঘ) ২৫%

২০. মুদ্রাস্ফীতি নিয়ন্ত্রণের হাতিয়ার হিসেবে নিচের কোনটি প্রযোজ্য?

- (ক) সীমিত আয়ের লোক  
(খ) ঋণগ্রহীতা  
(গ) উৎপাদনকারী  
(ঘ) কৃষক শ্রেণি

২১. মুদ্রাস্ফীতি নিয়ন্ত্রণের হাতিয়ার হিসেবে নিচের কোনটি প্রযোজ্য?

- i. ব্যাংক হার হ্রাস  
ii. রিজার্ভ অনুপাত বাড়ানো  
iii. খোলাবাজারে ঋণপত্র বিক্রয়

নিচের কোনটি সঠিক?

- (ক) i (খ) i ও ii (গ) i ও iii (ঘ) i, ii ও iii

২২. অনুৎপাদনশীল ব্যয় কোনটি?

- (ক) শিক্ষা (খ) স্বাস্থ্য  
(গ) যুদ্ধ (ঘ) অবকাঠামো

২৩. সরকারি ব্যয়ের উদ্দেশ্য হলো—

- i. মুনাফা অর্জন  
ii. জনকল্যাণ  
iii. মানবসম্পদ উন্নয়ন

নিচের কোনটি সঠিক?

- (ক) i (খ) i ও ii (গ) ii ও iii (ঘ) i, ii ও iii

২৪. যে করের করস্বাত ও করপাত একই ব্যক্তির ওপর পড়ে এ ধরনের করের উদাহরণ হলো—

- (ক) বিক্রয় কর  
(খ) আয় কর  
(গ) আমদানি শুল্ক  
(ঘ) রপ্তানি শুল্ক

২৫. সরকার ঋণ নেয়। কারণ—

- i. মুদ্রাস্ফীতি হ্রাস  
ii. ঘাটতি বাজেটে অর্থায়ন  
iii. উৎপাদন বৃদ্ধি

নিচের কোনটি সঠিক?

- (ক) i (খ) i ও ii (গ) ii ও iii (ঘ) i, ii ও iii

২৬. নিচের কোন দেশ থেকে বাংলাদেশ সবচেয়ে বেশি আমদানি করে?

- (ক) যুক্তরাষ্ট্র (খ) যুক্তরাজ্য  
(গ) ভারত (ঘ) চীন

২৭. বাংলাদেশের আমদানির ব্যয় রপ্তানি আয় অপেক্ষা বেশি হওয়ার কারণ—

- i. বাংলাদেশ কৃষিপ্রধান দেশ  
ii. শ্রমনির্ভর শিল্পোৎপাদনে জড়িত  
iii. রপ্তানি পণ্য কম

নিচের কোনটি সঠিক?

- (ক) i (খ) i ও ii (গ) ii ও iii (ঘ) i, ii ও iii

২৮. কোনটি অপ্রচলিত রপ্তানি পণ্য?

- (ক) তৈরি পোশাক (খ) কাঁচা পাট  
(গ) চা (ঘ) চামড়া

২৯. রপ্তানি বৃদ্ধিতে সরকার কী ব্যবস্থা নিতে পারে?

- (ক) শুল্ক বৃদ্ধি  
(খ) ভর্তুকি হ্রাস  
(গ) ভর্তুকি বৃদ্ধি  
(ঘ) জ্বালানির দাম বৃদ্ধি

৩০. Tax Holiday— সুবিধা পান কারা?

- (ক) ভোক্তা  
(খ) উৎপাদনকারী  
(গ) রপ্তানিকারক  
(ঘ) আমদানিকারক

সরকারি শাহ সুলতান কলেজ, বগুড়া  
অর্থনীতি দ্বিতীয় পত্র ❖ বহুনির্বাচনী অভীক্ষা

সময় : ৩০ মিনিট

পূর্ণমান : ৩০

[বি. দ্র. : সরবরাহকৃত বহুনির্বাচনী অভীক্ষার উত্তরপত্রে প্রশ্নের ক্রমিক নম্বরের বিপরীতে প্রদত্ত বর্ণসংবলিত বৃত্তসমূহ হতে সঠিক/ সর্বোৎকৃষ্ট উত্তরের বৃত্তটি বল পয়েন্ট কলাম দ্বারা সম্পূর্ণ ভরাট কর।]

১. বাংলাদেশের কৃষির সবচেয়ে বড় উপখাত কোনটি?  
 (ক) মৎস্য খাত (খ) শস্য খাত  
 (গ) পশুসম্পদ খাত (ঘ) বনজ খাত
২. বাংলাদেশে কোন ধরনের খামারের প্রাধান্য রয়েছে?  
 (ক) বহুমুখী খামার  
 (খ) জীবন নির্বাহী খামার  
 (গ) সমবায় খামার (ঘ) যৌথ খামার
৩. কৃষিক্ষেত্রে ICT কেন ব্যবহার করা হয়?  
 i. পণ্যের বাজারজাতকরণে  
 ii. কৃষিবিষয়ক সমস্যা সমাধানে  
 iii. কৃষিবিষয়ক সমস্যা চিহ্নিতকরণে  
 নিচের কোনটি সঠিক?  
 (ক) i ও ii (খ) ii ও iii (গ) i ও iii (ঘ) i, ii ও iii
৪. Bio-technology শব্দটির অর্থ—  
 (ক) কৃষি প্রযুক্তি (খ) জৈব প্রযুক্তি  
 (গ) অজৈব প্রযুক্তি (ঘ) আধুনিক প্রযুক্তি
- উদ্দীপকটি পড়ে ৫ ও ৬ নং প্রশ্নের উত্তর দাও :  
 সালাম একজন কৃষক। এ বছর তার জমিতে প্রচুর ধান উৎপাদন হয়েছে। কিন্তু দাম কম থাকায় সে বাজারে ধান বিক্রি করতে পারছে না।
৫. সালাম কোন ধরনের সমস্যার সম্মুখীন?  
 (ক) শস্য বহুমুখীকরণ  
 (খ) কৃষি প্রযুক্তি উদ্ভাবন  
 (গ) কৃষি উপকরণ বিতরণ  
 (ঘ) কৃষিপণ্যের বিপণন
৬. সালামের সমস্যাটি সঠিক সমাধান হলে—  
 i. তিনি ধানের উপযুক্ত দাম পাবেন  
 ii. ভোক্তা যুক্তিসংগত দামে তা ক্রয় করতে পারবে  
 iii. মধ্যস্বত্বভোগীরা সুফল ভোগ করবে  
 নিচের কোনটি সঠিক?  
 (ক) i ও ii (খ) i ও iii (গ) ii ও iii (ঘ) i, ii ও iii
৭. বৈশ্বিক উষ্ণায়নের জন্য মূলত দায়ী কে?  
 (ক) সূর্য (খ) বরফ  
 (গ) মানুষ (ঘ) সমুদ্র
৮. ডায়াবেটিস ব্লাড কোলেস্টের, উচ্চ রক্তচাপ ও ক্যান্সার রোগ নিয়ন্ত্রণের সবজির নাম কী?  
 (ক) লাল শাক (খ) পালং শাক  
 (গ) মাশরুম (ঘ) মিষ্টি আলুর শাক
- উদ্দীপকটি পড়ে ৯ ও ১০ নং প্রশ্নের উত্তর দাও :  
 জনাব জামান ঢাকার মিরপুরে একটি জুতা তৈরির কারখানা স্থাপন করেছেন। কারখানায় ৫০ জন শ্রমিক কাজ করে। তিনি ইতোমধ্যে একটি পাটকল স্থাপন করেছেন। যার স্থায়ী সম্পদ ৬০ কোটি টাকা।
৯. জুতার কারখানাটি কোন ধরনের শিল্প?  
 (ক) কুটির (খ) ক্ষুদ্র  
 (গ) মাঝারি (ঘ) বৃহৎ
১০. জামানের পাটকল স্থাপন জুতা কারখানা স্থাপনের চেয়ে আলাদা কারণ—  
 i. অধিক শ্রমিক  
 ii. অধিক মূলধন  
 iii. আমদানি বিকল্প শিল্প  
 নিচের কোনটি সঠিক?  
 (ক) i ও ii (খ) ii ও iii (গ) i ও iii (ঘ) i, ii ও iii
১১. সরকারি-বেসরকারি অংশীদারিত্ব কী নামে পরিচিত?  
 (ক) APP (খ) BPP  
 (গ) PPP (ঘ) CPP

১২. বর্তমানে বাংলাদেশে কোন শিল্প সম্ভাবনাময় শিল্প হিসেবে বিবেচিত হচ্ছে?  
 (ক) ওয়ুব শিল্প (খ) পাট শিল্প  
 (গ) সিমেন্ট শিল্প (ঘ) চামড়া শিল্প
- উদ্দীপকটি পড়ে ১৩ ও ১৪ নং প্রশ্নের উত্তর দাও :  
 একসময় বাংলাদেশ সকল ইলেকট্রনিক্স সামগ্রী এবং গাড়ির জন্য সম্পূর্ণ বিদেশের ওপর নির্ভরশীল ছিল। কিন্তু বর্তমানে এ ধরনের সামগ্রী দেশের অভ্যন্তরেই কিছু প্রতিষ্ঠান উৎপাদন করছে এবং অর্থনীতিতে অসামান্য অবদান রাখছে।
১৩. উদ্দীপকে উল্লিখিত প্রতিষ্ঠানগুলো বর্তমানে কোন ধরনের শিল্প?  
 (ক) আমদানি বিকল্প শিল্প  
 (খ) রপ্তানিমুখী শিল্প  
 (গ) অগ্রাধিকার শিল্প  
 (ঘ) সংরক্ষিত শিল্প
১৪. উদ্দীপকে বর্ণিত শিল্পের প্রভাবে  
 i. বাণিজ্য ঘাটতি বৃদ্ধি পায়  
 ii. কর্মসংস্থান বৃদ্ধি পায়  
 iii. দ্রুত প্রযুক্তি অর্জন হয়  
 নিচের কোনটি সঠিক?  
 (ক) i ও ii (খ) i ও iii (গ) ii ও iii (ঘ) i, ii ও iii
১৫. কাম্য জনসংখ্যা সূত্র কে প্রদান করেন?  
 (ক) ম্যালথাস (খ) ভল্টন  
 (গ) মার্শাল (ঘ) স্যামুয়েলসন
১৬. বাংলাদেশে সাধারণত কত বছর পর পর আদমশুমারি অনুষ্ঠিত হয়?  
 (ক) ১২ বছর (খ) ১০ বছর  
 (গ) ১৫ বছর (ঘ) ২০ বছর
১৭. জনসংখ্যার ঘনত্ব বলতে বোঝায়—  
 i. দেশের প্রতি বর্গকিলোমিটারে বসবাসরত জনসংখ্যা  
 ii. দেশে প্রতি বর্গমিটারে বসবাসরত জনসংখ্যা  
 iii. দেশের প্রতি মিটারে বসবাসরত জনসংখ্যা  
 নিচের কোনটি সঠিক?  
 (ক) i (খ) ii (গ) iii (ঘ) i, ii ও iii
- উদ্দীপকটি পড়ে ১৮ ও ১৯ নং প্রশ্নের উত্তর দাও :  
 জামাল স্নাতক সম্পন্ন করে যুব উন্নয়ন অধিদপ্তরের কম্পিউটার ট্রেনিং কোর্স সম্পন্ন করে স্থানীয় বাজারে একটি কম্পিউটার দোকান শুরু করল। এতে তার ভালো আয় হতে লাগল।
১৮. জামালের প্রচেষ্টাকে কী বলা যায়?  
 (ক) আত্মকর্মসংস্থান  
 (খ) ব্যবসা  
 (গ) যুব উন্নয়ন কার্যক্রম  
 (ঘ) মানব উন্নয়ন
১৯. জামালের মতো অন্যান্য এরূপ কাজ করলে—  
 i. দারিদ্র্য বিমোচন হবে  
 ii. বেকারত্ব হ্রাস পাবে  
 iii. দ্রুত ধনী হবে  
 নিচের কোনটি সঠিক?  
 (ক) i ও ii (খ) i ও iii (গ) ii ও iii (ঘ) i, ii ও iii
২০. কোন ধরনের জনসংখ্যাকে অর্থনীতিতে মানব সম্পদ বলা হয়?  
 (ক) শিশু (খ) পূর্ণ বয়স্ক  
 (গ) প্রবীণ (ঘ) উৎপাদনশীল

২১. “অধিক পরিমাণ মুদ্রা অল্প পরিমাণ দ্রব্যের পিছনে ধাবিত হওয়ার নাম মুদ্রাস্ফীতি।”—  
 কার উক্তি?  
 (ক) কুলবর্ণ  
 (খ) ব্রনউথার  
 (গ) জি. অ্যাকলে  
 (ঘ) পিণ্ড
- উদ্দীপকটি পড়ে ২২ ও ২৩ নং প্রশ্নের উত্তর দাও :  
 'A' দেশে ২০২০ সালে দামস্তর ছিল ১০০ যা ২০২১ সালে বৃদ্ধি পেয়ে ১২০ হয়। দামস্তর নিয়ন্ত্রণে সরকার কিছু পদক্ষেপ গ্রহণ করেছে।
২২. 'A' দেশে ২০২১ সালে মুদ্রাস্ফীতির হার কত?  
 (ক) ১২% (খ) ২০%  
 (গ) ১০০% (ঘ) ১২০%
২৩. উদ্দীপক অনুযায়ী সরকারের গৃহীত পদক্ষেপ হতে পারে—  
 i. ব্যাংক হার বৃদ্ধি  
 ii. সরকারি ব্যয় বৃদ্ধি  
 iii. উৎপাদন বৃদ্ধি  
 নিচের কোনটি সঠিক?  
 (ক) i ও ii (খ) i ও iii (গ) ii ও iii (ঘ) i, ii ও iii
২৪. ট্যাক্স হলিডে সুবিধা পান কারা?  
 (ক) ভোক্তা (খ) রপ্তানিকারক  
 (গ) আমদানিকারক (ঘ) ব্যবসায়ী
২৫. কোনটি রপ্তানির মাধ্যমে সরকার রেমিট্যান্স পেয়ে থাকে?  
 (ক) জনশক্তি (খ) তৈরি পোশাক  
 (গ) চিংড়ি (ঘ) চামড়া
২৬. আন্তর্জাতিক বাণিজ্যের প্রয়োজন হয়—  
 i. উদ্বৃত্ত পণ্য রপ্তানিতে  
 ii. ঘাটতি পণ্য আমদানিতে  
 iii. উচ্চ শিক্ষা অর্জনে  
 নিচের কোনটি সঠিক?  
 (ক) i ও ii (খ) i ও iii (গ) ii ও iii (ঘ) i, ii ও iii
২৭. বিশ্বায়ন বলতে মূলত বোঝায়—  
 (ক) ভৌগোলিক বিশ্বায়ন  
 (খ) অর্থনৈতিক বিশ্বায়ন  
 (গ) রাজনৈতিক বিশ্বায়ন  
 (ঘ) তথ্যগত বিশ্বায়ন
২৮. দেশের অভ্যন্তরে যে বাণিজ্য সংগঠিত হয় তাকে কী বলে?  
 (ক) অভ্যন্তরীণ (খ) আন্তর্জাতিক  
 (গ) আঞ্চলিক (ঘ) অবাধ
- উদ্দীপকটি পড়ে ২৯ ও ৩০ নং প্রশ্নের উত্তর দাও :  
 সরকার কর ও করবহির্ভূত উৎস হতে রাজস্ব সংগ্রহ করে রাষ্ট্রীয় ব্যয় নির্বাহ করে থাকে। অধিকন্তু সরকার অভ্যন্তরীণ ও বৈদেশিক উৎস থেকে ঋণ সংগ্রহ করতে পারে।
- উদ্দীপকে উল্লিখিত সরকারের রাজস্বের প্রধান উৎস কোনটি?  
 (ক) জরিমানা (খ) কর  
 (গ) ফি (ঘ) অনুদান
৩০. উদ্দীপকে উল্লিখিত কোন উৎসটি দেশকে পরনির্ভরশীল করে?  
 (ক) কর রাজস্ব  
 (খ) কর বহির্ভূত রাজস্ব  
 (গ) অভ্যন্তরীণ ঋণ  
 (ঘ) বৈদেশিক ঋণ

**ক্যান্টনমেন্ট কলেজ, যশোর**  
**অর্থনীতি দ্বিতীয় পত্র** ❖ **বহুনির্বাচনী অভীক্ষা**

সময় : ৩০ মিনিট

পূর্ণমান : ৩০

[বি. দ্র. : সরবরাহকৃত বহুনির্বাচনী অভীক্ষার উত্তরপত্রে প্রশ্নের ক্রমিক নম্বরের বিপরীতে প্রদত্ত বর্ণসংবলিত বৃত্তসমূহ হতে সঠিক/ সর্বোৎকৃষ্ট উত্তরের বৃত্তটি বল পয়েন্ট কলাম দ্বারা সম্পূর্ণ ভরাট কর।]

১. শস্য বহুমুখীকরণের ফলে—  
 (ক) খাদ্য ঝুঁকি বৃদ্ধি পায়  
 (খ) কৃষকদের আয় কমে  
 (গ) খাদ্য উৎপাদন কমে  
 (ঘ) মাটির উর্বরতা বৃদ্ধি পায়
২. VAT-এর পূর্ণরূপ কী?  
 (ক) Value and Tax  
 (খ) Valuable actual Tax  
 (গ) Very Aggressive Tax  
 (ঘ) Value Added Tax
৩. 'An Essay on the principles of population' গ্রন্থটির লেখক কে?  
 (ক) অধ্যাপক মার্শাল  
 (খ) অ্যাডাম স্মিথ  
 (গ) ম্যালথাস  
 (ঘ) এল. রবিন্স
৪. বাংলাদেশে আদর্শ কৃষি খামারের আয়তন কত একর?  
 (ক) ১০ (খ) ৯ (গ) ৪ (ঘ) ৩
৫. বৃহৎ শিল্প (ম্যানুফ) খাতে নিয়োজিত শ্রমিকের সংখ্যা কতজন?  
 (ক) ২৫০ জনের অধিক (খ) ১০০-২৫০ জন  
 (গ) ৫০-১০০ জন (ঘ) ২৫-৯৯ জন
৬. অর্থনৈতিক কর্মকাণ্ডকে উজ্জীবিত করে কোন ধরনের মুদ্রাস্ফীতি?  
 (ক) ধীর (খ) মৃদু  
 (গ) অতি উচ্চ (ঘ) চাহিদা প্ররোচিত
৭. 'পৃথিবীর সবচেয়ে পুরাতন শিল্প হলো কৃষি'— কে বলেছেন?  
 (ক) আর.এল. কোহেন  
 (খ) জি.ও.ব্রায়েন  
 (গ) এ.আর.খান  
 (ঘ) এম.এম আকাশ
৮. বাংলাদেশে কাম্য জনসংখ্যা এবং প্রকৃত জনসংখ্যা যথাক্রমে ১০ কোটি এবং ১৮ কোটি হলে অসামঞ্জস্যের পরিমাণ কত?  
 (ক) - ০.৪ (খ) ০.৪  
 (গ) - ০.৮ (ঘ) ০.৮
৯. মুদ্রাস্ফীতির ফলে কোনো অর্থনীতিতে—  
 i. দামস্তর বৃদ্ধি পায়  
 ii. অর্থের ক্রয়ক্ষমতা বৃদ্ধি পায়  
 iii. সামগ্রিক যোগান অপেক্ষা সামগ্রিক চাহিদা বৃদ্ধি পায়  
 নিচের কোনটি সঠিক?  
 (ক) i ও ii (খ) ii ও iii (গ) i ও iii (ঘ) i, ii ও iii
১০. অশোধিত জন্মহারের সংক্ষিপ্তরূপ কোনটি?  
 (ক) CDR (খ) CBR (গ) CRR (ঘ) CRB
১১. মুদ্রাস্ফীতি এমন একটি পরিস্থিতি যখন অর্থের মূল্য ক্রমাগত হ্রাস পায়, অর্থাৎ দ্রব্যের দাম ক্রমেই বৃদ্ধি পায়।— সংজ্ঞাটি কে দিয়েছেন?  
 (ক) অধ্যাপক পিণ্ড  
 (খ) অর্থনীতিবিদ ক্রাউথার  
 (গ) অর্থনীতিবিদ জি. অ্যাকলে  
 (ঘ) অধ্যাপক লর্ড কেইনস
- উদ্দীপকটি পড়ে ১২ ও ১৩ নং প্রশ্নের উত্তর দাও :  
 আমজাদ বিশ্বাস কেরানীগঞ্জে একটি শিল্প কারখানা স্থাপন করেছেন। তার অধিকাংশই নারী শ্রমিক। তার উৎপাদিত দ্রব্য তিনি পশ্চিমা দেশগুলোতে রপ্তানি করেন।
১২. উদ্দীপকে উল্লিখিত শিল্পটি কোন ধরনের?  
 (ক) বস্ত্র শিল্প (খ) পাটজাত শিল্প  
 (গ) পোশাক শিল্প (ঘ) চামড়া শিল্প
১৩. উদ্দীপকে উল্লিখিত শিল্পটির অর্থনৈতিক গুরুত্ব হলো—  
 i. বৈদেশিক মুদ্রা অর্জন  
 ii. পরিবেশ বান্ধব শিল্প  
 iii. অধিক কর্মসংস্থান সৃষ্টি  
 নিচের কোনটি সঠিক?  
 (ক) i ও ii (খ) i ও iii (গ) ii ও iii (ঘ) i, ii ও iii
১৪. ব্যাংক হার বাড়িয়ে মুদ্রাস্ফীতি নিয়ন্ত্রণে গুরুত্বপূর্ণ ভূমিকা পালন করে কোন ব্যাংক?  
 (ক) বাণিজ্যিক (খ) বিশেষায়িত  
 (গ) ইসলামি (ঘ) কেন্দ্রীয়
১৫. প্রশাসনিক রাজস্ব কোনটি?  
 (ক) প্রত্যক্ষ কর  
 (খ) পরোক্ষ কর  
 (গ) বাজেয়াপ্ত জামানত  
 (ঘ) বিমান ভাড়া
১৬. পোশাক শিল্পের মেরুদণ্ড কোনটি?  
 (ক) বিদেশি ক্রেতা  
 (খ) সস্তা শ্রম  
 (গ) রাজনৈতিক স্থিতিশীলতা  
 (ঘ) সুতা ও কাপড়
১৭. ট্যান্ড হলিডে সুবিধা পান কারা?  
 (ক) ভোক্তা  
 (খ) রপ্তানিকারক  
 (গ) আমদানিকারক  
 (ঘ) ব্যবসায়ী
১৮. পরোক্ষ কর কোনটি?  
 (ক) সম্পদ কর  
 (খ) আয় কর  
 (গ) ভ্যাট  
 (ঘ) কর্পোরেশন কর
১৯. মৃতভার ঋণ কোনটি?  
 (ক) কৃষি প্রকল্প পরিচালনা  
 (খ) যুদ্ধ পরিচালনা  
 (গ) সেতু নির্মাণ  
 (ঘ) বিনোদন পার্ক স্থাপন
২০. শিল্পনীতি ২০১০ অনুসারে ১০০ হতে ২৫০ জন শ্রমিক নিয়োজিত থাকে কী ধরনের শিল্পে?  
 (ক) ক্ষুদ্র (খ) অতি ক্ষুদ্র  
 (গ) মাঝারি (ঘ) বৃহৎ
- উদ্দীপকটি পড়ে ২১ ও ২২ নং প্রশ্নের উত্তর দাও :  
 বাংলাদেশ নিজস্ব অর্থায়নে পদ্মা সেতু নির্মাণ সম্পন্ন করেছে। অভ্যন্তরীণ উৎস হতে অর্থ সংগ্রহ বৃদ্ধির লক্ষ্যে সরকার কর রাজস্ব ও কর বহির্ভূত রাজস্ব-এর আওতা বৃদ্ধি করেছে।
২১. উদ্দীপকে উল্লিখিত কর রাজস্ব কোনটি?  
 (ক) আয়কর (খ) ফি  
 (গ) সরকারি ঋণ (ঘ) জরিমানা
২২. উদ্দীপকে উল্লিখিত কর বহির্ভূত রাজস্ব হচ্ছে—  
 i. সরকারি ঋণ  
 ii. দান-অনুদান  
 iii. জরিমানা  
 নিচের কোনটি সঠিক?  
 (ক) i ও ii (খ) i ও iii (গ) ii ও iii (ঘ) i, ii ও iii
২৩. দিয়াশলাই ও তামাক উৎপাদনের ওপর যে কর ধার্য করা হয়, তাকে কী বলে?  
 (ক) আবগারি শুল্ক  
 (খ) মাদক শুল্ক  
 (গ) বাণিজ্য শুল্ক  
 (ঘ) বিক্রয় কর
২৪. বাংলাদেশের রপ্তানি পণ্যের বৃহৎ বাজার কোনটি?  
 (ক) যুক্তরাষ্ট্র  
 (খ) ইউরোপীয় ইউনিয়ন  
 (গ) যুক্তরাজ্য  
 (ঘ) চীন
২৫. পরম ব্যয় সুবিধার কারণে দুটি দেশের মধ্যে আন্তর্জাতিক বাণিজ্য সংঘটিত হয়—এটি কে বলেছেন?  
 (ক) অ্যাডাম স্মিথ  
 (খ) ডেভিড রিকার্ডো  
 (গ) আলফ্রেড মার্শাল  
 (ঘ) এল. রবিন্স
২৬. আন্তর্জাতিক বাণিজ্যের প্রয়োজনীয় হচ্ছে একটি দেশের—  
 i. এক বা একাধিক পণ্য অতিরিক্ত উৎপাদন করা  
 ii. সকল পণ্যেই স্বয়ংসম্পূর্ণ হওয়া  
 iii. এক বা একাধিক পণ্যে ঘাটতি থাকা  
 নিচের কোনটি সঠিক?  
 (ক) i ও ii (খ) i ও iii (গ) ii ও iii (ঘ) i, ii ও iii
২৭. প্রত্যক্ষ করের সবচেয়ে গুরুত্বপূর্ণ উৎস কোনটি?  
 (ক) মূল্য সংযোজন কর  
 (খ) ভূমি কর  
 (গ) আয় কর  
 (ঘ) সম্পদ কর
২৮. Excise Duties কী?  
 (ক) সম্পূরক শুল্ক  
 (খ) আমদানি শুল্ক  
 (গ) আবগারি শুল্ক  
 (ঘ) মাদক শুল্ক
২৯. সরকারি ব্যয়ের খাতসমূহ হলো—  
 i. দেশ রক্ষা  
 ii. সামাজিক নিরাপত্তা  
 iii. জরুরি অবস্থা মোকাবিলা  
 নিচের কোনটি সঠিক?  
 (ক) i ও ii (খ) i ও iii (গ) ii ও iii (ঘ) i, ii ও iii
৩০. বাংলাদেশে প্রথম কত সালে আদমশুমারি হয়?  
 (ক) ১৯৭১ (খ) ১৯৭৪  
 (গ) ১৯৮১ (ঘ) ১৯৮৪

## ফেনী সরকারি কলেজ

## অর্থনীতি দ্বিতীয় পত্র ❖ বহুনির্বাচনি অভীক্ষা

সময় : ৩০ মিনিট

পূর্ণমান : ৩০

[বি. দ্র. : সরবরাহকৃত বহুনির্বাচনি অভীক্ষার উত্তরপত্রে প্রশ্নের ক্রমিক নম্বরের বিপরীতে প্রদত্ত বর্ণসংবলিত বৃত্তসমূহ হতে সঠিক/ সর্বোৎকৃষ্ট উত্তরের বৃত্তটি বল পয়েন্ট কলাম দ্বারা সম্পূর্ণ ভরাট কর।]

১. বাংলাদেশের সঙ্গে বাণিজ্য সম্পর্ক নেই—

- (ক) ভারত (খ) পাকিস্তান  
(গ) ইংল্যান্ড (ঘ) ইসরাইল

২. একই দেশের বিভিন্ন অঞ্চলের মধ্যে সংঘটিত বাণিজ্য হলো—

- (ক) স্থানীয় বাণিজ্য  
(খ) অভ্যন্তরীণ বাণিজ্য  
(গ) আন্তর্জাতিক বাণিজ্য  
(ঘ) রপ্তানি বাণিজ্য

৩. কোনটি বাংলাদেশের অপ্রচলিত রপ্তানি বাণিজ্য পণ্য?

- (ক) শাকসবজি (খ) ফলমূল  
(গ) চা (ঘ) তৈরি পোশাক

৪. নিচের কোনটি কুটির শিল্প?

- (ক) প্লাস্টিক শিল্প  
(খ) মৃৎ শিল্প  
(গ) সিরামিক শিল্প  
(ঘ) সাবান শিল্প

৫. মালিকানার ভিত্তিতে কৃষি খামার কয় প্রকার?

- (ক) ২ (খ) ৩  
(গ) ৪ (ঘ) ৫

৬. যদি  $M = \frac{A-O}{O}$  হয়, তাহলে  $M = 0$  হলে, কী নির্দেশ করে?

- (ক) উচ্চ জনসংখ্যা  
(খ) নিম্ন জনসংখ্যা  
(গ) কাম্য জনসংখ্যা  
(ঘ) সুখম জনসংখ্যা

৭. “আন্তর্জাতিক বাণিজ্য হলো দুই বা ততোধিক সার্বভৌম দেশের মধ্যে দ্রব্য ও সেবার লেনদেন”— কে বলেছেন?

- (ক) মার্শাল (খ) অ্যাডাম স্মিথ  
(গ) রিকার্ডো (ঘ) বার্জার

৮. EPZ-এর পূর্ণরূপ—

- (ক) Export Procuring Zoom  
(খ) Export Production Zone  
(গ) Export Process Zilla  
(ঘ) Export Processing Zone

৯. কুটির শিল্পে সর্বাধিক কতজন শ্রমিক থাকে—

- (ক) ১০ জন (খ) ১৫ জন  
(গ) ২৫ জন (ঘ) ৩০ জন

১০. কৃষির উপখাত কয়টি—

- (ক) ৩টি (খ) ৪টি  
(গ) ৫টি (ঘ) ৬টি

■ উদ্দীপকটি পড়ে ১১ ও ১২নং প্রশ্নের উত্তর দাও :  
শরীফ একটি জুতার কারখানা স্থাপন করেছে। এতে ৫০ জন শ্রমিক কাজ করে। ইতোমধ্যে শরীফ একটি পাটকল স্থাপনের কথা ভাবছে। তার মূলধনের পরিমাণ ৬০ কোটি টাকা।

১১. শরীফের জুতা কারখানা কেমন শিল্প?

- (ক) ক্ষুদ্র (খ) মাঝারি  
(গ) বৃহৎ (ঘ) কুটির শিল্প

১২. শরীফের পরবর্তী শিল্পটি কেমন শিল্প হবে?

- (ক) ক্ষুদ্র (খ) মাঝারি  
(গ) বৃহৎ (ঘ) ভারি শিল্প

১৩. ম্যালথাসের মতে জনসংখ্যা বৃদ্ধি পায়—

- (ক) গাণিতিক হারে  
(খ) জ্যামিতিক হারে  
(গ) মৌলিক হারে  
(ঘ) শূন্য হারে

■ উদ্দীপকটি পড়ে ১৪ ও ১৫নং প্রশ্নের উত্তর দাও :

একটি দেশের ২০২০ সালের স্থূল জন্মহার ও মৃত্যুহার ছিল ১৮.৯ ও ৫.২ জন।

১৪. দেশটির NGR কত হবে?

- (ক) ১.১৭ (খ) ২.১৭  
(গ) ১.৩৭ (ঘ) ১.৪৭

১৫. যদি দেশটির আয়তন ৩২০০ বর্গ কি.মি. ও জনসংখ্যা ৮০,০০০ জন হয়, তাহলে জনসংখ্যার ঘনত্ব কত?

- (ক) ২৫ জন  
(খ) ৩৫ জন  
(গ) ১৫ জন  
(ঘ) ০.০৪ জন

■ উদ্দীপকটি পড়ে ১৬ ও ১৭নং প্রশ্নের উত্তর দাও :  
কামরুল একটি ছোট কারখানা পরিচালনা করে। এতে তার বাহিরের কোনো শ্রমিক নেই।

১৬. কামরুলের শিল্পটি কেমন শিল্প?

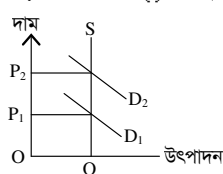
- (ক) কুটির শিল্প  
(খ) নিষ্কাশন শিল্প  
(গ) মাঝারি শিল্প  
(ঘ) ক্ষুদ্র শিল্প

১৭. কোনটি চাষে জমির প্রয়োজন নেই?

- (ক) পাম (খ) তুলা  
(গ) চা (ঘ) মাশরুম

১৮. বাংলাদেশের ‘সাদা সোনা’ বলা হয়—

- (ক) হীরক (খ) ইলিশ  
(গ) চিংড়ি (ঘ) পেট্রোলিয়াম



১৯. চিত্রে কোন ধরনের মুদ্রাস্ফীতি দেখা যায়?

- (ক) উল্লম্বন  
(খ) মৃদু  
(গ) চাহিদার বৃদ্ধি নীতি  
(ঘ) ব্যয় বৃদ্ধি নীতি

২০. PPP মূলত কী?

- (ক) সরকারি উদ্যোগ  
(খ) বেসরকারি উদ্যোগ  
(গ) সরকারি-বেসরকারি উদ্যোগ  
(ঘ) কোনোটিই নয়

২১. কোনটি আমদানিকৃত দ্রব্য—

- (ক) পাট (খ) চা  
(গ) বস্ত্র (ঘ) ওষুধ

২২. শিল্পনীতি অনুসারে শিল্প কয় প্রকার?

- (ক) ৫ (খ) ১২  
(গ) ১৭ (ঘ) ২২

২৩. ২০২২ সালের ১০০ টাকার পণ্যটি ২০২৩ সালে ১১৫ টাকায় ক্রয় করলে মুদ্রাস্ফীতি কত?

- (ক) ১০% (খ) ১৫%  
(গ) ২০% (ঘ) ২৫%

২৪. VAT-এর পূর্ণরূপ—

- (ক) Value Added Tools  
(খ) Value Added Tax  
(গ) Value Advanced Tax  
(ঘ) Value Add Transfer

২৫. কৃষি পণ্য উৎপাদন, বস্তু ও গুদামজাতকরণ ও জোজার কাছে পৌঁছে দেওয়ার নামই হলো—

- (ক) কৃষি রপ্তানি  
(খ) কৃষি আমদানি  
(গ) কৃষি বিপণন  
(ঘ) কৃষি সংরক্ষণ

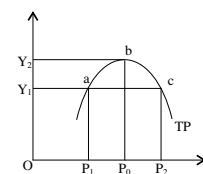
২৬. ‘সোনালি আশ’ কোনটি—

- (ক) তিল (খ) তিসি  
(গ) পাট (ঘ) চামড়া

২৭. মহাসড়ক নির্মাণ, নদী খনন, বৃহৎ সেতু স্থাপন কেমন ব্যয়—

- (ক) কেন্দ্রীয় ব্যয়  
(খ) স্থানীয় ব্যয়  
(গ) মৌলিক ব্যয়  
(ঘ) সরকারি ব্যয়

■ নিচের চিত্রটি লক্ষ কর এবং ২৮ ও ২৯ নং প্রশ্নের উত্তর দাও :



২৮. নিম্ন জনসংখ্যা অঞ্চল কোনটি?

- (ক)  $OP_0$  (খ)  $OP_1$   
(গ)  $P_0P_2$  (ঘ)  $P_1P_0$

২৯. মৃদু মুদ্রাস্ফীতির ধরন কোনটি?

- (ক)  $1 \rightarrow 2 \rightarrow 3$   
(খ)  $10 \rightarrow 20 \rightarrow 50$   
(গ)  $8 \rightarrow 12 \rightarrow 10$   
(ঘ)  $5 \rightarrow 10 \rightarrow 20$

৩০. কোন কর-এ করঘাত ও করপাত একই ব্যক্তির ওপর পড়ে—

- (ক) প্রত্যক্ষ কর  
(খ) পরোক্ষ কর  
(গ) পণ্য কর  
(ঘ) সম্পূরক কর

**কল্পবাজার সরকারি কলেজ**  
**অর্থনীতি দ্বিতীয় পত্র** ❖ **বহুনির্বাচনি অভীক্ষা**

সময় : ৩০ মিনিট

পূর্ণমান : ৩০

[বি. দ্র. : সরবরাহকৃত বহুনির্বাচনি অভীক্ষার উত্তরপত্রে প্রশ্নের ক্রমিক নম্বরের বিপরীতে প্রদত্ত বর্ণসংবলিত বৃত্তসমূহ হতে সঠিক/ সর্বোৎকৃষ্ট উত্তরের বৃত্তটি বল পয়েন্ট কলাম দ্বারা সম্পূর্ণ ভরাট কর।]

১. বাংলাদেশের রপ্তানির সবচেয়ে বড় বাজার—

- (ক) ইউএই (খ) ইইউ  
(গ) ইউকে (ঘ) ইউএসএ

২. TCB-এর কাজ কী?

- (ক) খাদ্য ভেজাল প্রতিরোধ করা  
(খ) ন্যায্যমূল্যে পণ্য বিক্রি  
(গ) পরিবহন ব্যবস্থা নিয়ন্ত্রণ  
(ঘ) তামাক নিয়ন্ত্রণ

৩. বাংলাদেশের সবচেয়ে বেশি রপ্তানি আয় পেয়ে থাকে—

- (ক) জনশক্তি  
(খ) চিংড়ি  
(গ) তৈরি পোশাক  
(ঘ) চামড়া

৪. কোনোরূপ বিধি নিষেধহীন আন্তর্জাতিক বাণিজ্যকে বলা হয়—

- (ক) অবাধ বাণিজ্য  
(খ) আমদানি বাণিজ্য  
(গ) রপ্তানি বাণিজ্য  
(ঘ) সংরক্ষিত বাণিজ্য

■ উদ্দীপকটি পড়ে ৫ ও ৬নং প্রশ্নের উত্তর দাও :

রহমান সাহেব রমযান মাসে সৌদি আরবের খেজুর কিনেছিলেন। পরবর্তীতে তিনি হজে গিয়ে মক্কার দোকানে অনেক বাংলাদেশি জুস দেখতে পেলেন, এটি দেখে তিনি খুব আনন্দিত হলেন—

৫. দেশ দুটি লিখ—

- (ক) আন্তর্জাতিক বাণিজ্য  
(খ) অভ্যন্তরীণ বাণিজ্য  
(গ) আমদানি বাণিজ্য  
(ঘ) রপ্তানি বাণিজ্য

৬. উক্ত বাণিজ্যের সুবিধা হলো—

- i. বৈদেশিক মুদ্রা অর্জিত হয়  
ii. কূটনৈতিক সম্পর্ক জোরদার হয়  
iii. দেশের সম্মান বৃদ্ধি পায়

নিচের কোনটি সঠিক?

- (ক) i ও ii (খ) i ও iii  
(গ) ii ও iii (ঘ) i, ii ও iii

৭. বিশ্বায়নের অসুবিধা হলো—

- (ক) টেকসই উন্নয়ন  
(খ) বৈষম্য হ্রাস  
(গ) নতুন প্রযুক্তির উদ্ভাবন  
(ঘ) পরিবেশ সুরক্ষা

৮. নিচের কোনটি রপ্তানিমুখী শিল্প নয়?

- (ক) গাড়ি  
(খ) চা  
(গ) ঔষধ  
(ঘ) হিমায়িত খাদ্য

৯. বাংলাদেশ সরকার সবচেয়ে বেশি আয় করে কোন খাত থেকে—

- (ক) VAT (খ) রপ্তানি কর  
(গ) আয়কর (ঘ) আবগারি শুল্ক

১০. সরকারি ঋণের বৈদেশিক উৎস কোনটি?

- (ক) গ্রামীণ ব্যাংক  
(খ) বিশ্বব্যাংক  
(গ) বাংলাদেশ ব্যাংক  
(ঘ) সোনালি ব্যাংক

১১. কর রাজস্ব কত প্রকার?

- (ক) ২ (খ) ৪  
(গ) ৩ (ঘ) ৫

১২. কুটির শিল্পের উৎপাদিত পণ্য হলো—

- (ক) তাঁত (খ) সাবান  
(গ) মৃৎ শিল্প (ঘ) সবগুলো

■ উদ্দীপকটি পড়ে ১৩ ও ১৪নং প্রশ্নের উত্তর দাও :

জনাব জাহেদ সাহেব একটি জুতা তৈরির কারখানা স্থাপন করেছেন। কারখানায় ৫০ জন শ্রমিক কাজ করে। তিনি ইতোমধ্যে একটি পাটকল স্থাপন করেছেন। যার স্থায়ী সম্পদ ৬০ কোটি টাকা।

১৩. জুতার কারখানাটি কোন ধরনের শিল্প?

- (ক) কুটির শিল্প (খ) ক্ষুদ্র  
(গ) মাঝারি (ঘ) বৃহৎ

১৪. জাহেদের পাটকল স্থাপন জুতা কারখানা স্থাপনের চেয়ে আলাদা—

- i. অধিক শ্রমিক  
ii. অধিক মূলধন  
iii. আমদানি বিকল্প শিল্প

নিচের কোনটি সঠিক?

- (ক) i ও ii (খ) i ও iii (গ) ii ও iii (ঘ) i, ii ও iii

১৫. বাংলাদেশের শিল্পখাতে উপখাত কয়টি?

- (ক) ২টি (খ) ৪টি  
(গ) ৩টি (ঘ) ৫টি

১৬. নিচের কোনটি সেবাখাতের অন্তর্ভুক্ত—

- (ক) নির্মাণ  
(খ) ম্যানুফ্যাকচারিং  
(গ) পরিবহন  
(ঘ) খনিজ ও খনন

১৭. বাংলাদেশের কৃষিখাতে উপখাত কয়টি?

- (ক) ২ (খ) ৪  
(গ) ৩ (ঘ) ৫

১৮. বাংলাদেশের ঐতিহ্যবাহী বৃহৎশিল্প কোনটি?

- (ক) বস্ত্র (খ) পাট  
(গ) ইস্পাত শিল্প (ঘ) চা

১৯. বহুমুখী খামার কোন ধরনের খামারের সাথে সামঞ্জস্যপূর্ণ—

- (ক) জীবননির্বাহী  
(খ) বাণিজ্যিক  
(গ) বিশেষায়িত  
(ঘ) মিশ্র

২০. লবণাক্ত সহিষ্ণু ধান কীসের উদাহরণ—

- (ক) ব্যয় ফার্মিং  
(খ) বায়োফুয়েল  
(গ) উফশি  
(ঘ) বায়োটেকনোলজি

২১. মাশরুম গবেষণা কেন্দ্র রয়েছে—

- (ক) ঢাকা (খ) গাজীপুর  
(গ) সাভার (ঘ) টাঙ্গাইল

২২. কোনটির সাথে কৃষির সরাসরি সম্পর্ক রয়েছে?

- (ক) সুতা উৎপাদন  
(খ) শ্রম ব্যবস্থাপনা  
(গ) সমবায় গঠন  
(ঘ) দারিদ্র্য বিমোচন

২৩. ক্রান্তীয় চিরহরিৎ বনভূমির জেলা কোনটি?

- (ক) ময়মনসিংহ  
(খ) বাগেরহাট  
(গ) নওগাঁ  
(ঘ) বান্দরবান

২৪. কোন ধরনের জনসংখ্যাকে অর্থনীতিতে মানবসম্পদ বলে?

- (ক) শিশু  
(খ) পূর্ণবয়স্ক  
(গ) প্রবীণ  
(ঘ) উৎপাদনশীল

২৫. ম্যালথাস তার বিখ্যাত জনসংখ্যা তত্ত্বটি কত সালে প্রকাশ করেন?

- (ক) ১৬৯৮ (খ) ১৭৭৮  
(গ) ১৭৫৮ (ঘ) ১৭৯৮

২৬. মানবসম্পদ উন্নয়নের সূচক কয়টি?

- (ক) ২ (খ) ৩  
(গ) ৪ (ঘ) ৫

২৭. মুদ্রাস্ফীতি নিয়ন্ত্রণের রাজস্ব নীতি কে ব্যবহার করে?

- (ক) সরকার  
(খ) আর্থিক প্রতিষ্ঠান  
(গ) বাংলাদেশ ব্যাংক  
(ঘ) NBR

২৮. মুদ্রাস্ফীতির বিপরীত অবস্থা কোনটি?

- (ক) মুদ্রা নিয়ন্ত্রণ  
(খ) মুদ্রা সংকোচন  
(গ) মুদ্রা হ্রাস  
(ঘ) মুদ্রা সরবরাহ

২৯. নিচের কোনটি আর্থিক নীতির হাতিয়ার—

- (ক) সঞ্চয় বৃদ্ধি  
(খ) আমদানি বৃদ্ধি  
(গ) মজুরি নিয়ন্ত্রণ  
(ঘ) ঋণপত্র বিক্রি

৩০. মুদ্রাস্ফীতির ফলে—

- (ক) অর্থের যোগান বাড়ে  
(খ) ক্রেতা লাভবান হয়  
(গ) অর্থের মূল্য হ্রাস পায়  
(ঘ) দামস্তর হ্রাস পায়

## সিলেট সরকারি কলেজ

### অর্থনীতি দ্বিতীয় পত্র ❖ বহুনির্বাচনী অভীক্ষা

সময় : ৩০ মিনিট

পূর্ণমান : ৩০

[বি. দ্র. : সরবরাহকৃত বহুনির্বাচনী অভীক্ষার উত্তরপত্রে প্রশ্নের ক্রমিক নম্বরের বিপরীতে প্রদত্ত বর্ণসংবলিত বৃত্তসমূহ হতে সঠিক/ সর্বোৎকৃষ্ট উত্তরের বৃত্তটি বল পয়েন্ট কলাম দ্বারা সম্পূর্ণ ভরাট কর।]

১. কোন কাজের সাথে প্রাকৃতিক পরিবেশের বিরাট যোগসূত্র রয়েছে?

- (ক) ভূমি (খ) চাষ করা  
(গ) কর্ষণ (ঘ) কৃষি

২. কোন খাতকে পূর্বে কৃষিখাতের অন্তর্ভুক্ত করা হলেও বর্তমানে তা কৃষিখাত বহির্ভূত ধরা হয়?

- (ক) শস্য ও শাকসবজি খাতকে  
(খ) পশুসম্পদ খাতকে  
(গ) মৎস্য খাতকে  
(ঘ) বনজ সম্পদ খাতকে

৩. কৃষির মূল লক্ষ্য হলো—

- i. শিল্পের প্রয়োজনীয় কাঁচামাল সরবরাহ  
ii. শস্য-উদ্ভিদ উৎপাদন  
iii. খাদ্য উৎপাদন

নিচের কোনটি সঠিক?

- (ক) i ও ii (খ) i ও iii (গ) ii ও iii (ঘ) i, ii ও iii

৪. কাঠ, বেত, মোম, মধু, রাবার নিয়ে কোন উপখাতটি গঠিত হয়?

- (ক) শস্য ও শাকসবজি  
(খ) বনজ সম্পদ  
(গ) মৎস্য সম্পদ  
(ঘ) পশু সম্পদ

৫. কৃষির উন্নতির ওপরই আমাদের অর্থনৈতিক উন্নয়ন বহুলাংশে নির্ভরশীল কারণ কৃষি—

- i. খাদ্যের যোগান দেয়  
ii. রাজস্ব বৃদ্ধি করে  
iii. ঋণের সমস্যা দূর করে

নিচের কোনটি সঠিক?

- (ক) i ও ii (খ) i ও iii (গ) ii ও iii (ঘ) i, ii ও iii

৬. একটি দেশের অর্থনৈতিক কর্মকাণ্ডের গতিশীলতার জন্য কোনটি অপরিহার্য?

- (ক) শিল্পের উন্নয়ন  
(খ) কৃষির উন্নয়ন  
(গ) রাজনৈতিক স্থিতিশীলতা  
(ঘ) কাঠামোগত উন্নয়ন

৭. কোন শিল্পে মূল্য সংযোজন কম হলেও কর্মসংস্থান বেশি?

- (ক) মাঝারি (খ) ক্ষুদ্র  
(গ) ফার্ম (ঘ) কুটির

৮. বাংলাদেশের শিল্প কাঠামো অত্যন্ত দুর্বল এবং অনুন্নত থাকার প্রধান কারণ হলো—

- i. উপনিবেশিক শাসন  
ii. পাকিস্তানি শোষণ  
iii. উন্নত মনমানসিকতার অভাব

নিচের কোনটি সঠিক?

- (ক) i ও ii (খ) i ও iii (গ) ii ও iii (ঘ) i, ii ও iii

৯. পারিবারিক সদস্যদের নিয়ে সর্বোচ্চ ১০ জন শ্রমিকের অধিক নয় এমন কারখানাকে কোন শিল্প বলে?

- (ক) মাঝারি শিল্প (খ) ক্ষুদ্র শিল্প  
(গ) কুটির শিল্প (ঘ) বৃহৎ শিল্প

১০. কুটিরশিল্পের অধিকাংশ ঋণ কোন উৎস থেকে সংগৃহীত হয়?

- (ক) প্রাতিষ্ঠানিক (খ) বাণিজ্যিক ব্যাংক  
(গ) বৈদেশিক (ঘ) অপ্রাতিষ্ঠানিক

■ উদ্দীপকটি পড়ে ১১ ও ১২নং প্রশ্নের উত্তর দাও :

‘ক’ একটি উন্নয়নশীল দেশ যেখানে প্রতি বর্গকিলোমিটারে ১,০১৫ জন লোক বাস করে। দেশটির একজন দরিদ্র কৃষক হচ্ছে রহিম। তার পরিবারের সদস্য সংখ্যা ১১ জন। সে গ্রামে কৃষিকাজ করে জীবিকা নির্বাহ করে।

১১. ‘ক’ দেশের সাথে কোন দেশের সাদৃশ্য পাওয়া যায়?

- (ক) বাংলাদেশ (খ) ভারত  
(গ) চীন (ঘ) শ্রীলঙ্কা

১২. রহিমের পরিবারের জনসংখ্যা ঘনত্ব বেশি হওয়ার কারণ হলো—

- i. মাটির উর্বরতা  
ii. জীবনযাত্রার পদ্ধতি  
iii. জলবায়ু

নিচের কোনটি সঠিক?

- (ক) i ও ii (খ) i ও iii (গ) ii ও iii (ঘ) i, ii ও iii

১৩. অশোধিত জন্মহারের সঙ্ক্ষিপ্ত রূপ কোনটি?

- (ক) CDR (খ) CBR (গ) CRR (ঘ) CRB

১৪. স্থায়ী বা অস্থায়ীভাবে বসবাসের লক্ষ্যে একস্থান থেকে অন্যস্থানে চলে যাওয়াকে কী বলে?

- (ক) অভিবাসন (খ) বহির্গমন  
(গ) নিট অভিবাসন (ঘ) নিট বহির্গমন

১৫. মোট আগমন ও নির্গমনের পার্থক্যকে কী বলে?

- (ক) নিট বহির্গমন (খ) মোট অভিবাসন  
(গ) নিট অভিবাসন (ঘ) মোট বহির্গমন

১৬. মুদ্রাস্ফীতি মূলত কী নির্দেশ করে?

- (ক) দাম বৃদ্ধির হার  
(খ) যোগান স্বল্পতা  
(গ) দাম বৃদ্ধির প্রক্রিয়া  
(ঘ) আয় বৃদ্ধির প্রক্রিয়া

১৭. একটি দেশে মুদ্রাস্ফীতি ঘটলে—

- i. দ্রব্যের দাম ক্রমেই বাড়ে  
ii. কার্যকর চাহিদা দ্রুত বাড়ে  
iii. অর্থের মূল্য ক্রমাগত কমে

নিচের কোনটি সঠিক?

- (ক) i ও ii (খ) i ও iii (গ) ii ও iii (ঘ) i, ii ও iii

১৮. কোনটি মুদ্রাস্ফীতির কারণ?

- (ক) উৎপাদন ব্যয় হ্রাস  
(খ) উপকরণের দাম হ্রাস  
(গ) মুদ্রার অবমূল্যায়ন  
(ঘ) পরিবহন ব্যয় হ্রাস

১৯. কোনটি মুদ্রাস্ফীতির অন্যতম বৈশিষ্ট্য?

- (ক) ক্রয়ক্ষমতা হ্রাস (খ) দামস্তর হ্রাস  
(গ) যোগান বৃদ্ধি (ঘ) চাহিদা হ্রাস

■ উদ্দীপকটি পড়ে ২০ ও ২১ নং প্রশ্নের উত্তর দাও :

মিসেস রানু বেগম নিজ উদ্যোগে পাটের সিকা, দোলনা, ব্যাগ, মাদুর বিভিন্ন জিনিস তৈরি করেন। পরবর্তীতে তিনি এসব পণ্য ইউরোপের বিভিন্ন দেশে রপ্তানি করেন।

২০. মিসেস রানু বেগম কী ধরনের বাণিজ্যের সাথে জড়িত?

- (ক) অভ্যন্তরীণ বাণিজ্য  
(খ) আন্তর্জাতিক বাণিজ্য  
(গ) মুক্ত বাণিজ্য  
(ঘ) সংরক্ষিত বাণিজ্য

২১. উক্ত বাণিজ্যের গুরুত্ব হলো—

- i. বিদেশি পুঁজি লাভ  
ii. বৈদেশিক মুদ্রা অর্জন  
iii. দেশি বাজারের প্রসার

নিচের কোনটি সঠিক?

- (ক) i ও ii (খ) i ও iii (গ) ii ও iii (ঘ) i, ii ও iii

২২. বাংলাদেশের বহির্বাণিজ্যের অধিকাংশই কোন পথে পরিচালিত হয়?

- (ক) স্থলপথে (খ) নৌপথে  
(গ) বিমানপথে (ঘ) রেলপথে

২৩. সার্কভুক্ত দেশগুলোর মধ্যে সবচেয়ে বেশি রপ্তানি আয় আসে কোন দেশ থেকে?

- (ক) ভারত (খ) পাকিস্তান  
(গ) শ্রীলঙ্কা (ঘ) নেপাল

■ উদ্দীপকটি পড়ে ২৪ ও ২৫নং প্রশ্নের উত্তর দাও :

বাংলাদেশ ২০২২-২৩ অর্থবছরে রপ্তানিকৃত পণ্যের একটি আইটেম রপ্তানি করে আয়ের ৭৮.৫০% আয় করে।

২৪. রপ্তানিকৃত আইটেমটির নাম কী?

- (ক) তৈরি পোমাক (খ) চা  
(গ) পাট (ঘ) চামড়া

২৫. একটি দেশের রপ্তানির পরিমাণ বাড়লে—

- i. বাজার সম্প্রসারণ হয়  
ii. জীবনযাত্রার মান বাড়ে  
iii. উৎপাদন বৃদ্ধি পায়

নিচের কোনটি সঠিক?

- (ক) i ও ii (খ) i ও iii (গ) ii ও iii (ঘ) i, ii ও iii

২৬. সরকারের মূলধনী ব্যয়ের খাত হলো—

- i. বিদ্যুৎকেন্দ্র স্থাপন  
ii. পরিবহন ও যোগাযোগ ব্যবস্থার উন্নয়ন  
iii. কৃষিখাতে উন্নয়ন

নিচের কোনটি সঠিক?

- (ক) i ও ii (খ) i ও iii (গ) ii ও iii (ঘ) i, ii ও iii

২৭. দেশের ভিতরে প্রশাসনিক কাজ পরিচালনার জন্য সরকারের যে ব্যয় হয় তাকে কী বলে?

- (ক) রাজস্ব আয়  
(খ) মূলধনী ব্যয়  
(গ) কেন্দ্রীয় ব্যয়  
(ঘ) স্থানীয় ব্যয়

২৮. সরকারের ব্যয়কে প্রধানত কয়ভাগে ভাগ করা যায়?

- (ক) ৩ ভাগে (খ) ৫ ভাগে  
(গ) ২ ভাগে (ঘ) ৪ ভাগে

২৯. দেশের অর্থনৈতিক উন্নয়নের উদ্দেশ্যে সরকার কোন ধরনের ব্যয় করে?

- (ক) রাজস্ব ব্যয়  
(খ) মূলধনী ব্যয়  
(গ) কেন্দ্রীয় ব্যয়  
(ঘ) স্থানীয় ব্যয়

৩০. সরকারের রাজস্ব ব্যয়ের খাতগুলো—

- i. প্রতিরক্ষা ব্যয়  
ii. শিক্ষা ও চিকিৎসা প্রতিষ্ঠান স্থাপন  
iii. মানবসম্পদ উন্নয়ন

নিচের কোনটি সঠিক?

- (ক) i ও ii (খ) i ও iii (গ) ii ও iii (ঘ) i, ii ও iii

## বরিশাল সরকারি কলেজ

## অর্থনীতি দ্বিতীয় পত্র ❖ বহুনির্বাচনী অভীক্ষা

পূর্ণমান : ৩০

সময় : ৩০ মিনিট

[বি. দ্র. : সরবরাহকৃত বহুনির্বাচনী অভীক্ষার উত্তরপত্রে প্রশ্নের ক্রমিক নম্বরের বিপরীতে প্রদত্ত বর্ণসংবলিত বৃত্তসমূহ হতে সঠিক/ সর্বোৎকৃষ্ট উত্তরের বৃত্তটি বল পয়েন্ট কলাম দ্বারা সম্পূর্ণ ভরাট কর।]

১. বাংলাদেশের প্রাচীন পেশা কোনটি?

- (ক) মৎস্য শিকার  
(খ) পশুসম্পদ  
(গ) কৃষিকাজ  
(ঘ) ব্যবসায়

২. বাংলাদেশের কৃষির সবচেয়ে বড় উপখাত কোনটি?

- (ক) মৎস্য খাত  
(খ) শস্য খাত  
(গ) পশুসম্পদ খাত  
(ঘ) বনজ খাত

৩. কৃষিকাজে বাংলাদেশের অর্থনৈতিক কাঠামোর কোন খাতের মধ্যে পড়ে?

- (ক) উৎপাদনভিত্তিক  
(খ) মালিকানাভিত্তিক  
(গ) শহুরে খাত  
(ঘ) সেবা খাত

৪. আবাদযোগ্য জমিকে বলে—

- (ক) কৃষিজোত  
(খ) কৃষি খামার  
(গ) জীবননির্বাহী খামার  
(ঘ) বাণিজ্যিক খামার

৫. HYV Technology বলতে কী বোঝায়?

- (ক) তথ্য প্রযুক্তি  
(খ) উফশী প্রযুক্তি  
(গ) পরমাণু প্রযুক্তি  
(ঘ) জৈব প্রযুক্তি

৬. কোন শিল্পে সংরক্ষণের সুবিধাদির দরকার হয়—

- (ক) বৃহৎ  
(খ) মাঝারি  
(গ) আমদানি বিকল্প  
(ঘ) রপ্তানিমুখী

■ উদ্দীপকটি পড়ে ৭ ও ৮নং প্রশ্নের উত্তর দাও :  
নাফিসা একটি শিল্প প্রতিষ্ঠানে কাজ করে। এ শিল্প হতে মোট রপ্তানি আয়ের প্রায় ৮০% অর্জিত হয়। এটি দেশের জন্য গুরুত্বপূর্ণ হলেও এ শিল্পের সমস্যা প্রচুর।

৭. উদ্দীপকে উল্লিখিত শিল্প কোনটি?

- (ক) পাটশিল্প  
(খ) তৈরি পোশাক শিল্প  
(গ) চামড়া শিল্প  
(ঘ) বিড়ি শিল্প

৮. উদ্দীপকের শিল্পটিকে দেশের অর্থনীতির জন্য গুরুত্বপূর্ণ বলার কারণ হলো—

- i. এটি দেশের উদ্যোক্তা সৃষ্টিতে অবদান রাখে  
ii. এটি কর্মসংস্থানে বড় ভূমিকা পালন করে  
iii. এটি পিছিয়ে পড়া জনগোষ্ঠীর আয় বৃদ্ধিতে সহায়তা করে

নিচের কোনটি সঠিক?

- (ক) i ও ii (খ) i ও iii (গ) ii ও iii (ঘ) i, ii ও iii

৯. জনসংখ্যার ঘনত্ব পরিমাপের সূত্র কোনটি?

- (ক)  $DP = \frac{TB}{TP}$  (খ)  $DP = \frac{TP}{TA}$   
(গ)  $DP = \frac{TD}{TR}$  (ঘ)  $DP = \frac{TD}{TA}$

১০. জনসংখ্যা বৃদ্ধির কারণ—

- (ক) জন্মহার বৃদ্ধি  
(খ) জন্মহার হ্রাস  
(গ) মৃত্যুহার বৃদ্ধি  
(ঘ) বাল্য বিবাহ হ্রাস

১১. বাংলাদেশে সাধারণত কত বছর পর পর আদমশুমারি অনুষ্ঠিত হয়?

- (ক) ১২ বছর (খ) ১০ বছর  
(গ) ১৫ বছর (ঘ) ২০ বছর

১২. ম্যালথাসের জনসংখ্যা তত্ত্ব অনুযায়ী জনসংখ্যা বাড়ে—

- (ক) গাণিতিক হারে  
(খ) জ্যামিতিক হারে  
(গ) সমহারে  
(ঘ) অপরিবর্তিত থাকে

১৩. দেশের জনসংখ্যাকে শিক্ষা ও প্রশিক্ষণের দ্বারা জনশক্তিতে রূপান্তরিত করাই—

- (ক) মানবসম্পদ উন্নয়ন  
(খ) দেশের উন্নয়ন  
(গ) জাতীয় সম্পদ বৃদ্ধি  
(ঘ) শিক্ষার প্রসার

১৪. মুদ্রাস্ফীতির প্রধান কারণ কী?

- (ক) মুদ্রার যোগান বৃদ্ধি  
(খ) মুদ্রার চাহিদা বৃদ্ধি  
(গ) সংঘর্ষ বৃদ্ধি  
(ঘ) উৎপাদন বৃদ্ধি

১৫. মুদ্রাস্ফীতির ফলে কোন শ্রেণির মানুষ লাভবান হয়?

- (ক) সংগঠনকারী  
(খ) ধনী কৃষক  
(গ) শ্রমিক  
(ঘ) সাধারণ ভোক্তা

১৬. বাংলাদেশের মুদ্রাস্ফীতি নিয়ন্ত্রণে কয়টি নীতির মাধ্যমে পদক্ষেপ নেওয়া যায়?

- (ক) দুই (খ) তিন  
(গ) চার (ঘ) পাঁচ

১৭. বিশ্বায়নের ফলে যেসব সুযোগ সৃষ্টি হয়—

- i. উপকরণের গতিশীলতা বৃদ্ধি পায়  
ii. অধিক উৎপাদন  
iii. দাম বৃদ্ধি

নিচের কোনটি সঠিক?

- (ক) i ও ii (খ) i ও iii (গ) ii ও iii (ঘ) i, ii ও iii

১৮. "White Gold" বলতে বোঝায়—

- (ক) সার (খ) তুলা  
(গ) তেল (ঘ) চিংড়ি

১৯. প্রত্যক্ষ করের উদাহরণ হচ্ছে—

- i. সম্পদ কর  
ii. মুনাফা কর  
iii. আয়কর

নিচের কোনটি সঠিক?

- (ক) i ও ii (খ) i ও iii (গ) ii ও iii (ঘ) i, ii ও iii

২০. সরকারের ব্যয়কে প্রধানত কয় ভাগে ভাগ করা যায়?

- (ক) দুই (খ) তিন  
(গ) চার (ঘ) ছয়

২১. কোন খাতে বাংলাদেশ সরকারকে সর্বোচ্চ বহন করতে হয়?

- (ক) শিক্ষা ও প্রযুক্তি  
(খ) কৃষি  
(গ) স্বাস্থ্য  
(ঘ) পরিবহন

২২. পরোক্ষ করের উদাহরণ হলো—

- i. বাণিজ্য শুল্ক  
ii. আবগারি শুল্ক  
iii. আয়কর

নিচের কোনটি সঠিক?

- (ক) i ও ii (খ) i ও iii (গ) ii ও iii (ঘ) i, ii ও iii

২৩. সিকিউরিটি প্রিন্টিং ও টাকশাল কোন শিল্পের অন্তর্গত?

- (ক) হাইটেক শিল্প  
(খ) সংরক্ষিত শিল্প  
(গ) অগ্রাধিকার শিল্প  
(ঘ) নিয়ন্ত্রিত শিল্প

২৪. নিচের কোনটি কুটির শিল্প?

- (ক) পাট (খ) প্লাস্টিক  
(গ) তাঁত (ঘ) পোশাক

২৫. বাংলাদেশের বেশিরভাগ শিল্পে কোন ধরনের পণ্য উৎপাদিত হয়?

- (ক) মূলধনী দ্রব্য  
(খ) ভোগ্যপণ্য  
(গ) শিল্পের কাঁচামাল  
(ঘ) রপ্তানি পণ্য

২৬. শিল্পনীতি-২০১০ অনুসারে কুটির শিল্পে শ্রমিক সংখ্যা কতজন?

- (ক) সর্বোচ্চ ১০ জন  
(খ) সর্বোচ্চ ২০ জন  
(গ) সর্বোচ্চ ৩০ জন  
(ঘ) সর্বোচ্চ ৪০ জন

২৭. পোশাক শিল্পে কোন ধরনের শিল্প?

- (ক) মূলধন নিবিড় শিল্প  
(খ) শ্রম নিবিড় শিল্প  
(গ) আমদানি বিকল্প শিল্প  
(ঘ) কুটির শিল্প

২৮. কর রাজস্ব কত প্রকার?

- (ক) ২ (খ) ৩  
(গ) ৪ (ঘ) ৫

২৯. সরকারের রাজস্ব ব্যয় কোনটি?

- (ক) সেতুন নির্মাণ (খ) বয়স্ক ভাতা  
(গ) কর্মচারী বেতন (ঘ) কৃষি উন্নয়ন

৩০.  $V_m = \frac{1}{P}$  সূত্রটির সাহায্যে আমরা কী নির্ণয় করি?

- (ক) অর্থের যোগান  
(খ) অর্থের চাহিদা  
(গ) অর্থের প্রচলন গতি  
(ঘ) অর্থের মূল্য

## কলেজের টেস্ট স্কুল এন্ড কলেজ, রংপুর অর্থনীতি দ্বিতীয় পত্র ● বহুনির্বাচনী অভীক্ষা

সময় : ৩০ মিনিট

পূর্ণমান : ৩০

[বি. ড্র. : সরবরাহকৃত বহুনির্বাচনী অভীক্ষার উত্তরপত্রে প্রশ্নের ক্রমিক নম্বরের বিপরীতে প্রদত্ত বর্ণসংবলিত বৃত্তসমূহ হতে সঠিক/ সর্বোৎকৃষ্ট উত্তরের বৃত্তটি বল পয়েন্ট কলম দ্বারা সম্পূর্ণ ভরাট কর।]

১. বাংলাদেশের অর্থনীতির মূল খাত কোনটি?  
 (ক) শিল্প (খ) কৃষি (গ) সেবা (ঘ) নির্মাণ
২. জীবন নির্বাহী খামারের ক্ষেত্রে কোনটি লক্ষণীয়?  
 (ক) খামারের আয়তন বড় হয়  
 (খ) পারিবারিক ভোগই একমাত্র উদ্দেশ্য  
 (গ) চাষাবাদ পদ্ধতি আধুনিক  
 (ঘ) কারিগরি দিকের কার্যকর প্রয়োগ
৩. বিজ্ঞানী ড. মকসুদুল আলম জীবন রহস্য উন্মোচন করেন—  
 (ক) চা গাছের (খ) পাট গাছের  
 (গ) রাবার গাছের (ঘ) কলা গাছের
৪. বাংলাদেশের কৃষিক্ষেত্রের উপানুষ্ঠানিক উৎস কোনটি?  
 (ক) সোনালী ব্যাংক  
 (খ) বাংলাদেশ ব্যাংক  
 (গ) রাজশাহী কৃষি উন্নয়ন ব্যাংক  
 (ঘ) গ্রামীণ ব্যাংক
৫. পারমাণবিক কৃষি প্রযুক্তির মাধ্যমে সম্ভব—  
 i. উদ্ভিদ ও প্রাণীর রোগ নির্ণয়  
 ii. শস্য বীজ সংরক্ষণের স্থায়িত্ব বাড়ানো  
 iii. জৈব সার প্রস্তুত  
 নিচের কোনটি সঠিক?  
 (ক) i ও ii (খ) i ও iii (গ) ii ও iii (ঘ) i, ii ও iii
৬. শিল্পনীতি-২০২২ অনুসারে শিল্পকে কয়টি শাখায় শ্রেণিবিন্যাস করা হয়েছে?  
 (ক) ৯ (খ) ১২ (গ) ১৫ (ঘ) ১৭
৭. বিশ্বব্যাপী পাটের চাহিদা হ্রাসের অন্যতম কারণ—  
 (ক) পাট চাষ কষ্টকর  
 (খ) পাটের নিম্নমান  
 (গ) সিনথেটিক পণ্য উৎপাদন  
 (ঘ) পাটের নিম্নমূল্য
৮. স্টেপল ফাইবার কোন শিল্পের কাঁচামাল?  
 (ক) সার (খ) সিমেন্ট  
 (গ) পোশাক শিল্প (ঘ) লৌহ
- উদ্দীপকটি পড়ে ৯ ও ১০ নং প্রশ্নের উত্তর দাও :  
 দুই বছর সহযোগিতা এবং দশ লক্ষ টাকা বিনিয়োগ করে জনাব 'X' দেশে স্যানিটারি পাইপ তৈরির কারখানা গড়ে তোলেন। তারা গত বছর সর্বসাকুল্যে এক লক্ষ টাকা মুনাফা অর্জন করেন।
৯. জনাব 'X'-এর কারখানাটি কোন শিল্পের অন্তর্গত?  
 (ক) বহৎ (খ) মাঝারি  
 (গ) মাইক্রো (ঘ) কুটির
১০. উদ্দীপকে উল্লিখিত শিল্পের বৈশিষ্ট্য হলো—  
 i. ১৬-৩০ জন শ্রমিক থাকে  
 ii. বিদ্যুৎ ব্যবহৃত হয় না  
 iii. পণ্যের বাজার সীমিত  
 নিচের কোনটি সঠিক?  
 (ক) i ও ii (খ) i ও iii (গ) ii ও iii (ঘ) i, ii ও iii
১১. আধুনিক জনসংখ্যা বিজ্ঞানের জনক কে?  
 (ক) T.R. Malthus (খ) Dalton  
 (গ) J. Graunt (ঘ) Boulding
- উদ্দীপকটি পড়ে ১২ ও ১৩ নং প্রশ্নের উত্তর দাও :  
 'ক' দেশে ২০১৮ সালে ১২ লক্ষ জীবিত শিশু জন্মগ্রহণ করে এবং ১০ লক্ষ লোক মৃত্যুবরণ করে। ওই বছরের মধ্যে সময়ের জনসংখ্যা ১০ কোটি।
১২. ২০১৮ সালে 'ক' দেশে স্থূল জন্মহার প্রতি হাজারে কত ছিল?  
 (ক) ৮ (খ) ১০ (গ) ১২ (ঘ) ১৪

১৩. দেশটিতে ওই সময়ে মৃত্যুবরণকারী সংখ্যা যদি হ্রাস পায় তবে স্থূল মৃত্যুহার—  
 (ক) স্থির থাকবে (খ) শূন্য হবে  
 (গ) কমবে (ঘ) বাড়বে
১৪. 'An Essay On the Principles of Population'— গ্রন্থের লেখক কে?  
 (ক) অ্যাডাম স্মিথ  
 (খ) অধ্যাপক মার্শাল  
 (গ) টমাস ম্যালথাস  
 (ঘ) পি.এ. স্যামুয়েলসন
- উদ্দীপকটি পড়ে ১৫ ও ১৬ নং প্রশ্নের উত্তর দাও :  
 কোনো দেশের প্রকৃত জনসংখ্যা ২৫ কোটি ও কাম্য জনসংখ্যা ২০ কোটি।
১৫. দেশটির জনসংখ্যায় অসামঞ্জস্যের পরিমাণ কত?  
 (ক) -০.২৫ (খ) ০.৩৩ (গ) ০.২৫ (ঘ) -০.৩০
১৬. উক্ত পরিস্থিতিতে সরকারের উচিত—  
 i. জনগণকে সচেতন করা  
 ii. যোগাযোগ ব্যবস্থার উন্নতি করা  
 iii. পরিবার পরিকল্পনা কর্মসূচি জোরদার করা  
 নিচের কোনটি সঠিক?  
 (ক) i ও ii (খ) i ও iii (গ) ii ও iii (ঘ) i, ii ও iii
১৭. 'Inflation is such a situation when too much money chases too few goods'— সংজ্ঞাটি কে প্রদান করেছেন?  
 (ক) অর্থনীতিবিদ ক্রাউথার  
 (খ) অধ্যাপক কুলবর্গ  
 (গ) অধ্যাপক পিগু  
 (ঘ) অধ্যাপক হট্টে
১৮. একটি দেশে ২০২০ সালে প্রতি কেজি চালের দাম ছিল ৫০ টাকা এবং ২০২১ সালে তা বৃদ্ধি পেয়ে হয়েছে ৫৩ টাকা। মুদ্রাস্ফীতির হার কত?  
 (ক) ৪% (খ) ৫% (গ) ৬% (ঘ) ৭%
১৯. কোনটি মুদ্রাস্ফীতি নিয়ন্ত্রণের উপায়—  
 i. করের হার বৃদ্ধি  
 ii. ঋণপত্র বিক্রয়  
 iii. ব্যাংক হার বৃদ্ধি  
 নিচের কোনটি সঠিক?  
 (ক) i ও ii (খ) i ও iii (গ) ii ও iii (ঘ) i, ii ও iii
- নিচের চিত্রটি লক্ষ কর এবং ২০ ও ২১ নং প্রশ্নের উত্তর দাও :
- 
২০. উদ্দীপকের চিত্রে কী ধরনের মুদ্রাস্ফীতি নির্দেশ করে?  
 (ক) চাহিদা বৃদ্ধিজনিত (খ) ব্যয় বৃদ্ধিজনিত  
 (গ) যোগান বৃদ্ধিজনিত (ঘ) ঘাটতি ব্যয়জনিত
২১. উদ্দীপকে নির্দেশিত মুদ্রাস্ফীতির কারণ—  
 i. শ্রমিকের মজুরি বৃদ্ধি  
 ii. উপকরণের মূল্য বৃদ্ধি  
 iii. সরকারি ব্যয় বৃদ্ধি  
 নিচের কোনটি সঠিক?  
 (ক) i ও ii (খ) ii ও iii (গ) i ও iii (ঘ) i, ii ও iii
২২. বাংলাদেশের রপ্তানি বাণিজ্যের উন্নয়নকল্পে কোন সংস্থাটি কাজ করে যাচ্ছে?  
 (ক) জাতীয় রপ্তানি কাউন্সিল  
 (খ) রপ্তানি উন্নয়ন কর্পোরেশন  
 (গ) রপ্তানি উন্নয়ন ফোরাম  
 (ঘ) রপ্তানি উন্নয়ন ব্যুরো

২৩. Tax-holiday সুবিধা পান কারা?  
 (ক) ভোক্তা (খ) উৎপাদনকারী  
 (গ) রপ্তানিকারক (ঘ) আমদানিকারক
- উদ্দীপকটি পড়ে ২৪ ও ২৫ নং প্রশ্নের উত্তর দাও :  
 'ব' দেশ বিগত শতাব্দী থেকে পাট, চা ও চামড়া রপ্তানি করে আসছে। কিন্তু গত দশক থেকে হস্তশিল্প, তৈরি পোশাক ও হিমায়িত মাছ ইত্যাদি রপ্তানি করছে।
২৪. উদ্দীপক অনুযায়ী প্রচলিত রপ্তানি দ্রব্য কোনটি?  
 (ক) তৈরি পোশাক (খ) চামড়া  
 (গ) হস্তশিল্প (ঘ) হিমায়িত মাছ
২৫. উদ্দীপক অনুযায়ী গত দশক থেকে নতুন পণ্য রপ্তানি দেশের অর্থনীতিতে যেভাবে সহায়তা করছে তা হলো—  
 i. অনুকূল বাণিজ্য ভারসাম্য অর্জন  
 ii. বৈদেশিক মুদ্রার রিজার্ভ বৃদ্ধি  
 iii. কর্মসংস্থান বৃদ্ধি  
 নিচের কোনটি সঠিক?  
 (ক) i (খ) ii (গ) i ও iii (ঘ) i, ii ও iii
২৬. বিশ্বায়নের প্রভাব হলো—  
 i. পণ্যের দাম বৃদ্ধি  
 ii. পুঁজির অবাধ প্রবাহ  
 iii. প্রযুক্তির উদ্ভাবন  
 নিচের কোনটি সঠিক?  
 (ক) i ও ii (খ) i ও iii (গ) ii ও iii (ঘ) i, ii ও iii
২৭. প্রত্যক্ষ কর কোনটি?  
 (ক) বাণিজ্য শুল্ক  
 (খ) আবগারি শুল্ক  
 (গ) আয়কর  
 (ঘ) মূল্য সংযোজন কর
- উদ্দীপকটি পড়ে ২৮ ও ২৯ নং প্রশ্নের উত্তর দাও :  
 ২০২১-২০২২ অর্থবছরে বাংলাদেশের জাতীয় বাজেটে মোট ব্যয় ধরা হয় ৬ লাখ ৩ হাজার ৬১৮ কোটি টাকা। এ বিশাল অর্থসংস্থানের প্রধান ও স্থায়ী উৎস হলো NBR নিয়ন্ত্রিত করসমূহ। এর পাশাপাশি কর বহির্ভূত রাজস্বের বাইরে সরকার প্রয়োজনে ঋণ গ্রহণের মাধ্যমে অর্থসংস্থানের পরিকল্পনা গ্রহণ করেছে।
২৮. সরকারি ব্যয়ের অর্থসংস্থানের উল্লিখিত স্থায়ী উৎসে নিচের কোনটির অবদান সবচেয়ে বেশি?  
 (ক) আমদানি শুল্ক  
 (খ) মূল্য সংযোজন কর  
 (গ) আয়কর  
 (ঘ) আবগারি শুল্ক
২৯. সরকারি ব্যয়ের অর্থসংস্থানের শেষোক্ত উৎস হতে অর্থায়নের উদ্দেশ্য কী?  
 i. সরকার ও জনপ্রশাসন পরিচালনা  
 ii. আর্থসামাজিক অবকাঠামো বিনির্মাণ  
 iii. ঘাটতি বাজেটে অর্থায়ন  
 নিচের কোনটি সঠিক?  
 (ক) i ও ii (খ) i ও iii (গ) ii ও iii (ঘ) i, ii ও iii
৩০. ধনী ব্যক্তিদের ওপর ধার্যকৃত কর হলো—  
 i. প্রত্যক্ষ কর  
 ii. আয়কর  
 iii. বিশেষ কর  
 নিচের কোনটি সঠিক?  
 (ক) i ও ii (খ) i ও iii (গ) ii ও iii (ঘ) i, ii ও iii

## নটর ডেম কলেজ, ময়মনসিংহ

### অর্থনীতি দ্বিতীয় পত্র ❖ বহুনির্বাচনি অভীক্ষা

সময় : ৩০ মিনিট

পূর্ণমান : ৩০

[বি. দ্র. : সরবরাহকৃত বহুনির্বাচনি অভীক্ষার উত্তরপত্রে প্রশ্নের ক্রমিক নম্বরের বিপরীতে প্রদত্ত বর্ণসংবলিত বৃত্তসমূহ হতে সঠিক/ সর্বোৎকৃষ্ট উত্তরের বৃত্তটি বল পয়েন্ট কলাম দ্বারা সম্পূর্ণ ভরাট কর।]

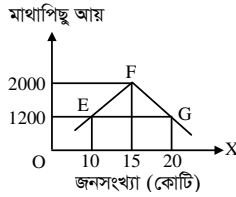
১. শিল্পনীতি-২০১০ অনুসারে শিল্প কত প্রকার?

- ক) ৫      খ) ৯      গ) ১২      ঘ) ১৭

২. ভোক্তাদের বহুমুখী চাহিদা পূরণ করে কোন শিল্প?

- ক) কুটির      খ) ক্ষুদ্র  
গ) মাঝারি      ঘ) বৃহৎ

■ নিচের চিত্রটি লক্ষ কর এবং ৩ ও ৪ নং প্রশ্নের উত্তর দাও :



৩. উদ্দীপকের চিত্রে F বিন্দুতে অসামঞ্জস্যের পরিমাণ (M) নির্ণয় কর?

- ক)  $M = 0$       খ)  $M > 0$   
গ)  $M < 0$       ঘ)  $M = 1$

৪. উদ্দীপকের চিত্রে F বিন্দুতে কী নির্দেশ করে?

- i. জীবনযাত্রার মান নিম্ন  
ii. মাথাপিছু আয় সর্বোচ্চ  
iii. প্রত্যাশিত জনসংখ্যা

নিচের কোনটি সঠিক?

- ক) i ও ii      খ) i ও iii      গ) ii ও iii      ঘ) i, ii ও iii

৫. মানব সম্পদ উন্নয়নের সূচক নয় কোনটি?

- ক) নৈতিকতা  
খ) জীবনযাত্রার মান  
গ) শিক্ষার্জন  
ঘ) আয়ুষ্কাল

৬. নিচের কোনটি পণ্য কর নয়?

- ক) আবগারি শুল্ক  
খ) মূল্যসংযোজন কর  
গ) মুনাফা কর  
ঘ) সম্পূরক শুল্ক

৭. কৃষিক্ষেত্রের উপানুষ্ঠানিক উৎস কোনটি?

- ক) দোকানদার  
খ) কেন্দ্রীয় ব্যাংক  
গ) গ্রামীণ ব্যাংক  
ঘ) বাংলাদেশ কৃষি ব্যাংক

৮. কৃষিপণ্য উৎপাদক হতে ভোক্তা পর্যন্ত পৌঁছানোর প্রক্রিয়াকে কী বলে?

- ক) কৃষি বিপণন  
খ) বিনিময়  
গ) কৃষিপণ্য ব্যবস্থাপনা  
ঘ) বণ্টন ব্যবস্থাপনা

৯. স্থায়ী সম্পদ ৩০ কোটির অধিক এবং শ্রমিক সংখ্যা ২৫০ জনের অধিক হলে শিল্পের প্রকৃতি কী?

- ক) কুটির      খ) ক্ষুদ্র  
গ) মাঝারি      ঘ) বৃহৎ

১০. শূন্য জনসংখ্যা বৃদ্ধি বলতে কী বোঝায়?

- ক) জন্মহার বৃদ্ধির হার শূন্য  
খ) মৃত্যুহার শূন্য  
গ) জন্মহার হ্রাস  
ঘ) জনসংখ্যা ঘনত্ব হ্রাস

১১. নিচের কোনটি নিয়ন্ত্রিত শিল্পের উদাহরণ?

- ক) এ্যাডভার্টাইজিং  
খ) স্যাটেলাইট চ্যানেল  
গ) পারমাণবিক শক্তি  
ঘ) মৃৎ

১২. বাংলাদেশের আন্তর্জাতিক বাণিজ্যের চিত্র হলো—

- i. জনশক্তি রপ্তানি বৃদ্ধি  
ii. রপ্তানি আয় > আমদানি ব্যয়  
iii. অপ্রচলিত পণ্যের রপ্তানি বৃদ্ধি

নিচের কোনটি সঠিক?

- ক) i ও ii      খ) i ও iii      গ) ii ও iii      ঘ) i, ii ও iii

১৩. EPZ-এর পূর্ণরূপ কী?

- ক) Export Production Zone  
খ) Export Processing Zone  
গ) Export Promotion Zone  
ঘ) Export Procuring Zone

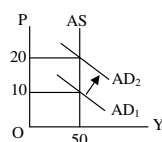
১৪. নিচের কোনটি মৃত্ততার ঋণ?

- ক) শিক্ষা প্রতিষ্ঠান স্থাপন  
খ) হাসপাতাল নির্মাণ  
গ) শিল্প স্থাপন  
ঘ) যুদ্ধ ঋণ

১৫. স্কয়ার কোম্পানি একটি কী?

- ক) প্র্যান্ট      খ) ফার্ম  
গ) শিল্প      ঘ) কুটির শিল্প

■ নিচের চিত্রটি লক্ষ কর এবং ১৬ ও ১৭ নং প্রশ্নের উত্তর দাও :



১৬. উদ্দীপকের চিত্রে মুদ্রাস্ফীতির পরিমাণ কত?

- ক) 10      খ) 20      গ) 30      ঘ) 50

১৭. চিত্রে উল্লিখিত মুদ্রাস্ফীতির কারণ কী?

- i. অর্থের যোগান বৃদ্ধি  
ii. জ্বালানির দাম বৃদ্ধি  
iii. জনসংখ্যা বৃদ্ধি

নিচের কোনটি সঠিক?

- ক) i ও ii      খ) i ও iii      গ) ii ও iii      ঘ) i, ii ও iii

১৮. White Gold কোনটি?

- ক) ইলিশ      খ) তুলা  
গ) খনিজ সম্পদ      ঘ) চিংড়ি

১৯. বৈদেশিক বাণিজ্যের দ্বারা কোন কারবার রোধ হয়?

- ক) মনোপসনি  
খ) মনোপলি  
গ) অলিগোপলি  
ঘ) ডায়োপলি

২০. বাংলাদেশে জনসংখ্যা বৃদ্ধির অর্থনৈতিক প্রভাব কোনটি?

- ক) মাথাপিছু আয় বৃদ্ধি  
খ) মুদ্রাস্ফীতি বৃদ্ধি  
গ) কর্মসংস্থান বৃদ্ধি  
ঘ) বৈশ্বিক উৎসাহ বৃদ্ধি

২১. ২০১৭ সালে প্রতি কেজি ডালের দাম ছিল ৮০ টাকা। ২০১৮ সালে ডালের দাম বৃদ্ধি পেয়ে ১০০ টাকা হলে, মুদ্রাস্ফীতির হার কত?

- ক) ১০%      খ) ২০%  
গ) ২৫%      ঘ) ৩০%

২২. ম্যালথাসের জনসংখ্যা তত্ত্বটি কত সালে প্রকাশিত হয়?

- ক) ১৭৯৮      খ) ১৮৯৮  
গ) ১৯১৭      ঘ) ১৯৯৮

২৩. জলবায়ু পরিবর্তনের ফলে—

- i. উৎপাদন হ্রাস  
ii. বৈশ্বিক উষ্ণতা বৃদ্ধি  
iii. ভূমিকম্পের আধিক্য

নিচের কোনটি সঠিক?

- ক) i ও ii      খ) i ও iii      গ) ii ও iii      ঘ) i, ii ও iii

২৪. Tax Holiday সুবিধা পায় কারা?

- ক) বিনিয়োগকারী  
খ) আমদানিকারক  
গ) রপ্তানিকারক  
ঘ) ব্যবসায়ী

২৫. NBR নিয়ন্ত্রিত কর কোনটি?

- ক) ভূমি রাজস্ব  
খ) মাদক শুল্ক  
গ) আয়কর  
ঘ) যানবাহন কর

২৬. বাংলাদেশের তৈরি পোশাক রপ্তানিতে বৃহৎ বাজার কোনটি?

- ক) মধ্যপ্রাচ্য  
খ) ইউরোপিয়ান ইউনিয়ন  
গ) যুক্তরাষ্ট্র  
ঘ) যুক্তরাজ্য

২৭. প্রত্যক্ষ করের বৈশিষ্ট্য হলো—

- i. ফাঁকি দেওয়া যায়  
ii. নাগরিক চেতনা বৃদ্ধি করে  
iii. মুদ্রাস্ফীতি রোধ করে

নিচের কোনটি সঠিক?

- ক) i ও ii      খ) i ও iii  
গ) ii ও iii      ঘ) i, ii ও iii

২৮. বিশ্বায়নের সুবিধা কী?

- ক) উপকরণের গতিশীলতা বৃদ্ধি  
খ) একচেটিয়া উদ্ভব  
গ) দাম বৃদ্ধি পায়  
ঘ) ভোক্তা ক্ষতিগ্রস্ত হয়

২৯. মুদ্রাসংকোচনে কোনটি ঘটবে?

- ক) উৎপাদন বৃদ্ধি পায়  
খ) অর্থের মূল্য বাড়ে  
গ) দামস্তর বাড়ে  
ঘ) কর্মসংস্থান বাড়ে

৩০. মুদ্রাস্ফীতিতে কারা লাভবান হয়?

- i. ঋণ গ্রহীতা  
ii. উৎপাদনকারী  
iii. নির্দিষ্ট আয়ের লোক

নিচের কোনটি সঠিক?

- ক) i ও ii      খ) i ও iii  
গ) ii ও iii      ঘ) i, ii ও iii

# এক্সকুসিভ মডেল টেস্ট

## এক্সক্লুসিভ মডেল টেস্ট ০১

বিষয় কোড 110

সময় : ২ ঘণ্টা ৩০ মিনিট

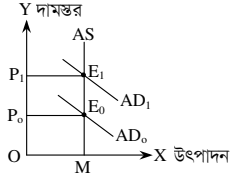
## অর্থনীতি দ্বিতীয় পত্র সৃজনশীল প্রশ্ন

পূর্ণমান : ৭০

দ্রষ্টব্য : ডান পাশের সংখ্যা প্রশ্নের পূর্ণমান জ্ঞাপক। প্রদত্ত উদ্দীপকগুলো মনোযোগ সহকারে পড় এবং সংশ্লিষ্ট প্রশ্নগুলোর উত্তর দাও। যে কোনো সাতটি প্রশ্নের উত্তর দিতে হবে।

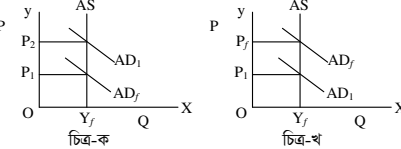
- ১ ▶ শমসের একজন শিক্ষিত কৃষক। তিনি দেশে বিদ্যমান প্রযুক্তি এবং বিভিন্ন উৎস থেকে তথ্য সংগ্রহ করে জমি চাষাবাদ করেন। কিন্তু সংরক্ষণের সমস্যা, ক্রটিপূর্ণ ওজন ও পরিমাণ পদ্ধতি, দুর্বল বাজার কাঠামো, পণ্যের মান নির্ধারণে জটিলতা, সরকারি যথাযথ নীতির অভাব, দামের ওঠানামা ইত্যাদি কারণে প্রায়ই ন্যায্যমূল্য প্রাপ্তি থেকে বঞ্চিত হন। সরকার উল্লিখিত সমস্যা সমাধানের জন্য বিভিন্ন ধরনের পদক্ষেপ গ্রহণ করে থাকেন।
- ক. কৃষিক্ষেত্র কী? ১
- খ. কৃষিতে উন্নত প্রযুক্তি ব্যবহারে কীভাবে উৎপাদন খরচ হ্রাস পায়? ২
- গ. উদ্দীপকে কৃষির কোন ধরনের সমস্যার উল্লেখ করা হয়েছে? ব্যাখ্যা কর। ৩
- ঘ. উদ্দীপকে উল্লিখিত সমস্যার সমাধানে সরকার কোন ধরনের পদক্ষেপ নিতে পারে? বিশ্লেষণ কর। ৪
- ২ ▶ জনাব মতিন মিয়া ফসল সংরক্ষণের সুব্যবস্থার অভাবে ভরা মৌসুমেই সকল ফসল স্থানীয় বাজারে বিক্রি করেন। অনুলুত পরিবহন, অপ্রতুল বাজার, মধ্যবর্তী ব্যবসায়ীদের দৌরায়ে মতিন মিয়ার মতো অন্যান্য কৃষকরাও ফসলের ন্যায্যমূল্য হতে বঞ্চিত হন। তিনি মনে করেন, আগে গুদামঘর নির্মাণ, ভৌত অবকাঠামো নির্মাণ, সঠিক বাজার তথ্যের সুব্যবস্থা করতে পারলে তাঁরা ফসলের ন্যায্যমূল্য হতে বঞ্চিত হতেন না।
- ক. শস্য বহুমুখীকরণ কী? ১
- খ. আত্মতোষণ খামার অপেক্ষা বাণিজ্যিক খামারের ধারণা পৃথক কেন? বুঝিয়ে লেখ। ২
- গ. উদ্দীপকে কৃষির কোন সমস্যার প্রতি ইঙ্গিত করা হয়েছে? ব্যাখ্যা কর। ৩
- ঘ. উপরে বর্ণিত সমস্যা সমাধানে উদ্দীপকে উল্লিখিত ব্যবস্থাসমূহ কি যথেষ্ট? মতামত দাও। ৪
- ৩ ▶ রায়হান সাহেব বাংলাদেশে বসবাস করেন। দেশটিতে বাণিজ্য ঘাটতি বিদ্যমান। এ পরিস্থিতি মোকাবিলায় লক্ষ্যে সরকার একটি বিশেষ শিল্প প্রতিষ্ঠার সিদ্ধান্ত নেয়, যা নারীদের কর্মসংস্থান বৃদ্ধি, বৈদেশিক মুদ্রা সাশ্রয়সহ দেশীয় শিল্পের বিকাশে গুরুত্বপূর্ণ অবদান রাখবে।
- ক. হাইটেক শিল্প কী? ১
- খ. স্বনির্ভরতা অর্জনে শিল্পায়ন জরুরি কেন? ২
- গ. উদ্দীপকে কোন শিল্প প্রতিষ্ঠার কথা বলা হয়েছে? ব্যাখ্যা কর। ৩
- ঘ. দেশীয় শিল্পের বিকাশে উদ্দীপকে বর্ণিত শিল্পের ভূমিকা বিশ্লেষণ কর। ৪
- ৪ ▶ অর্থনীতির ক্লাসে আরিফ স্যার বলেন, বাংলাদেশ একটি কৃষিভিত্তিক দেশ। প্রয়োজন মেটাবার জন্য দেশটি কৃষি উপকরণ, যন্ত্রপাতি, কৃষিবিদ্যের যন্ত্রাংশ, ইঞ্জিন এবং বিভিন্ন প্রকার দ্রব্যসামগ্রী আমদানি করে থাকে। ফলে দেশটিকে অন্যদেশের ওপর নির্ভরশীল হতে হয়। এজন্য প্রচুর বৈদেশিক মুদ্রা ব্যয় হয়। কিন্তু আমদানি বিকল্প শিল্প স্থাপনে দেশটির প্রচুর সম্ভাবনা আছে। আমদানি বিকল্প শিল্প জাতীয় আয় বাড়াতে পারে এবং কর্মসংস্থানের সৃষ্টি করে।
- ক. রপ্তানিমুখী শিল্প কী? ১
- খ. রপ্তানি প্রক্রিয়াকরণ অঞ্চল স্থাপন করা হয় কেন? ২
- গ. আরিফ স্যার আমদানি বিকল্প শিল্প স্থাপনের যে ক্ষেত্র এবং সম্ভাবনার ইঙ্গিত দিয়েছেন— তা চিহ্নিত করে ব্যাখ্যা কর। ৩
- ঘ. বাংলাদেশের মতো দেশের অর্থনৈতিক উন্নয়নে আমদানি বিকল্প শিল্প স্থাপনের গুরুত্ব উদ্দীপকের আলোকে ব্যাখ্যা কর। ৪
- ৫ ▶ যুব উন্নয়ন অধিদপ্তর থেকে প্রশিক্ষণ নিয়ে রাজু স্থানীয় বাজারে একটি কম্পিউটার প্রশিক্ষণ কেন্দ্র খুলল। এখানে কম্পিউটারসংক্রান্ত বেসিক প্রশিক্ষণ, আউটসোর্সিং-এর মাধ্যমে উপার্জন ইত্যাদি প্রশিক্ষণের ব্যবস্থা রয়েছে। স্থানীয় তরুণরা প্রশিক্ষণ নিয়ে তাদের বেকারত্ব দূর করছে এবং ভালো আয় করছে। রাজুর চাকরি খোঁজার আর চিন্তা নেই।
- ক. মানবসম্পদ উন্নয়ন কী? ১
- খ. “জনসংখ্যা বৃদ্ধি খাদ্য সমস্যা সৃষ্টি করে” — ব্যাখ্যা কর। ২
- গ. রাজুর প্রচেষ্টা অর্থনীতিতে কী নামে পরিচিত— ব্যাখ্যা কর। ৩
- ঘ. “বাংলাদেশে কর্মসংস্থানের জন্য এরকম প্রচেষ্টার প্রয়োজন রয়েছে”—মতামতসহ বিশ্লেষণ কর। ৪
- ৬ ▶ সালাম সাহেব অন্যের জমিতে কৃষিকাজ করে। তার দুই মেয়ে শিমা ও রুমা গাজীপুরে একটি গার্মেন্টস ফ্যাক্টরিতে চাকরিরত ছিল। হঠাৎ তার বাবা অসুস্থ হয়ে পড়ায় তাদেরকে গ্রামে ফিরে আসতে হয়। পরবর্তীতে তারা জাতীয় মহিলা সংস্থা থেকে সেলাই শিখে দুই বোন নামে একটি টেইলার্সের দোকান দেন। বর্তমানে তাদের অধীনে প্রায় ২০ জন লোক কাজ করে।

- ক. বিশ্বায়ন কী? ১
- খ. প্রশিক্ষণ ও মানবসম্পদ উন্নয়ন পরস্পর পরিপূরক ব্যাখ্যা কর। ২
- গ. উদ্দীপকে পাঠ্যপুস্তকের কোন ধারণাটি প্রতিফলিত হয়েছে? ব্যাখ্যা কর। ৩
- ঘ. উদ্দীপকে দুই বোনের উদ্যোগটি বেকার সমস্যা সমাধানে কীভাবে ভূমিকা রাখতে পারে? ব্যাখ্যা কর। ৪
- ৭ ▶ নিচের চিত্রটি লক্ষ কর এবং সংশ্লিষ্ট প্রশ্নগুলোর উত্তর দাও :



- ক. মুদ্রাস্ফীতি কী? ১
- খ. মুদ্রাস্ফীতির ফলে ভোক্তা কীভাবে ক্ষতিগ্রস্ত হয়? ২
- গ. উদ্দীপকে কোন ধরনের মুদ্রাস্ফীতি দেখানো হয়েছে? ব্যাখ্যা কর। ৩
- ঘ. উদ্দীপকে উল্লিখিত মুদ্রাস্ফীতি নিয়ন্ত্রণে ব্যাংক হার বৃদ্ধি করলে কোন ধরনের ফলাফল পাওয়া যাবে? ব্যাখ্যা কর। ৪

৮ ▶



- ক. ভিত্তি বছরের গড় মূল্য কত হয়? ১
- খ. মুদ্রাস্ফীতিতে ঋণগ্রহীতা লাভবান হয় কেন? ২
- গ. উদ্দীপকের 'ক' ও 'খ' চিত্র কি একই ধরনের? ব্যাখ্যা কর। ৩
- ঘ. উদ্দীপকের 'ক' চিত্র সৃষ্টি হওয়ার জন্য কী কী বিষয়সমূহ দায়ী বলে তুমি মনে কর? বিশ্লেষণ কর। ৪
- ৯ ▶ 'A' ও 'B' দুটি দেশ। 'A' দেশ দীর্ঘদিন ধরে 'B' দেশ থেকে সাহায্য গ্রহণ করে আসছে। এখন 'A' দেশের কর্তৃপক্ষ অনুধাবন করতে পারছে তারা দাতা দেশ 'B' এর উপর নির্ভরশীল হওয়ার পাশাপাশি দর কষাকষির ক্ষমতা লোপ পাচ্ছে। প্রতীয়মান হচ্ছে আরও নানাবিধ সমস্যা।
- ক. বিশ্বায়ন কী? ১
- খ. আন্তর্জাতিক বাণিজ্য উৎপাদন বৃদ্ধি করে— ব্যাখ্যা কর। ২
- গ. উদ্দীপকে উল্লিখিত সমস্যাসমূহ ব্যাখ্যা কর। ৩
- ঘ. উপরিউক্ত সমস্যা ছাড়া আরও কী কী সমস্যা হতে পারে বলে তুমি মনে কর, বর্ণনা দাও। ৪
- ১০ ▶ 'X' দেশের আর্থসামাজিক অবস্থার উন্নয়ন, দারিদ্র্য বিমোচন, উৎপাদন ও কর্মসংস্থান বৃদ্ধি প্রকল্প বাস্তবায়নসহ নানাবিধ কারণে বিভিন্ন দেশের সাথে যেমন সরকার বাণিজ্যিক সম্পর্ক গড়ে তোলে আবার বিশাল অঙ্কের ব্যয় নির্বাহের জন্য মাটকা মাঝে সরকারকে সাহায্যের ওপরও নির্ভর করতে হয়। এ ধরনের বৈদেশিক সাহায্য কখনো কখনো দেশটির স্বনির্ভরতা অর্জনের পথে বাধা হয়ে দাঁড়ায়।
- ক. আবগারি শুল্ক কী? ১
- খ. মূল্য সংযোজন করকে পেরোক্ষ কর বলা হয় কেন? ২
- গ. 'X' দেশটি কেন বৈদেশিক সাহায্য গ্রহণ করে? উদ্দীপকের আলোকে ব্যাখ্যা কর। ৩
- ঘ. 'X' দেশের স্বনির্ভরতা অর্জনে আলোচ্য বিষয়দ্বয়ের মধ্যে কোনটি উত্তম? বিশ্লেষণ কর। ৪
- ১১ ▶ জাতীয় ব্যয় নির্বাহের জন্য সরকার বিভিন্ন উৎস যেমন— সরকারের প্রাপ্ত রাজস্ব, বিনিয়োগ প্রতিষ্ঠান, কর ও ঋণ, টাকা ছাপানো এবং অনুদান ও দান প্রভৃতি থেকে অর্থ সংগ্রহ করে। এই সংগৃহীত অর্থ সরকার রাষ্ট্র পরিচালনাসহ বিভিন্ন উন্নয়নমূলক ও জনহিতকর কাজের জন্য ব্যয় করে।
- ক. আমদানি শুল্ক কী? ১
- খ. “ফি বাধ্যতামূলক নয়”— ব্যাখ্যা কর। ২
- গ. উদ্দীপকে সরকারি অর্থব্যবস্থার কোন ধারণা দুটি প্রতিফলিত হয়েছে? ব্যাখ্যা কর। ৩
- ঘ. উদ্দীপকের আলোকে বাংলাদেশ সরকারের ব্যয়ের খাতসমূহ আলোচনা কর। ৪

## এক্সক্লুসিভ মডেল টেস্ট ০২

### অর্থনীতি দ্বিতীয় পত্র সৃজনশীল প্রশ্ন

সময় : ২ ঘণ্টা ৩০ মিনিট

পূর্ণমান : ৭০

**দ্রষ্টব্য :** ডান পাশের সংখ্যা প্রশ্নের পূর্ণমান জ্ঞাপক। প্রদত্ত উদ্দীপকগুলো মনোযোগ সহকারে পড় এবং সংশ্লিষ্ট প্রশ্নগুলোর উত্তর দাও। যে কোনো সাতটি প্রশ্নের উত্তর দিতে হবে।

১ ▶ বাংলাদেশের কৃষির দুটি উপখাতের GDP-এর খাতওয়ারি প্রবৃদ্ধির হার নিম্নরূপ—

খাত	২০১০-১১	২০১১-১২	২০১২-১৩
প্রাণী সম্পদ	৩.৪৮	৩.৩৯	৩.৪৯
বনজ সম্পদ	৩.৯০	৪.৪২	৪.৪৭

- ক. কৃষিপণ্যের বিপণন কী? ১  
 খ. কৃষি খামার ও কৃষিজাত কোন অর্থে এক নয়? ২  
 গ. উদ্দীপক হতে প্রাণী সম্পদের প্রবৃদ্ধির হার লেখচিত্রের সাহায্যে দেখাও। ৩  
 ঘ. বাংলাদেশের GDP-তে দুটি খাতের অবদানের তুলনামূলক আলোচনা কর। ৪
- ২ ▶ বাংলাদেশের দরিদ্র কৃষক যথাযথ কৃষিক্ষণের অভাবে ক্ষতির সম্মুখীন হয়। প্রাতিষ্ঠানিক কৃষিক্ষণের সমস্যার কারণে কৃষকরা অপ্রাতিষ্ঠানিক ঋণের দিকে বেশি অগ্রসর হয়। ফলে উচ্চ সুদে ঋণ কৃষকদের বাড়তি চাপ সৃষ্টি করে। কৃষকদের ঋণ সুদে অধিক পরিমাণে ঋণ প্রদান করা সম্ভব হলে কৃষক ও কৃষির উন্নতি ত্বরান্বিত হতো।
- ক. কৃষিক্ষণ কী? ১  
 খ. কৃষক কেন কৃষিক্ষণ গ্রহণ করে? ২  
 গ. বাংলাদেশের কৃষিক্ষণের সমস্যাগুলো আলোচনা কর। ৩  
 ঘ. বাংলাদেশের কৃষি ঋণব্যবস্থা সহজ ও বিস্তৃত করার উপায়গুলো আলোচনা কর। ৪

৩ ▶ একসময় টিভি, ফ্রিজ, মোবাইল ইত্যাদি বিদেশ থেকে আমদানি করা হলেও এসব পণ্য এখন দেশের ভেতরই উৎপাদিত হচ্ছে এবং এদেশের সাধারণ মানুষ সেগুলো কম দামে ক্রয় করতে পারছে। এধরনের দ্রব্য উৎপাদনের জন্য প্রয়োজনীয় বিদ্যুৎ ও জ্বালানির চাহিদা পূরণের লক্ষ্যে সরকারি-বেসরকারি অংশীদারিত্বের ভিত্তিতে বিভিন্ন প্রকল্প গ্রহণ করা হয়েছে।

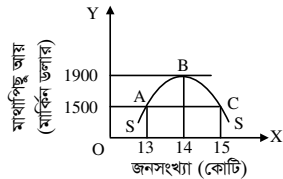
- ক. রপ্তানিমুখী শিল্প কী? ১  
 খ. 'একটি দেশের সমৃদ্ধির জন্য শিল্পায়ন জরুরি'— ব্যাখ্যা কর। ২  
 গ. উদ্দীপকে কোন ধরনের শিল্পের কথা বলা হয়েছে তা নির্ধারণ কর। ৩  
 ঘ. উদ্দীপকে উল্লিখিত অংশীদারিত্ব ব্যবস্থা কীভাবে অর্থনৈতিক উন্নয়নে সহায়তা করে? ব্যাখ্যা কর। ৪

৪ ▶ নিচের চিত্রটি লক্ষ কর :



- ক. হাইটেক শিল্প কী? ১  
 খ. EPZ কেন স্থাপন করা প্রয়োজন? ২  
 গ. উদ্দীপকের প্রশ্নটিহীন শিল্পটির সমস্যাবলি ব্যাখ্যা কর। ৩  
 ঘ. উদ্দীপকের প্রশ্নটিহীন শিল্পটি কীভাবে সমাধান করা যাবে? বিশ্লেষণ কর। ৪

৫ ▶



- ক. শূন্য জনসংখ্যা বৃদ্ধি কী? ১  
 খ. জলবায়ু পরিবর্তনের মাধ্যমে জনসংখ্যা বৃদ্ধি কীভাবে প্রভাবিত হয়? ব্যাখ্যা কর। ২  
 গ. উদ্দীপকের চিত্রটি জনসংখ্যার কোন তত্ত্বকে নির্দেশ করে? ব্যাখ্যা কর। ৩  
 ঘ. উদ্দীপকে কাম্য জনসংখ্যা কত ও কেন? বাংলাদেশের জনসংখ্যা পরিস্থিতি কোন বিন্দুর সাথে সংগতিপূর্ণ? উদ্দীপকের আলোকে ব্যাখ্যা কর। ৪
- ৬ ▶ ২০২২ সালের মধ্যে বছরে 'ক' দেশে মোট জনসংখ্যা ১৮ কোটি, মোট আয়তন ১,৪৭,৫৭০ বর্গকিলোমিটার এবং মোট জীবিত জনসংখ্যা ২৫ লক্ষ। উক্ত সময়ে দেশে বহিরাগমন ৮০ হাজার এবং বর্ধিগমন ৪ লক্ষ।

- ক. কাম্য জনসংখ্যা কী? ১  
 খ. জনসংখ্যা ও উন্নয়নের মধ্যে সম্পর্ক ব্যাখ্যা কর। ২  
 গ. 'ক' দেশের জনসংখ্যার ঘনত্ব ও অশোধিত জন্মহার নির্ণয় কর। ৩  
 ঘ. 'ক' দেশের নিট অভিবাসন হারের ভিত্তিতে উক্ত দেশের আর্থসামাজিক অবস্থা সম্পর্কে তোমার মতামত দাও। ৪
- ৭ ▶ 'X' দেশে ২০১৮ সালে চাল, আলু, লবণ, তেল-এর কেজি প্রতি দাম ছিল যথাক্রমে— ৪০, ১৫, ১০, ১০০ টাকা। ২০২০ সালে যার দাম দাঁড়ায় যথাক্রমে ৪৫, ২০, ১৫, ১৫০ টাকা। দাম বাড়ায় সরকার ব্যাংক হার পরিবর্তন, নগদ রিজার্ভের অনুপাতের পরিবর্তনসহ ঋণ নিয়ন্ত্রণের মতো পদক্ষেপ গ্রহণ করেন।
- ক. অর্থের মূল্য কী? ১  
 খ. 'প্রাকৃতিক দুর্যোগের কারণে মুদ্রাস্ফীতি ঘটে।' ব্যাখ্যা কর। ২  
 গ. উদ্দীপক থেকে মুদ্রাস্ফীতির হার নির্ণয় কর। ৩  
 ঘ. মুদ্রাস্ফীতি নিয়ন্ত্রণে উদ্দীপকে গৃহীত পদক্ষেপের যথার্থতা মূল্যায়ন কর। ৪

৮ ▶ প্রদত্ত সূচিতে ভিত্তি বছর ২০১৫ সাল :

দ্রব্য	পরিমাণ (Q <sub>০</sub> ) কেজি	দাম (P <sub>০</sub> ) টাকা	দাম (P <sub>১</sub> ) টাকা	দাম (P <sub>২</sub> ) টাকা
	২০১৫	২০১৫	২০১৮	২০২২
A	60	40	60	70
B	30	20	30	40
C	10	100	150	200

- ক. উল্লেখ্য মুদ্রাস্ফীতি কী? ১  
 খ. ঋণদাতার ওপর মুদ্রাস্ফীতির প্রভাব কীরূপ? ২  
 গ. উদ্দীপকের ভিত্তিতে ২০১৮ সালের ভোক্তার দামসূচক নির্ণয় কর। ৩  
 ঘ. ২০১৮ ও ২০২২ সালের মুদ্রাস্ফীতির হার কি ভিন্ন? বিশ্লেষণ কর। ৪
- ৯ ▶ 'A' দেশ তার সম্পদকে কাজে লাগিয়ে উৎপাদিত দ্রব্য ও সেবা নিজ দেশের মধ্যে বিনিময় করে। 'B' দেশ তার উৎপাদিত পণ্য ও সেবা নিজ দেশ ও প্রতিবেশী দেশসমূহের মধ্যে বিনিময় করে থাকে। এতে 'B' দেশ তার সম্পদের উত্তম ব্যবহারের মাধ্যমে উদ্বৃত্ত পণ্য রপ্তানি করতে পারে এবং অনুৎপাদিত পণ্য আমদানি করতে পারে। ফলে দেশটি অর্থনৈতিকভাবে লাভবান হয়।
- ক. বিশ্বায়ন কী? ১  
 খ. আন্তর্জাতিক বাণিজ্যের ফলে একচেটিয়া প্রভাব হ্রাস পায়— ব্যাখ্যা কর। ২  
 গ. উদ্দীপকে 'A' ও 'B' দেশে কোন ধরনের বাণিজ্য বিদ্যমান? ব্যাখ্যা কর। ৩  
 ঘ. বাংলাদেশের মতো উন্নয়নশীল দেশের অর্থনৈতিক উন্নয়নে 'B' দেশের বাণিজ্যের গুরুত্ব আলোচনা কর। ৪

১০ ▶ পলাশ সাহেব একজন প্রযুক্তি বিশেষজ্ঞ। দীর্ঘদিন যাবৎ তিনি যুক্তরাষ্ট্রে অবস্থান করছেন। সাম্প্রতিক সময়ে তিনি দেশে বেড়াতে এসেছেন। গ্রামের পথ দিয়ে হাঁটতে হাঁটতে তিনি লক্ষ করলেন গ্রামের অবস্থা আর পূর্বের মতো নেই। গ্রামে বিদ্যুৎ এসেছে। রঙিন টিভি ও ডিশ-লাইন এসেছে, মানুষ চায়ের দোকানে বসে চা-পানের সাথে সাথে টিভির বিভিন্ন চ্যানেলের সংবাদের পাশাপাশি বিভিন্ন দেশের আচার-অনুষ্ঠান দেখার সুযোগ পাচ্ছে।

- ক. বিশ্বায়ন কী? ১  
 খ. বিশ্বায়ন ও তথ্যপ্রযুক্তির মধ্যে সম্পর্ক সম্মুখী— ব্যাখ্যা কর। ২  
 গ. বিশ্বায়নের পরিপ্রেক্ষিতে সমাজের কী কী পরিবর্তন হয়েছে বলে পলাশ সাহেব মনে করেন? ব্যাখ্যা কর। ৩  
 ঘ. উদ্দীপক অনুযায়ী, সমাজে বিশ্বায়নের প্রায়োগিক ভিত্তি আছে কি না? তোমার মতামতের সপক্ষে যুক্তি দেখাও। ৪
- ১১ ▶ ইপু একদিন তার ক্লাসে জানতে পারে সরকারি আয়ের অন্যতম প্রধান উৎস কর রাজস্ব। আয়কর, সম্পদকর, ভূমিকর ইত্যাদি প্রত্যক্ষ কর। আবার ভ্যাট, বিক্রয়কর, আমদানি শুল্ক, রপ্তানি শুল্ক, প্রমোদকর, পণ্যকর ইত্যাদি পরোক্ষ কর। তিনি আরও বলেন, পরোক্ষ করের চেয়ে প্রত্যক্ষ কর অপ্রিয়।
- ক. আবগারি শুল্ক কী? ১  
 খ. সরকার আয় করে কেন? ২  
 গ. করের বিভিন্ন উৎস উদ্দীপকের আলোকে আলোচনা কর। ৩  
 ঘ. উদ্দীপকের আলোকে প্রত্যক্ষ কর বেশি অপ্রিয় হওয়ার যুক্তিযুক্ত কারণ ব্যাখ্যা কর। ৪

## এক্সকুসিভ মডেল টেস্ট ০৩

সময় : ৩০ মিনিট

অর্থনীতি দ্বিতীয় পত্র বহুনির্বাচনি অভীক্ষা

পূর্ণমান : ৩০

[বিশেষ দ্রষ্টব্য : সরবরাহকৃত বহুনির্বাচনি অভীক্ষার উত্তরপত্রে প্রশ্নের ক্রমিক নম্বরের বিপরীতে প্রদত্ত বর্ণসংবলিত বৃত্তসমূহ হতে সঠিক/ সর্বোৎকৃষ্ট উত্তরের বৃত্তটি বল পয়েন্ট কলম দ্বারা সম্পূর্ণ ভরাট কর। প্রতিটি প্রশ্নের মান ১। প্রশ্নপত্রে কোনো প্রকার দাগ/চিহ্ন দেওয়া যাবে না।]

১. নার্সারি স্থাপন প্রধানত কোন কার্যক্রমের অংশ?

- (ক) বাগান করা (খ) কুটিরশিল্প  
(গ) বনায়ন (ঘ) কৃষি

২. মালিকানার ভিত্তিতে খামার কত প্রকার?

- (ক) ২ (খ) ৩ (গ) ৪ (ঘ) ৫

৩. HYV Technology বলতে কী বোঝায়?

- (ক) তথ্যপ্রযুক্তি  
(খ) উফশী প্রযুক্তি  
(গ) পরমাণু প্রযুক্তি  
(ঘ) জৈব প্রযুক্তি

■ উদ্দীপকটি পড়ে ৪ ও ৫নং প্রশ্নের উত্তর দাও :

মুখলেছ একজন দরিদ্র কৃষক। নিজের জমি না থাকায় সে অন্যের জমি চাষ করে। সে সনাতন পদ্ধতিতে চাষ করে। সেচ ও সার ব্যবহার করতে পারে না। তার উৎপাদন ক্ষমতা কম।

৪. মুখলেছ কোন ধরনের কৃষক?

- (ক) ভূমিহীন (খ) বর্গাচাষি  
(গ) প্রান্তিক (ঘ) দরিদ্র

৫. মুখলেছের উৎপাদন ক্ষমতা কম হবার কারণ—

- i. জমির মালিকানা না থাকা  
ii. মৌসুমি বায়ুর ওপর নির্ভরতা  
iii. সনাতনী চাষ পদ্ধতি

নিচের কোনটি সঠিক?

- (ক) i ও ii (খ) i ও iii  
(গ) ii ও iii (ঘ) i, ii ও iii

৬. শিল্পদ্রব্য উৎপাদনের উদ্দেশ্য বিবেচনায়

শিল্পকে ভাগ করা হয়েছে—

- (ক) ২ ভাগে (খ) ৩ ভাগে  
(গ) ৪ ভাগে (ঘ) ৫ ভাগে

৭. বাঁশের তৈরি বুড়ি কোন শিল্পের পণ্য?

- (ক) ক্ষুদ্র শিল্প  
(খ) কুটিরশিল্প  
(গ) মাঝারি শিল্প  
(ঘ) বৃহৎ শিল্প

৮. বাংলাদেশের তৈরি পোশাক শিল্পে নিয়োজিত

শ্রমিকের কত শতাংশ মহিলা শ্রমিক?

- (ক) ৮০% (খ) ৮৫%  
(গ) ৯৫% (ঘ) ৯০%

৯. সরকারি-বেসরকারি অংশীদারিত্ব কী নামে

পরিচিত?

- (ক) APP (খ) BPP  
(গ) PPP (ঘ) CPP

১০. আমদানি বিকল্প শিল্পের মাধ্যমে—

- i. অভ্যন্তরীণ বাজার সংকুচিত হবে  
ii. বৈদেশিক মুদ্রার সাশ্রয় হবে  
iii. শিল্পায়ন হবে

নিচের কোনটি সঠিক?

- (ক) i ও ii (খ) i ও iii  
(গ) ii ও iii (ঘ) i, ii ও iii

১১. জনসংখ্যা পরিমাণে ব্যবহৃত পদ্ধতি—

- (ক) ৩টি (খ) ৪টি  
(গ) ৫টি (ঘ) ৬টি

১২. জনসংখ্যার ঘনত্ব পরিমাপের সূত্র কোনটি?

- (ক)  $DP = \frac{TB}{TP}$  (খ)  $DP = \frac{TP}{TA}$   
(গ)  $DP = \frac{TD}{TR}$  (ঘ)  $DP = \frac{TD}{TA}$

১৩. বাংলাদেশের কোন বিভাগে জনসংখ্যা সবচেয়ে কম?

- (ক) রাজশাহী (খ) খুলনা  
(গ) চট্টগ্রাম (ঘ) বরিশাল

■ নিচের উদ্দীপকের আলোকে ১৪ ও ১৫নং প্রশ্নের উত্তর দাও :

'X' দেশে ২০১৮ সালে ১২ লক্ষ জীবিত শিশু জন্মগ্রহণ করে এবং ১০ লক্ষ লোক মৃত্যুবরণ করে। ঐ বছরের মধ্যে সময়ের জনসংখ্যা ১০ কোটি।

১৪. ২০১৮ সালে 'X' দেশে স্থূল জন্মহার প্রতি হাজারে কত ছিল?

- (ক) ৮ (খ) ১০  
(গ) ১২ (ঘ) ১৪

১৫. দেশটিতে ঐ সময়ে মৃত্যুবরণকারী সংখ্যা যদি

হ্রাস পায় তবে স্থূল মৃত্যুহার—

- (ক) স্থির থাকবে  
(খ) শূন্য হবে  
(গ) কমবে  
(ঘ) বাড়বে

১৬. গতিভিত্তিক মুদ্রাস্ফীতি কত প্রকার?

- (ক) ২ (খ) ৩ (গ) ৪ (ঘ) ৫

১৭. নিচের কোনটি মুদ্রাস্ফীতির কারণ?

- (ক) অর্থের যোগান হ্রাস  
(খ) রপ্তানি হ্রাস  
(গ) উৎপাদন হ্রাস  
(ঘ) জনসংখ্যা হ্রাস

১৮. মুদ্রাস্ফীতি দ্বারা কে লাভবান হয়?

- (ক) উৎপাদনকারী  
(খ) ভোক্তা  
(গ) সরকার  
(ঘ) দরিদ্র জনগণ

১৯. মুদ্রাস্ফীতির কারণ হিসেবে কোনটি দায়ী?

- (ক) অর্থের যোগান হ্রাস  
(খ) সরকারি আয় বৃদ্ধি  
(গ) উৎপাদন বৃদ্ধি  
(ঘ) ব্যাংক ঋণের প্রসার

২০. মুদ্রাস্ফীতির অন্যতম বৈশিষ্ট্য হলো—

- i. দামস্তর বৃদ্ধি পাবে  
ii. অর্থের ক্রয়ক্ষমতা কমতে থাকে  
iii. অধিক অর্থের দ্বারা স্বল্প দ্রব্য ও সেবা

নিচের কোনটি সঠিক?

- (ক) i ও ii (খ) i ও iii  
(গ) ii ও iii (ঘ) i, ii ও iii

২১. 'অপরিশোধিত পেট্রোলিয়াম' কোন ধরনের

- আমদানিকৃত পণ্য?  
(ক) শিল্পজাত (খ) প্রাথমিক  
(গ) মূলধনী (ঘ) চূড়ান্ত

২২. বাংলাদেশের রপ্তানি প্রক্রিয়াকরণ অঞ্চলের

- সংক্ষিপ্ত রূপ কী?  
(ক) EZP (খ) EPZ  
(গ) EPS (ঘ) EPJ

২৩. কোনটি প্রচলিত রপ্তানি পণ্য?

- (ক) তৈরি পোশাক  
(খ) রাসায়নিক দ্রব্য  
(গ) চা  
(ঘ) হিমায়িত খাদ্য

■ নিচের উদ্দীপকটি পড় এবং ২৪ ও ২৫নং প্রশ্নের উত্তর দাও :

বাংলাদেশ সরকার দ্রুত উন্নত দেশে পরিণত হওয়ার লক্ষ্যে শিল্প উদ্যোক্তাদের বিভিন্নভাবে সহায়তা করছে। ফলে দেশের শিল্প কাঠামো মজবুত হচ্ছে। দেশে রপ্তানি আয় বাড়ছে, আমদানি ব্যয় কমছে এবং জাতীয় আয় বাড়ছে।

২৪. উদ্দীপকে আমদানি ব্যয় হ্রাস পাচ্ছে যে

- শিল্পায়নের মাধ্যমে তা হচ্ছে—  
(ক) আমদানি বিকল্প শিল্পায়ন  
(খ) রপ্তানিমুখী শিল্পায়ন  
(গ) প্রচলিত শিল্পায়ন  
(ঘ) সংরক্ষিত শিল্পায়ন

২৫. সরকারের এই পদক্ষেপ গ্রহণের ফলে—

- i. উৎপাদন বাড়বে  
ii. ভোগ বাড়বে  
iii. কর্মসংস্থান বাড়বে

নিচের কোনটি সঠিক?

- (ক) i ও ii (খ) ii ও iii  
(গ) i ও iii (ঘ) i, ii ও iii

২৬. কোন খাতে বাংলাদেশ সরকারকে সর্বোচ্চ

ব্যয় বহন করতে হয়?

- (ক) শিক্ষা ও প্রযুক্তি  
(খ) কৃষি  
(গ) স্বাস্থ্য  
(ঘ) পরিবহন

২৭. মুসক কোন ধরনের কর?

- (ক) পরোক্ষ কর (খ) প্রত্যক্ষ কর  
(গ) ভূমি কর (ঘ) প্রমোদ কর

২৮. কোনটি পরোক্ষ কর?

- (ক) সম্পত্তি কর (খ) প্রমোদ কর  
(গ) সঞ্চয় কর (ঘ) মুনাফা কর

২৯. প্রশাসনিক ফি সরকারের কোন ধরনের প্রাপ্তি?

- (ক) NBR ভুক্ত  
(খ) NBR বহির্ভূত  
(গ) বাধ্যতামূলক  
(ঘ) কর বহির্ভূত

৩০. সরকারি ব্যয়ের উদ্দেশ্য হলো—

- i. সামাজিক কল্যাণ  
ii. অভ্যন্তরীণ শান্তি ও শৃঙ্খলা  
iii. আয় বৈষম্য সৃষ্টি

নিচের কোনটি সঠিক?

- (ক) i ও ii (খ) ii ও iii  
(গ) i ও iii (ঘ) i, ii ও iii

## এক্সকুসিভ মডেল টেস্ট ০৪

### অর্থনীতি দ্বিতীয় পত্র ● বহুনির্বাচনি অভীক্ষা

সময় : ৩০ মিনিট

পূর্ণমান : ৩০

[বিশেষ দ্রষ্টব্য : সরবরাহকৃত বহুনির্বাচনি অভীক্ষার উত্তরপত্রে প্রশ্নের ক্রমিক নম্বরের বিপরীতে প্রদত্ত বর্ণসংবলিত বৃত্তসমূহ হতে সঠিক/ সর্বোৎকৃষ্ট উত্তরের বৃত্তটি বল পয়েন্ট কলম দ্বারা সম্পূর্ণ ভরাট কর। প্রতিটি প্রশ্নের মান ১। প্রশ্নপত্রে কোনো প্রকার দাগ/চিহ্ন দেওয়া যাবে না।]

১. বাংলাদেশের অর্থনীতির মূল চালিকাশক্তি কোনটি?
  - (ক) শিল্প
  - (খ) কৃষি
  - (গ) সেবা
  - (ঘ) বাণিজ্য
২. কোন ক্ষেত্রে শ্রমিকদের প্রান্তিক উৎপাদনশীলতা শূন্য?
  - (ক) মৎস্য
  - (খ) কৃষি
  - (গ) পশুপালন
  - (ঘ) বনায়ন
৩. বাংলাদেশে আদর্শ কৃষি খামারের আয়তন কত?
  - (ক) ১ একর
  - (খ) ৩ একর
  - (গ) ৫ একর
  - (ঘ) ১০ একর
৪. মাসরুম গবেষণা কেন্দ্র রয়েছে—
  - (ক) ঢাকা
  - (খ) গাজীপুর
  - (গ) সাভার
  - (ঘ) টাঙ্গাইল
৫. শস্য বহুমুখীকরণের ফলে—
  - i. কৃষি উৎপাদন বৃদ্ধি পায়
  - ii. শিল্পখাত বিকশিত হয়
  - iii. জমির উর্বরতাহ্রাস পায়
 নিচের কোনটি সঠিক?
  - (ক) i ও ii
  - (খ) i ও iii
  - (গ) ii ও iii
  - (ঘ) i, ii ও iii
৬. বাংলাদেশের শিল্পখাত কয়টি উপখাতের সমন্বয়ে গঠিত?
  - (ক) ২টি
  - (খ) ৩টি
  - (গ) ৪টি
  - (ঘ) ৫টি
৭. নিচের কোনটি শিল্প শ্রমনিবিড় উৎপাদন কৌশল ব্যবহার করে?
  - (ক) নিয়ন্ত্রিত
  - (খ) হাইটেক
  - (গ) ক্ষুদ্র ও মাঝারি
  - (ঘ) সংরক্ষিত
৮. বাংলাদেশে কোন ধরনের শিল্পে আত্মকর্মসংস্থানের সুযোগ সৃষ্টি হয়?
  - (ক) বৃহৎ শিল্প
  - (খ) ক্ষুদ্র শিল্প
  - (গ) মাঝারি শিল্প
  - (ঘ) কুটিরশিল্প
- নিচের উদ্দীপকটি পড়ে ৯ ও ১০নং প্রশ্নের উত্তর দাও :
 

'B' দেশে সম্প্রতি এমন একটি শিল্প গড়ে উঠেছে যেখান থেকে রপ্তানি আয়ের সিংহভাগ অর্জিত হয়। এ শিল্পে কর্মরত অধিকাংশ শ্রমিকই নারী। দেশের দারিদ্র্য বিমোচনে এ শিল্প ভূমিকা রাখলেও এ শিল্পের কিছু সমস্যা বিদ্যমান রয়েছে।
৯. উদ্দীপকে কোন শিল্পের কথা বলা হয়েছে?
  - (ক) তৈরি পোশাক
  - (খ) ওষুধ
  - (গ) চামড়া
  - (ঘ) কুটিরশিল্প
১০. উদ্দীপকে উল্লিখিত শিল্পের ক্ষেত্রে প্রযোজ্য হবে—
  - i. বিশ্ব বাজারে তীব্র প্রতিযোগিতা
  - ii. কারখানার উন্নতমানের পরিবেশ
  - iii. শ্রমিকের নিম্ন মজুরি ও অসন্তোষ
 নিচের কোনটি সঠিক?
  - (ক) i
  - (খ) ii
  - (গ) i ও ii
  - (ঘ) i ও iii
১১. বাংলাদেশ জনসংখ্যার দিক হতে বিশ্বে কততম?
  - (ক) ৭ম
  - (খ) ৮ম
  - (গ) ৯ম
  - (ঘ) ১০ম
১২. স্থূল জন্মহার নির্ণয়ের সূত্র কোনটি?
  - (ক)  $\frac{\Sigma B}{\Sigma P} \times 1000$
  - (খ)  $\frac{\Sigma P}{\Sigma B} \times 1000$
  - (গ)  $\frac{\Sigma P}{\Sigma B}$
  - (ঘ)  $\Sigma P - \Sigma B$
১৩. কাম্য জনসংখ্যার সূত্র কে প্রদান করেন?
  - (ক) ম্যালথাস
  - (খ) ডাল্টন
  - (গ) মার্শাল
  - (ঘ) স্যামুয়েলসন
১৪. মানবসম্পদ উন্নয়নের মৌলিক সূচক কয়টি?
  - (ক) ১
  - (খ) ২
  - (গ) ৩
  - (ঘ) ৪
১৫. শূন্য জনসংখ্যা পরিমাণে প্রয়োজন—
  - i. CBR
  - ii. CDR
  - iii. NGR
 নিচের কোনটি সঠিক?
  - (ক) i ও ii
  - (খ) i ও iii
  - (গ) ii ও iii
  - (ঘ) i, ii ও iii
১৬. মন্দাঙ্কিতির বিপরীত অবস্থা কোনটি?
  - (ক) মুদ্রা নিয়ন্ত্রণ
  - (খ) মন্দাসংকোচন
  - (গ) মুদ্রাহ্রাস
  - (ঘ) মন্দা সরবরাহ
১৭. বাংলাদেশে কোন ধরনের মুদ্রাঙ্কীতি রয়েছে?
  - (ক) মুদ্রা
  - (খ) পদসঞ্চয়
  - (গ) ধাবমান
  - (ঘ) উল্লম্বন
১৮. বাংলাদেশের মুদ্রাঙ্কীতি নিয়ন্ত্রণে কয়টি নীতির মাধ্যমে পদক্ষেপ নেওয়া যায়?
  - (ক) দুই
  - (খ) তিন
  - (গ) চার
  - (ঘ) পাঁচ
১৯. মুদ্রাঙ্কীতির কারণ হলো—
  - i. দ্রব্যের সরবরাহ বৃদ্ধি পাওয়া
  - ii. ব্যাংক ঋণের প্রসার
  - iii. অর্থের সরবরাহ বৃদ্ধি
 নিচের কোনটি সঠিক?
  - (ক) i ও ii
  - (খ) i ও iii
  - (গ) ii ও iii
  - (ঘ) i, ii ও iii
২০. বাণিজ্য কত প্রকার?
  - (ক) ২
  - (খ) ৩
  - (গ) ৪
  - (ঘ) ৫
২১. পাউরুটি কোন ধরনের দ্রব্য?
  - (ক) প্রাথমিক
  - (খ) মাধ্যমিক
  - (গ) চূড়ান্ত
  - (ঘ) মূলধনী
২২. নিচের কোন দেশ থেকে বাংলাদেশ সবচেয়ে বেশি আমদানি করে?
  - (ক) যুক্তরাষ্ট্র
  - (খ) যুক্তরাজ্য
  - (গ) ভারত
  - (ঘ) চীন
২৩. বাংলাদেশে রপ্তানি বাণিজ্যে বর্তমানে কোন শিল্পের নিরঙ্কুশ প্রাধান্য রয়েছে?
  - (ক) পোশাক
  - (খ) পাট
  - (গ) গাড়ি
  - (ঘ) লৌহ
২৪. Tax-holiday সুবিধা পান কারা?
  - (ক) ভোক্তা
  - (খ) উৎপাদনকারী
  - (গ) রপ্তানিকারক
  - (ঘ) আমদানিকারক
- উদ্দীপকটি পড় এবং নিচের ২৫ ও ২৬নং প্রশ্নের উত্তর দাও :
 

'A' ও 'B' দুই বন্ধুই দেশের স্বনামধন্য ব্যবসায়ী। 'A' এর কারখানায় উৎপাদিত দ্রব্য দেশের অভ্যন্তরে বিভিন্ন জেলায় বিক্রয় হয়। অন্যদিকে 'B' এর কারখানার উৎপাদিত দ্রব্য ইউরোপের বিভিন্ন দেশে বিক্রয় হয়।
২৫. 'A' এর ব্যবসাকে বলা হয়—
  - (ক) আন্তর্জাতিক বাণিজ্য
  - (খ) অভ্যন্তরীণ বাণিজ্য
  - (গ) খুচরা ব্যবসা
  - (ঘ) পাইকারি ব্যবসা
২৬. 'B' এর ব্যবসার কারণে—
  - i. বিদেশের বাজারে দেশের সম্মান বৃদ্ধি পায়
  - ii. কুটনৈতিক সম্পর্ক জোরদার হয়
  - iii. বৈদেশিক মুদ্রা অর্জিত হয়
 নিচের কোনটি সঠিক?
  - (ক) i ও ii
  - (খ) i ও iii
  - (গ) ii ও iii
  - (ঘ) i, ii ও iii
২৭. বাংলা কোন সনে সংঘটিত দুর্ভিক্ষ 'ছিয়াত্তরের মরুতর' নামে পরিচিত?
  - (ক) ১০৭৬
  - (খ) ১১৭৬
  - (গ) ১২৭৬
  - (ঘ) ১৩৭৬
২৮. কর রাজস্ব কত প্রকার?
  - (ক) ২
  - (খ) ৩
  - (গ) ৪
  - (ঘ) ৫
২৯. বর্তমানে বাংলাদেশে কর রাজস্বের সবচেয়ে গুরুত্বপূর্ণ উৎস কোনটি?
  - (ক) VAT
  - (খ) Excise Duty
  - (গ) Income Tax
  - (ঘ) Export Duty
৩০. নিচের কোনটি সরকারি ঋণের অভ্যন্তরীণ উৎস?
  - (ক) JAICA
  - (খ) UNDP
  - (গ) IBRD
  - (ঘ) Treasury Bond





## বরিশাল বোর্ড ২০২২

১ ▶ ৩১৩ পৃষ্ঠার ২৯নং প্রশ্ন ও উত্তর	৫ ▶ ৪০৪ পৃষ্ঠার ৩০নং প্রশ্ন ও উত্তর	৯ ▶ ৪৪৯ পৃষ্ঠার ২৯নং প্রশ্ন ও উত্তর
২ ▶ ৩১৩ পৃষ্ঠার ৩০নং প্রশ্ন ও উত্তর	৬ ▶ ৪০৫ পৃষ্ঠার ৩১নং প্রশ্ন ও উত্তর	১০ ▶ ৫২৩ পৃষ্ঠার ২৫নং প্রশ্ন ও উত্তর
৩ ▶ ৩৫৭ পৃষ্ঠার ৩২নং প্রশ্ন ও উত্তর	৭ ▶ ৪৪৯ পৃষ্ঠার ২৮নং প্রশ্ন ও উত্তর	১১ ▶ ৫২৪ পৃষ্ঠার ২৬নং প্রশ্ন ও উত্তর
৪ ▶ ৩৫৮ পৃষ্ঠার ৩৩নং প্রশ্ন ও উত্তর	৮ ▶ ৪৯০ পৃষ্ঠার ২৭নং প্রশ্ন ও উত্তর	

## দিনাজপুর বোর্ড ২০২২

১ ▶ ৩১৪ পৃষ্ঠার ৩১নং প্রশ্ন ও উত্তর	৫ ▶ ৪৯২ পৃষ্ঠার ২৯নং প্রশ্ন ও উত্তর	৯ ▶ ৩৫৯ পৃষ্ঠার ৩৫নং প্রশ্ন ও উত্তর
২ ▶ ৪৫০ পৃষ্ঠার ৩০নং প্রশ্ন ও উত্তর	৬ ▶ ৪০৫ পৃষ্ঠার ৩২নং প্রশ্ন ও উত্তর	১০ ▶ ৫২৫ পৃষ্ঠার ২৭নং প্রশ্ন ও উত্তর
৩ ▶ ৪৫১ পৃষ্ঠার ৩১নং প্রশ্ন ও উত্তর	৭ ▶ ৪০৬ পৃষ্ঠার ৩৩নং প্রশ্ন ও উত্তর	১১ ▶ ৩১৪ পৃষ্ঠার ৩২নং প্রশ্ন ও উত্তর
৪ ▶ ৪৯১ পৃষ্ঠার ২৮নং প্রশ্ন ও উত্তর	৮ ▶ ৩৫৯ পৃষ্ঠার ৩৪নং প্রশ্ন ও উত্তর	

## ময়মনসিংহ বোর্ড ২০২২

১ ▶ ৩১৫ পৃষ্ঠার ৩৩নং প্রশ্ন ও উত্তর	৫ ▶ ৪৫১ পৃষ্ঠার ৩২নং প্রশ্ন ও উত্তর	৯ ▶ ৪৫২ পৃষ্ঠার ৩৩নং প্রশ্ন ও উত্তর
২ ▶ ৩১৬ পৃষ্ঠার ৩৪নং প্রশ্ন ও উত্তর	৬ ▶ ৫২৫ পৃষ্ঠার ২৮নং প্রশ্ন ও উত্তর	১০ ▶ ৪৯২ পৃষ্ঠার ৩০নং প্রশ্ন ও উত্তর
৩ ▶ ৩৬০ পৃষ্ঠার ৩৬নং প্রশ্ন ও উত্তর	৭ ▶ ৩৬১ পৃষ্ঠার ৩৭নং প্রশ্ন ও উত্তর	১১ ▶ ৫২৬ পৃষ্ঠার ২৯নং প্রশ্ন ও উত্তর
৪ ▶ ৪০৬ পৃষ্ঠার ৩৪নং প্রশ্ন ও উত্তর	৮ ▶ ৪০৭ পৃষ্ঠার ৩৫নং প্রশ্ন ও উত্তর	



## বোর্ড পরীক্ষার প্রশ্নপত্রের উত্তরমালা ▶ বহুনির্বাচনি

## ঢাকা বোর্ড ২০২৩

১ ঘা	২ কা	৩ খা	৪ ক	৫ খা	৬ গা	৭ কা	৮ খা	৯ গা	১০ কা	১১ খা	১২ কা	১৩ খা	১৪ গা	১৫ গা
১৬ কা	১৭ গা	১৮ খা	১৯ গা	২০ কা	২১ খা	২২ কা	২৩ গা	২৪ খা	২৫ খা	২৬ কা	২৭ খা	২৮ খা	২৯ কা	৩০ খা

## রাজশাহী বোর্ড ২০২৩

১ খা	২ কা	৩ ঘা	৪ গা	৫ কা	৬ গা	৭ গা	৮ খা	৯ খা	১০ খা	১১ কা	১২ গা	১৩ গা	১৪ গা	১৫ খা
১৬ কা	১৭ ঘা	১৮ খা	১৯ ঘা	২০ খা	২১ কা	২২ ঘা	২৩ খা	২৪ কা	২৫ গা	২৬ গা	২৭ কা	২৮ খা	২৯ ঘা	৩০ ঘা

## যশোর বোর্ড ২০২৩

১ *	২ কা	৩ খা	৪ খা	৫ কা	৬ খা	৭ খা	৮ কা	৯ কা	১০ ঘা	১১ গা	১২ গা	১৩ কা	১৪ গা	১৫ *
১৬ কা	১৭ খা	১৮ ঘা	১৯ গা	২০ ঘা	২১ খা	২২ খা	২৩ গা	২৪ গা	২৫ খা	২৬ ঘা	২৭ খা	২৮ ঘা	২৯ খা	৩০ খা

## কুমিল্লা বোর্ড ২০২৩

১ গা	২ খা	৩ খা	৪ কা	৫ ঘা	৬ গা	৭ খা	৮ কা	৯ কা	১০ গা	১১ কা	১২ গা	১৩ ঘা	১৪ খা	১৫ ঘা
১৬ কা	১৭ ঘা	১৮ খা	১৯ কা	২০ গা	২১ খা	২২ গা	২৩ গা	২৪ খা	২৫ ঘা	২৬ কা	২৭ খা	২৮ কা	২৯ খা	৩০ গা

## চট্টগ্রাম বোর্ড ২০২৩

১ গা	২ গা	৩ ঘা	৪ কা	৫ গা	৬ কা	৭ গা	৮ গা	৯ খা	১০ ঘা	১১ গা	১২ কা	১৩ ঘা	১৪ কা	১৫ ঘা
১৬ গা	১৭ ঘা	১৮ গা	১৯ খা	২০ খা	২১ ঘা	২২ কা	২৩ কা	২৪ খা	২৫ ঘা	২৬ গা	২৭ গা	২৮ ঘা	২৯ খা	৩০ খা

## সিলেট বোর্ড ২০২৩

১ কা	২ খা	৩ খা	৪ ঘা	৫ কা	৬ গা	৭ কা	৮ গা	৯ কা	১০ খা	১১ গা	১২ খা	১৩ কা	১৪ গা	১৫ খা
১৬ খা	১৭ কা	১৮ খা	১৯ কা	২০ গা	২১ গা	২২ খা	২৩ ঘা	২৪ খা	২৫ গা	২৬ ঘা	২৭ ঘা	২৮ ঘা	২৯ ঘা	৩০ কা

## বরিশাল বোর্ড ২০২৩

১ গা	২ খা	৩ কা	৪ কা	৫ গা	৬ ঘা	৭ ঘা	৮ গা	৯ খা	১০ কা	১১ গা	১২ ঘা	১৩ ঘা	১৪ গা	১৫ গা
১৬ খা	১৭ কা	১৮ খা	১৯ ঘা	২০ কা	২১ খা	২২ খা	২৩ ঘা	২৪ কা	২৫ গা	২৬ খা	২৭ ঘা	২৮ কা	২৯ গা	৩০ কা

## দিনাজপুর বোর্ড ২০২৩

১	গ	২	খ	৩	ক	৪	খ	৫	ক	৬	গ	৭	গ	৮	খ	৯	ক	১০	ক	১১	ঘ	১২	ক	১৩	খ	১৪	ঘ	১৫	ক
১৬	খ	১৭	গ	১৮	ক	১৯	ঘ	২০	ক	২১	খ	২২	ঘ	২৩	ক	২৪	খ	২৫	ক	২৬	ক	২৭	খ	২৮	ঘ	২৯	গ	৩০	খ

## ময়মনসিংহ বোর্ড ২০২৩

১	খ	২	ঘ	৩	গ	৪	ঘ	৫	খ	৬	ঘ	৭	গ	৮	গ	৯	ঘ	১০	গ	১১	ঘ	১২	ঘ	১৩	ঘ	১৪	ক	১৫	ঘ
১৬	গ	১৭	ক	১৮	ক	১৯	খ	২০	গ	২১	খ	২২	ক	২৩	খ	২৪	ঘ	২৫	খ	২৬	ক	২৭	ঘ	২৮	খ	২৯	ক	৩০	ঘ

## ঢাকা বোর্ড ২০২২

১	খ	২	গ	৩	ঘ	৪	গ	৫	ক	৬	ক	৭	খ	৮	গ	৯	ক	১০	ঘ	১১	গ	১২	খ	১৩	ঘ	১৪	ঘ	১৫	ঘ
১৬	ক	১৭	ঘ	১৮	গ	১৯	খ	২০	গ	২১	ক	২২	ক	২৩	ঘ	২৪	ক	২৫	ক	২৬	ঘ	২৭	খ	২৮	গ	২৯	খ	৩০	ঘ

## রাজশাহী বোর্ড ২০২২

১	ক	২	খ	৩	খ	৪	খ	৫	ঘ	৬	ক	৭	ক	৮	ক	৯	ঘ	১০	ঘ	১১	খ	১২	গ	১৩	গ	১৪	গ	১৫	ঘ
১৬	গ	১৭	ক	১৮	গ	১৯	ঘ	২০	ক	২১	খ	২২	খ	২৩	ঘ	২৪	ক	২৫	খ	২৬	ঘ	২৭	গ	২৮	গ	২৯	ক	৩০	ঘ

## যশোর বোর্ড ২০২২

১	খ	২	ক	৩	ক	৪	গ	৫	গ	৬	খ	৭	গ	৮	ক	৯	গ	১০	ক	১১	খ	১২	গ	১৩	গ	১৪	খ	১৫	গ
১৬	খ	১৭	গ	১৮	ক	১৯	গ	২০	ক	২১	ক	২২	ঘ	২৩	ঘ	২৪	ঘ	২৫	ঘ	২৬	গ	২৭	গ	২৮	ঘ	২৯	ঘ	৩০	ক

## কুমিল্লা বোর্ড ২০২২

১	গ	২	ক	৩	ঘ	৪	গ	৫	ঘ	৬	গ	৭	ক	৮	খ	৯	ক	১০	খ	১১	গ	১২	খ	১৩	গ	১৪	ক	১৫	গ
১৬	খ	১৭	খ	১৮	খ	১৯	ঘ	২০	ঘ	২১	ঘ	২২	গ	২৩	খ	২৪	খ	২৫	ক	২৬	ঘ	২৭	ঘ	২৮	ঘ	২৯	ঘ	৩০	গ

## চট্টগ্রাম বোর্ড ২০২২

১	গ	২	ক	৩	খ	৪	গ	৫	ঘ	৬	খ	৭	ক	৮	খ	৯	গ	১০	ঘ	১১	খ	১২	ঘ	১৩	খ	১৪	ঘ	১৫	গ
১৬	ক	১৭	খ	১৮	ক	১৯	ঘ	২০	ঘ	২১	খ	২২	গ	২৩	খ	২৪	ঘ	২৫	খ	২৬	ঘ	২৭	ক	২৮	ক	২৯	ক	৩০	গ

## সিলেট বোর্ড ২০২২

১	খ	২	গ	৩	গ	৪	ঘ	৫	গ	৬	ক	৭	গ	৮	ক	৯	ক	১০	খ	১১	ঘ	১২	ঘ	১৩	ক	১৪	খ	১৫	গ
১৬	ক	১৭	খ	১৮	খ	১৯	গ	২০	খ	২১	ক	২২	ঘ	২৩	ক	২৪	খ	২৫	ঘ	২৬	ক	২৭	ঘ	২৮	ক	২৯	খ	৩০	ঘ

## বরিশাল বোর্ড ২০২২

১	গ	২	ঘ	৩	খ	৪	ক	৫	ঘ	৬	ক	৭	ঘ	৮	ঘ	৯	খ	১০	খ	১১	গ	১২	খ	১৩	ক	১৪	ঘ	১৫	গ
১৬	গ	১৭	ক	১৮	ক	১৯	খ	২০	খ	২১	ঘ	২২	ক	২৩	গ	২৪	খ	২৫	খ	২৬	ক	২৭	গ	২৮	ঘ	২৯	খ	৩০	খ

## দিনাজপুর বোর্ড ২০২২

১	ক	২	গ	৩	খ	৪	গ	৫	খ	৬	ক	৭	ক	৮	ঘ	৯	ঘ	১০	খ	১১	ক	১২	গ	১৩	ঘ	১৪	খ	১৫	ঘ
১৬	গ	১৭	ক	১৮	ঘ	১৯	ক	২০	ঘ	২১	খ	২২	গ	২৩	খ	২৪	গ	২৫	খ	২৬	ক	২৭	ঘ	২৮	ক	২৯	ঘ	৩০	খ

## ময়মনসিংহ বোর্ড ২০২২

১	গ	২	ক	৩	ঘ	৪	গ	৫	খ	৬	গ	৭	গ	৮	*	৯	গ	১০	ঘ	১১	ক	১২	ক	১৩	ক	১৪	ঘ	১৫	ঘ
১৬	ক	১৭	ক	১৮	ঘ	১৯	খ	২০	গ	২১	খ	২২	ঘ	২৩	খ	২৪	ঘ	২৫	গ	২৬	ক	২৭	গ	২৮	খ	২৯	ঘ	৩০	খ

# শীর্ষস্থানীয় কলেজসমূহের প্রশ্নপত্রের উত্তরমালা



শীর্ষস্থানীয় কলেজসমূহের প্রশ্নপত্রের উত্তরমালা ▶ সৃজনশীল

☑ উত্তরসূত্র : **SURE SUCCESS** HSC সৃজনশীল অর্থনীতি দ্বিতীয় পত্র **লিটল ব্রিজ** বইয়ের ...

## নটর ডেম কলেজ, ঢাকা

১ ▶ ৩২১ পৃষ্ঠার ৪৩নং প্রশ্ন ও উত্তর	৫ ▶ ৪১৪ পৃষ্ঠার ৪৫নং প্রশ্ন ও উত্তর	৯ ▶ ৪৯৫ পৃষ্ঠার ৩৫নং প্রশ্ন ও উত্তর
২ ▶ ৩২২ পৃষ্ঠার ৪৪নং প্রশ্ন ও উত্তর	৬ ▶ ৪১৪ পৃষ্ঠার ৪৬নং প্রশ্ন ও উত্তর	১০ ▶ ৫২৯ পৃষ্ঠার ৩৩নং প্রশ্ন ও উত্তর
৩ ▶ ৩৬৮ পৃষ্ঠার ৪৯নং প্রশ্ন ও উত্তর	৭ ▶ ৪৫৮ পৃষ্ঠার ৪২নং প্রশ্ন ও উত্তর	১১ ▶ ৩২২ পৃষ্ঠার ৪৫নং প্রশ্ন ও উত্তর
৪ ▶ ৩৬৮ পৃষ্ঠার ৫০নং প্রশ্ন ও উত্তর	৮ ▶ ৪৫৮ পৃষ্ঠার ৪৩নং প্রশ্ন ও উত্তর	

## রাজউক উত্তরা মডেল কলেজ, ঢাকা

১ ▶ ৩২৩ পৃষ্ঠার ৪৬নং প্রশ্ন ও উত্তর	৫ ▶ ৪১৫ পৃষ্ঠার ৪৭নং প্রশ্ন ও উত্তর	৯ ▶ ৪৯৬ পৃষ্ঠার ৩৬নং প্রশ্ন ও উত্তর
২ ▶ ৩২৪ পৃষ্ঠার ৪৭নং প্রশ্ন ও উত্তর	৬ ▶ ৪১৫ পৃষ্ঠার ৪৮নং প্রশ্ন ও উত্তর	১০ ▶ ৪৯৭ পৃষ্ঠার ৩৭নং প্রশ্ন ও উত্তর
৩ ▶ ৩৬৯ পৃষ্ঠার ৫১নং প্রশ্ন ও উত্তর	৭ ▶ ৪৫৯ পৃষ্ঠার ৪৪নং প্রশ্ন ও উত্তর	১১ ▶ ৫২৯ পৃষ্ঠার ৩৪নং প্রশ্ন ও উত্তর
৪ ▶ ৩৬৯ পৃষ্ঠার ৫২নং প্রশ্ন ও উত্তর	৮ ▶ ৪৫৯ পৃষ্ঠার ৪৫নং প্রশ্ন ও উত্তর	

## আইডিয়াল স্কুল অ্যান্ড কলেজ, মতিঝিল, ঢাকা

১ ▶ ৩২৬ পৃষ্ঠার ৫১নং প্রশ্ন ও উত্তর	৫ ▶ ৫৩১ পৃষ্ঠার ৩৭নং প্রশ্ন ও উত্তর	৯ ▶ ৪৬১ পৃষ্ঠার ৪৮নং প্রশ্ন ও উত্তর
২ ▶ ৩২৭ পৃষ্ঠার ৫২নং প্রশ্ন ও উত্তর	৬ ▶ ৫৩২ পৃষ্ঠার ৩৮নং প্রশ্ন ও উত্তর	১০ ▶ ৪৯৮ পৃষ্ঠার ৩৯নং প্রশ্ন ও উত্তর
৩ ▶ ৩৭১ পৃষ্ঠার ৫৫নং প্রশ্ন ও উত্তর	৭ ▶ ৪১৭ পৃষ্ঠার ৫১নং প্রশ্ন ও উত্তর	১১ ▶ ৪১৮ পৃষ্ঠার ৫২নং প্রশ্ন ও উত্তর
৪ ▶ ৩৭১ পৃষ্ঠার ৫৬নং প্রশ্ন ও উত্তর	৮ ▶ ৪৬১ পৃষ্ঠার ৪৭নং প্রশ্ন ও উত্তর	

## হলি ক্রস কলেজ, ঢাকা

১ ▶ ৩২৭ পৃষ্ঠার ৫৩নং প্রশ্ন ও উত্তর	৫ ▶ ৪১৯ পৃষ্ঠার ৫৪নং প্রশ্ন ও উত্তর	৯ ▶ ৪৬২ পৃষ্ঠার ৫০নং প্রশ্ন ও উত্তর
২ ▶ ৩৭২ পৃষ্ঠার ৫৭নং প্রশ্ন ও উত্তর	৬ ▶ ৪৯৮ পৃষ্ঠার ৪০নং প্রশ্ন ও উত্তর	১০ ▶ ৩২৭ পৃষ্ঠার ৫৪নং প্রশ্ন ও উত্তর
৩ ▶ ৪১৯ পৃষ্ঠার ৫৩নং প্রশ্ন ও উত্তর	৭ ▶ ৫৩২ পৃষ্ঠার ৩৯নং প্রশ্ন ও উত্তর	১১ ▶ ৪৯৯ পৃষ্ঠার ৪১নং প্রশ্ন ও উত্তর
৪ ▶ ৪৬২ পৃষ্ঠার ৪৯নং প্রশ্ন ও উত্তর	৮ ▶ ৩৭২ পৃষ্ঠার ৫৮নং প্রশ্ন ও উত্তর	

## বগুড়া ক্যান্টনমেন্ট পাবলিক স্কুল ও কলেজ

১ ▶ ৪২১ পৃষ্ঠার ৫৭নং প্রশ্ন ও উত্তর	৫ ▶ ৩২৮ পৃষ্ঠার ৫৭নং প্রশ্ন ও উত্তর	৯ ▶ ৪৬৫ পৃষ্ঠার ৫৪নং প্রশ্ন ও উত্তর
২ ▶ ৪২২ পৃষ্ঠার ৫৮নং প্রশ্ন ও উত্তর	৬ ▶ ৩২৯ পৃষ্ঠার ৫৮নং প্রশ্ন ও উত্তর	১০ ▶ ৫৩৩ পৃষ্ঠার ৪১নং প্রশ্ন ও উত্তর
৩ ▶ ৩৭৪ পৃষ্ঠার ৬১নং প্রশ্ন ও উত্তর	৭ ▶ ৫০১ পৃষ্ঠার ৪৪নং প্রশ্ন ও উত্তর	১১ ▶ ৫৩৪ পৃষ্ঠার ৪২নং প্রশ্ন ও উত্তর
৪ ▶ ৩৭৫ পৃষ্ঠার ৬২নং প্রশ্ন ও উত্তর	৮ ▶ ৪৬৪ পৃষ্ঠার ৫৩নং প্রশ্ন ও উত্তর	

## খুলনা পাবলিক কলেজ

১ ▶ ৩২৯ পৃষ্ঠার ৫৯নং প্রশ্ন ও উত্তর	৫ ▶ ৪২২ পৃষ্ঠার ৫৯নং প্রশ্ন ও উত্তর	৯ ▶ ৫০১ পৃষ্ঠার ৪৫নং প্রশ্ন ও উত্তর
২ ▶ ৩৩০ পৃষ্ঠার ৬০নং প্রশ্ন ও উত্তর	৬ ▶ ৪২৩ পৃষ্ঠার ৬০নং প্রশ্ন ও উত্তর	১০ ▶ ৫৩৪ পৃষ্ঠার ৪৩নং প্রশ্ন ও উত্তর
৩ ▶ ৩৭৫ পৃষ্ঠার ৬৩নং প্রশ্ন ও উত্তর	৭ ▶ ৪৬৫ পৃষ্ঠার ৫৫নং প্রশ্ন ও উত্তর	১১ ▶ ৫৩৪ পৃষ্ঠার ৪৪নং প্রশ্ন ও উত্তর
৪ ▶ ৩৭৬ পৃষ্ঠার ৬৪নং প্রশ্ন ও উত্তর	৮ ▶ ৪৬৫ পৃষ্ঠার ৫৬নং প্রশ্ন ও উত্তর	

## কুমিল্লা ভিক্টোরিয়া সরকারি কলেজ

১ ▶ ৩৩০ পৃষ্ঠার ৬১নং প্রশ্ন ও উত্তর	৫ ▶ ৪২৩ পৃষ্ঠার ৬১নং প্রশ্ন ও উত্তর	৯ ▶ ৫০১ পৃষ্ঠার ৪৬নং প্রশ্ন ও উত্তর
২ ▶ ৩৩১ পৃষ্ঠার ৬২নং প্রশ্ন ও উত্তর	৬ ▶ ৪২৪ পৃষ্ঠার ৬২নং প্রশ্ন ও উত্তর	১০ ▶ ৫৩৫ পৃষ্ঠার ৪৫নং প্রশ্ন ও উত্তর
৩ ▶ ৩৭৬ পৃষ্ঠার ৬৫নং প্রশ্ন ও উত্তর	৭ ▶ ৪৬৫ পৃষ্ঠার ৫৭নং প্রশ্ন ও উত্তর	১১ ▶ ৫৩৫ পৃষ্ঠার ৪৬নং প্রশ্ন ও উত্তর
৪ ▶ ৩৭৭ পৃষ্ঠার ৬৬নং প্রশ্ন ও উত্তর	৮ ▶ ৪৬৫ পৃষ্ঠার ৫৮নং প্রশ্ন ও উত্তর	

### চট্টগ্রাম ক্যান্টনমেন্ট পাবলিক কলেজ

১ ▶ ৩৩২ পৃষ্ঠার ৬৭নং প্রশ্ন ও উত্তর	৫ ▶ ৪২৫ পৃষ্ঠার ৬৭নং প্রশ্ন ও উত্তর	৯ ▶ ৫০২ পৃষ্ঠার ৪৯নং প্রশ্ন ও উত্তর
২ ▶ ৩৩৩ পৃষ্ঠার ৬৮নং প্রশ্ন ও উত্তর	৬ ▶ ৪২৬ পৃষ্ঠার ৬৮নং প্রশ্ন ও উত্তর	১০ ▶ ৫০৬ পৃষ্ঠার ৫১নং প্রশ্ন ও উত্তর
৩ ▶ ৩৭৮ পৃষ্ঠার ৭১নং প্রশ্ন ও উত্তর	৭ ▶ ৪৬৭ পৃষ্ঠার ৬৩নং প্রশ্ন ও উত্তর	১১ ▶ ৫০২ পৃষ্ঠার ৫০নং প্রশ্ন ও উত্তর
৪ ▶ ৩৭৮ পৃষ্ঠার ৭২নং প্রশ্ন ও উত্তর	৮ ▶ ৪৬৮ পৃষ্ঠার ৬৪নং প্রশ্ন ও উত্তর	

### জালালাবাদ ক্যান্টনমেন্ট পাবলিক স্কুল এন্ড কলেজ, সিলেট

১ ▶ ৩৭৯ পৃষ্ঠার ৭৩নং প্রশ্ন ও উত্তর	৫ ▶ ৩৩৩ পৃষ্ঠার ৬৯নং প্রশ্ন ও উত্তর	৯ ▶ ৪২৭ পৃষ্ঠার ৭২নং প্রশ্ন ও উত্তর
২ ▶ ৪২৬ পৃষ্ঠার ৬৯নং প্রশ্ন ও উত্তর	৬ ▶ ৩৭৯ পৃষ্ঠার ৭৪নং প্রশ্ন ও উত্তর	১০ ▶ ৪২৮ পৃষ্ঠার ৭৩নং প্রশ্ন ও উত্তর
৩ ▶ ৪২৬ পৃষ্ঠার ৭০নং প্রশ্ন ও উত্তর	৭ ▶ ৫০৩ পৃষ্ঠার ৫১নং প্রশ্ন ও উত্তর	১১ ▶ ৪৬৮ পৃষ্ঠার ৬৫নং প্রশ্ন ও উত্তর
৪ ▶ ৪২৭ পৃষ্ঠার ৭১নং প্রশ্ন ও উত্তর	৮ ▶ ৫০৩ পৃষ্ঠার ৫২নং প্রশ্ন ও উত্তর	

### অমৃত লাল দে মহাবিদ্যালয়, বরিশাল

১ ▶ ৩৩৪ পৃষ্ঠার ৭২নং প্রশ্ন ও উত্তর	৫ ▶ ৫০৪ পৃষ্ঠার ৫৪নং প্রশ্ন ও উত্তর	৯ ▶ ৪২৮ পৃষ্ঠার ৭৭নং প্রশ্ন ও উত্তর
২ ▶ ৩৮০ পৃষ্ঠার ৭৭নং প্রশ্ন ও উত্তর	৬ ▶ ৫৩৭ পৃষ্ঠার ৫৪নং প্রশ্ন ও উত্তর	১০ ▶ ৫০৪ পৃষ্ঠার ৫৫নং প্রশ্ন ও উত্তর
৩ ▶ ৪২৮ পৃষ্ঠার ৭৬নং প্রশ্ন ও উত্তর	৭ ▶ ৩৩৪ পৃষ্ঠার ৭৩নং প্রশ্ন ও উত্তর	১১ ▶ ৪৬৯ পৃষ্ঠার ৬৯নং প্রশ্ন ও উত্তর
৪ ▶ ৪৬৯ পৃষ্ঠার ৬৮নং প্রশ্ন ও উত্তর	৮ ▶ ৩৮১ পৃষ্ঠার ৭৮নং প্রশ্ন ও উত্তর	

### রংপুর সরকারি কলেজ

১ ▶ ৩৩৫ পৃষ্ঠার ৭৪নং প্রশ্ন ও উত্তর	৫ ▶ ৩৮১ পৃষ্ঠার ৮০নং প্রশ্ন ও উত্তর	৯ ▶ ৪৭০ পৃষ্ঠার ৭০নং প্রশ্ন ও উত্তর
২ ▶ ৩৮১ পৃষ্ঠার ৭৯নং প্রশ্ন ও উত্তর	৬ ▶ ৫০৫ পৃষ্ঠার ৫৬নং প্রশ্ন ও উত্তর	১০ ▶ ৫৩৭ পৃষ্ঠার ৫৫নং প্রশ্ন ও উত্তর
৩ ▶ ৪২৯ পৃষ্ঠার ৭৮নং প্রশ্ন ও উত্তর	৭ ▶ ৩৩৫ পৃষ্ঠার ৭৫নং প্রশ্ন ও উত্তর	১১ ▶ ৪৭১ পৃষ্ঠার ৭২নং প্রশ্ন ও উত্তর
৪ ▶ ৪২৯ পৃষ্ঠার ৭৯নং প্রশ্ন ও উত্তর	৮ ▶ ৫০৫ পৃষ্ঠার ৫৭নং প্রশ্ন ও উত্তর	

### শহীদ সৈয়দ নজরুল ইসলাম কলেজ, ময়মনসিংহ

১ ▶ ৩৩৬ পৃষ্ঠার ৭৮নং প্রশ্ন ও উত্তর	৫ ▶ ৪৩০ পৃষ্ঠার ৮২নং প্রশ্ন ও উত্তর	৯ ▶ ৫০৬ পৃষ্ঠার ৬০নং প্রশ্ন ও উত্তর
২ ▶ ৩৩৬ পৃষ্ঠার ৭৯নং প্রশ্ন ও উত্তর	৬ ▶ ৪৩০ পৃষ্ঠার ৮৩নং প্রশ্ন ও উত্তর	১০ ▶ ৫০৬ পৃষ্ঠার ৬১নং প্রশ্ন ও উত্তর
৩ ▶ ৩৮২ পৃষ্ঠার ৮৩নং প্রশ্ন ও উত্তর	৭ ▶ ৪৭২ পৃষ্ঠার ৭৪নং প্রশ্ন ও উত্তর	১১ ▶ ৫৩৮ পৃষ্ঠার ৫৭নং প্রশ্ন ও উত্তর
৪ ▶ ৩৮২ পৃষ্ঠার ৮৪নং প্রশ্ন ও উত্তর	৮ ▶ ৪৭২ পৃষ্ঠার ৭৫নং প্রশ্ন ও উত্তর	



শীর্ষস্থানীয় কলেজসমূহের প্রশ্নপত্রের উত্তরমালা ▶ বহুনির্বাচনি

### রাজউক উত্তরা মডেল কলেজ, ঢাকা

১ (খ)	২ (খ)	৩ (খ)	৪ (গ)	৫ (ক)	৬ (গ)	৭ (ঘ)	৮ (ঘ)	৯ (খ)	১০ (গ)	১১ (গ)	১২ (গ)	১৩ (ঘ)	১৪ (খ)	১৫ (গ)
১৬ (ক)	১৭ (ঘ)	১৮ (খ)	১৯ (গ)	২০ (ঘ)	২১ (গ)	২২ (ঘ)	২৩ (ঘ)	২৪ (খ)	২৫ (খ)	২৬ (গ)	২৭ (গ)	২৮ (খ)	২৯ (ঘ)	৩০ (খ)

### ভিকারুননিসা নূন স্কুল এন্ড কলেজ, ঢাকা

১ (গ)	২ (খ)	৩ (খ)	৪ (ক)	৫ (গ)	৬ (ক)	৭ (ক)	৮ (ক)	৯ (খ)	১০ (খ)	১১ (ক)	১২ (ঘ)	১৩ (ঘ)	১৪ (ঘ)	১৫ (খ)
১৬ (ক)	১৭ (ক)	১৮ (ঘ)	১৯ (গ)	২০ (খ)	২১ (ক)	২২ (খ)	২৩ (গ)	২৪ (ক)	২৫ (খ)	২৬ (ক)	২৭ (ঘ)	২৮ (গ)	২৯ (খ)	৩০ (ঘ)

### ঢাকা কলেজ, ঢাকা

১ (ক)	২ (ঘ)	৩ (গ)	৪ (খ)	৫ (ক)	৬ (ঘ)	৭ (খ)	৮ (ক)	৯ (ঘ)	১০ (খ)	১১ (ঘ)	১২ (গ)	১৩ (খ)	১৪ (ক)	১৫ (গ)
১৬ (ঘ)	১৭ (খ)	১৮ (ঘ)	১৯ (ঘ)	২০ (ঘ)	২১ (খ)	২২ (ঘ)	২৩ (ঘ)	২৪ (ক)	২৫ (ক)	২৬ (ক)	২৭ (গ)	২৮ (ঘ)	২৯ (খ)	৩০ (গ)

### ঢাকা রেসিডেন্সিয়াল মডেল কলেজ

১ (ক)	২ (গ)	৩ (ক)	৪ (গ)	৫ (ক)	৬ (ঘ)	৭ (গ)	৮ (গ)	৯ (গ)	১০ (ঘ)	১১ (ঘ)	১২ (ক)	১৩ (খ)	১৪ (ঘ)	১৫ (গ)
১৬ (খ)	১৭ (গ)	১৮ (ক)	১৯ (গ)	২০ (ক)	২১ (ঘ)	২২ (গ)	২৩ (গ)	২৪ (খ)	২৫ (ঘ)	২৬ (ঘ)	২৭ (ঘ)	২৮ (ক)	২৯ (গ)	৩০ (গ)

## সরকারি শাহ সুলতান কলেজ, বগুড়া

১	২	৩	৪	৫	৬	৭	৮	৯	১০	১১	১২	১৩	১৪	১৫
১৬	১৭	১৮	১৯	২০	২১	২২	২৩	২৪	২৫	২৬	২৭	২৮	২৯	৩০

## ক্যান্টনমেন্ট কলেজ, যশোর

১	২	৩	৪	৫	৬	৭	৮	৯	১০	১১	১২	১৩	১৪	১৫
১৬	১৭	১৮	১৯	২০	২১	২২	২৩	২৪	২৫	২৬	২৭	২৮	২৯	৩০

## ফেনী সরকারি কলেজ

১	২	৩	৪	৫	৬	৭	৮	৯	১০	১১	১২	১৩	১৪	১৫
১৬	১৭	১৮	১৯	২০	২১	২২	২৩	২৪	২৫	২৬	২৭	২৮	২৯	৩০

## কক্সবাজার সরকারি কলেজ

১	২	৩	৪	৫	৬	৭	৮	৯	১০	১১	১২	১৩	১৪	১৫
১৬	১৭	১৮	১৯	২০	২১	২২	২৩	২৪	২৫	২৬	২৭	২৮	২৯	৩০

## সিলেট সরকারি কলেজ

১	২	৩	৪	৫	৬	৭	৮	৯	১০	১১	১২	১৩	১৪	১৫
১৬	১৭	১৮	১৯	২০	২১	২২	২৩	২৪	২৫	২৬	২৭	২৮	২৯	৩০

## বরিশাল সরকারি কলেজ

১	২	৩	৪	৫	৬	৭	৮	৯	১০	১১	১২	১৩	১৪	১৫
১৬	১৭	১৮	১৯	২০	২১	২২	২৩	২৪	২৫	২৬	২৭	২৮	২৯	৩০

## কালেক্টরেট স্কুল এন্ড কলেজ, রংপুর

১	২	৩	৪	৫	৬	৭	৮	৯	১০	১১	১২	১৩	১৪	১৫
১৬	১৭	১৮	১৯	২০	২১	২২	২৩	২৪	২৫	২৬	২৭	২৮	২৯	৩০

## নটর ডেম কলেজ, ময়মনসিংহ

১	২	৩	৪	৫	৬	৭	৮	৯	১০	১১	১২	১৩	১৪	১৫
১৬	১৭	১৮	১৯	২০	২১	২২	২৩	২৪	২৫	২৬	২৭	২৮	২৯	৩০

## এক্সকুসিভ মডেল টেস্টের উত্তরমালা



এক্সকুসিভ মডেল টেস্টের উত্তরমালা ▶ সৃজনশীল

✓ উত্তরসূত্র : **SURE SUCCESS** HSC সৃজনশীল অর্থনীতি দ্বিতীয় পত্র **মহাউড ব্রাজ** বইয়ের ...

## এক্সকুসিভ মডেল টেস্ট ০১

১ ▶ ২৯৬ পৃষ্ঠার ৩নং প্রশ্ন ও উত্তর	৫ ▶ ৪০৫ পৃষ্ঠার ৩১নং প্রশ্ন ও উত্তর	৯ ▶ ৪৯১ পৃষ্ঠার ২৮নং প্রশ্ন ও উত্তর
২ ▶ ৩২১ পৃষ্ঠার ৪৩নং প্রশ্ন ও উত্তর	৬ ▶ ৪৩০ পৃষ্ঠার ৮৩নং প্রশ্ন ও উত্তর	১০ ▶ ৪৯৭ পৃষ্ঠার ৩৭নং প্রশ্ন ও উত্তর
৩ ▶ ৩৫০ পৃষ্ঠার ২০নং প্রশ্ন ও উত্তর	৭ ▶ ৪৩৪ পৃষ্ঠার ২নং প্রশ্ন ও উত্তর	১১ ▶ ৫২২ পৃষ্ঠার ২৩নং প্রশ্ন ও উত্তর
৪ ▶ ৩৭৩ পৃষ্ঠার ৬০নং প্রশ্ন ও উত্তর	৮ ▶ ৪৬২ পৃষ্ঠার ৪৯নং প্রশ্ন ও উত্তর	

## এক্সকুসিভ মডেল টেস্ট ০২

১ ▶ ২৯৮ পৃষ্ঠার ৬নং প্রশ্ন ও উত্তর	৫ ▶ ৪০৮ পৃষ্ঠার ৩৬নং প্রশ্ন ও উত্তর	৯ ▶ ৪৮৯ পৃষ্ঠার ২৫নং প্রশ্ন ও উত্তর
২ ▶ ৩২৯ পৃষ্ঠার ৫৮নং প্রশ্ন ও উত্তর	৬ ▶ ৪২৪ পৃষ্ঠার ৬৫নং প্রশ্ন ও উত্তর	১০ ▶ ৫০৬ পৃষ্ঠার ৫৯নং প্রশ্ন ও উত্তর
৩ ▶ ৩৪০ পৃষ্ঠার ২নং প্রশ্ন ও উত্তর	৭ ▶ ৪৩৬ পৃষ্ঠার ৬নং প্রশ্ন ও উত্তর	১১ ▶ ৫৩৭ পৃষ্ঠার ৫৩নং প্রশ্ন ও উত্তর
৪ ▶ ৩৭২ পৃষ্ঠার ৫৮নং প্রশ্ন ও উত্তর	৮ ▶ ৪৬০ পৃষ্ঠার ৪৬নং প্রশ্ন ও উত্তর	



এক্সকুসিভ মডেল টেস্টের উত্তরমালা ▶ বহুনির্বাচনি

এক্সকুসিভ মডেল টেস্ট ০৩

১	গ	২	খ	৩	খ	৪	ক	৫	ঘ	৬	খ	৭	খ	৮	ক	৯	গ	১০	গ	১১	ক	১২	খ	১৩	ঘ	১৪	গ	১৫	গ
১৬	গ	১৭	গ	১৮	ক	১৯	ঘ	২০	ঘ	২১	খ	২২	খ	২৩	গ	২৪	ক	২৫	ঘ	২৬	ক	২৭	ক	২৮	খ	২৯	ঘ	৩০	ক

এক্সকুসিভ মডেল টেস্ট ০৪

১	খ	২	খ	৩	খ	৪	গ	৫	ক	৬	গ	৭	গ	৮	ঘ	৯	ক	১০	ঘ	১১	খ	১২	ক	১৩	খ	১৪	গ	১৫	ক
১৬	খ	১৭	ক	১৮	খ	১৯	গ	২০	ক	২১	গ	২২	ঘ	২৩	ক	২৪	গ	২৫	খ	২৬	ঘ	২৭	খ	২৮	ক	২৯	ক	৩০	ঘ